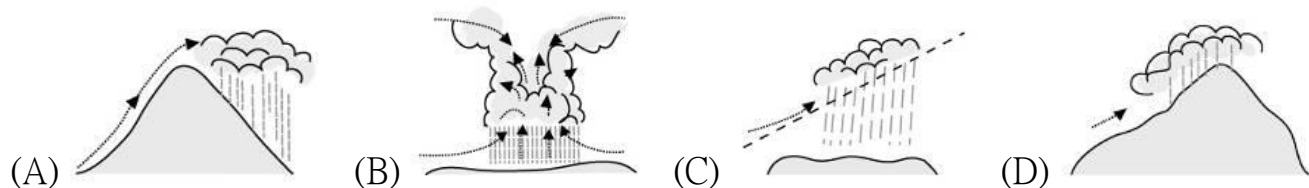


# 嘉義市立北興國民中學 109 學年度第二學期第二次段考八年級地理科試題卷

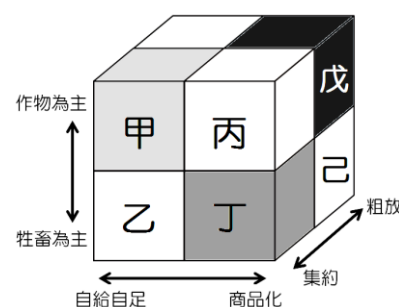
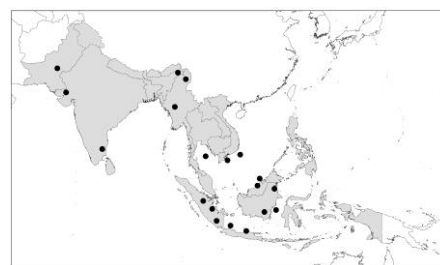
## 一、 單選題：〔每題 2 分，共 50 題〕

1. 台灣在相隔 72 天後，再現新冠肺炎本土病例，一名華航貨機機師在澳洲確診，追查其在台接觸對象，發現兩人確診，皆為某國籍。一位是機師十多歲兒子，因無出國史，列為本土病例；另一位也是華航貨機機師，3 人於 4 月 16 日中午同時在台北清真寺參加活動。根據確診機師的信仰宗教，請問該機師最有可能為下列哪個國籍？(A)印尼 (B)泰國 (C)新加坡 (D)印度。
2. 據法新社報導，成千上萬的教徒湧到印度北部城市赫爾德瓦爾（Haridwar）的恆河兩岸參加大壺節晨禱。報導指出，大壺節號稱全球最大規模的宗教慶典，4 月 12 日就有大批教徒在恆河沐浴，清洗舊日罪孽。儘管印度當局已強制所有進入該地區的信徒必須先接受新冠病毒檢測，並立下了嚴格的防疫規則，但是仍有許多信徒不戴口罩地聚集在一起。請問上述印度人民不畏新冠肺炎，能執意參加大壺節活動的宗教為何？(A)伊斯蘭教 (B)佛教 (C)天主教 (D)印度教。
3. 東南亞深受哪兩個文明古國的影響，因而文化景觀多元？(A)中國、日本 (B)印度、中國 (C)印度、希臘 (D)埃及、中國。
4. 印度半島南端的馬爾地夫群島為著名的度假勝地，該地區最可能為下列何種性質的島群？(A)大陸島 (B)火山島 (C)陸連島 (D)珊瑚礁島。
5. 東南亞近赤道地區，一年之中，每天的天氣預報幾乎都一模一樣：「上午晴，下午雨，之後再晴。」請問：上述所稱的「雨」，其降雨類型應為下列何者？



- (A) 亞洲的季風氣候是很獨特的一種氣候類型，風向會隨著季節改變，並帶來降水，因此季風氣候區雨量豐富，能有豐富的農產，成為全世界人口最密集的地區。請問：下列各國何者不屬於季風氣候？(A)日本 (B)緬甸 (C)馬來西亞 (D)印度。
7. 泰國、越南均為世界重要稻米出口國，其稻米盛產的原因除了高溫多雨外，還跟下列哪一項因素有關？(A)三角洲面積廣大 (B)多沿海港口城市 (C)受儒家文化影響 (D)殖民國家的發展。
8. 「新加坡的土地面積雖然不大，但因具有某項優越的條件，加上政府政策的指導，成功地讓新加坡的煉油產業快速發展，現已成為世界第三大煉油中心。」文中所述的優越條件應是指下列何者？(A)為主要石油生產國 (B)人口多且勞力充足 (C)地理位置佳且海運便利 (D)國內重工業市場需求大。
9. 2012 年，某作物的世界前四大出口國為泰國、印尼、越南和馬來西亞。根據這些國家的自然環境特徵判斷，該作物最可能為下列何者？(A)小麥 (B)棉花 (C)橄欖 (D)橡膠。
10. 根據統計，印尼的海岸線長度排名世界第二位，比俄羅斯還長，其原因最可能為下列何者？(A)峽灣海岸曲折 (B)島嶼數量眾多 (C)國土面積較大 (D)所處緯度較低。
11. 下列四區域中，屬於熱帶雨林氣候的有哪些區域？(A)甲乙 (B)甲丙 (C)乙丁 (D)丙丁。  
(甲)東印度群島 (乙)菲律賓群島 (丙)馬來半島 (丁)中南半島
12. 東南亞的氣候特徵如下：「全年氣溫甚高，年、日溫差均小，普遍炎熱，只有夜間及陣雨之後氣溫略轉涼爽。」造成上述氣候特徵的地理因素為下列何者？(A)地勢起伏不大 (B)島嶼散布海洋中 (C)位居低緯度區 (D)夏季季風不穩定。
13. 報導指出：「西元 2004 年 12 月 26 日，印尼蘇門答臘島外海發生海底地震，引發強大海嘯，在印度洋和印尼沿岸造成 22 萬人喪生，其中包括印尼本地 16 萬 8 千人死亡。」從當時至今，陸續又發生數起地震，因地震而傷亡的狀況時有所聞。請問：印尼群島常發生地震的原因為何？(A)位於低緯度區 (B)屬板塊交界處 (C)流經洋流影響 (D)人口數量過多。
14. 印度半島哪一個地理區因形成年代已久，地質環境較古老，境內煤、鐵等礦產資源豐富，成為其發展鋼鐵工業的重要利基？(A)德干高原 (B)恆河平原 (C)印度河平原 (D)喜馬拉雅山。

15. 印度半島和臺灣一樣都有北回歸線經過，但臺灣冬季較為寒冷，而印度半島冬季卻較溫暖。請問：造成印度半島這種氣候現象的主要因素為何？  
(A)陸塊面積廣大 (B)沿海暖流調劑 (C)北有高山屏障 (D)人口數量較多。
16. 「次大陸」(subcontinent)，是指一塊大陸中相對獨立的組成部分，通常藉由山脈、沙漠、高原及海洋等難以通過的交通障礙和大陸的主體相隔離。在亞洲有次大陸的存在，且是一片古老結晶岩陸塊。請問：亞洲的「次大陸」位於下列何地？ (A)南亞 (B)東南亞 (C)東北亞 (D)西亞。
17. 印度大平原從東到西種植的作物依序為：水稻與黃麻→水稻與小麥或小米輪作→小麥和小米輪作。上述現象的形成與哪一項因素關係最密切？ (A)降水多寡 (B)氣溫高低 (C)地形起伏 (D)經度差異。
18. 中國西南方狹窄的峽谷中有許多大河奔流，由於山脈排列方向及地勢高低影響，這些大河多流向下述哪一個地區？ (A)朝鮮半島 (B)日本群島 (C)中南半島 (D)南洋群島。
19. 「印度近日遭罕見熱浪襲擊，全國多個地區連日出現 45 度以上高溫，其中的拉賈斯坦邦 (Rajasthan) 氣溫日前甚至狂飆至攝氏 50 度；至於死傷最為慘重的則是比哈爾邦 (Bihar)，短短 1 天內就有 49 人死亡，目前死亡人數已攀升 137 人，情況相當嚴峻。」請問：上述新聞最可能發生在下列哪一時間？  
(A)一月 (B)五月 (C)八月 (D)十一月。
20. 右圖是東南亞及南亞地區某種礦產的分布區，若以原料區位為考量，這些地區最適合發展下列哪一種工業？  
(A)鋼鐵工業 (B)造船工業 (C)石化工業 (D)煉鋁工業。
21. 峇里島是印尼著名的旅遊勝地，右圖中舞者所表演的是當地著名的峇龍舞。請問：峇里島主要受哪一個文化影響而深具特色？  
(A)佛教文化 (B)天主教文化 (C)伊斯蘭教文化 (D)印度教文化。
22. 某國早在 1947 年憲法頒布時，就明文規定不能以種姓歧視他人，某種程度就是廢除種姓制度，但社會上卻「名亡實存」，賤民宛如病菌，在社會中被層層隔離，他們不准踏進廟宇，只能從事基層工作，像是屠夫、喪葬、水肥等等。請問上述有種姓制度的社會文化是下列哪一個國家？  
(A)印度 (B)尼泊爾 (C)泰國 (D)巴基斯坦。
23. 世界各地的麥當勞都有不一樣的菜單，巨無霸漢堡一般用的是牛肉，但是在印度則是把牛肉換成了雞肉，其他漢堡主要有羊肉、魚肉等，還有專供素食的蔬菜。請問：麥當勞在印度的菜單做了些許調整，主要是為了下列何種因素？ (A)形勢封閉 (B)人口眾多 (C)宗教制度 (D)殖民影響。
24. 右圖為泰國地鐵的讓座標語，最左方為僧侶的圖樣。泰國境內僧侶地位崇高，除了禮讓座位外，國王必須向僧侶行禮，還有專門的僧侶醫院，搭公車也都免費。泰國境內上述現象，是受到哪一個宗教的影響？  
(A)佛教 (B)基督教 (C)印度教 (D)伊斯蘭教。
25. 印度電影有多樣的故事題材，還有華麗炫目的歌舞橋段，是南亞各國人民的重要休閒娛樂。請問：印度孟買的电影工業基地名稱為何？ (A)好萊塢 (B)寶萊塢 (C)瓦拉納西 (D)邦加羅爾。
26. 在國際分工體系中，每一個國家往往會依據自身資源及經濟發展現況，扮演不同的角色。以目前現況而言，多數東南亞國家所扮演的角色應屬下列何者？ (A)利用優質人力發展高科技產業 (B)出口農礦產品賺取大量外匯 (C)利用便宜勞力發展代工產業 (D)結合國內市場發展電影工業。
27. 某產業新聞報導：「由於中國、印度在邊境的衝突，導致中國公司在印度的發展受挫，進而為美國公司帶來了機會。美國企業在印度的投資與日俱增，但須小心謹慎，以免冒犯印度企業的民族主義情緒……。」請問：以上產業新聞敘述，最有可能是討論下列哪一項產業的發展？  
(A)汽車製造 (B)紡織工業 (C)軟體設計 (D)航太工業。
28. 印度擁有豐富的礦產，但卻因為長年限制外國資金進入，導致國內基礎設施不足，生產效能低落，工業化速度緩慢。請問：此一經濟發展狀況，導致印度社會產生何種現象？  
(A)貧窮人口眾多 (B)勞動人口不足 (C)佛教信仰為主 (D)熱帶栽培業發達。
29. 馬來西亞及印尼自殖民時期起，就大量種植橡膠、油棕等經濟作物，而此種產業活動的經營方式具有右圖何種特徵？ (A)甲 (B)丙 (C)丁 (D)戊。



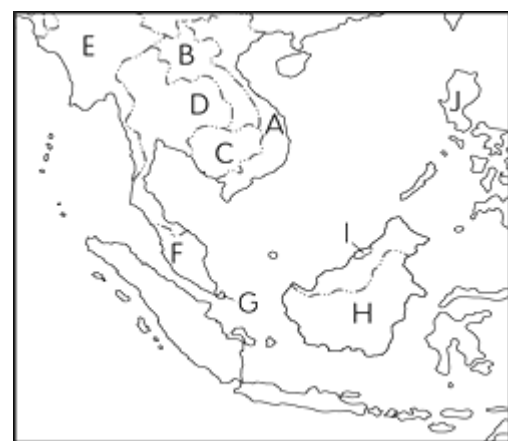
30. 印度在現今國際分工體系中的角色，主要是承包跨國企業的服務部門委外經營業務。請問：造成此一國際分工現象，主要是受惠於哪一項交通科技的進步？(A)電動汽車 (B)超級貨輪 (C)網際網路 (D)郵政系統。
31. 印度有一名陶泥工純手工打造「土冰箱」。土冰箱外圍有一個能裝水的水箱，中間是一個隔離儲物區，原理和陶罐類似。發明者說，只要在冰箱外圍的水箱注水，水就會沿著冰箱兩側流下，內部隨著水分蒸發達到降溫效果，這個產品一開賣就引發民眾搶購熱潮。請問：印度出現土冰箱的發明與下列何者關係最大？(A)印度洋運輸優勢 (B)限制外國資金進入 (C)基礎電力設備落後 (D)人口眾多工資低廉。
32. 臺灣的產品研發常會朝向高單價、高附加價值的方式前進，但在印度，時常會聽到許多臺灣人認為不可思議的低價產品問世，如汽車、手機、冷氣、電腦等，雖然這些產品品質陽春，但因價格低廉，往往受到青睞。請問：許多低價產品在印度推出獲得青睞的主要原因為何？(A)國內多數民眾購買力有限 (B)外資企業設為低階產品基地 (C)節儉儲蓄的宗教規範 (D)樂天知命的生活態度。
33. 右圖是網路上介紹某一區域型經濟組織的投影片片頭。請問：下列何者不是該組織的會員國？(A)菲律賓 (B)新加坡 (C)柬埔寨 (D)東帝汶。
34. 美國為了抗衡中國「一帶一路」的經濟倡議，而提出了「印太戰略」的構想。請問：下列哪一個國家是中國通往印度洋貿易航線必經的國家，也是美國戰略構想的重要夥伴？(A)日本 (B)南韓 (C)紐西蘭 (D)印度。
35. 進入二十一世紀後，東南亞各國以東南亞國家協會為基礎，進一步推動「東南亞自由貿易區(AFTA)」，其主要目標為何？(A)與歐洲聯盟分庭抗禮 (B)實現與美國貿易全面零關稅 (C)達到區域內使用統一貨幣 (D)全面實現區域內自由貿易。



#### 《題組一》

右圖為東南亞各國的位置圖，根據右圖回答 36 ~ 42 題：

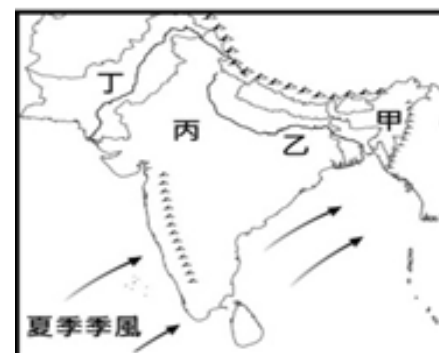
36. 緬甸軍政府領導人敏昂萊（Min Aung Hlaing）將軍於 24 日搭機飛抵印尼，預計將出席於首都雅加達舉行的東協（ASEAN，又稱東盟）緊急峰會，與東南亞 6 國元首、3 國外交部長進行面對面會談，這是敏昂萊自發動政變以來第一個出國訪問行程。請問近日發生軍事政變的緬甸，位於右圖中何處？(A) A (B) C (C) D (D) E。
37. 中南半島三面環海，但圖中 B 為唯一的內陸國。請問 B 國為下列何者？(A)越南 (B)泰國 (C)柬埔寨 (D)寮國。
38. 哪一個國家控制太平洋通往印度洋的麻六甲海峽，是世界重要的轉口貿易港？(A) A (B) G (C) F (D) I。
39. 東南亞 11 國中，哪一個國家的國土區分為東、西兩部分，並且分別位於中南半島、南洋群島？(A) A (B) J (C) F (D) I。
40. 這個東南亞國家自古以來受到中國文化的熏陶及影響，連農曆新年都一同慶祝。除此之外，該國廟宇之中也常可見到用漢字書寫的文字。」文中提到的國家位在附圖中何處？(A) A (B) B (C) C (D) D。
41. 圖中 A、D、E 等國的精華區皆位於何處？(A)山麓沖積扇 (B)山間盆地 (C)河口三角洲 (D)涼爽的山區。
42. 臺灣每年大約有 3~4 個颱風侵襲，然而東南亞某一地區每年約有 20 個颱風侵襲，因其所在位置四面環海，颱風的侵襲往往對當地帶來莫大的災害。請問：該地區最有可能是下列何地？(A) A (B) J (C) F (D) I。



#### 《題組二》

右圖為南亞簡圖，根據右圖回答 43 ~ 45 題：

43. 圖中夏季季風溼氣的來源主要是哪一個海洋？(A)大西洋 (B)印度洋 (C)太平洋 (D)北極海。
44. 圖中甲區的年雨量居全球之冠，主要的影響因素為何？(A)緯度、地形 (B)距海遠近、地形 (C)緯度、季風 (D)地形、季風。
45. 圖中的丁附近氣候乾燥，呈現沙漠景觀，其主因是下列哪一項？(A)副熱帶高壓壟罩，氣流穩定不易下雨 (B)距海遙遠，水氣無法深入內陸 (C)四周高山環繞，阻擋水氣進入 (D)寒流流經海岸，氣流穩定。





《題組三》

右圖為南亞簡圖，A~G 代表國家，甲~丁代表都市。請根據右圖回答 46 ~ 50 題：

46. 「2019 年□政府，發出破紀錄的 381 張登山許可證，而且申請資格不拘，只要支付相當新台幣 34 萬就能拿到，導致今年很多經驗不足的登山客，在攀登珠穆朗瑪峰(=聖母峰)的途中狀況百出，狹窄的山路只有一條，很多人一被堵住，可能等上 12 小時之久，氧氣量不足是造成今年 5 月十多名登山客暴斃的主因。」上文中的□是右圖中的哪一個國家？ (A)B (B)E (C)F (D)G。

47. 「該國位於恆河三角洲上，居民多信仰伊斯蘭教。每年 6~10 月是主要雨季，居民總是飽受水患之苦。」該國最可能位於下列何地？  
(A)B (B)E (C)F (D)G。

48. 印度的新冠肺炎確診數屢屢創新高，許多富有的寶萊塢大明星陸續逃出國，前往度假勝地 F，甚至在社群平台分享在 F 海灘穿泳衣的各式辣照，引來外界的強烈抨擊。請問 F 為下列哪個國家？ (A)汶萊 (B)東帝汶 (C)斯里蘭卡 (D)馬爾地夫。

49. 承上題，邦加羅爾其所在的位置(12°N，77°E)，可與美國舊金山(37°N，122°W)的公司連結成一個 24 小時不間斷工作的地理環境優勢。請問：邦加羅爾與舊金山之間的時差有幾個小時？  
(A)13 小時 (B)12 小時 (C)11 小時 (D)14 小時。

50. 右圖何處為錫蘭紅茶的發源地？(A)B (B)E (C)D (D)G。

