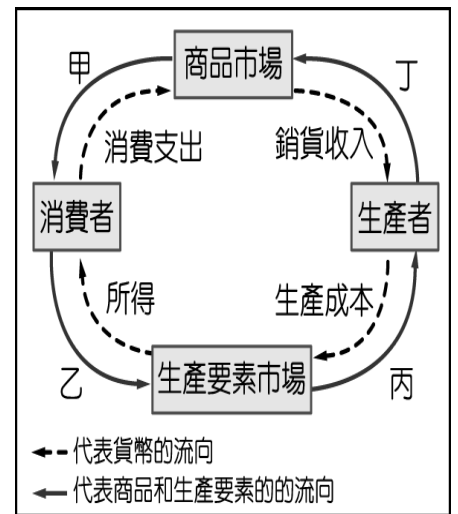


嘉義市立北興國中 109 學年度第一學期第二次段考三年級公民科試題

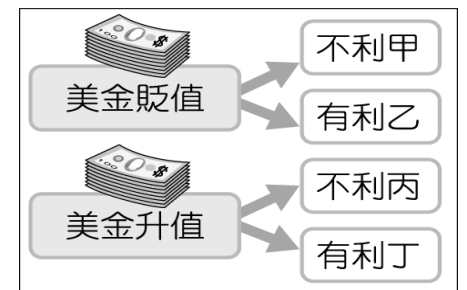
一、選擇題：

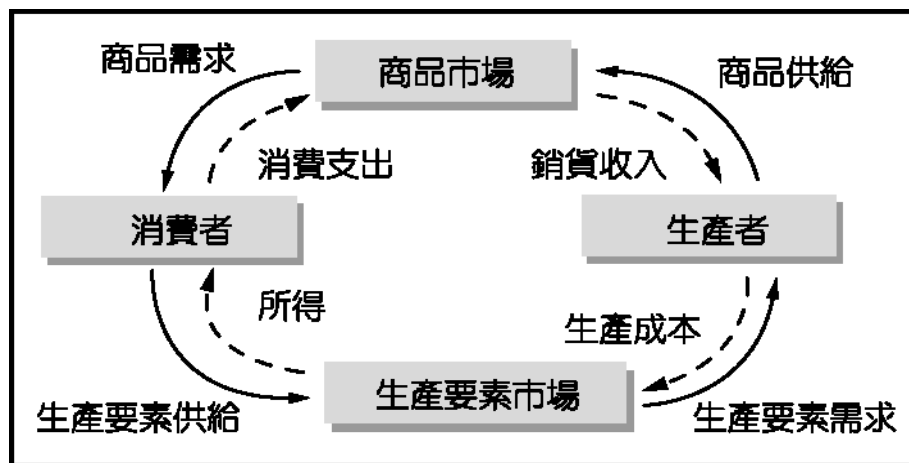
- 自由競爭市場中的市場機能，是由一隻「看不見的手」推動經濟活動。下列何者的價格卻是被「看得見的手」所掌控？(A)電影票 (B)水電費 (C)咖啡價格 (D)演唱會門票。
- 某國的老年人口比例為全球最高，幼年人口比例卻是最低，這將會造成未來投入勞動的壯年人口不足。上述壯年人口的變化，最可能先使附圖中甲、乙、丙、丁哪一個部分出現短缺？(A)甲 (B)乙 (C)丙 (D)丁。
- 附表為阿彩與阿香兩人一天的產量表。請問：誰在「縫便當袋」上具有絕對利益？(A)阿彩 (B)阿香 (C)無法判斷 (D)兩人都有。

| | 阿彩 | 阿香 |
|------|-----|-----|
| 縫便當袋 | 2 個 | 4 個 |
| 縫手帕 | 3 條 | 1 條 |



- 我國加入 WTO 後，市場更加開放，國內企業應如何調整自己的腳步，以獲得國際社會優勢？(A)創造自有品牌，提升產品品質 (B)僱用勞工，發展勞力密集產業 (C)剽竊外國產品，製作山寨版搶攻市場 (D)開發自然資源，減少依賴對外貿易。
- 我國進出口貿易會因匯率變動而受到影響，根據附圖，甲、乙、丙、丁依次應填入什麼？(A)進口、出口、進口、出口 (B)出口、進口、進口、出口 (C)出口、出口、進口、進口 (D)進口、進口、出口、出口。
- 一般經濟活動的生產與分配都由「看不見的手」所主導，但下列哪一項交易的價格不是由「看不見的手」所主導？(A)換季時的服裝售價 (B)國內水、電、油價 (C)颱風過後蔬菜的價格 (D)母親節時的康乃馨售價。
- 小新和媽媽逛夜市時看到動感超人模型，就吵著要買，媽媽看到價錢不貴，200 元有找，於是拿出 500 元給老闆支付所購買的東西。請問：媽媽此一支付行為屬於貨幣的哪一項功能？(A)價值衡量 (B)交易媒介 (C)債務清償 (D)價值儲存。
- 臺灣光復初期，發生嚴重的通貨膨脹，為穩定當時的政經局面，政府於民國 38 年改革幣制，規定以舊幣 4 萬元兌換新臺幣 1 元。若有人拿舊臺幣 200 萬元去兌換，可拿到新臺幣多少錢？(A) 50 元 (B) 200 元 (C) 50 萬元 (D) 800 萬元。
- 有關「貨幣」的敘述，下列何者正確？(A)貨幣可以促進交易的便利 (B)貨幣種類繁多，不一定具有價值儲存的功能 (C)貨幣可以改善人民生活，所以政府應該多印製紙鈔 (D)刷卡可以支付商品，所以信用卡也是貨幣的一種。
- 下列哪些為中央銀行的職權？(甲)提供民眾存款 (乙)發行新臺幣 (丙)保管國家黃金 (丁)控制商品價格 (A)甲乙 (B)丙丁 (C)甲丁 (D)乙丙。
- 下列何者是「統制經濟制度」的特徵？(A)經濟活動由看不見的手主導 (B)政府不干預經濟活動 (C)資源可以有效率地被運用 (D)財產大多為公有。
- 在現代社會，民眾不須出國，在國內就能購買到來自各國的商品，這是拜何者之賜？(A)生產過剩 (B)廣告宣傳 (C)國際貿易 (D)仿冒品猖獗。
- 在某一個價格之下，供給量與需求量相等的狀況稱為什麼？(A)供需失衡 (B)市場均衡 (C)供不應求 (D)供過於求。
- 附圖是經濟活動循環圖，圖中主要表示生產者與消費者的供需關係，以及與市場間的交流互動。請問：圖中「——→」的箭頭是指何者的流向？





(A)生產要素(B)商品(C)貨幣(D)需求。

15. 信用卡是由銀行發行，被消費者廣泛使用的支付工具，它與政府所發行的紙鈔貨幣最大的差異為何？(A)使用額度有限(B)人民的使用信賴度不高(C)發行銀行的財力不夠雄厚(D)沒有經政府以法令強制其價值。
16. 民眾對於某商品的熱潮消退，會導致此商品的銷售情況不佳，價格也不斷下跌。面對上述的情況，業者應該要如何調整？(A)增加商品的生產量(B)減少商品的生產量(C)要求政府收購商品(D)要求原料商降價。
17. 臺灣向美國購買F-16戰鬥機、向日本購買鮑魚；美國則向臺灣購買筆記型電腦與自行車；日本則向臺灣購買稻米、豬肉。請問：此種貿易是依循何種原理來進行的？(A)受益原則(B)分散風險(C)外部效果(D)比較利益。
18. 「2015年發行的『乙未羊年生肖紀念套幣』，紀念幣中間是999純銀銀幣，三隻羊表三陽開泰，上面寫的是中華民國104年，下面寫的是發行機關□□□□。」上述的缺空處為國家發行貨幣的機關，應該填入下列何者？(A)臺北郵局(B)中央銀行(C)臺灣銀行(D)地方政府。
19. 下列哪些項目與「供不應求」有關？甲、買黃牛票看演唱會；乙、石油輸出國增加石油產量；丙、換季清倉大拍賣；丁、端午節時，糯米價格上漲 (A)甲乙 (B)甲丁 (C)乙丙 (D)丙丁。
20. 新聞報導：莫拉克水災過後，臺東水果聖品「釋迦」一夜掉光！民眾想吃可能也吃不到了！關於此一新聞事件對釋迦的供給以及價格的影響，下列敘述何者正確？(A)供給減少、價格上漲 (B)供給減少、價格下跌 (C)供給增加、價格上漲 (D)供給增加、價格下跌。
21. 一臺HTC手機價值新臺幣9,500元，此時新臺幣代表的是下列哪項功能？(A)交易媒介 (B)清償債務 (C)價值儲存 (D)價值衡量。
22. 派大星將媽媽給的零用錢存在郵局帳戶裡，作為下學期的畢業旅行基金，這顯示貨幣的哪一項功能？(A)債務清償(B)價值衡量(C)交易媒介(D)價值儲存。
23. 辛巴威政府原本在非洲算是經濟較富裕的國家，因為戰爭等因素，政府大量印製鈔票因應，結果造成下列哪個現象？(A)貧富差距變大 (B)貨幣持續升值 (C)貨幣持續貶值 (D)民眾用相同貨幣可以買到更多商品。
24. 右表是喬巴和魯夫每小時蛋糕和麵包的產量。兩人該如何分工，對兩人最有利？(A)兩種都由喬巴做 (B)兩種都由魯夫做 (C)喬巴做蛋糕，魯夫做麵包 (D)喬巴做麵包，魯夫做蛋糕。

| | 喬巴 | 魯夫 |
|----|-----|-----|
| 蛋糕 | 3 個 | 2 個 |
| 麵包 | 1 個 | 4 個 |

25. 「比較利益法則」是指人與人之間經由適當的分工，從事較擅長的工作，再經由交換，彼此都可以得到較多、較好的產品。依上述判斷，下列何者是「比較利益法則」的重要功能？(A)提高社會的就業(B)提高工廠的技術水準 (C)提高公司的人力素質 (D)使資源做最有效率的運用。
26. 有網站打著「什麼都有、什麼都賣、什麼都不奇怪」的口號，標榜在網路上什麼都買的到，不管是臺灣的農產品，或是義大利的皮件，甚至是美國最新出版的書籍，不用出國就可以買得到，其背後最主要原因為下列何者？(A)交通路線發達(B)國際貿易興盛(C)國民所得提高(D)消費支出增加。
27. 小倩最近去日本，發現和上個月比較起來，這個月可以在日本買的東西變少了。上述這句話說明了新臺幣和日幣之間存有何者關係？(A)新臺幣貶值，日幣升值 (B)新臺幣升值，日幣貶值 (C)沒有改變 (D)無法判斷。

28. 阿標想到美國遊學，發現現在的美金兌換新臺幣的匯率是 1：28，上個月的匯率為 1：30。此匯率的變動對阿標有何影響？(A)因新臺幣貶值，所以去美國較貴 (B)因新臺幣升值，所以去美國較便宜 (C)因美金升值，所以去美國較便宜 (D)因美金貶值，所以去美國較貴。
29. 臺灣在早期主要發展勞力密集產業，而現在由於土地、工資等成本提高，所以主要發展何種產業？甲、技術密集；乙、能源密集；丙、資本密集；丁、勞力密集 (A)甲乙(B)甲丙(C)乙丁(D)甲丁。
30. 近年來，智慧型手機所推出的遊戲「Candy crush」，頗受到上班族和學生的喜愛，玩家可以透過虛擬商店來購買過關密技。下列有關虛擬商店性質的敘述，何者正確？(A)有形市場、商品市場 (B)無形市場、商品市場 (C)有形市場、生產要素市場 (D)無形市場、生產要素市場。
31. 下表是去年富有國對 A 國和 B 國的進出口貿易統計資料。根據這個統計資料，富有國去年的進出口貿易呈現哪些現象？甲、對 A 國是貿易順差；乙、對 A 國是貿易逆差；丙、對 B 國是貿易順差；丁、對 B 國是貿易逆差 (A)甲丙 (B)乙丙 (C)甲丁 (D)乙丁。

| | A 國 | B 國 |
|---------|-------|-------|
| 進口額(美元) | 500 億 | 380 億 |
| 出口額(美元) | 650 億 | 250 億 |

32. 小美到百貨公司買衣服，正值換季拍賣，所有商品一律三折，小美刷卡買了三件，價格分別為 250 元、450 元、300 元。根據上文，下列何者敘述正確？(A)價格讓小美增加了購買數量，這是供給法則 (B)信用卡又稱塑膠貨幣，所以它也算是貨幣 (C)刷卡雖然完成交易，但仍須用貨幣支付刷卡費用 (D)一件衣服價格 250 元，此時「元」代表價值儲存的工具。
33. 今年因為石油大漲，原物料也跟著上漲，造成物價不斷攀升，感覺錢變薄了。這對於領固定薪水的人，生活品質有何影響？(A)上升 (B)下降 (C)不變 (D)無法得知。
34. 對消費者而言，百貨公司、精品名店在整個經濟循環活動中，所扮演的角色為何？(A)生產者 (B)消費者 (C)商品市場 (D)生產要素市場。
35. 臺灣國是主機板的主要生產國，每小時可生產 20 片，本國則每小時可生產 15 片；臺灣國每小時可生產 5 臺 LCD，本國則每小時生產 15 臺 LCD。在這樣的情況下，兩國應如何從事貿易往來？(A)臺灣國出口主機板，本國出口主機板 (B)臺灣國出口 LCD，本國出口主機板 (C)臺灣國出口主機板，本國出口 LCD (D)臺灣國出口 LCD，本國出口 LCD。
36. 新聞：「國內爆發豬隻施打瘦肉精，民眾紛紛改買雞肉。」上述事件會造成市場價量如何變化？(A)豬肉市場供給量增，豬肉價格下降 (B)雞肉市場需求量增，雞肉價格上升 (C)雞肉市場供給量增，雞肉價格下降 (D)豬肉市場需求量增，豬肉價格上升。
37. 每年農曆春節前，許多人都會前往銀行領錢，而銀行也為了因應發紅包習俗，準備了大量的新鈔供應民眾，甚至還提供「舊鈔換新鈔」的服務。關於我們現在所使用的貨幣，下列何者「不」正確？(A)我國貨幣有紙鈔與硬幣 (B)我國貨幣具有法律強制接受的特性 (C)私人若印製鈔票，會觸犯法律規定 (D)信用卡是常見的交易媒介，也是真正的貨幣。
38. 正準備結婚的郭小城欲購置新居，看著房價一年比一年高，不禁感嘆地說：「唉！錢愈來愈小，能買得起的坪數也愈來愈小了。」郭小城的話是形容何種經濟現象？(A)貨幣這幾年逐漸升值 (B)國際貿易漸趨活絡 (C)貧富差距日益擴大 (D)貨幣所能購買的商品數量減少。
39. 下表是迪士尼玩具工廠中，四名員工每小時可縫製維尼熊或跳跳虎的數量。若不考慮其他因素，下列哪位員工生產維尼熊的機會成本最高？(A)大雄 (B)靜香 (C)小夫 (D)胖虎。

| | 大雄 | 靜香 | 小夫 | 胖虎 |
|--------|----|----|----|----|
| 維尼熊(隻) | 10 | 12 | 12 | 8 |
| 跳跳虎(隻) | 5 | 3 | 18 | 14 |

40. 由於不景氣，飯店住房率低迷不振，飯店業紛紛降價，墾丁 4 人成行，2 天 1 夜每人只要 999 元。在飯店降價後，飯店的住房率將有何變化？(A)需求量增加，住房率上升 (B)需求量下降，住房率下降 (C)供給量增加，住房率下降 (D)供給量減少，住房率增加。
41. 歷史中的「洛陽紙貴」是描述西晉文學家左思寫了一篇〈三都賦〉後，洛陽城內的文人爭相傳抄此賦，造成城內紙的價格亦水漲船高。依此敘述判斷，這反映了下列何種市場現象(A)供過於求 (B)供不應求(C)供需平衡(D)銷售技術。
42. 政府發行新版 500 元及 200 元的紙鈔，為何民眾會接受及使用它？(A)鈔票面額大(B)政府以法

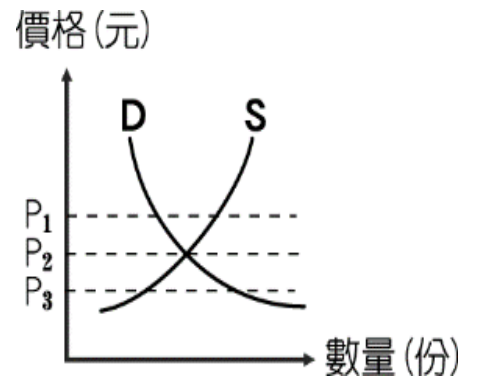
令強制其具有價值(C)設計大膽，創新精美(D)可以提高人民儲蓄額。

43. 一次世界大戰後，在德國咖啡館喝了一杯咖啡，點的時候一杯咖啡標價 5 千馬克，結帳時卻變成 8 千馬克。依此敘述判斷，當時的德國可能正面臨下列 何種問題？(A)生產過剩(B)資金短缺(C)通貨膨脹(D)惡性競爭。
44. 「天生我才必有用」、「人盡其才」與經濟學上的哪一種概念最接近？(A)機會成本 (B)比較利益 (C)需求法則 (D)供給法則。

二、題組：

福氣國今年國內旅遊行程價格居高不下，乏人問津，但國外旅遊行程由於廉價航空興起，價格降低許多，以致一位難求。請問：

- (45)據上文，對於福氣國國內旅遊行程市場的敘述，下列何者正確(A)處於市場均衡狀態(B)供給量與需求量相等(C)生產者應調高價格(D)呈現供過於求的狀況。
- (46)附圖，對於福氣國國外旅遊行程市場的說明，下列何者正確？
(A)處於市場均衡狀態 (B)價格應為圖中 P_1 (C)價格應為圖中 P_3
(D)市場現已達到均衡價格 P_2 。



臺灣的經濟倚賴國際貿易的程度很深，因此匯率的變動對我國的進出口貿易影響很大。假設某年 1 美金可兌換新臺幣 33 元。請問：

- (47)國出口一臺售價新臺幣 33,000 元的筆記型電腦到美國，則一臺筆記電腦在美國的售價為多少美金？(A) 1,000 美金 (B) 1,100 美金
(C) 10,000 美金 (D) 11,000 美金。
- (48)一臺定價 1,000 美金的自行車，我國廠商需出貨 1,000 臺，而新臺幣升值為 1 美金可兌換新臺幣 30 元。請問：將比之前 1 美金兌換新臺幣 33 元時多賺或少賺多少新臺幣？(A)多賺 3,000 元(B)少賺 3,000 (C)多賺 3,000,000 元(D)少賺 3,000,000 元。

通貨膨脹有可能對人民生活造成劇烈衝擊，因此各國政府無不盡量避免其所帶來的不利影響。請問：

- (49)通貨膨脹狀況嚴重，對領固定薪水的人來說，有何影響？(A)日常開銷減少(B)儲蓄金額增加
(C)生活水準降低(D)購買能力增強。
- (50)避免通貨膨脹的發生，我國由下列哪一個單位控管貨幣的發行量？(A)中央銀行(B)總統府
(C)財政部(D)外交部。