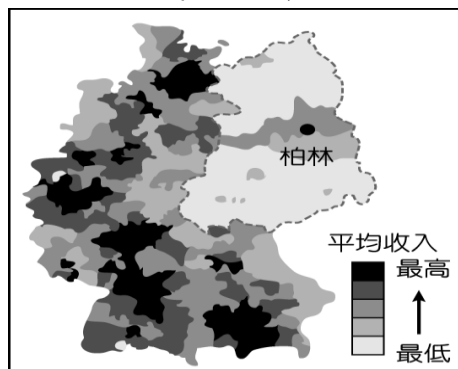


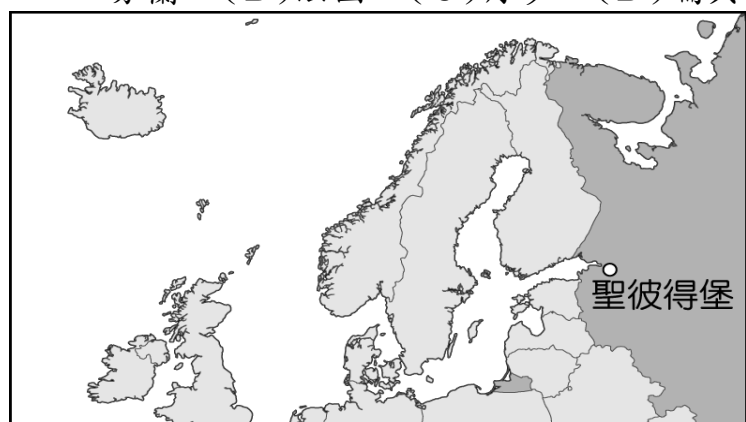
# 嘉義市立北興國民中學 109學年度第一學期地理科3年級第二次段考考試卷

## 一、單一選擇題：每題 2 分，共 20 分

1. ( ) 附圖為 2003 年某國納稅者平均收入高低的分布，其中，低收入者明顯集中在虛線範圍內，此處過去歷經共產體制。這種現象主要是該區受到下列何者的影響？(A) 地形崎嶇而交通不便 (B) 終年低溫且潮溼多雨 (C) 曾長期實施計畫經濟 (D) 實施殖民地式的經濟。



2. ( ) 俄羅斯主要地形由東而西依序為何？(A) 平原、平原、高原、山地 (B) 山地、高原、平原、平原 (C) 平原、山地、高原、高原 (D) 平原、高原、山地、山地。
3. ( ) 烏克蘭的工業相當發達，其有利工業發展的條件有哪些？(A) 礦產豐富、水力發電 (B) 勞工眾多、技術進步 (C) 交通方便、政策發展 (D) 市場廣大、資金充足。
4. ( ) 俄羅斯的聖彼得堡為該國第二大城，肩負對外發展的重任。附圖為該城的地理位置，請問：若由該城市對外出海到大西洋海域，經過的國家中不包括下列何者？(A) 芬蘭 (B) 法國 (C) 丹麥 (D) 瑞典。



5. ( ) 東歐的範圍廣大，有許多國家分布在此。請問：目前多將這些國家合併畫為同一地理區最主要的理由為下列何者？(A) 自然環境平坦，往來交通無阻礙 (B) 歷史上曾為共產國家，限制各國經濟發展方向 (C) 多信仰伊斯蘭教，生活作息一致 (D) 多為單一族群，少有戰亂。
6. ( ) 《達文西密碼》書中曾提及，當時為了躲避天主教教廷的追殺，保護聖盃的騎士們曾經試圖將其藏到玫瑰線（本初經線）以西的地區。當時這些騎士們所認為的西方

之地，疆域全位於西半球境內，和教廷梵蒂岡的勢力範圍距離最遠。請問：這個地點最可能為下列何者？(A) 義大利 (B) 英國 (C) 挪威 (D) 愛爾蘭。

7. ( ) 北歐的冰島位於北極圈附近，其境內卻有火山地形的分布，最主要的原因為何？(A) 溫室效應 (B) 板塊活動 (C) 暖流經過 (D) 冰蝕作用。
8. ( ) 捷克由於共產時期累積下來的工業基礎，今日吸引許多企業到該國投資生產，今欲將產品行銷中國市場。請問：若根據上文敘述判斷，這些工業產品的運輸路線多朝哪一方向運至市場銷售最近？(A) 東方 (B) 西方 (C) 南方 (D) 北方。
9. ( ) 荷蘭和臺灣皆為地狹人稠的地區，附表有關兩者的比較，何者最為正確？(A) 鄰近海域 (B) 土地面積 (C) 主要地形 (D) 主要河川。

	鄰近海域	土地面積	主要地形	主要河川
臺灣	臺灣海峽	土地較大	平原低地	淡水河
荷蘭	黑海	土地較小	山脈為主	萊茵河

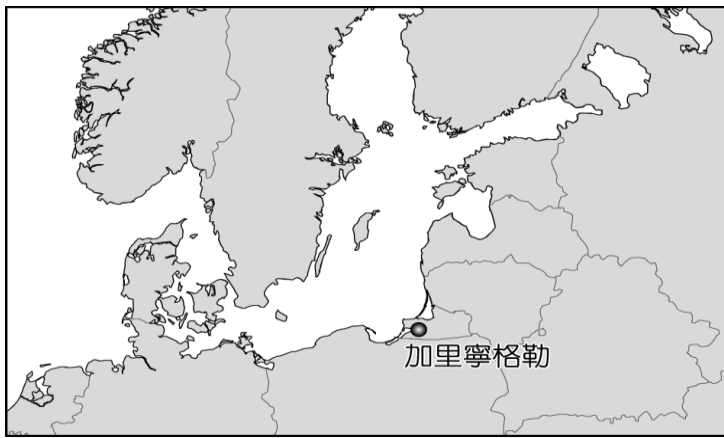
10. ( ) 北歐的冰河地形相當發達，影響當地的發展。造成北歐冬季氣候嚴寒的主要原因中，不包括下列何者？(A) 地處高緯 (B) 高山分布 (C) 寒流經過 (D) 太陽斜射。

## 二、題組：每格 2 分，共 80 分

(1). 2004 年 5 月 1 日起，歐盟由原來的 15 個會員國，逐漸加入東歐國家，擴大至今，目前共 28 個會員國。請問：

- ( ) 11. 在新加入的東歐國家中，受到早期經濟制度的影響，普遍發展不均衡，如捷克當時即以何種產業為主？(A) 軍火工業 (B) 民生工業 (C) 農牧產業 (D) 汽車工業。
- ( ) 12. 在新加入歐盟的東歐國家中，由於具備何項有利發展的條件，因此近年來吸引許多外資前往投資設廠？(A) 資金充足 (B) 技術進步 (C) 市場廣大 (D) 工資低廉。

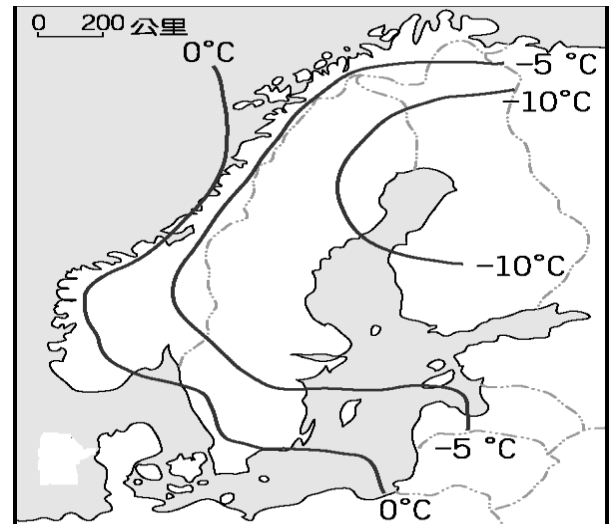
(2). 21 世紀俄羅斯隨著大量天然資源出口帶動經濟發展後，已逐漸朝向往日的區域強權發展，也因此引起了周圍國家的緊張。日前俄羅斯在西邊的領土—加里寧格勒（位置如附圖所示），部署帶載核彈頭的長程飛彈，鄰近國家立刻發出聲明，對該項措施表示抗議。請問：



- ( ) 13. 俄羅斯近年來主要受惠於何種資源的大量開採並對外銷售，因此累積了眾多的外匯，經濟實力大增？(A)石油 (B)黃金 (C)鐵礦 (D)木材。
- ( ) 14. 俄羅斯在加里寧格勒部屬飛彈後，歐洲各國都在其射程範圍內，但此一軍事策略對於加里寧格勒北方的哪一國家威脅最大？(A)德國 (B)芬蘭 (C)波蘭 (D)烏克蘭。
- ( ) 15. 俄羅斯在加里寧格勒的軍事布局，顯示其對哪一海域的重視？(A)北海 (B)地中海 (C)波羅的海 (D)北極海。
- (3). 歐洲足球聯賽開打，德國球迷特地搭機前往挪威觀賽，抵達挪威機場時外面正下著大雨，但無法澆熄他們的熱情。請問：
- ( ) 16. 德國球迷要搭機前往挪威為球隊加油，其飛行的方向大致為何？(A)東方 (B)西方 (C)南方 (D)北方。
- ( ) 17. 德國球迷搭機直飛挪威時，在座艙前方的螢幕上，將顯示飛越下列哪一個國家？(A)義大利 (B)法國 (C)冰島 (D)丹麥。
- ( ) 18. 德國球迷一出機場，便遇到斜風細雨，且氣溫更低。請問：當地降水主要是受到哪一個風向所影響？(A)季風 (B)西風 (C)信風 (D)颶風。
- ( ) 19. 德國球迷觀看的某一場賽事為挪威對德國，他們發現德國球員身上的球衣有著贊助商賓士汽車的商標。請問：德國汽車工業的發源最早和當地具備何種豐富礦產有關？(A)鐵礦 (B)煤礦 (C)石油 (D)水力。
- ( ) 20. 球賽結束後，他們決定順道前往斯堪地那維亞山脈，欣賞雄奇山景。請問：山脈東側是哪一個國家？(A)俄羅斯 (B)芬蘭 (C)丹麥 (D)瑞典。

(4). 由於優越的自然條件，使歐洲各地的經濟發展十分進步，國民生活水準頗高。而社會福利最為完善的北歐國家，其經濟活動受到自然環境的影響，各地特色不同。請問：

- ( ) 21. 附圖為北歐的一月月均溫分布圖，請根據圖中資料判斷，該地區一月月均溫最主要受到哪一項因素的影響？



- (A)緯度高低 (B)暖流經過 (C)地形屏障 (D)面積大小。
- ( ) 22. 丹麥的航運位置相當重要，成為重要的海運要道。請問：該國位於下列哪兩個海域之間？(A)北海、地中海 (B)地中海、大西洋 (C)北海、大西洋 (D)波羅的海、北海。
- (5). 東歐在共產主義瓦解後，曾面臨經濟上的陣痛期，但近年來利用參與國際組織、吸引外資等政策，促進國內經濟發展，而逐漸走出自己的道路，也受到國際間投資機構的青睞，如美國富蘭克林投資公司即規畫了相關基金。請問：
- ( ) 23. 東歐各國在早期共產制度下，產業活動主要有哪一特色，因此導致解體後經濟面臨衰頹？(A)商品出口為主 (B)仰賴外來投資 (C)產業發展不均 (D)勞工薪資低廉。
- ( ) 24. 投資機構針對過去實施共產主義的東歐國家所規畫的東歐基金，其主要投資國家不包括以下哪一國？(A)波蘭 (B)奧地利 (C)羅馬尼亞 (D)捷克。
- ( ) 25. 上文中的東歐基金將投資標的放在鋼鐵、煤礦的生產，鋼鐵、機械、汽車等重工業方面，又須考量對外貿易的交通往來。請問：選擇東歐的哪一國家作為投資標的最為合適？(A)羅馬尼亞 (B)捷克 (C)匈牙利 (D)烏克蘭。
- ( ) (26) 基金常會受到國際情勢影響而波動，近年來由於東歐某國政經該向俄羅斯還是歐盟靠攏的意見分歧，而導致國內動盪不安，間接導致國際基金的投資意願。請問：上述東歐國家為何？(A)捷克 (B)波蘭 (C)匈牙利 (D)烏克蘭。

(6). 北歐自古即因其自然環境的分布特色，而發展出和環境相互配合的產業結構。請問：

- ( ) 27. 小美因為公務需求，到北歐從事考察，發現當地的海上航運業相當發達。下列哪一項特色對該地區的航運發展助益最大？(A)北大西洋暖流(B)西風吹拂(C)高大山脈(D)緯度高。

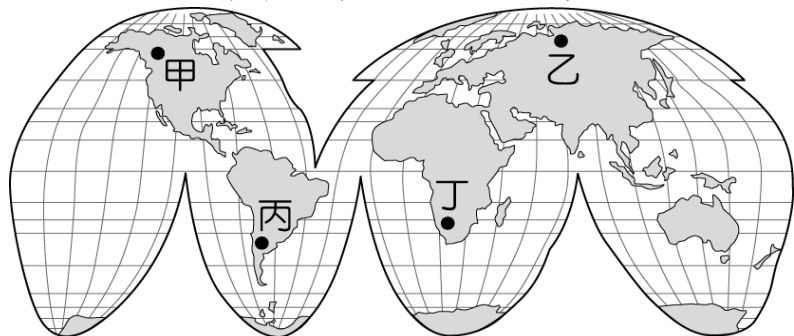
- ( ) 28. 北歐夏季白晝甚長，但氣溫卻涼爽不熱。請問：這種現象受下列哪一項因素的影響最大？(A)地處高緯(B)地形起伏(C)距海遠近(D)降水量多。

(7). 日前香港報導指出：「烏克蘭將成為中國最大的海外農場」，引來眾多國際間的關注。烏克蘭將向中國提供 300 萬公頃的土地從事各種農牧業的發展，成為主要的生產地，被稱為是近期中國向東歐擴展的重要一步。請問：

- ( ) 29. 烏克蘭農業興盛和下列何者關係最大？(A)土壤肥沃 (B)終年多雨 (C)生長季長 (D)鄰地中海。

- ( ) 30. 從烏克蘭的地理位置、氣候條件來看，中國在烏克蘭進行農業發展，可能以哪一作物的大規模種植為主？(A)稻米(B)咖啡(C)大豆(D)可可。

- ( ) 31. 上述與中國的合作協議被認為是烏克蘭經濟自主的重要一步，希望藉由這些國際間合作，降低對共產時期以來對鄰近哪一大國的經濟依賴？



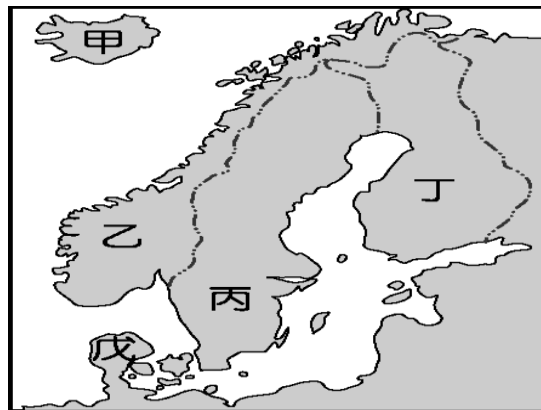
(A)甲 (B)乙 (C)丙 (D)丁。

(8). 昔日東歐國家產業發展不均衡，但共產制度瓦解後，各國的經濟發展都有重大的改變。請問：

- ( ) 32. 匈牙利早期以計畫經濟為主，經濟體質不佳，這和哪一項因素關係最大？(A)地形平坦 (B)降水量少 (C)政策因素 (D)交通不便。

- ( ) 33. 東歐各地的經濟發展與國家紛爭和地形特色關係甚大。喀爾巴阡山以南地區主要以何種地形為主？(A)山地 (B)台地 (C)平原 (D)高原。

(9). 童話大師安徒生的著作，為全世界小孩帶來希望，廣受各地歡迎。他出生於北歐的丹麥，而北歐因為社會福利制度和職業教育成功，因此國民生活品質高，成為人人稱羨的地區。請根據附圖回答問題：



- ( ) 34. 童話大師安徒生出生於北歐的丹麥，為北歐海運的十字路口，港口航運發達。而在哥本哈根港口地區就佇立著安徒生筆下的美人魚銅像，成為著名的景點。丹麥位於附圖中的何處？(A)甲 (B)乙 (C)丙 (D)戊。

- ( ) 35. 北歐的自然環境優美，地形景觀豐富，每年夏季時會有許多的郵輪前往該處，欣賞特殊的峽灣地形景觀。附圖中哪一國家的峽灣海岸深邃壯觀最為著名？(A)甲(B)乙(C)丙(D)丁。

- ( ) 36. 附圖某國傳統產業活動為林木的開發，而因為湖泊眾多，被稱為「千湖國」。這個國家指的是北歐的哪一國？(A)乙 (B)丙 (C)丁 (D)戊。

(10). 東歐近年來的經濟發展相當快速，成為新興的工業地帶。請問：

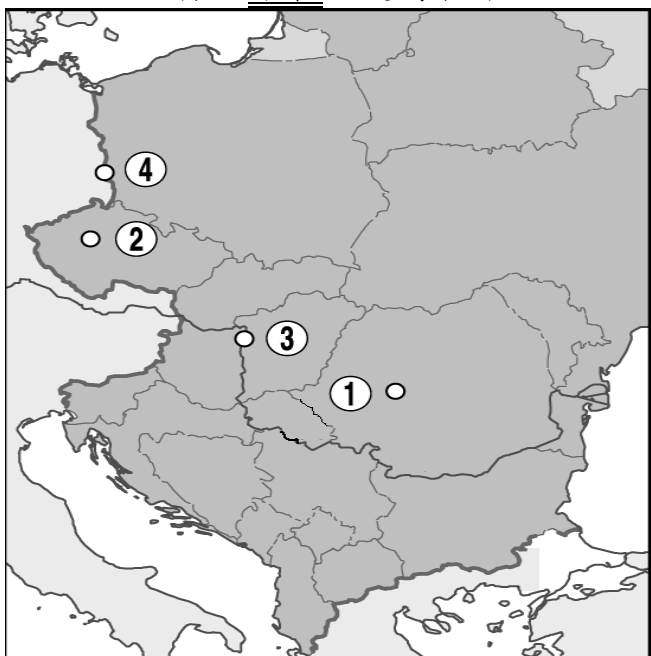
- ( ) 37. 東歐有哪一條河流貫穿境內各主要國家，成為當地重要的水運要道？(A)萊因河 (B)泰晤士河 (C)多瑙河 (D)塞納河。

- ( ) 38. 東歐各國在共產制度解體後，紛紛加入歐盟積極發展各項工業。致使原為宗主國的俄羅斯大為擔心，請問：俄羅斯四大工業區中，何者礦產最為豐富？(A)貝加爾湖工業區 (B)庫斯內次工業區 (C)莫斯科工業區 (D)烏拉山工業區。

(11). 東歐地區的開放較晚，再加上風光明媚，因此成為新興的旅遊勝地，為當地帶來豐富的外匯收入。附表為小貞參加的東歐行程，請問：

第 1 站	漫步布拉格舊城區
第 2 站	在斯洛伐克登上東歐主要山脈的最高峰，並享受午餐
第 3 站	參觀電影「辛德勒名單」中出現的奧斯維辛集中營舊址
第 4 站	搭船欣賞東歐主要河川的沿岸風光
第 5 站	參觀布達佩斯被列入世界文化遺產的城堡區與河畔風光

- ( ) 39. 小貞參加上述的旅遊行程，為了避免遇到滂沱大雨，應避免在下列何時前往？ (A) 1 月 (B) 4 月 (C) 8 月 (D) 11 月。
- ( ) 40. 在第 1 站的行程中，小貞漫步布拉格舊城區後見到美麗的城堡讓他忘卻步行的辛勞，根據導遊介紹這座城市應在哪一國？ (A) 匈牙利 (B) 烏克蘭 (C) 波蘭 (D) 捷克。
- ( ) 41. 第二次世界大戰時，在奧斯維辛集中營有許多猶太人在此被德國的納粹軍隊屠殺，讓這個地處德、俄大國間的國家更添一筆悲傷的歷史。請問：小貞前往的奧斯維辛集中營應位於下列哪一國家？ (A) 羅馬尼亞 (B) 波蘭 (C) 匈牙利 (D) 烏克蘭。
- ( ) 42. 第 4 站是小貞最喜歡的行程，可以輕鬆的搭船欣賞東歐主要河川的沿岸風光，請問：此主要河川最後注入哪一海域？ (A) 地中海 (B) 黑海 (C) 北海 (D) 波羅的海。
- ( ) 43. 小貞抵達上述行程時都會打卡留念，附圖為他打卡的地點，但其中有一點標示不在上述行程中？

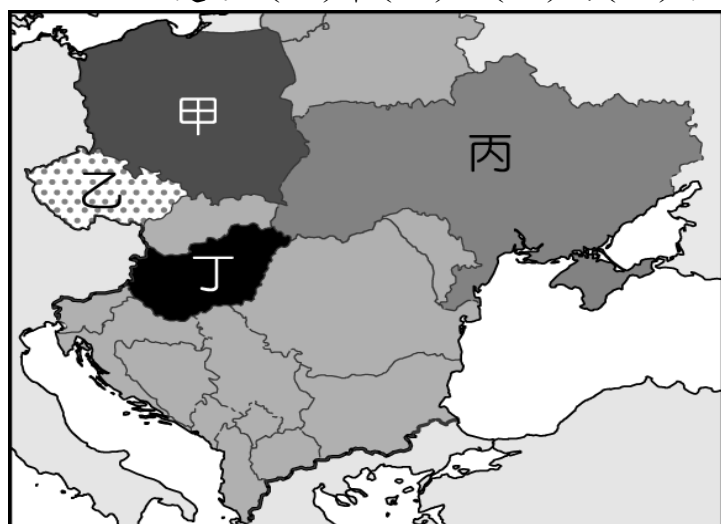


(A) ① (B) ② (C) ③ (D) ④。


- (12). 2014 年俄羅斯在與東歐某國開啟戰端後，和東歐鄰國的關係也格外緊張。2015 年 2 月俄國總統普丁為擴展外交，前往匈牙利、波蘭進行訪問，以爭取盟國的支持。請問：
- ( ) 44. 東歐曾在蘇聯時期和俄國是親密的戰友，然而近年來由於經濟改革的影響，東歐和下列何者關係日益密切，導致東歐和俄羅斯間出現嫌隙？(A) 世界貿易組織 (B) 亞太經濟合作會議 (C) 東南亞國協 (D) 歐洲聯盟。
- ( ) 45. 俄羅斯和下列附圖丙國間屢次發生衝突，卻導致西歐國家的民眾生活出現

不便。請問：這和丙國具有哪一項特色的關係最大？ (A) 鐵路線中間站 (B) 水運交通交會點 (C) 天然氣管線通道 (D) 光纖網路中間點。

- ( ) 46. 俄羅斯總統普丁前往訪問的匈牙利，過去在實施計畫經濟之時，其主要的經濟活動為何？ (A) 農牧業 (B) 工礦業 (C) 軍火業 (D) 運輸業。
- ( ) 47. 下圖為東歐主要國家位置圖。請問：俄國總統普丁出訪的波蘭位於圖中何處？ (A) 甲 (B) 乙 (C) 丙 (D) 丁。



(13). 《北海小英雄》這部動畫十分受歡迎，內容描述北歐布蘭村的水手，由黑龍船長帶領出航。黑龍船長的兒子小威聰明過人，常常運用智慧幫助水手們度過難關。下列附圖為這部動畫的部分情節，請問：



海盜船在海上  
▲圖(一)

海盜船停靠海灣  
▲圖(二)

白天斜風飄雨  
▲圖(三)

- ( ) 48. 圖(一)中的黑龍船長率領水手由峽灣出航，其主要活動的最近海域可能為下列何者？ (A) 地中海 (B) 太平洋 (C) 大西洋 (D) 黑海。
- ( ) 49. 圖(二)中小威家鄉的布蘭村因為受到何種作用力的影響，沿岸利於船隻出入？ (A) 河川沖蝕 (B) 斷層作用 (C) 海蝕作用 (D) 冰河侵蝕。
- ( ) (50) 圖(三)中所盛行的風向最可能為下列何者？ (A) 東風 (B) 西風 (C) 季風 (D) 信風。