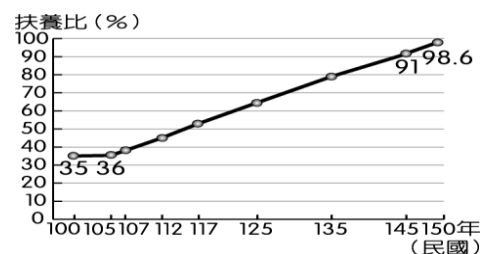


◎ 單選題，第1-20題每題2分，第21-40題每題3分。

1. 地理老師教授人口成長計算公式，關於人口計算的公式，何者正確？  
 (A) 自然增加率=出生率-死亡率 (B) 社會增加率=移入率+移出率  
 (C) 人口增加率=自然增加率率-社會增加率率 (D) 自然增加率=人口增加率+社會增加率
2. 下列是一則新聞報導的標題：「國健局指出，台灣的出生性別比在民國92年為110，曾高居全球第3高」依內容判斷，下列何者最能說明這種現象？  
 (A) 進入高齡化社會 (B) 壯年人口負擔變重  
 (C) 男嬰數較女嬰數多 (D) 男嬰人數：女嬰人數=100：110。

3. 右圖為臺灣近年來的扶養比推估圖，由右圖來推論，下列何者敘述最符合臺灣的人口結構？




- (A) 人口總數逐漸減少 (B) 壯年人口負擔越來越重  
 (C) 新生嬰兒大量增加 (D) 受扶養人口比例漸低。
4. 下列為「四個島國人口分布示意圖」，每張圖的圖紙大小相同，但比例尺都不同。請問：哪一個島國的人口密度最高？（每個小人代表一千人）




5. 影響人口遷移的因素包含「拉力」和「推力」，舉例而言有以下數種狀況：(甲)印尼雅加達霧霾問題嚴重，空氣品質長期不佳；(乙)杜拜科技園區擴大徵才，待遇優渥；(丙)美國紐約曼哈頓早期居住品質低，犯罪率高；(丁)西班牙居地中海沿岸，氣候宜人，環境優美。請問哪些屬於「拉力」
- (A) 甲乙 (B) 乙丙 (C) 乙丁 (D) 甲丁。
6. 擁有濃厚阿拉伯傳統文化底蘊，加上經濟高度發展的優勢，使杜拜成為旅人眼中極為神秘又嚮往的旅行據點，每年招徠超過百萬名觀光客。根據2019年的統計資料顯示，該國出生率為15‰，死亡率為8‰，移入率20‰，移出率為15‰。請問：該國2019年的人口增加率 and 社會增加率分別為多少？

- (A) 6‰，5‰ (B) 12‰，5‰ (C) 5‰，6‰ (D) 5‰，11‰
7. 右圖為四個國家人口年齡組成圖，就人口組成而言，四個國家中的勞動人口，其扶養負擔最大的是哪一個國家？

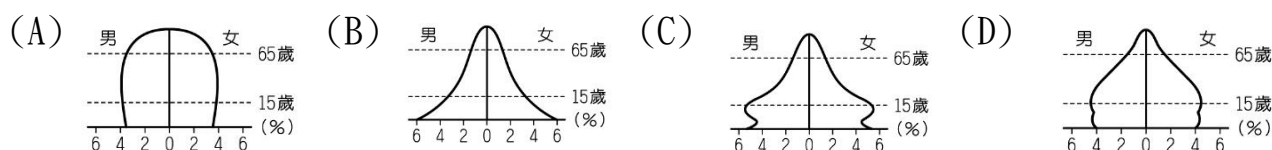


8. 敏鎬與朋友到外地出遊時，意外看到了伊斯蘭教祈禱室的標示，如右圖。據此判斷，常出沒於該地的族群，最大比例可能為下列哪一群人？



- (A) 來自菲律賓的外籍移工 (B) 來自印尼的外籍移工  
 (C) 來自印度的外籍配偶 (D) 來自泰國的外籍配偶
9. 台灣人口密度約639人/平方公里，而摩納哥人口密度約18960.4人/平方公里。根據以上敘述，其意涵為何？
- (A) 摩納哥工商業比較發達 (B) 臺灣的自然增加率較低  
 (C) 摩納哥的人口成長速度較快 (D) 臺灣平均居住與活動的空間較大
10. 藉由人口金字塔圖，我們可以看出下列哪項重要訊息？

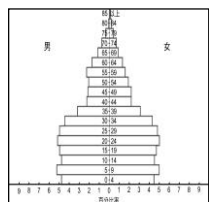
- (A) 人口組成 (B) 人口分布 (C) 人口成長 (D) 人口移動。
11. 老人年金的給付是福利國家重要的社會福利之一。由下列四個國家的人口金字塔判斷，何國最具有實施該項政策的能力，且最具迫切性？



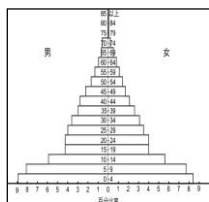
12. 下列台灣人口分布的敘述，那些為正確？(甲)人口分布不均勻 (乙)台灣東部受政策影響而人口較其他地區少(丙)都市的經濟發展程度較佳且人口較鄉村多 (丁)台灣本島人口數量較離島地區多 (戊)台灣多數漢人祖先在淡水河口登陸台灣，使北部地區開發較早而人口較多
- (A) 甲丙丁 (B) 甲丁戊 (C) 乙丙丁 (D) 甲丙戊。
13. 下方為某新聞剪報內容。從新聞剪報的內容分析，請問：政府決定通過文中的婦女保障法案，主要與下列臺灣何種人口現象有關？

【快報】在一家知名建築廣告公司負責文案的劉姓女子，高興地告訴同仁她懷孕了，沒想到主管得知後，暗示她自動請辭，再以她無法勝任工作為由，將她資遣，劉女認為公司對她性別歧視，告上法院。台北地方法院除了判決公司要賠償劉女薪資十萬多元外，並罕見地判公司另須給付劉女二十萬元的精神慰撫金。

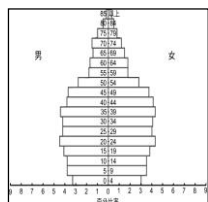
- (A) 人口總數降低，增加人口拉力 (B) 外籍配偶眾多，協助融入社會  
(C) 人口集中都市，減緩城鄉差距 (D) 出生率創新低，鼓勵婦女生育。
14. 歐洲新聞快報：「2015年4月，義大利湧入大量的海上難民，西西里南島在8天之內收容超過11,000名難民，對當地生活造成沉重的負擔。」請問：上述現象將反映出義大利何種人口增加的變化？
- (A) 人口死亡率增加 (B) 自然增加率增加 (C) 人口移出率增加 (D) 社會增加率增加。
15. 台灣的外籍勞工可分為產業及社福外勞兩種，目前人數已達625,00人，且逐年增加中。請問：這些勞工應是屬於哪一性質的人口遷移？
- (A) 永久性的國際遷移 (B) 暫時性的國際遷移 (C) 永久性的國內遷移 (D) 暫時性的國內遷移。
16. 一個國家由低度開發邁入已開發的過程中，其人口金字塔圖的變化過程依序為何？



甲

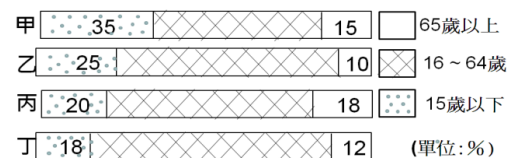


乙

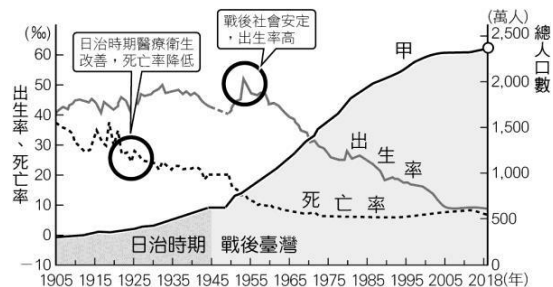


丙

- (A) 甲乙丙 (B) 甲丙乙 (C) 乙甲丙 (D) 乙丙甲。
17. 右圖為甲、乙、丙、丁四國人口年齡結構。請問：依圖中資料判斷，下列敘述哪一項是正確的？



- (A) 扶養比最高的是乙國 (B) 出生率最高的是丙國  
(C) 壯年比例最高是丁國 (D) 四國的人口總數一樣
18. 在2018年11月24日的六都選舉時，許多由洛杉磯返鄉的僑胞回台灣投票。對這些居住在國外的僑民而言，他們選擇到美國就學或業的行為，屬於下列何種人口移動現象？
- (A) 國內遷移、美國拉力 (B) 國際遷移、美國拉力  
(C) 國內遷移、美國推力 (D) 國際遷移、美國推力。
19. 右圖為近百年來臺灣人口成長變化圖。根據右圖，哪一時期的臺灣人口成長最快？
- (A) 1905-1955年 (B) 1955-1985年  
(C) 1995-2005年 (D) 2005年之後



20. 承上題，2000年後台灣人口總數變化趨緩，下列哪一位同學的解釋較不恰當？
- (A) 胡蝶忍：2000年後死亡率低，出生率也低  
(B) 彌豆子：2000年後移入率差不多等於移出率  
(C) 義勇：2000年後人口增加率仍為正值  
(D) 炭治郎：2000年時出生率已經低於死亡率。

21. 春秋戰國時代趙國於長平之戰大敗，遭秦國白起坑殺20萬士兵，國力大損。請問戰後趙國的人口金字塔圖形，最可能是下列哪一幅示意圖？



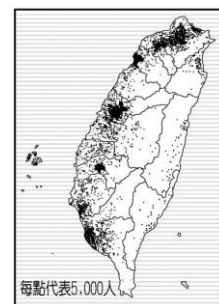
22. 英國劍橋大學台灣同學會欲辦理「台灣美食博覽會」，介紹台灣本土美食，請問下列哪一項食物不應該出現在博覽會攤位上？

- (A) 滷肉飯 (B) 牛肉麵 (C) 生春捲 (D) 竹筒飯。

23. 嘉義市政府為協助外籍配偶就業，計畫聘請專業教師開辦相關課程，請問：考慮語言溝通，市府聘請的專業教師最需要具備下列哪種語文能力？

- (A) 越南語 (B) 德語 (C) 西班牙語 (D) 法語。

24. 右圖為「臺灣的人口分布圖」。請問：有關臺灣人口分布特色的敘述，正確的有幾項？ (A)1項 (B)2項 (C)3項 (D)4項。



- (甲) 平地多於山地 (乙) 都市多於鄉村  
(丙) 西部多於東部 (丁) 離島多於本島。

25. 這是某縣市活動的文宣：「在微風椰影的夏夜，點燃全國最具原汁原味特色的樂舞文化活動，每年吸引全國甚至國外遊客來到○○，活動周邊設有原住民特色美食區、手工藝品展售區及各原住民農特產、部落微旅行攤位，展現○○原住民族獨特的文化內涵。」請問這個國內原住民最多的縣市是？

- (A) 彰化 (B) 新竹 (C) 屏東 (D) 花蓮。

26. 台灣有許多的特有用語來自於國外，請問以下何者不是源自國外的台灣用語？

- (A) 甜不辣 (B) 珍奶 (C) 優格 (D) 脫口秀。

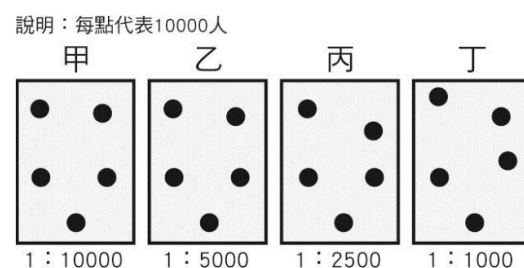
27. 東南亞飲食喜歡加上酸辣調味，增加食慾，請問這與下列哪一項因素有關？

- (A) 地形崎嶇 (B) 湖泊眾多 (C) 氣候溼熱 (D) 宗教因素

28. 小威假日到戶外參加某活動，看表演者穿著漂亮的藍染衣服，手拿大紅色油紙傘造型還有板條、擂茶等美食試吃活動。請問這是屬於下列哪一族群的特色？

- (A) 客家人 (B) 原住民族 (C) 閩南人 (D) 新住民。

29. 因應新冠肺炎疫情發燒，政府販售實施口罩實名制，每個縣市的民眾均可在健保特約藥局及衛生所購買，但有些地方因人口密集，出現「一罩難求」的景象，附圖為台灣四個縣市的人口分布請問下列何地最可能出現上述情形？



- (A) 甲 (B) 乙 (C) 丙 (D) 丁。

30. 根據內政部的統計，符合「低於全國人口密度的五分之一」的鄉鎮市區共有69個，也是所謂的「偏遠地區」，如：新北市的烏來區。其中又以臺東縣和花蓮縣的偏遠地區最多，請問，最有可能的原因為何？

- (A) 地震頻繁 (B) 山地廣大 (C) 位颱風路徑上 (D) 生活空間狹小。

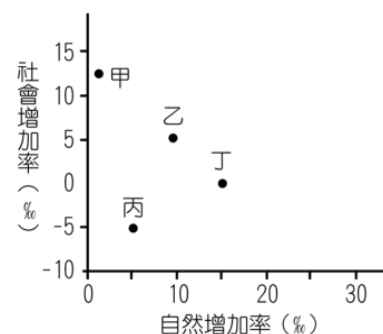
31. 承上題，臺北市和彰化縣境內無偏遠地區，以下何者無法解釋？

- (A) 臺北市工商業發達 (B) 臺北市交通運輸便捷  
(C) 彰化縣農業人口多 (D) 彰化縣全境地形平坦。

32. 右圖為甲~丁國去年的人口增長率，針對此四個國家 2019 年人口成長的敘述，正確的有哪些？

- (1)人口成長率:丙<丁<乙<甲 (2)甲國的人口成長受到社會增加的影響較自然增加多 (3)乙國的人口增加為零成長 (4)丙國的出生率與死亡率為相等 (5)丁國的移入率與移出率為相等 (6)丁國的人口成長以自然增加最為主要

- (A) (1)(4)(6) (B) (2)(5)(6)  
(C) (1)(2)(5) (D) (2)(3)(5)。



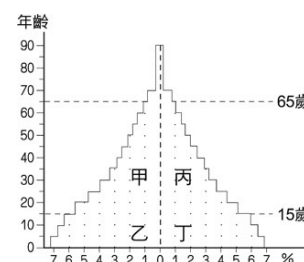
33. 南投縣目前人口已跌破五十萬，其中新住民人口卻占了一萬一

千人，平均每百位居民便有 2.2 位是新住民，南投縣政府表示，當地新住民是重要的人力資源，隨著新住民人口日益成長，成為南投縣發展的新動力。因此舉辦如臺語歌唱比賽，邀請越南、印尼、中國各地的新住民參與，融入南投縣的大家庭。新住民從海外遷居至到南投，最主要的原因多為下列何者？

- (A) 婚姻關係 (B) 工作就業 (C) 讀書就學 (D) 氣候優良。

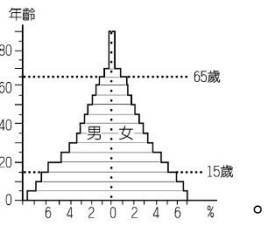
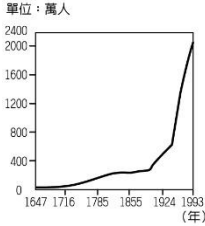
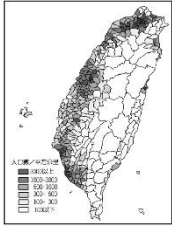
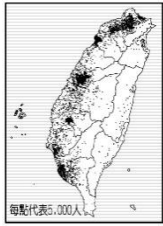
34. 附圖是某國人口金字塔圖。郝美麗(女)今年50歲，她最有可能在人口金字塔的哪個位置？

- (A) 甲 (B) 乙 (C) 丙 (D) 丁。



35. 桃園市是全臺移工數量最多的縣市，火車站周邊亦因此形成東南亞商圈，來到桃園車站後站，有如出國一般，充滿濃濃的異國色彩。下列關於外籍移工的敘述，何者正確？
- (A) 桃園移工數量眾多，主要是因鄰近的臺北推力強，而桃園拉力大
- (B) 移工屬於暫時性國際遷移
- (C) 臺灣外籍移工來源地以中國為最大宗
- (D) 以上皆是。

36. 阿神想要查閱臺灣「人力資源多寡」的資料，手邊有四張圖片可供他參考，你會建議他使用哪一幅圖片呢？



37. 下表為四個地區的人口與面積資料，根據圖例中的規則繪製人口密度圖，則下列何者最可能為繪製結果？
- | 地區 | 人口(萬人) | 面積(平方公里) |
|----|--------|----------|
| 甲  | 1.8    | 100      |
| 乙  | 7.5    | 300      |
| 丙  | 2.0    | 400      |
| 丁  | 3.5    | 100      |



38. 旺萊國隨著社會的發展過程，男女性別比例出現變化。下表為旺萊國各年代的男女比例，請問：性別比最低的時間為何者？
- | 時間  | 男性人口   | 女性人口   |
|-----|--------|--------|
| 69年 | 940萬   | 862萬   |
| 79年 | 1,061萬 | 977萬   |
| 89年 | 1,138萬 | 1,091萬 |
| 99年 | 1,148萬 | 1,163萬 |

39. 大丁是小學三年級生，其家庭成員有70歲的爺爺、62歲的奶奶、40歲的小叔和小孀、讀小二的堂妹、爸爸、媽媽和唸大一的哥哥。關於大丁家庭成員的敘述何者正確？
- (A) 壯年人口有五個 (B) 扶養比為50%
- (C) 幼年人口有三個 (D) 需要被扶養的老年和幼年人口有四個。

40. 下表是某國2012年到2015年間的人口資料，若依照此資料推估，此國家在這段時間的人口變化為何？
- (A) 持續減少 (B) 持續增加
- (C) 先減少後增加 (D) 先增加後減少。

項目	自然增加率(‰)	社會增加率(‰)
2012年	8	-2
2013年	9	-7
2014年	14	-5
2015年	18	-5