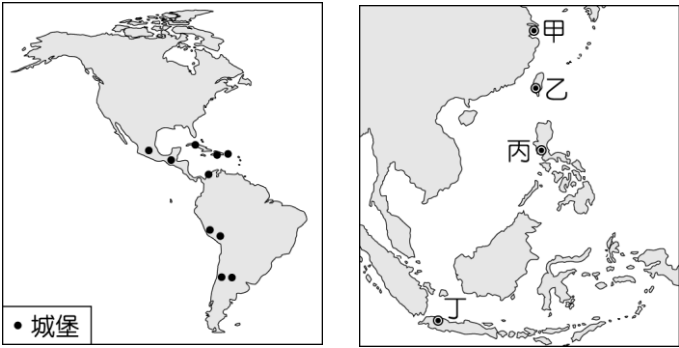


一、單選題 每題2分 共70分

- 1、19世紀的中國與日本都曾經實施一口對外通商，請問：當時中國與日本的對外港口，各是何地？(A)廣州、廣島 (B)廣州、東京 (C)廣州、長崎 (D)廣州、京都
- 2、革命運動的發起和國家的統一，必須經過眾人的努力。請問：義大利的統一，與下列何者應該沒有關係？(A)威廉一世 (B)加里波底 (C)加富爾 (D)馬志尼。
- 3、日耳曼的統一歷經以下的歷史事件：(甲)普奧戰爭(乙)關稅同盟(丙)普法戰爭(丁)威廉一世在凡爾賽宮即位，上述事件依時間先後排列，其正確順序為何？(A)甲乙丙丁 (B)乙甲丙丁 (C)乙丙甲丁 (D)丙乙甲丁。
- 4、淇淇在段考前為了釐清日本從鎖國到開放口岸的歷史發展，特地針對日本的開放通商整理一份表格。但是因為時間緊迫，只有一個項目寫對了，請問：哪一項？

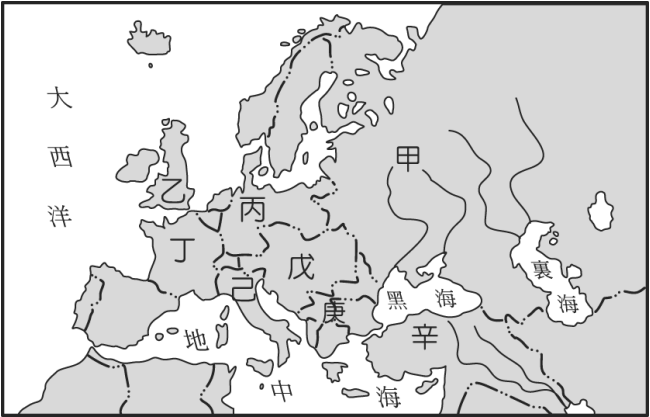
項目	內容
鎖國措施	限與中國、荷蘭人貿易
外力侵擾	英國艦隊脅迫簽訂不平等條約，結束鎖國
國內反應	提倡尊夷攘王，要求大政奉還
西化改革運動	大化革新

- (A)鎖國措施 (B)外力侵擾 (C)國內反應 (D)西化改革運動。
- 5、16世紀時，這個國家積極向外征服，在其殖民地修築了許多城堡，如圖(一)所示。當時這個國家也曾在圖(二)中甲、乙、丙、丁何處建立城堡？



- (A)甲 (B)乙 (C)丙 (D)丁。
- 6、美國常為自身利益而改變政策，其中「門羅宣言」表現何種心態？(A)屏障美洲各國 (B)支持民族主義 (C)對拉丁美洲有野心 (D)反對侵略行為。
- 7、巴爾幹半島境內民族複雜，宗教紛歧，居民大部分屬於哪一民族？(A)日耳曼人 (B)斯拉夫人 (C)土耳其人 (D)匈牙利人。

- 8、中世紀時期以來，日耳曼地區為下列哪一帝國所統治？(A)法蘭克帝國 (B)亞歷山大帝國 (C)神聖羅馬帝國 (D)東羅馬帝國。
- 9、19世紀新帝國主義興起，下列哪一地區不是新帝國主義國家侵略的對象？(A)非洲 (B)亞洲 (C)歐洲 (D)拉丁美洲。
- 10、台灣在17世紀被兩個歐洲國家所殖民，請問：是哪兩個國家？(A)葡萄牙、荷蘭 (B)西班牙、荷蘭 (C)西班牙、葡萄牙 (D)英國、日本。
- 11、(甲)發現新航路(乙)社會達爾文主義的影響(丙)工業革命造成工業急速發展(丁)歐洲「開明專制」國君的作為。上述哪些不是造成新帝國主義興起的原因？(A)甲乙 (B)乙丙 (C)乙丁 (D)甲丁。
- 12、第一次世界大戰的爆發，其主要原因是什麼？(A)共產主義的擴張 (B)新帝國主義國家的擴張 (C)德、奧間的領土衝突 (D)國際聯盟喪失維持世界和平的能力。
- 13、「時勢造英雄，英雄造時勢」，在19世紀的歐洲，下列何組人物為國家統一的功臣？(A)拿破崙、梅特涅 (B)俾斯麥、梅特涅 (C)拿破崙、凱末爾 (D)加富爾、俾斯麥。
- 14、無尾熊上網蒐集有關國際聯盟的資料，哪一項是正確的？(A)1920年在瑞士日內瓦正式成立，會員國包括美國在內 (B)1931年九一八事變爆發後，國聯隨即出兵支援中國抵抗日本的入侵 (C)國際聯盟是美國總統羅斯福為維護世界和平的崇高理想，而成立的國際組織 (D)國際聯盟威信日趨低落的原因之一是無法有效制裁破壞和平的侵略國家。
- 15、西元1914年，奧匈帝國王儲斐迪南夫婦在哪個地方遇刺身亡，而引發了第一次世界大戰？(A)塞爾維亞 (B)塞拉耶佛 (C)塞拉維西 (D)保加利亞。
- 16、附圖是第一次世界大戰前歐洲形勢圖。請問：哪一組國家是『三國同盟』？



- (A)甲乙丁 (B)丙戊己 (C)乙丁己 (D)甲丙戊。

17、小融融上臺報告日耳曼統一的經過：維也納會議後成立日耳曼邦聯，後來(甲)由薩丁尼亞王國領導，成立關稅同盟，達成(乙)軍事上的統一，1862年威廉一世任用(丙)俾斯麥為首相，推動政治統一，1870年發生(丁)普奧戰爭，次年完成統一建國。其中有幾項是正確？(A)一項 (B)二項 (C)三項 (D)四項。

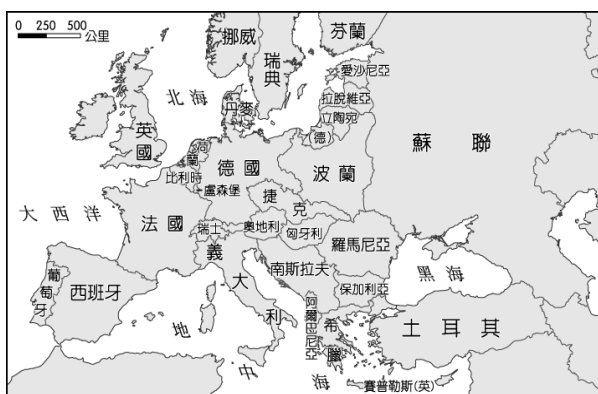
18、19世紀，義大利和日耳曼統一運動，皆完成於哪一場戰役？(A)普法戰爭 (B)普奧戰爭 (C)丹麥戰爭 (D)薩奧戰爭。

19、1919年，一次戰後進行協議，由於內容影響到中國的權益，因此中國內部發生了一場大運動。請問：此運動是？(A)新生活運動 (B)五四運動 (C)新文化運動 (D)維新運動。

20、圖(一)與圖(二)為不同時期的歐洲各國的形勢圖，相比之下圖(二)中出現許多新興國家。圖(一)轉變為圖(二)是由於下列哪一事件的發生？



圖(一)



圖(二)

(A)普法戰爭結束 (B)新帝國主義興起 (C)第一次世界大戰結束 (D)拿破崙解散神聖羅馬帝國。

21、一次大戰中，中國也加入戰局，是哪一個人的主導？(A)袁世凱 (B)黎元洪 (C)張勳 (D)段祺瑞。

22、寫實主義是19世紀文藝發展主要派別之一，其興起背景為何？(A)科學革命 (B)工業革命 (C)美國獨立 (D)啟蒙運動。

23、呈上題，下列哪一作品與寫實主義有關？

(A)《雙城記》 (B)《印象·日出》 (C)《英雄交響曲》 (D)《星夜》。

24、他在參加一次叛變中失敗，被判死刑，後來脫

逃到南美洲，多次參加當地的革命戰爭。1848年回到義大利組織義勇軍，後來又組織紅衫軍，攻取了西西里島和那不勒斯。以上所述是下列何人的事蹟？(A)加富爾 (B)馬志尼 (C)加里波底 (D)伊曼紐二世。

25、淇淇老師將日本的重大的歷史事件寫在黑板上(如下圖)。請同學依時間寫出其順序。

甲：黑船事件  
乙：明治維新  
丙：幕府時代  
丁：大政奉還

(A)甲→丁→乙→丙 (B)乙→丙→甲→丁 (C)丙→甲→丁→乙 (D)丙→丁→乙→甲

26、原本四分五裂的義大利與日耳曼在19世紀中期完成統一，這是因為他們把兩大障礙國逐出國內。請問：這兩國為何？(A)法國、丹麥 (B)法國、奧國 (C)法國、教皇國 (D)奧國、西班牙。

27、阿嘉終於如願以償到歐洲旅行，當他佇立在凡爾賽宮門外時，不禁想起這國舉世聞名的宮殿，在第一次世界大戰後，戰勝的國家曾在此簽訂對哪一戰敗國的條約？(A)德國 (B)俄國 (C)義大利 (D)日本。

28、呈上題，戰後，三巨頭在這個國家召開巴黎和會，請問以下何者不是三巨頭代表？

(A)勞合喬治 (B)羅斯福 (C)克里蒙梭 (D)威爾遜。

29、在？之後，貧富差距大，產生出社會問題，有關一些勞苦大眾的題材，成為某些作品的對象。以下哪一人物的作品展現出這樣的問題。

(A)米勒 (B)歌德 (C)貝多芬 (D)拜倫。

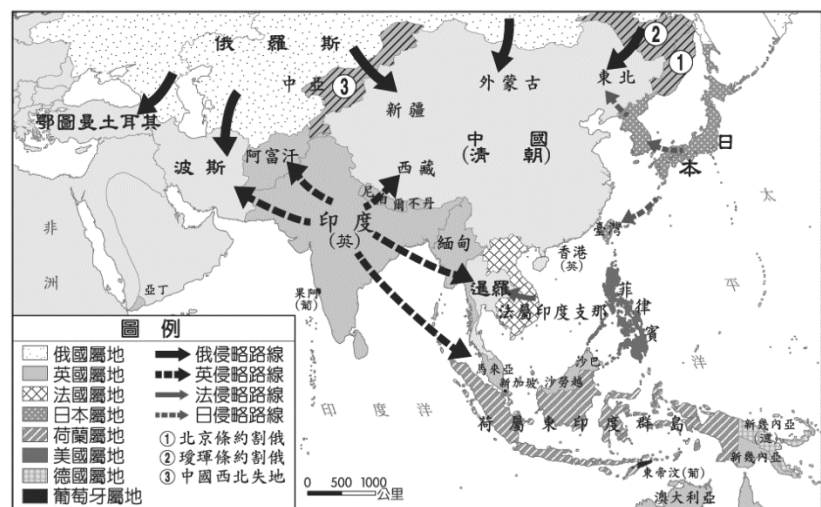
30、小趙在閱讀一場結束於1918年的戰爭資料時，見到一段文字：「(甲)1915年6月，(乙)波蘭王儲斐迪南夫婦，(丙)被塞爾維亞民族主義者暗殺身亡，隨後，(丁)奧國和塞爾維亞發生衝突，(戊)第二次世界大戰戰火於是蔓延開來……。」請問：這段文字中哪幾處有誤？(A)甲乙丙 (B)乙丙丁 (C)丙丁戊 (D)甲乙戊。

31、1917年初，第一次世界大戰期間，德國欲先行制伏英國結束戰爭，於是參謀總長魯登道夫提出建議，主張無限制使用潛艇，打擊聯軍海上運輸。德國採行這樣的政策所導致的結果為何？(A)英國退出戰場 (B)美國參戰 (C)俄國退出戰場 (D)義大利參戰。

32、19世紀時，巴爾幹半島陸續有許多國家獲得獨立，但和平卻仍未降臨於這片土地，反而由於下列哪一因素讓巴爾幹半島成為「歐洲火藥庫」？

(A)位於歐洲的中心位置 (B)美國極力介入歐洲

事務 (C)列強的干預 (D)拜占庭帝國的控制。  
33、附圖為西元 19 世紀列強侵略亞洲示意圖。俄國是中國北方的強鄰，長久以來覬覦中國的東北、外蒙、新疆等地，近代俄國利用哪一場戰事，迫使中國放棄圖中①的領地？



- (A)日俄戰爭 (B)中法戰爭 (C)英法聯軍  
(D)八國聯軍。  
34、呈上題，這場戰爭發生於清朝哪一皇帝？  
(A)乾隆 (B)道光 (C)咸豐 (D)同治。  
35、呈 33 題，這場戰爭對台灣有何影響？  
(A)茶葉成為台灣輸出的重要商品 (B)鴉片禁止輸入台灣  
(C)禁教 (D)淡水、打狗禁止輸入商品。

二、整合題 每題 2 分 共 30 分  
(一)義大利因為封建制度的影響，一直無法建立中央集權的近代政府，長期受到鄰近強權國家的支配，直到 19 世紀終於建國。請問：  
36、義大利統一運動中「他是游擊戰的領導人及真正的愛國者，願意放棄個人利益，把征服得來的土地交予皮德蒙·薩丁尼亞王國。」上文中的「他」是指下列何者？ (A)馬志尼 (B)伊曼紐二世 (C)加富爾 (D)加里波底。  
37、有一位人物早年參加過「燒炭黨」，曾入獄服刑，後來逃亡到法國，成立「青年義大利黨」，他不只致力於義大利的統一，且希望建立民主共和的國家。上文所述是指下列何者？ (A)馬志尼 (B)加富爾 (C)加里波底 (D)伊曼紐二世。  
38、義大利統一於哪一年？(A)1971 (B)1970 (C)1871 (D)1870。

(二) 圖(一)及圖(二)分別是歐洲兩個不同時代的疆域圖。請問：



圖(一)



圖(二)

- 39、由圖(一)演變至圖(二)的主要因素是什麼？  
(A)拿破崙戰爭 (B)普法戰爭 (C)第一次世界大戰 (D)第二次世界大戰。  
40、由圖(一)演變至圖(二)，是哪一次國際會議的決議？ (A)巴黎和會 (B)維也納會議 (C)柏林會議 (D)日耳曼會議。  
41、由圖(一)演變至圖(二)，反映了下列哪一種重要的時代思潮？ (A)帝國主義 (B)民族自決 (C)姑息主義 (D)孤立政策。

(二)中南美洲從 16 世紀起，大部分的土地就淪為歐洲列強的殖民地，數個世紀下來，該區在語言、宗教、文化和生活習慣等方面，呈現拉丁美洲色彩。請問：  
42、拉丁美洲各國最後能夠脫離歐洲殖民母國，獨立建國，主要受到哪些國家的支持？ (A)葡萄牙、西班牙 (B)英國、美國 (C)英國、法國 (D)德國、義大利。  
43、下列何者不是拉丁美洲獨立的背景？ (A)啟蒙運動思想的影響 (B)美國獨立成功 (C)法國大革命 (D)工業革命。

(三) 附圖是第一次世界大戰前夕歐洲形勢圖。請問：



- 44、大戰的導火線爆發於哪一組國家的衝突？  
 (A)乙壬 (B)乙丙 (C)丙壬 (D)乙丁。
- 45、大戰期間，哪一國因國內發生革命而退出戰場？ (A)己 (B)庚 (C)辛 (D)壬。
- 46、大戰爆發初期，哪一個國家倒戈到協約國？  
 (A)庚 (B)丁 (C)甲 (D)乙。
- 47、交戰雙方在西線的戰場形成壕溝戰，協約國在西線的主力國家為何？ (A)甲丁 (B)乙丁  
 (C)乙庚 (D)丙辛。
- 48、戰後，在哪裡召開會議？ (A)甲 (B)丁  
 (C)戊 (D)乙。

(四) 位於塞爾維亞及阿爾巴尼亞之間的科索沃，今日仍是宗教、種族複雜之地，在 15 世紀後期被「帝國」占領後，改信伊斯蘭教的阿爾巴尼亞人陸續遷入，與當地信奉不同宗教的各族群和平相處。但 19 世紀以來，科索沃民族主義高漲，因種族、土地等問題，屢屢出現紛爭。1990 年代後期，塞爾維亞政府在當地對阿爾巴尼亞人進行種族屠殺，導致許多難民逃離科索沃，棲身於鄰國的難民營。當時，為了讓難民能擁有歡笑時光，馬戲團小丑所組織的「無國界小丑」，義務到這些難民營製造歡樂，他們跨越語言藩籬，將歡笑帶至難民營。

- 49、文中的「帝國」應是指下列何者？ (A)東羅馬帝國 (B)亞歷山大帝國 (C)神聖羅馬帝國  
 (D)鄂圖曼土耳其帝國。
- 50、文中所提科索沃位於附圖中的甲、乙、丙、丁何區？



- (A)甲 (B)乙 (C)丙(D)丁