

一、單一選擇題：（每題2分）

- 臺灣的史前文化可分為舊石器時代、新石器時代、金屬器時代。」請問，上述不同時期的畫分依據為何？(A)器物的製作(B)文字的有無(C)語言的發展(D)貨幣的材質。
- 在臺灣有許多不同族群共同生活，而原住民雖然人數較少，但因分布區域、傳統文化等方面的不同，可再分為平埔族和高山族各族。請問，有關平埔族和高山族各族之間異同的比較，下列敘述何者有誤？(A)皆屬於南島語系的民族，在外來族群移入時已有一套文字系統(B)前者居住在平原地帶，後者多居住在山區或東部地區(C)前者較後者漢化程度深(D)前者有凱達格蘭族，後者有鄒族。
- 1597 年，有一封呈報給國王的信中寫到：「我們希望占領福爾摩沙的這個港口，最迫切的理由是為了確保菲律賓的安全。因為……日本企圖奪取這個港口以進占馬尼拉，我們要確保菲律賓的安全就必須擁有這個港口。」由上述背景判斷，這封書信最有可能是呈報給哪一國國王？(A)荷蘭(B)西班牙(C)葡萄牙(D)英國。
- 鄭氏時期在臺灣實行軍屯制度。請問：此種制度的基本精神為何？(A)兵民合一(B)寓兵於農(C)兵農分籍(D)寓民於兵。
- 鄭氏時期，對外貿易是鄭氏勢力發展的根基。請問，此時臺灣對外貿易的對象為何？(甲)中國 (乙)日本(丙)東南亞 (丁)荷蘭東印度公司 (戊)英國東印度公司。(A)甲乙丙(B)甲乙丙丁(C)甲乙丙戊(D)甲乙丙丁戊。
- 在清帝國時期的臺灣地方縣志中，常可看到以「生番」、「熟番」的名詞來稱呼原住民。請問，當時清朝政府區分生、熟番的標準為何？(A)以種族血統來區分(B)居住地區的不同(C)打獵或農耕的生活型態(D)是否歸順朝廷。
- 關於臺灣史前人類生活想像圖，以下哪一景象最能表現出臺灣新石器時代文明的特色？

(A)



(B)



(C)



(D)



- 因新冠肺炎疫情的影響，今年國內旅遊非常熱門，小愷利用暑假和家人前往澎湖旅遊，在天后宮看到一塊石碑，上面寫著「沈有容諭退紅毛番韋麻郎等」等字。請問：碑上所指的「紅毛番」指的是下列何者？(A)英國人(B)葡萄牙人(C)西班牙人(D)荷蘭人。
- 16 世紀的臺灣為何成為國際競爭的重要據點？(A)歐洲人稱呼臺灣為「福爾摩沙」(美麗之島)，使得臺灣聲名大噪(B)臺灣島上並無統一政權，各國都想掠奪臺灣的礦產資源(C)臺灣的地理位置恰好位於東亞國際貿易航線的中央(D)臺灣島內農產豐富，具有高度的經濟價值。
- 約四百年前，清廷將高山族稱為「生番」；到了日治時期改稱為「高砂族」；而到了中華民國時期，則稱為何者？(A)平埔族(B)熟番(C)高砂族(D)山地同胞。
- 以下是甲、乙兩方簽訂投降和約的內容摘要，請根據乙方撤走的條件內容分析，乙方在亞洲的根據地位於今日的哪一國家？(A)澳門(B)菲律賓(C)印尼(D)新加坡。

一、乙方應將熱蘭遮城堡以及一切物資和金錢等屬於某公司之財產，全部移交給甲方。

二、乙方自臺灣至巴達維亞城途中所需之糧食、日用品、自衛用槍彈火藥等得報備後裝船載走。

三、甲方需於八至十日內遣返或釋放俘虜。未受甲方拘禁之乙方人民，於未離臺前得安全通行。

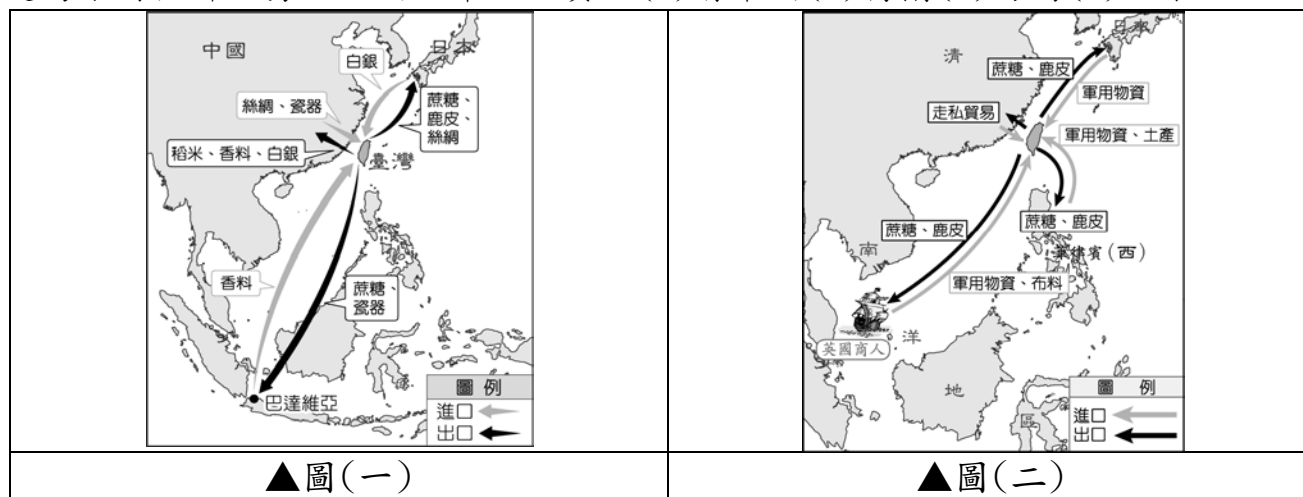
- 以下為有關「大馬璘文化」的介紹：「大馬璘遺址位於南投縣埔里鎮愛蘭里，1900 年由日本人類學家鳥居龍藏發現，是當時知名的史前臺灣遺址之一。……一百多年來，大馬璘遺址曾經過多次考古挖掘，出土了石板棺墓葬、礫石排列的建築結構，以及大量的石器、陶器等史前遺物，……但是近 50 年來，遺址上陸續興建了許多房屋，已經造成嚴重的破壞。」請從上述內容判斷，「大馬璘文化」最可能與下列哪一史前文化屬於同一時期？(A)長濱文化(B)十三行文化(C)卑南文化(D)網形文化。
- 新航路發現後，歐洲人為獲取亞洲的物品，紛紛東來。葡萄牙人、西班牙人分別占領何地為據點？(A)澳門、巴達維亞(B)澳門、馬尼拉(C)香港、巴達維亞(D)麻六甲、馬尼拉。
- 位於淡水河的十三行文化距今約二千～四百年前，已有煉鐵技術，以鐵器為生產工具，屬於臺灣史前的鐵器時代。十三行文化人類雖然會使用鐵器，但仍以農業、漁獵維生，由於他們的生活技術進步，因此也發展出較大的部落。請根據他們活動的範圍來判斷，十三行文化因與下列哪一族人範圍相近，而被視為可能是其祖先？(A)賽夏族(B)泰雅族(C)凱達格蘭族(D)西拉雅族。
- 小玲與朋友利用中秋連假時到臺東進行深度旅遊，這次的旅遊行程中，他們特別安排參觀歷史老師在課堂上介紹過的臺東當地的遺址公園。小玲和朋友如果想先了解此一遺址的史前文化，可以上網查閱哪一個相關資料？(A)圓山文化(B)卑南文化(C)蔦松文化(D)牛罵頭文化。

16. 下列哪一機構對 17 世紀臺灣的糖業發展極具貢獻，並主導當時臺灣的進出口貿易？(A)英國聯合東印度公司(B)荷蘭聯合東印度公司(C)西班牙聯合東印度公司(D)葡萄牙聯合東印度公司。
17. 小惠參加一場演講會時，主講老師介紹有關臺灣歷史的發展，請根據右圖判斷，主講老師的演講主題應該是下列何者？(A)鄭成功攻臺的原因(B)鄭經西征的原因(C)鄭成功北伐的原因(D)鄭成功實行軍屯的原因。

解決軍糧問題、保障漢人安全、促進農業發展。




18. 圖(一)、圖(二)分別為臺灣 17 世紀前期、後期的對外貿易圖。對照兩張不同時期的對外貿易圖，發現圖(二)的進口商品中出現了軍用物資，請根據臺灣歷史發展加以判斷分析，當時是為了對抗哪一勢力而進口軍用物資？(A)清帝國(B)荷蘭(C)海商(D)日本。



19. 根據目前已找到的出土文物，我們發現這個文化最大的特色為貝塚，裡面的貝類有烏蜆、牡蠣、窗貝等，所以可以確定當時臺北湖為一鹹淡交雜的湖泊；又從中找到農業及畜牧的痕跡。請問，這個文化可能是哪一個時代的文化？(A)舊石器時代(B)新石器時代(C)鐵器時代(D)青銅器時代。
20. 荷蘭東印度公司總督曾說過：「臺灣真是一頭好乳牛」。這句話表示臺灣為他們公司帶來相當大的利益。下列哪些是 17 世紀時荷蘭人所輸出的「臺灣特產」？甲、香料；乙、稻米；丙、鹿皮；丁、蔗糖。(A)甲乙丙丁(B)乙丙丁(C)甲丙丁(D)甲乙丁。

※ 構樹，在臺灣俗稱鹿仔樹；2015 年臺灣大學與智利共組的研究團隊分析世界各地構樹基因，發現西太平洋各地的構樹起源於臺灣。臺灣與太平洋上的各個原住民族都會取其樹皮，經拍打搥氈製成「樹皮布」，雖然現在樹皮布的實用價值已被紡織布取代，但樹皮布在其傳統祭典儀式中仍有重要象徵意義。上述研究結果認為構樹隨著民族遷徙而傳播，而證實其文化出自臺灣的源起假說。**請回答 21~22 題：**

21. 上文提及的研究中，利用太平洋構樹可證實哪一族群的遷移？(A)南島語族(B)南亞語族(C)印歐語族(D)漢藏語族。
22. 研究團隊調查民族遷徙的區域應該不包括下列何處？(A)復活節島(B)菲律賓(C)印尼(D)澳大利亞。
23. 大航海時代，許多西方國家紛紛東來，其中 17 世紀時最早在大員登陸且築城的是下列哪一國人？(A)葡萄牙人(B)西班牙人(C)荷蘭人(D)英國人。
24. 中國歷史上的統治政權（王朝）曾因不同目的，而多次實行「海禁政策」。請問：明朝及清初實行海禁政策分別是為了防範哪些對象？(A)荷蘭、鄭氏(B)倭寇、荷蘭(C)倭寇、鄭氏(D)西班牙、日本。
25. 17 世紀前期，漢人海商掌握臺灣與中國東南沿海貿易，也與進入東亞的歐洲勢力維持一定的合作關係。其中最重要，並曾招募漢人開墾雲林、嘉義一帶的是下列何人？(A)鄭芝龍(B)李旦(C)沈有容(D)施琅。
26. 阿興的歷史課分組報告題目是「大坌坑文化」，他蒐集了許多資料，但因為粗心大意，只有一項可用於報告內容。請問，他所蒐集的資料中只有哪一項可用？(A)生活在花東縱谷(B)與其他地區有貿易往來(C)使用鐵器(D)已有農耕技術。
27. 17 世紀前期，日本德川幕府因見識到西方火槍的威力，認為西方武器將會破壞日本穩固的社會階級，再加上天主教傳教士多次在日本製造事端，因此德川幕府頒布政策，禁止其人民到海外貿易，並只准荷蘭與中國商人在長崎進行貿易。請問：文中日本德川幕府頒布的政策為何？(A)海禁政策(B)鎖國政策(C)南進政策(D)西向政策。
28. 小好參加社區舉辦的臺南古蹟之旅，右圖是她參觀某一古蹟時，導遊的解說內容。請問，根據圖中的解說內容判斷，這座古蹟最初的名稱為何？(A)聖薩爾瓦多城(B)普羅民遮城(C)熱蘭遮城(D)聖多明哥城。

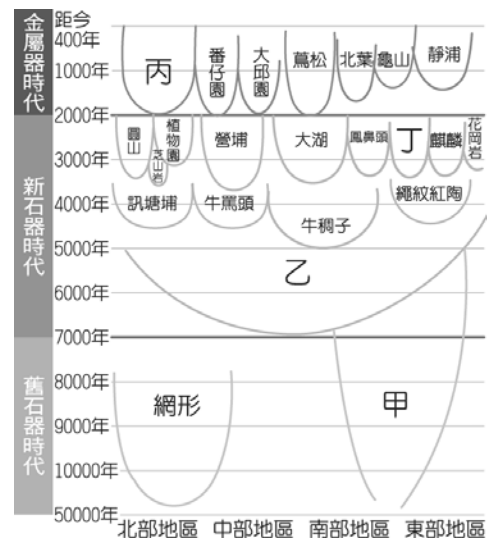


29. 地名，不僅是對某地的稱呼而已，很多時候它也是歷史的縮影，代表著一個地方的開發史，其背後隱藏著包羅萬象的意義。下列臺灣古今地名的配對，何者正確？(A)熱蘭遮城—赤崁樓(B)雞籠—宜蘭(C)蛤仔難—基隆(D)大員—臺南安平。
30. 新石器時代人類的生活型態發展出許多重大的變革，因而被稱為「新石器革命」。請問，此時期對人類有何重要意義？(A)開始使用文字，明確記載當時人們的各種活動(B)發展嚴密的軍事及國家組織，保障群體的安全(C)已知用火取暖、照明與熟食，使生命得以延長(D)進入農業產食階段，人們開始有餘暇從事文明創造。
31. 右圖是小誠在某本書上看到的一幅地圖；若根據地圖內容所呈現的資料判斷，此書的書名最有可能是下列何者？(A)《圖說大坌坑文化》(B)《氣候變遷下的熱帶雨林》(C)《南島語族的歷史》(D)《中華文化的傳播》。
32. 17 世紀西班牙人來臺灣時，除了占領今日的淡水、基隆以外，還占領了今日的何地？(A)宜蘭(B)新竹(C)桃園(D)苗栗。
33. 承上題，當時西班牙人攻佔這些地方的目的為何？(A)方便開採臺灣的煤礦(B)牽制荷蘭勢力及做為與中國、日本貿易的據點(C)建立太平洋區的漁業據點(D)探勘附近海域的石油。
34. 續承第 32 題，後來西班牙人減少駐臺守軍的原因是？(A)明朝政府派遣軍隊將之驅離(B)荷蘭人出兵北上將之打敗(C)日本實施鎖國政策導致原先計畫受挫(D)西班牙國內爆發革命，無暇顧及東亞事務。
35. 某次颱風過後，在臺南市善化區發現史前文物，引起社會重視，該遺址裡也找到目前臺灣最早的稻米化石和數量龐大的繩紋紅陶、石刀、石斧等。請問：上文中的遺址應是下列何者？(A)靜浦(B)網形(C)十三行(D)南關里。
36. 有一本歷史書籍記載：「鄭成功來臺灣經營，帶來很多士兵及眷屬，為解決糧食問題而實施屯田制度，今天可以從臺灣南部地區的地名，看出屯田的影子。」下列哪一個地名與屯田有關？(A)高雄市前金區(B)屏東縣車城鄉(C)高雄市美濃區(D)臺南市林鳳營。

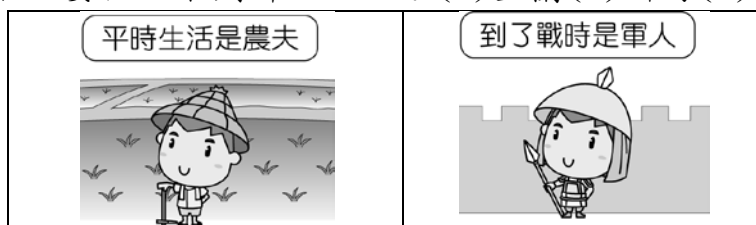


※ 右圖為臺灣史前文化的時間與空間架構圖。請回答 37~39 題：

37. 依你所學的歷史知識判斷，圖中「甲」文化最有可能是何者？(A)卑南文化(B)長濱文化(C)大坌坑文化(D)十三行文化。
38. 阿維要寫一篇關於圖中「乙」文化生活的報告，為了符合歷史的正確性，下列哪一項內容不可以出現在報告中？(A)出現農業種植(B)製作陶器儲水(C)發現青銅刀柄(D)使用磨製石器。
39. 下圖是小雅在《圖說臺灣歷史》書中看到一篇漫畫如下；請問，此圖描繪的臺灣史前文化最可能是右圖中哪一個？(A)甲(B)乙(C)丙(D)丁。



40. 鄭氏政權是臺灣史上最早大規模建立漢人政治與文化制度的時期。鄭氏三代的統治者有：(甲)鄭經(乙)鄭克塽(丙)鄭成功；請問，若按照統治先後順序排列，下列何者正確？(A)甲乙丙(B)丙甲乙(C)丙乙甲(D)乙丙甲。
41. 附圖為《漫畫臺灣歷史》中的一幅漫畫，圖中的人實際上是由廈門來臺的漢人軍隊，他們採取自耕自食的方式生活，目前臺灣仍保有許多和此拓墾方式相關的地名。請問：目前臺灣仍保有許多和此拓墾方式相關的地名，這些地名主要位於下列哪一地區？(A)宜蘭(B)新竹(C)臺南(D)南投。

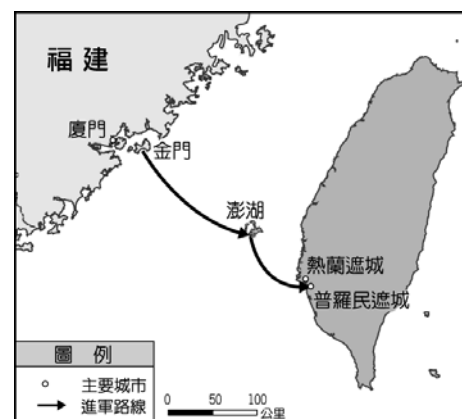


42. 「17世紀時，日本曾對外國人進行管控與限制，主要的內容有：甲、禁止日本船出海貿易以及與海外人士往來。乙、取締天主教的傳教活動。丙、監視駛抵日本的外國船隻，並嚴格管控貿易活動。這段期間，日本政府雖禁止外國對日貿易，但是□□、中國可至指定港口長崎進行貿易。」根據上述內容判斷，□□應為下列何者？(A)美國(B)英國東印度公司(C)荷蘭東印度公司(D)葡萄牙。
43. 在十三行文化遺址中，出土了瑪瑙珠、玻璃製品，以及其他質料的珠子，還發現金飾、鍍金青銅碗、銀管飾物、銅刀柄、銅碗、銅鈴、銅幣等來自於南洋或中國的外來物品。根據上述所提及的內容，我們可以做出何種正確的推論？(A)該文化與其他地區有貿易往來(B)十三行遺址屬於新石器時代的文化(C)此時期已進入歷史時代(D)十三行文化具有國家的規模。
44. 臺灣玉盛產於花蓮縣壽豐鄉豐田村荖腦溪上游，經過地質學者鑑定，發現它其實是閃石家族中的一員，其特有的結晶方式讓它很好辨認。而學者們發現東南亞史前遺址中經常可以看到臺灣玉的出土；請問：這在考古歷史上有何意義？(A)代表東南亞也有臺灣玉石礦開採(B)代表東南亞的地質特性與臺灣完全相同(C)代表臺灣不是南島語族的一環(D)代表臺灣與東南亞可能有貿易往來。
45. 17世紀時，臺灣曾被下列哪些國家占領？(甲)葡萄牙(乙)荷蘭(丙)日本(丁)西班牙。(A)甲乙丁(B)甲丙(C)乙丁(D)丙丁。
46. 「岸上，可耕、可獵、可漁；海上，日本、西班牙、荷蘭船，往來繁忙，漢人據鯤港（今北港），打劫海上行船為生。」根據史實分析，請問，上文中提及的「漢人」有可能是誰？(A)鄭成功(B)郭懷一(C)沈有容(D)顏思齊。

※ 右圖為臺灣史上某一場戰役的路線圖，將領搭船從金門出兵，算準季風風向讓臺灣本島上的殖民政權無法向其他地方傳達訊息。大軍上岸後立即包圍殖民政權的統治中心，使其因孤軍無援，城內糧食飲水用盡而投降。這場戰役的勝利也開啟臺灣史上第一個漢人政權治臺的局面。

請回答 47~50 題：

47. 上文中的「殖民政權」是指下列何者所建立的政權？(A)荷蘭人(B)西班牙人(C)葡萄牙人(D)英國人。
48. 上文中帶領軍隊打贏這場勝利的將領為下列何人？(A)施琅(B)鄭成功(C)沈有容(D)鄭經。
49. 承上題，此將領攻佔臺灣的原因為？(A)做為與南洋貿易的據點(B)欲將臺灣納入中國版圖(C)欲清除佔領東亞地區的歐洲國家勢力(D)做為反清復明的基地。
50. 上述所提到的臺灣史上第一個漢人政權治臺時期的結束，與下列何事最有直接的關係？(A)清廷派施琅攻臺(B)日本開港通商(C)美國派官員來臺進行協商(D)倭寇勢力再度興起。



溫馨小提醒

若還有剩餘時間，請再仔細看過題目並確認答案卡所畫記的班級、座號及答案