

# 嘉義市立北興國民中學 109 學年度第一學期第一次段考公民科試題甲

單選題：每題 2 分


- 1.( ) 人民是國家的組成要素之一，現代國家會透過法律的制定，來規定何人具有該國的國籍。如果以我國國籍法的規定及下列各敘述內容判斷，哪一個人目前最可能為中華民國國民？

(A)

(B)

(C)

(D)



我明年歸化後就有參選的資格。

小雅



我今年暑假要到大學就讀。

小莉



我在九合一大選投票給心中理想的候選人。

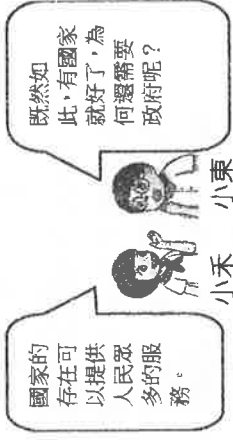
阿奇



我今年才從美國到臺灣的英語補習班擔任外語教師。

阿德

- 2.( ) 右圖是小禾和小東討論國家和政府關係的部分對話內容。若小禾要進一步回答小東的提問，則下列何項回答才正確？



- 3.( ) 民主國家在規畫具有爭議性的政策時，經常會透過舉行公聽會廣納民意，了解各方意見以作為決策時的考量。請問：此舉是展現出民主政治的何項特色？

- (A) 民意政治 (B) 法治政治 (C) 政黨政治 (D) 責任政治

- 4.( ) 仲恩和爸爸一起看電視新聞報導，聽到主播說：「民主國家的法律除了要求人民必須遵守，政府權力也應被約束外，必須要同等的對待人民與政府。」仲恩問爸爸：「主權這段話要闡述的意思是什麼呢？」請問：爸爸應如何回答才有貼近仲恩的提問？

- (A) 國家的權力極大，人民不遵守法律將會受到嚴厲的處罰  
(B) 無論政府或人民，都應該遵守法律規範才符合法治政治  
(C) 民主國家制訂政策時，應傾聽民意強調主權在民的理念  
(D) 政府施政若背離民意，相關人士應該負起責任辭職下臺。

- 5.( ) 右圖是小禾爸與小禾的談話內容。請問：

關於他們討論的事情與下列何項國家組成要素最直接相關？

- (A) 領土 (B) 主權 (C) 政府 (D) 人民。

- 6.( ) 來自美國的保羅在介紹其

國家構成的四個要素時，

提及右列所示的內容，

請你指出其所提出的內容

何者為國家組成要素？

- 7.( ) 蘇丹民眾與學生在該國的北柯多方省

(North Kordofan) 集會抗議物資短缺問題，不料有多人遭政府軍射殺，其中 4 人為中學生，對此不幸事件民眾再上街頭，譴責政府的殺戮行為。請問：上述政府射殺民眾的做法，明顯違反何項民主國家存在的目的？

- (A) 保障國家安全 (B) 維持社會秩序 (C) 保障基本人權 (D) 發展社會福利。

- 8.( ) 認真的廷宣正在製作公民課要報

告的簡報，簡報的相關重點條列

如下。請問廷宣要介紹的主題為

下列何者？

(A) 國家與政府之間的差異 (B) 國家提供的福利與權益 (C) 現代民主國家存在目的 (D) 民主政治應具備的特色。

- 9.( ) 孫中山獨創五權分立學說，使我國成為全世界唯一採用五權分立的國家。

下列何者最能用來說明孫中山將行政權與考試權各自獨立的理由？

(A) 考試權獨立有助於政府公正的聘用人才

(B) 避免行政機關把持行政權造成權力失衡

(C) 提高考試權的重要性避免立法權的專制

(D) 藉由行政權補足我國政府人力資源缺乏。

- 10.( ) 近年來，每到颱風季常常會帶來超大豪雨，有些低窪地方時常發生水患。我國中央政府提供各項治水經費給予地方政府使用，希望能從根本解決水患問題。若依我國相關法令，針對此筆經費的預算與決算審查機關，下列何人的說明是正確的？



司法院、行政院

(A)

(B)

(C)

(D)



行政院、立法院

小安



監察院、司法院

小微



立法院、監察院

阿彩



小禾爸

小禾

(A)


(B)

(C)

(D)




美國國旗



白宮



自由女神像



美國國歌

- 一、民主國家一切以民為主，人民是國家的主人。  
二、要有兩個以上政黨公平競爭，以形成政黨輪替。  
三、政府官員違法失職時要負起法律責任，接受法律的制裁。  
四、人民、政府皆要守法，除了政府要依法行政外，人民也要依法行政。

- 政黨輪替：透過選舉，當原本的執政黨失去執政權成為在野黨，而在野黨取得執政權變為執政黨時，就稱為政黨輪替。



以五權分立取代三權分立

(A)

(B)

(C)

(D)



11. ( )根據右列小禾與媽媽的談話內容判斷，如果小禾想對這件事情有更深入的了解，可在搜尋引擎查找下列哪一個關鍵字，最有可能找到相關內容？(A)監察院 (B)行政院 (C)立法院 (D)司法院。

12. ( )請根據下列對話內容判斷，當下哪一位最可能是立法院院長？

(A) 依芙：今天能得到總統的提名當上院長，首先要感謝我在擔任臺中地方法院法官時的同事的指導與協助……。

(B) 阿森：我在大學任教法律多年，後來受到總統的任命，才有今天當上院長的機會。

(C) 阿梅：我是來自全臺灣最南端選區的委員，感謝各位委員的支持，讓我取得院長席位。

(D) 大明：我來自務農的家庭，當上醫生後決定從政，努力通過國家考試，成為為民服務的公務員。

13. ( )右表為幸福國近幾年的中央政府總預算、刪減預算金額及刪減比例之資料。若依表中內容及我國中央政府職權判斷，下列敘述何者正確？(A)(甲)資料是由司法院提出，並交由監察院審核 (B)(乙)是經由監察院審查後，所做出的調整結果 (C)根據(丙)判斷，2020 年行政院可能提出覆議案 (D)未來執行以後，應做成決算交由考試院來審查。

單位：幸福幣

年度 (萬元)	(甲) 提出預算金額	(乙) 刪減預算金額	(丙) 刪減比例
2017	1,200,000,000	17,790,000	1.5%
2018	1,240,000,000	20,000,000	1.6%
2019	1,500,000,000	20,000,000	1.3%
2020	1,600,000,000	80,000,000	5%

14. ( )行政院為處理選舉與公投合併所產生的缺失，提出《公民投票法》修正草案。此草案須先交由立法院開會討論三讀通過，總統公布後，行政機關才能依法執行。從上述內容可見民主國家政府運作的何種概念？ (A)以民為主 (B)權力分立 (C)覆議流程 (D)政黨政治。

15. ( )我國政府為使司法審判更加透明，正積極檢討現行刑事訴訟制度，修法引進國民參與刑事審判。若依我國相關法令判斷，關於上述政策推動的過程，下列說明何者正確？ (A)此政策須交由立法院討論表決通過 (B)法案三讀通過後須交由司法院公布 (C)考試院舉辦考試決定國民參審名單 (D)行政院負責執行國民參與審判制度。

16. ( )右圖是兩個朋友間的對話，從對話內容可知，小莉參加的考試最可能是由下列何者所舉辦？ (A)教育部 (B)銓敘部 (C)考選部 (D)內政部。

□國民參與刑事審判：是指讓完全沒有審判專業知識、經驗的一般國民加入審判程序，參與聽訟、問案及最後判決形成的過程。

小莉：今天考試考得如何呢？

今年的專業科目我考得不錯，但我希望考選後，有機會分到教育部工作。

題組甲：請閱讀下列短文並回答問題。

某政府官員針對國內限塑措施的執行成效召開記者會表示如右：

臺灣被海洋垃圾包圍，八成海域可見海漂垃圾，塑膠比率達 66.3%。環保署於民國 91 年實施第一波限塑措施雖有初步成果，然而又在民國 95 年修正公告取消有店面餐飲業的管制，放寬限塑措施，未能持續改變民眾使用習慣，延宕塑膠袋禁用時程，再加上近 10 年國內塑膠袋整體生產及使用量不減反增，環保署明顯有疏失……。

17. ( )上述該名政府官員，最可能是下列何者？

(A)總統 (B)大法官 (C)考試委員 (D)監察委員。

18. ( )該名政府官員最可能行使何種職權？你是根據上文中哪一項理由來判斷？

(A)糾正 (B)糾舉 (C)彈劾 (D)審判。

題組乙：請閱讀下列短文並回答問題。

我國中央的民意代表在某政府機構中向行政官員表示，有些山村、原住民部落及偏遠地區可能因為基地臺建置關係，手機收訊不良，無法接獲防災資訊即時的通報服務，而這些地區往往可能是容易發生土石流與洪水的區域，必須儘早強化網路密度。行政官員表示將持續強化防災意識，也會將推動情形向各位代表報告。

19. ( )從上述短文判斷，這個事件最可能發生在哪一個中央政府機關？

(A)行政院 (B)立法院 (C)司法院 (D)監察院。

20. ( )從上述短文判斷，這位民意代表可能正在行使何種職權？請說明理由。

(A)報告 (B)審計 (C)糾正 (D)質詢。

21. ( )受西元 2020 年總統、國會大選的影響，政壇局勢可說是變化莫測，進入了多個政黨競爭執政的階段。除了舊有的民主進步黨、中國國民黨、時代力量、親民黨外，加上臺北市市長柯文哲的台灣民眾黨、視前總統陳水扁為精神領袖的一邊一國行動黨及前民視董事長郭倍宏的喜樂島聯盟，併稱為「新戰國七雄」。請問：此處強調的是民主國家的何項民主政治特色？

(A)民意政治 (B)法治政治 (C)責任政治 (D)政黨政治。

22. ( )我國的漁船常發生闖入日、菲等鄰國的專屬海域內捕魚，而遭到扣押。我國漁船被扣押，是因為其侵犯了臨近國家的何種國家組成要素？

(A)人民、主權 (B)人民、政府 (C)領土、主權 (D)政府、領土。

23. ( )蘇珊是美國籍人士，因為來臺灣工作而認識王先生，兩人結婚後生下女兒美玲。根據我國《國籍法》的規定，下列敘述何者正確？ (A)因為母親蘇珊是美國籍，所以美玲不能成為我國國民 (B)美玲必須透過歸化的方式，才能成為我國國民 (C)父親王先生是我國國民，美玲即是我國國民 (D)等美玲成年之後，才能選擇是否成為我國國民。

24. ( )大新因為不滿政府的農業政策，未經申請即召集大批人馬在行政院前遊行，並且丟雞蛋抗議，警方勸阻無效後依法處理。警方所採取的行動，展現現代民主國家的何種目的？

(A)發展社會福利 (B)保障基本人權 (C)保衛國家安全 (D)維持社會秩序。

25. ( )新聞報導：「總統率團展開外交出訪行程，前往中美洲友邦巴拿馬參加新任總統就職典禮，並將順道訪問另一個友邦薩爾瓦多。」上述總統的外交出訪行程，主要落實了何項國家組成目的？ (A)保障基本人權 (B)保衛國家安全 (C)發展社會福利 (D)維持社會秩序。

26. ( )某學者：「言論自由是按照自己的意願，可以在公共領域自由的發表言論，以及聽取他人陳述意見的權利。它通常被認為是現代民主社會中一個不可或缺的概念，在這概念下，人民的言論不應該被政府不當的限制與侵害。」由上述內容判斷，它在強調哪一方面的國家功能？ (A)保障基本人權 (B)維持社會秩序 (C)保衛國家安全 (D)發展社會福利。

27. ( )在民主國家中，政府的政權會因選舉結果而有所更替。故各國對於政權交接皆有其規定。例如：美國制定《總統交接法》，歷年來美國前後任總統即是根據這項法律進行交接，為期約二個半月。而法國則設有獨立的三個檔案管理局管理政府檔案，不受一般行政部門管轄，在檔案法保護下，法國政府施政經驗得以傳承，也有利新舊政府交接。關於上述各國政府的作法，其主要目的為何？ (A)透過法令制定，確保新政府順利取得國家統治權 (B)避免政府的更迭，進而影響國家對外主權的獨立性 (C)確保政府統治權的來源是以執政者的利益為考量 (D)確保政府更替的過程不會影響該國在國際上的地位。

28. ( )新聞報導：「索馬利蘭位於非洲之角，於西元 1991 年索馬利亞內戰後宣布獨立，但目前仍然尚未得到任何國家和國際組織的承認，世界各國普遍還是承認索馬利蘭為索馬利亞的一個州，如右圖所示。」由報導內容判斷，索馬利蘭爭取國家定位上呈現何種困境？ (A)政府的管轄區域無法遍及國家整體範圍 (B)國家組成形式未符合國際流程不予承認 (C)政府雖然擁有統治權但對外主權不被國際承認 (D)國家欠缺政府機關有效執行政策。

29. ( )右圖是我國歷屆總統大選得票率的變化圖。下列哪一項國家與政府關係的分析與該圖最為貼切？ (A)政黨輪替等同於國家主權的更替 (B)國家中的政府為一個持續性個體的組織 (C)政府執行國家事務的權力必須經過人民定期授權 (D)若無法進行民意表達，國家將無法持續。

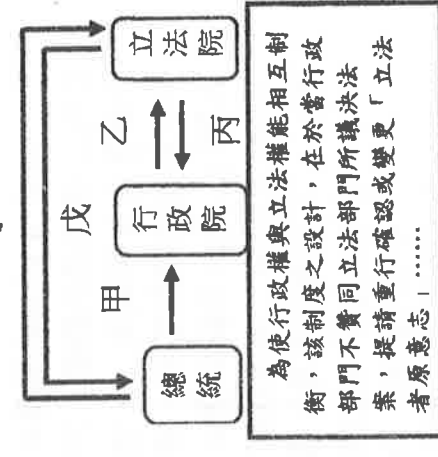
30. ( )老師在家庭作業中，交代同學將「三權分立」與「五權分立」加以比較。以下是明新整理的內容，其中何者正確？ (A)「三權分立」的三權是指行政權、司法權、監察權 (B)「三權分立」主張政府各部門要彼此監視與競爭 (C)「五權分立」將考試權與監察權獨立出來 (D)我國政府運作目前採用「三權分立」制度。

31. ( )下列是幸福國的新聞報導：「所謂『內舉不避親』，部分內閣官員聘用自己的親人擔任祕書職務，讓人質疑這是不是另一種自肥的現象。」若要避免上述流弊產生，可用何種政治理論來加以改善？ (A)直接民權 (B)三權分立 (C)五權分立 (D)民主制度。

32. ( )下列哪一個政府首長的主張，最符合他自己的身分？ (A)監察院院長：「我要為國家爭取進入聯合國。」 (B)司法院院長：「我希望將來可以推動租稅法案的修訂。」 (C)行政院院長：「我要求全國警察機關，全力改善國內治安。」 (D)考試院院長：「我會鼓勵委員主動調查是否有公務人員違法或失職，而予以彈劾。」

33. ( )在民主國家的政治運作過程中，國會(代表立法權)對內閣(代表行政權)若有所不滿，或不支持其繼續執政，則必須有一種機制可以導致內閣解散，以便重新改組。這種機制稱之為何？ (A)革命 (B)公民投票 (C)不信任案 (D)政黨輪替。

34. ( )阿忠上完公民課後，發現總統、行政院與立法院間的互動關係密切，因此他將重點整理成複習筆記，如下圖所示。請協助完成各項箭頭的行為描述，下列哪一項是錯誤的？ (A)甲是任命該院院長，戊是針對甲行使的人事同意權 (B)乙是該院去進行施政報告，丙是制衡此院的質詢權 (C)丙是提出不信任案，丁是針對此案通過後的解散權 (D)乙是該院彙編預算案，丙是針對此案進行的審查權。



35. ( )右圖是某學者的研究報告—根據內容判斷，該學者所說的制度是指下列何者？

(A)不信任案 (B)覆議 (C)彈劾 (D)罷免。

36. ( )民主國家為了避免政府的權力太大，侵犯到人民的權利，政府的組織與職權的設計都以「分權制衡」的概念為基礎。下列何項敘述即顯示出上述概念？

(A)行政院為我國最高行政機關 (B)立法委員是由人民選舉產生 (C)司法院設置大法官與各級法院 (D)立法院對總統提名的官員行使同意權。



題組 丙：

小蘇看到新聞報導：「立法院院會即將開議，立法院院長指出，預計立法院會順利完成考試院、監察院正、副院長及委員同意權行使。」請回答下列問題：

- 37.( )立法院院長是以下列何種方式產生？  
(A)人民直接選舉 (B)總統直接任命 (C)總統提請立法委員任命 (D)立法委員互選。
- 38.( )考試院、監察院正、副院長及委員是由下列何者所提名？  
(A)總統 (B)行政院院長 (C)司法院大法官 (D)司法院院長。
- 39.( )除了行使同意權之外，下列何者屬於立法院的職權？  
(A)審核決算 (B)審查預算 (C)罷免行政院院長 (D)審議懲戒公務人員案件。

題組 丁：

針對「倒閣」與「解散國會」相互監督制衡模式，依我國《憲法增修條文》第3條第3款，內容摘要如下：「立法院得經全體立法委員1/3以上連署，對行政院院長提出不信任案。不信任案提出72小時後，應於48小時內以記名投票表決之。如經全體立法委員1/2以上贊成，行政院院長應於10日內提出辭職，並得同時呈請總統解散立法院。不信任案如未獲通過，一年內不得對同一行政院院長再提不信任案。」請回答下列問題：

- 40.( )我國目前立委席次為113席，根據《憲法增修條文》的規定，若立法院要通過對行政院院長的不信任案，至少須有多少名立委投贊成票才會通過？ (A)50 (B)57 (C)75 (D)113。
- 41.( )下列何者不屬於行政院與立法院的互動？ (A)行政院院長向立法院提出施政方針及施政報告 (B)立法院決議的法律案窒礙難行，由行政院提出覆議 (C)立法委員對行政院各部會首長提出質詢 (D)行政院執行預算，做成決算，交立法院審核。

題組 戊：以下對話是某立法委員針對醫護人員在新冠肺炎防疫期間禁止出國一案質詢○○院長的部分內容：

- 42.( )上述立法委員質詢時提出「若要限制人民任何行為，都要有法源依據」，此最能說明民主政治的何項特色？  
(A)民意政治(B)法治政治(C)責任政治(D)政黨政治。

- 43.( )文中答復立法委員質詢的院長，應為下列何者？  
(A)行政院院長 (B)立法院院長 (C)司法院院長 (D)監察院院長。

題組 己：

西元2020年我國舉行總統大選，民主進步黨的蔡英文贏得勝選，隨即組成執政團隊，並由行政院院長宣布內閣名單，共同開創新局面。請回答下列問題：

- 44.( )關於總統的敘述，下列何者正確？ (A)由人民直接選舉產生 (B)任期6年 (C)總統、副總統的罷免案由人民直接提案 (D)立法院合議審理總統、副總統的彈劾案。
- 45.( )關於行政院院長的產生方式，下列敘述何者正確？ (A)由人民選舉產生 (B)由總統直接任命 (C)由總統提請立法院同意後，再由總統任命 (D)經由考試院考選。
- 46.( )行政院副院長與各部會官員，是經由下列何種方式產生？ (A)由總統直接任命 (B)由行政院院長提請總統任命 (C)由總統提請立法院同意及任命 (D)經由國家考試錄取。

題組 庚：

我國中央政府權力分配，採取孫中山「五權分立」的理論，各權力之間彼此相互制衡，其中又以行政院與立法院的分權制衡關係最為顯著，但其他各機關也存在著相互約制的關係。下列為五院間的互動情形，請選出正確的選項。

- 47.( )立法委員可以對哪些總統提名的重要官員行使同意權？ (甲)大法官 (乙)行政院院長 (丙)司法院正、副院長 (丁)考試委員 (A)甲乙丙丁 (B)甲乙丙 (C)甲丙丁 (D)甲丙。
- 48.( )當立法院制定的法律有違憲之虞時，由下列何者加以解釋、釐清？ (A)司法院大法官 (B)考試院考試委員 (C)行政院政務委員 (D)立法院院長。

題組 辛：

南韓N號房新聞事件引起國際關注，嫌犯誘騙受害女子提供私密照片，脅迫這些受害者拍攝不雅影片，並將影像上傳至通訊軟體，供付費會員觀看。南韓民眾對此案件感到震怒，紛紛湧入青瓦臺的請願連署網站要求「公開嫌犯照片和個資」，並創下超過300萬人連署的紀錄，首爾警察廳長回應：「大眾對於犯罪者有知的權利，同時也能預防類似犯罪，會就請願案審慎做出決定。」

臺灣的公共政策網路參與平臺也同步出現「修法嚴懲製造、散布、持有性剝削影像者，別讓臺灣重演南韓N號房事件」的提案，希望政府重視數位科技衍生的新興性別暴力犯罪，加強修法遏止類似事件在臺灣發生。

- 49.( )文中提到的青瓦臺請願連署系統以及臺灣的公共政策網路參與平臺，促使政府知道目前社會輿論最關注的事件並且即時做出回應，這最能說明民主政治的何項特色？  
(A)民意政治 (B)法治政治 (C)責任政治 (D)政黨政治。
- 50.( )當南韓發生N號房事件時，我們也趁此機會反思臺灣在立法規範上是否有所不足，若相關的修法通過，必須經過下列何者公布，始生效力？ (A)總統 (B)大法官 (C)立法院長 (D)行政院長。

