

一、題組（每題 2 分，共 20 題 40 分）

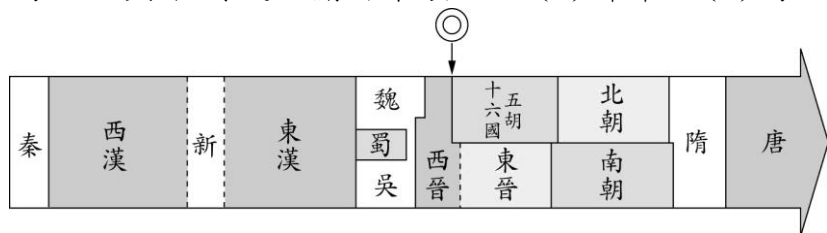
2020 年因為武漢肺炎全球肆虐，導致世界旅遊業幾乎呈現停擺的狀態，立誠很懷念能夠自由出國的日子，像前年他跟女友就去了日本的京都、奈良…等城市，那時真是浪漫…

1. () 立誠跟女友參訪了日本奈良的東大寺，覺得寺廟的建築結構與中國寺廟相似，是因為仿照中國哪個朝代的建築？ (A)周朝 (B)漢朝 (C)清朝 (D)唐朝。
2. () 立誠跟女友走在日本的街道上，看到一個廣告看板，上面出現了中文「無料」兩字，兩人還一起討論真正的涵義到底是什麼，可見日文文字受到中國文字影響甚深，下列關於日本文字的說法何者正確？
(A)片假名採漢字草書 (B)平假名採漢字小篆簡化
(C)為秦朝時與日本交流傳入 (D)片假名採楷書偏旁簡化。



立倫與瑜安最近迷上了一個新的線上遊戲「中國 PK 傳」，兩個經常半夜不睡連線組隊對戰，遊戲的內容呈現中國在過去歷史的發展中，與四周勢力的應對有不同的政策考量，請問：

3. () 立倫若想要破解第一關「中國漢代的主要外患，這個外患是來自哪個方位？又稱為什麼？」瑜安可以怎麼回答？
(A)西方，犬戎 (B)西北方，大月氏 (C)南方，羌 (D)北方，匈奴。
4. () 立倫發現，中國在唐太宗時代，國力強盛，對北方游牧民族的戰爭頗有進展，請問此北方民族應為下列何者？
(A)鮮卑 (B)匈奴 (C)羯 (D)東突厥。
5. () 第二關，因上述事件凸顯中國在唐朝時聲威遠播，西北各族酋長紛紛入貢以示歸順，並尊稱唐太宗為下列何者？立倫應回答？ (A)奧古斯都 (B)成吉思汗 (C)天王 (D)天可汗。
6. () 瑜安也發現，中國並非所有時期都如此強大，附圖中西晉演變成北方是五胡十六國，南方為東晉局面，與下列民族關係最密切？(A)鮮卑 (B)匈奴 (C)羯 (D)東突厥。



7. () 承上題，該事件胡人大舉南侵，攻入□□，將其劫掠一空，並俘虜了懷帝、王宮貴族等，人民的生命財產大受損失。」上文中提到的□□指的是哪個城市？
(A)北京 (B)洛陽 (C)南京 (D)長安。
8. () 承上題，該事件被稱為永嘉之禍的原因是？ (A)事件發生地點 (B)事件發生時帝王年號 (C)領導該事件的領袖名字 (D)事件發生時中國皇帝名字。

全球化 (globalization) 是世界觀、產品、概念及其他文化元素的交換，所帶來的國際性整合的過程。電信等基礎建設的進步，包括電報及之後網際網路的興起，都造成了全球化，以及在文化及經濟上互相影響。全球化一詞近年來變得流行，政府決策者、政黨領袖、工商界、學術界、工會領袖以至大眾傳媒無不談及全球化的影響及其如何改變現在人的生活。

9. () 全球化正在推倒各國疆界，使全球市場一體化，關於全球化的時間點，有學者認為這是一個現代觀念，也有學者認為在西元前兩千年左右就開始全球化，請問在 8 到 10 世紀的時間裡，中國哪個城市最能呈現全球化的樣貌？
(A)臨淄 (B)建康 (C)廣州 (D)長安。
10. () 呈上題，在 8 到 10 世紀時，中國文化遠披許多國家，這些國家接受中國文化，並與自身文化融合，形成類似全球化的概念，請問下列哪個國家並非當時中國文化影響所及？
(A)日本 (B)新羅 (C)安南 (D)大秦。
11. () 下列何者可以看出類似「全球化」的特色？ (A)分封諸王鞏固宗室 (B)中央集權設立郡縣 (C)尊王攘夷政策推行 (D)駱駝駝載胡、漢藝人演奏胡樂之唐三彩。

蟲尾平時喜歡閱讀古文，最近他讀到王安石的金陵懷古，其中寫道：「六朝舊事隨水流，但寒煙衰草凝綠，至今商女，時時猶唱，後庭遺曲。」，又讀到韋莊所寫的：「江雨霏霏江草齊，六朝如夢鳥空啼。無情最是臺城柳，依舊煙籠十里堤。」語意的描繪總讓他心神嚮往…

12. () 蟲尾發現兩位不同的作者，卻都提起了「六朝」一詞，請問六朝不包括以下哪一朝代？
(A)三國吳 (B)西晉 (C)東晉 (D)陳。
13. () 而這六個朝代會被放置在一起，是因為有一項共同處，這一項共同處所指為何？ (A)皆完成統一中國的志業 (B)皆為胡人所建立的國家 (C)都曾出兵攻打匈奴收復失土 (D)皆有助開發中國江南。
14. () 蟲尾想透過旅遊對詩中的情境有更多的體認，決定規劃一趟中國的旅遊，親自到素有「六朝古都」之稱的城市探訪。請問：他要選擇下列哪個城市？ (A)北京 (B)西安 (C)洛陽 (D)南京。
15. () 呈上題，請問：這個城市應位於地圖中的何處？ (A)乙 (B)丁 (C)丙 (D)甲。



16. () 蟲尾又看韋莊的另一首詩金陵圖，寫道：「誰謂傷心畫不成，畫人心逐世人情，君看六幅南朝事，老木寒雲滿故城。」其中所寫的六朝與南朝相比，多了哪兩個朝代？
(A)蜀漢、東晉 (B)三國吳、西晉 (C)孫吳、東晉 (D)蜀漢、西晉。

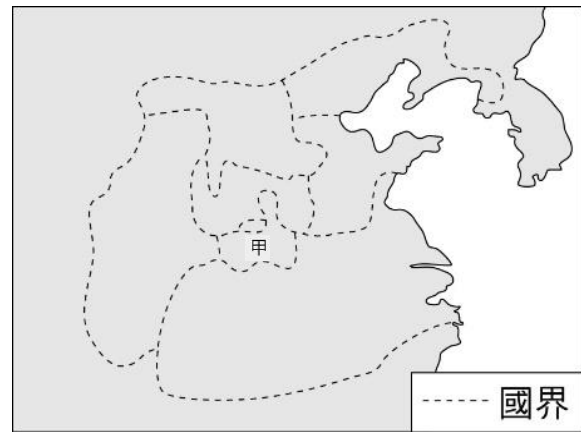
佛教（英語：Buddhism）起源於古印度河流域迦毗羅衛國（今尼泊爾和印度邊界間靠近尼泊爾），其王室太子悉達多·喬答摩於 35 歲修道成為釋迦牟尼佛後，在約前 6 世紀對弟子開示的「苦、集、滅、道」的教導內容，因緣轉趨為宗教化，為現代世界三大宗教之一。佛教通過南、北兩條傳播途徑，向外流傳，對於世界上，尤其是東亞、中南半島文化具有深刻的影響。

17. () 佛教傳入中國後影響深遠。請問：佛教由哪條路徑傳入中國？ (A)青藏高原～長安 (B)西域～長安 (C)印度洋～長安 (D)太平洋～長安。
18. () 上述傳播路線的形成，與那位帝王、君臣的經營密切相關？
(A)秦始皇、李斯 (B)漢高祖、商鞅 (C)唐太宗、魏徵 (D)漢武帝、張騫。
19. () 佛教傳入中國後，因政治與社會的走向而盛行，雲岡石窟、龍門石窟等佛教藝術，更彰顯佛教對帝王、百姓的影響，請問這樣的情況最可能是下面哪個時代？
(A)兩漢時期 (B)商周時代 (C)隋唐盛世 (D)魏晉南北朝。
20. () 隨著時間的推移，佛教進入中國後結合當地思想，融合成新的教派，其中禪宗提出人人皆有佛性，即使不出家也能悟道成佛，廣泛獲得士大夫階層的信仰，請問上述的狀況是發生在中國哪個朝代？
(A)唐朝 (B)秦朝 (C)周朝 (D)東漢。

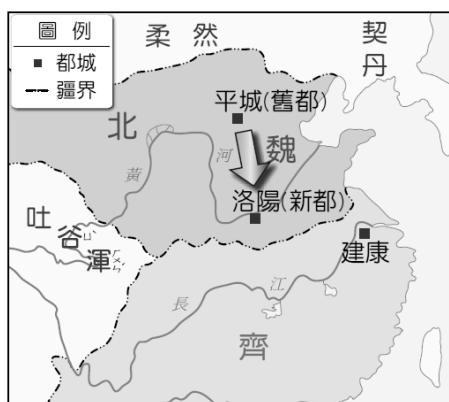
二、單一選擇題（每題 2 分，共 30 題 60 分）

21. () 關於秦始皇對中國歷史的影響，下列何者敘述正確？ (甲)首創年號 (乙)廢郡縣行封建 (丙)統一貨幣 (丁)統一天下始創帝制 (戊)鹽鐵酒專賣
(A)乙丁 (B)甲丁戊 (C)丙丁 (D)甲乙丙丁。
22. () 阿珠阿嬪很喜歡參加歷史考古的活動，這一次友人邀請她參加中國佛教石窟藝術遊，她欣喜若狂地與大家分享這個消息。請問：這次阿珠阿嬪最有可能前往中國哪一流域地區？ (A)長江流域 (B)珠江流域 (C)黃河流域 (D)淮河流域。
23. () 中國的選官制度，在不同時期方法也各異，其中九品官人之法的創立，與當時何種背景有關？ (A)太學興起，儒家經典獨尊 (B)九流十家，百家爭鳴，百花齊放 (C)科舉敗壞，作弊之風盛行，新制取而代之 (D)天下大亂，地方官員推舉孝廉難以實行。
24. () 金龍是生活在戰國的有志青年，他的理想是增加自己的學識，並獲得政府的重用。請問：他可以藉由下列哪些途徑完成目標？ (甲)進入當時最高學府表現優良 (乙)自我推荐以得到國君的賞識 (丙)通過考試就可以擔任公職 (A)乙 (B)甲 (C)甲乙 (D)丙。
25. () 春秋戰國時代，開始出現貴族沒落、平民崛起的現象，主要因素為何？ (A)私人講學興起，國君用人唯才 (B)科舉考試盛行，促進社會階層流動 (C)戰爭頻仍，人口遷徙造成疾病流行 (D)思想趨於一元，法家思想獨尊有助平民晉升。

26. () 鷹雯到中國大陸進行視察，對於壯闊的長城印象深刻。她如果想要多了解長城的建築、功用與歷史發展，應該閱讀下列哪一本書籍？
 (A)《尊王攘夷的秘訣》 (B)《封建生死鬥》 (C)《造紙術的外傳》 (D)《始皇帝的功與過》。
27. () 鷹雯視察後發現機密資料，中共國家文物局歷經近 5 年的調查，中國歷代長城總長度為 21196.18 公里。這是中國首次以科學方法、有系統的測量歷代長城的總長度。請問：長城在中國歷史上具有何種主要功能？ (A)對外貿易的集散地 (B)遊客眾多的觀光景點 (C)中原各諸侯國的國界 (D)游牧民族與農業民族的區隔。
28. () 依珊小姐是洛陽人氏，長大後嫁給涂生。涂家世代經商，依珊希望涂生能當官，鼓勵涂生進入學校就讀，涂生發憤圖強、日夜苦讀、研習經學，終於不負期望，成績表現相當優良，果然獲得任官機會。請問：依珊與涂生最可能生活在哪一朝代？ (A)西周 (B)東漢 (C)東周 (D)東晉。
29. () 「一般政府用人選才，強調的不但是人的能力，更重視道德操守，但是這個時代卻不一樣，選舉人才看重的是家世背景，而非個人的才德。這樣一來，朝中的高官厚位都被名門貴族占據，真正的人才反而無法被政府延攬。」上文提到的應該是哪個時代的選才問題？
 (A)西漢 (B)東周 (C)秦朝 (D)魏晉南北朝。
30. () 秦始皇廢除封建制度改行郡縣，郡縣的長官由朝廷調派。這項重要行政措施的轉變，對當時的政局有何影響？
 (A)造成外戚與宦官的奪權 (B)形成諸王割據 (C)引發民亂 (D)中國自此中央集權。
31. () 附圖是戰國時期的形勢圖。請問：圖中的甲國是哪個國家？
 (A)秦國 (B)齊國 (C)楚國 (D)韓國。



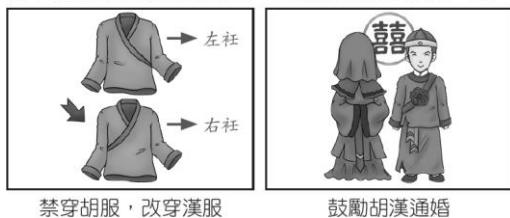
32. () 關於西周封建制度下社會階級的內容，下列敘述何者正確？ (A)平民擁有私人土地，無須為貴族工作 (B)可以區分為祭司、貴族與奴隸三個階級 (C)社會階級可隨時加以更動 (D)貴族中地位最高的是天子。
33. () 魏晉南北朝時期胡漢融合，影響後續朝代皇室也具有胡人血統，因此夷夏觀念淡薄，這種情況導致了隋唐時代的哪種風尚？ (A)胡風盛行，唐帝國因而大力推行漢化 (B)來自歐洲的學問在中國大行其道 (C)皇室提倡胡風，導致傳統士人不滿 (D)喝葡萄酒、跳胡旋舞是當時的流行。
34. () 關於春秋時代與戰國時代特色之比較，下列敘述何者錯誤？ (A)春秋時代周王室已無力排解諸侯紛爭 (B)戰國時代各國相互兼併的情形較春秋時代頻繁 (C)戰國早期的霸主曾以尊重周天子為號召 (D)戰國時代各國皆不滿足自己諸侯、卿大夫的身分自居。
35. () 西晉時期，因為未能有效處理哪一問題，最後導致國家難逃滅亡之運？ (A)胡漢風俗相異，胡人趁晉室衰微叛亂 (B)同姓宗室勢力太小，難抗外敵 (C)宦官權大，敗壞朝政 (D)朝中大臣野心勃勃，意圖謀反。
36. () 老師為了今日授課的主題，在黑板上畫了一幅形勢圖，由附圖中的資訊判斷，老師講述的內容最可能是下列何者？
 (A)中國經濟重心的南移 (B)北魏的民族文化融合 (C)永嘉之禍的南侵 (D)秦帝國的霸業。



37. () 辰彥深信「十年寒窗無人問，一舉成名天下知。」的道理，立志考高考當上國家的公務員，不分

晝夜熬夜苦讀，為的就是金榜題名時。若是在古代中國，能夠參與這樣的公平考試，則必須要到哪一時間才有機會？ (A)西元前 221 年 (B)西元 311 年 (C)西元 789 年 (D)西元 456 年。

38. () 「士之子恆為士，工之子恆為工，商之子恆為商，農之子恆為農。」這句話表示當時社會階層固定、不易流通。請問：這最可能是下列哪個朝代的特色？
(A)商朝 (B)東周 (C)秦朝 (D)西周。
39. () 歷史老師講完魏晉南北朝時期的歷史概況後，要同學以簡單的幾句話表達這個時期的社會特色。甲生：「上品無世族，下品無寒門。」乙生：「社會動盪，人心寄託於宗教信仰。」丙生：「世族擁有免賦稅免勞役的特權。」丁生：「書中自有黃金屋，書中自有顏如玉。」上述哪幾位同學的說法較為正確？ (A)甲乙 (B)甲丁 (C)乙丙 (D)丙丁。
40. () 鮮卑族拓跋珪回憶年輕時政府曾遷移首都到漢人文化薈萃之地，他配合政策不說鮮卑語，並把原本的名字「拓跋珪」改為「元珪」。請問：拓跋珪應生活在下列哪一朝代？
(A)隋 (B)西晉 (C)曹魏 (D)北魏。
41. () 這個朝代崇尚儒家經典，使得經學的研究風氣日益興盛，不少學者在不斷鑽研經學後得到獨特的見解，形成一家之學，累世相傳的情況；加上通達經書者得以任官的規定，擁有「家學」者易累世為官。請問：文中朝代指的是下列何者？ (A)西周 (B)東周 (C)秦代 (D)漢代。
42. () 齊桓公任用管仲為相，整頓內政，並提出「尊王攘夷」的號召。請問：其中的「王」與「夷」分別指的是下列何者？
(A)齊桓公、春秋諸國 (B)西周天子、春秋諸國 (C)齊桓公、外族 (D)周天子、外族。
43. () 廢除封建，設置郡縣是中國歷史發展中重要的政策轉變。關於郡縣制度，下列敘述何者正確？ (A)郡縣的長官由郡縣自行推舉 (B)郡縣官職是採世襲的 (C)郡縣制度的實施，促成各地諸侯國的權力強大 (D)郡縣制度是中央集權的基礎。
44. () 歷史學家一般認為，絲路最大的貢獻為何？ (A)改變漢朝對突厥的作戰情勢 (B)打通了東西方的貿易通道 (C)擴大大秦的疆域範圍 (D)促使外國國君上尊號讚美中國帝王。
45. () 中國出現以制度化方式培養人才的管道，而且在中央設立類似國立大學的機構，是從何時開始？
(A)西周 (B)秦代 (C)西漢 (D)東漢。
46. () 承上題，當進入這樣的學府就讀時，必須要精通哪一學派的經典？
(A)法家 (B)道家 (C)墨家 (D)儒家。
47. () 「各地州郡長官每年必須向政府推舉『孝子』、『廉吏』各一人，以因應政府取才的需求，若有違反則將追究相關事責。」這應該是何時期的取才情況？ (A)秦朝 (B)漢朝 (C)西周 (D)商
48. () 附圖是中國某時期的漢化政策示意圖，由圖中的內容判斷這應該是哪個君主所推動的政策？
(A)秦始皇 (B)曹魏文帝 (C)漢武帝 (D)北魏孝文帝。



49. () 中國改良造紙技術，使紙張的利用逐漸普及，知識流傳更為便利，請問造成這樣的轉變是在哪個時期？又是誰所促成？ (A)唐朝，唐太宗 (B)漢朝，蔡倫 (C)戰國，商鞅 (D)漢朝，管仲。
50. () 九品官人之法是中國古代任官取才的制度之一，關於這種制度的敘述，下列何者正確？
(A)於漢初時期創立 (B)為削弱世家大族而設 (C)一般平民較難與世族競爭 (D)以講究才德的評比著稱。