

一、選擇題：(每題 2 分, 共 62 分)

- ( ) 1. 魯夫今天在(甲)好厝邊便利超商買一瓶礦泉水，和朋友喬巴到(乙)好樣書店買一張電影海報，並在(丙)理髮店剪了個帥氣的髮型，回家後(丁)在網路拍賣站上競標一件衣服算一算今天總共花費 6,000 元。請問：魯夫的消費行為，何者是在無形的市場所從事的交易？(A)甲(B)乙(C)丙(D)丁。
- ( ) 2. 老師在課堂上介紹政府組織的功能時提到：「我國曾發生嚴重的通貨膨脹，若現在再發生類似情形，此機構可透過發行貨幣數量、調整利率等方式來達到穩定物價的目的」，請問：根據上述內容判斷，老師最可能在介紹下列哪一項組織？(A)財政部(B)經濟部(C)臺灣銀行(D)中央銀行。
- ( ) 3. 新臺幣對美元匯率由原來約「34.5：1」變動為「33.5：1」，這個訊息代表什麼意義？(A)對我國外銷市場有利(B)相同數量的新臺幣能購買的美國的貨物數量變少(C)新臺幣貶值(D)對我國進口商有利。
- ( ) 4. 中國在改革開放之後，逐漸趨向市場經濟制度。關於市場經濟制度的敘述，下列何者正確？(A)又稱為「統制經濟(B)生產與分配等問題都由政府這隻「有形的手」所主導(C)容易導致生產效率不彰的問題(D)尊重自由經濟的機能。
- ( ) 5. 在我國，下列何者的價格是透過「價格機能」決定的？(A)高速公路的通行費(B)家電用品(C)公立國中小的註冊費(D)違規停車拖吊費。
- ( ) 6. 下列哪一事件能顯現「物價上漲」的意涵？(A)高速公路通行費五年沒有調整，交通部研議調高 5% (B)油價由今年初每桶 60 美元節節升高，預計今年底可達 90 美元，民生物資也跟進調整售價 (C)受到外資加碼台股，台股股價指數創新高(D)冬季牛乳價格比夏季便宜。
- ( ) 7. 香慈每月固定花十萬元新臺幣向澳洲進口綿羊油，10 月是 200 瓶，11 月是 150 瓶。請問：若其他條件不變則造成此數量變動的因素為何？(甲)新臺幣升值 (乙)新臺幣貶值 (丙)澳幣升值 (丁)澳幣貶值。(A)甲丙 (B)甲丁 (C)乙丙 (D)乙丁。
- ( ) 8. 逛百貨公司週年慶時，雅倩買回一些喜歡的東西，包括：一支瑞士製手錶、日本進口絲巾及一瓶法國原裝進口香水。請問：我們不用出國，在臺灣就可買到這些東西原因何在 (A)人民需求水準很高 (B)臺灣人民財力雄厚 (C)國際貿易頻繁的結果 (D)臺灣交通運費很便宜。
- ( ) 9. 下表為幸福國上個月與其他貿易國的進出口貿易統計資料，請問：該月幸福國與哪些國家是呈現「入超」？(A)甲乙 (B)乙丙 (C)丙丁 (D)甲丁。

	甲	乙	丙	丁
幸福國對他國出口總值	60	9	5	50
幸福國對他國進口總值	30	14	15	10

- ( ) 10. 靜美為了到國外旅遊，必須準備國際上普遍接受的外國貨幣作為支付工具，這項工具是指下列何者？(A)利潤(B)利息(C)外匯(D)租金。
- ( ) 11. 在目前臺灣社會，我們使用「紙鈔」作為能購買物品的主要原因為何？(A)製造紙鈔的材料本身就具有價值(B)政府以法令強制規定其價值(C)紙鈔供不應求因此較具價值(D)紙鈔印製非常方便快速。
- ( ) 12. 今年夏天芒果產量大增，造成「供過於求」現象，哪些是正確的說明？(甲)生產過剩 (乙)產品價格下降 (丙)消費者會減少購買量 (丁)生產者會減少供給量。(A)甲乙丙(B)甲乙丁

(C)甲丙丁(D)乙丙丁

( ) 13. 韋老師請四個同學舉出兩句有關「比較利益」的成語。下列何者的例子皆正確？(A)安莉：兩害相權取其輕；忠孝難兩全(B)忠成：天生我才必有用；天下沒有白吃的午餐(C)文友：腳踏兩條船；一枝草一點露(D)玉珠：人盡其才；一日之所需，百工斯為備。

( ) 14. 下列四個人的對話，哪一位的敘述符合「供不應求」的情況？(A)剛剛：「氣候穩定，今年的水果大豐收。」(B)光光：「颱風來襲時，蔬菜的價格常常居高不下。」(C)望望：「換季時，百貨公司開始出清大拍賣。」(D)智智：「蛋塔魅力已消失，現在消費的人變少了。」

( ) 15. 張經理樣樣精通，連電腦打字的速度都比祕書還快，但張經理寧可請祕書繕打文件，以節省時間從事商業談判。請問：張經理的決定應是基於下列何種經濟理論來考量？(甲)比較利益(乙)機會成本(丙)供需法則(丁)社會成本 (A)甲乙(B)甲丙(C)乙丁(D)丙丁。

( ) 16. 民國四、五十年代，臺灣在勞動力上具有優勢，所以政府優先發展紡織業等；民國八十年代以後，生化及科技等產業，逐漸取代傳統工業。根據上述內容判斷，我國目前是屬於哪種產業類型？(A)勞力密集型(B)資本或技術密集型(C)自然資源密集型(D)市場密集型。

( ) 17. 佳茹到服飾店購買衣服，發現價目表上寫一件衣服 290 元，兩件 500 元，佳茹以刷卡方式買了四件，共花費 1,000 元，請問：下列敘述何者正確？(A)信用卡又稱「塑膠貨幣」，亦為貨幣的一種(B)信用卡不具清償債務的功能，只是「延遲支付」的工具(C)價格影響了佳茹的購買量，此為「供給法則」(D)衣服一件 290 元，此時「元」為價值儲存的工具。

( ) 18. 一般說來，參與國際貿易的國家數目愈多，會有什麼情況發生？(A)各國為保護本國產業，會形成關稅壁壘(B)參與國家的國民平均所得減少(C)各國的國民儲蓄率皆提升(D)各國所能享受到的產品數量與種類可增加。

( ) 19. 阿雄參加「金頭腦」益智問答節目，其中有個問題問到：「假如新台幣兌換美金匯率是 32:1，小威要到美國旅行，他準備了 32,000 元的新台幣，可以兌換到多少美元？」正確答案應該是下列哪一個？(A)200 美元(B)3200 美元(C)1000 美元(D)3000 美元。

( ) 20. 美玉透過人力銀行，應徵了許多企業的人才招募活動，終於找到一份工作，擔任行政總務人員。美玉提供勞力，可以獲取【甲】以支付消費支出。上述【甲】應為下列何者？(A)資金(B)利潤(C)所得(D)銷貨收入。

( ) 21. 以下是今年柳丁產季的供需圖——

在其他條件不變的情況下，若價格由  $P_2$  變成  $P_1$ ，則其需求的數量將有何變動？(A)增加(B)減少(C)不變(D)不一定。

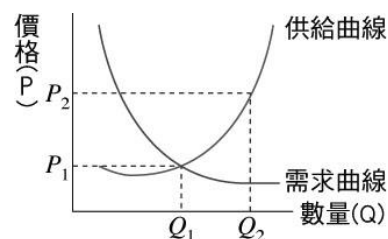
( ) 22. 某政府官員表示：「新臺幣兌換美元匯率，一早以 34.675 元開出，盤中最高價位是 34.675 元，最後是以 34.808 元兌 1 美元作收。」根據上文判斷，有關於「新臺幣兌換美元匯率」的敘述何者正確？(A)新臺幣升值，美元貶值(B)新臺幣貶值，美元升值(C)新臺幣貶值，美元貶值(D)新臺幣升值，美元升值。

( ) 23. 美國蘋果公司繼 iPhone 在全世界熱賣後推陳出新，又推出 iPad 平板電腦，在臺灣也掀起了搶購風潮，此事代表蘋果公司將下列何種生產要素發揮得淋漓盡致？(A)資本(B)人力資源(C)企業才能(D)自然資源。

( ) 24. 下列是木川上網搜尋貨幣的資料，其中只有哪項是正確的？(甲)我國負責發行貨幣的機關為臺灣銀行(乙)政府可透過控制貨幣數量，來維持物價穩定(丙)信用卡可延後支付款項，所以屬於貨幣(丁)為發展經濟，政府可隨意增加鈔票發行數量 (A)甲(B)乙(C)丙(D)丁。

( ) 25. 臺灣使用信用卡的人數日趨增加，但是信用卡仍無法被當成真正貨幣，其原因為何？(A)沒有防偽的設計(B)因為是「塑膠貨幣」(C)無法被民眾普遍接受(D)仍須以貨幣清償債務。

( ) 26. 春節期間，民眾返鄉或出遊都需要交通工具，因而掀起租車熱潮，各車行都發生「一車難求」的供不應求現象。此時最可能出現下列何種情況？(A)租車價格上漲(B)租車價格下跌(C)達成均衡價格(D)達到均衡數量。



( ) 27. 林媽媽去「健美超級市場」買了(甲)香腸和(乙)各類蔬菜，回家製作(丙)愛心便當，接近中午時刻，即趕忙騎著(丁)機車送到學校給小康和小軒兄妹當午餐。根據內容判斷，上述何者不屬於「商品」？(A)甲(B)乙(C)丙(D)丁。

( ) 28. 所謂「看不見的手」是指商品的價格透過市場供需雙方共同決定。在臺灣，下列各項產品的價格，哪些由「看不見的手」決定？(甲)換季時的服裝售價(乙)網拍購物的結標價(丙)國民中學的學雜費(丁)行動電話的通話費 (A)甲乙丙(B)甲乙丁(C)甲丙丁(D)乙丙丁。

( ) 29. 三年忠班舉行拍賣會，小雯提供青蛙布偶，並定價為150元。拍賣會開始，芸芸出價180元，婷婷增加為200元而購得。下列有關拍賣會的敘述，何者正確？(A)拍賣品的價格由賣方決定(B)拍賣會屬於生產要素市場(C)200元是婷婷的消費支出(D)小雯是商品市場的需求者。

( ) 30. 一顆茶葉蛋8元、一臺電腦價值新臺幣20,000元、一輛腳踏車7,000元。從上述的「8元」、「20,000元」、「7,000元」可以看出貨幣的何種功能？(A)交易媒介(B)債務清償(C)價值衡量(D)價值儲存。

( ) 31. 阿宗與老詹都是麵包師父，以下是他們製作蛋糕或麵包的數量表阿宗在製作蛋糕與麵包上具有絕對利益，但依比較利益原則，他則負責製作麵包。根據內容判斷，表中的「甲」最可能為下列何者？ (A)1(B)2(C)3(D)5。

項目	阿宗	老詹
蛋糕	甲	2
麵包	5	3

## 二、題組：(每題2分，共38分)

1. 請閱讀文章，並回答下列問題，選出正確答案。

小玲暑假時到韓國首爾自由行，出發前聽別人建議：先不要在國內把(甲)新臺幣兌換成(乙)韓元，應該帶(丙)美金去韓國，在當地兌換韓元會比較划算。

小玲到了韓國，先在機場用美金兌換韓元，1美金可兌換到1,040韓元，接著又買了(丁)T-money卡，類似國內的(戊)悠遊卡，儲值後，搭車、買東西都很方便。首爾的明洞有很多保養品店，小玲看到商家正在發放廣告傳單，裡面剛好有她想買的品牌(己)折價券和(庚)贈品兌換券，於是她趕快到店裡挑選想買的商品，結果因為兌換的韓元不夠消費，只好趕緊拿出(辛)信用卡來結帳。小芬和店員聊天時，發現她是來自臺灣的留學生，畢業後在韓國定居，聽她說剛來念書的時候，一碗韓式炸醬麵折合新臺幣50元，現在則漲為100元了，所以即使這裡的薪水比臺灣高，生活品質並沒有比較好。

( ) 32. 上述文章中，屬於法定貨幣的有哪些？(A)甲丙戊(B)甲乙丙(C)丙戊辛(D)乙丙戊。

( ) 33. 從文中得知美金和韓元相較，哪一種貨幣價值較高？(A)美金(B)韓元(C)相同(D)無從比較。

( ) 34. 下列有關T-money卡的說法，何者正確？(A)卡片本身具有一定價值，又稱為「商品貨幣」(B)可作為價值衡量，但不具備價值儲存的功能(C)又稱為「法定貨幣」，由韓國政府負責發行 (D)和信用卡一樣，都是「塑膠貨幣」的一種。

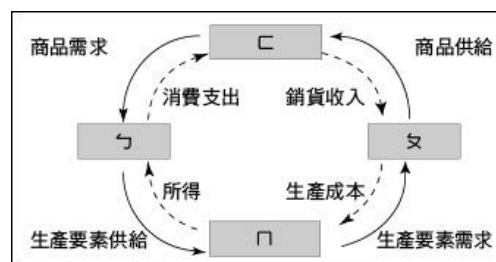
( ) 35. 店員提到炸醬麵的價格從新臺幣50元變成100元，若還有保養品、交通費等其他很多商品都變貴了，表示韓國出現什麼情況？(A)物價上漲(B)民眾的薪水提高(C)貨幣的發行量不夠使用(D)民眾的消費欲望提高。

2. 以下是經濟活動循環簡圖，圖中的箭頭代表貨幣和商品的流動。請回答下列問題：

( ) 36. 王媽媽到便利超商購買報紙，則王媽媽在經濟循環圖中，屬於下列何者？(A)ㄅ(B)ㄆ(C)ㄇ(D)ㄊ。

( ) 37. 印刷廠為了增加設備，購買了一部多功能影印機。若依交易的對象和內容區分，上述交易的場所屬於經濟活動循環圖中的哪個位置？(A)ㄅ(B)ㄆ(C)ㄇ(D)ㄊ。

( ) 38. 張先生在好書出版社擔任編輯的工作，根據經濟活動循環簡圖判斷，此時張先生扮演的是下列何種角色？(A)生產要素市場的供給者(B)商品市場的供給者(C)生產要素市場的需求者(D)商品市場的需求者。



3. 以下是杜哈國與薩比國每位勞工每月生產汽車與自行車的數量表——

請根據資料，回答下列問題：

項目	杜哈國	薩比國
汽車(輛)	8	24
自行車(輛)	2	8

( ) 39. 杜哈國和薩比國若要從事國際分工，應該依據下列何項經濟原理？(A)供需法則(B)負擔能力原則(C)比較利益原則(D)受益原則。

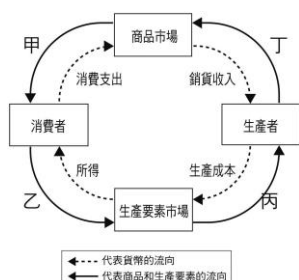
( ) 40. 根據表中資料判斷，杜哈國生產一輛汽車的機會成本是多少？(A)1/4 輛自行車(B)1/3 輛自行車 (C)3 輛自行車(D)4 輛自行車。

( ) 41. 根據表中資料判斷，薩比國生產一輛自行車的機會成本是多少？ (A)1/3 輛汽車 (B)1/2 輛汽車(C)2 輛汽車(D)3 輛汽車。

( ) 42. 杜哈國與薩比國從事國際貿易，則應該如何分工，對其國家經濟發展較為有利？(A)杜哈國應專業生產汽車，薩比國應專業生產自行車(B)杜哈國應專業生產自行車，薩比國應專業生產汽車(C)汽車與自行車應都交由杜哈國生產(D)汽車與自行車應都交由薩比國生產。

4. 請閱讀短文，並配合經濟活動循環圖，回答下列問題。百貨週年慶進入最後倒數階段，為因應週年慶的人潮，百貨公司招聘了大量的短期兼職或工讀生。而令人為之瘋狂的週年慶，也不再只是女人購物的專利，上個週末假日，幾家百貨買氣強強滾，更有化妝品專櫃單日業績破千萬，不僅女性顧客連忙補貨，就連男士們也擠在人群中，搶購男性保養品牌推出的特惠組合。

### ◎經濟活動循環圖



( ) 43. 宣妤去應徵 SOGO 百貨工讀生的行為，是屬於上圖經濟活動循環簡圖中的哪一項？(A)甲(B)乙(C)丙(D)丁。

( ) 44. 昭言搶購男性保養品牌的行為，是屬於上圖經濟活動循環簡圖中的哪一項？(A)甲(B)乙(C)丙(D)丁。

( ) 45. 百貨公司於週年慶期間推出「滿5千送5百」活動，吸引消費者買氣可以產生什麼效果？(A)增加需求(B)減少需求(C)增加供給(D)減少供給

5. 近年來，許多美國、日本、法國、臺灣的公司都到中國投資做生意，他們的做法大多是繼續將研究總部設在本國，而產品則在中國製造、出貨。請回答下列問題：

( ) 46. 這些國家的做法運用了哪項經濟學的原則？(A)比較利益原則(B)絕對利益法則(C)供給法則(D)需求法則。

( ) 47. 上述美國、日本、法國等國家，具有什麼樣的比較利益？(A)國家幅員廣大(B)天然資源豐富 (C)勞力充足，工資水準較低(D)資本雄厚或技術水準較高。

6. 以下是阿梅與阿蘭在一個星期內可生產的衣服或褲子數量——

請根據資料，回答下列問題：

項目	阿梅	阿蘭
衣服(件)	4	5
褲子(件)	2	4

( ) 48. 阿蘭生產衣服和褲子方面具有下列何者？(A)比較利益 (B)絕對利益(C)機會成本(D)外部效益。

( ) 49. 阿梅生產一件衣服的機會成本為下列何者？(A)1/2 件褲子(B)4/5 件褲子(C)5/4 件褲子(D)2 件褲子。

( ) 50. 兩人應如何分工，以形成雙贏的效果？(A)由阿梅生產衣服和褲子(B)由阿蘭生產衣服和褲子(C)阿梅生產衣服、阿蘭生產褲子(D)阿梅生產褲子、阿蘭生產衣服。