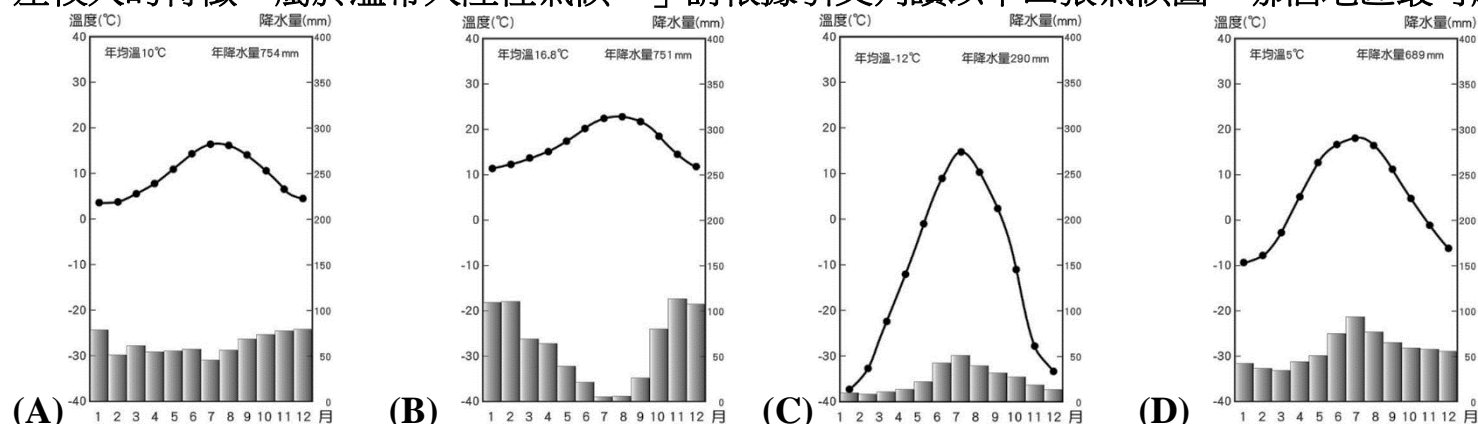


# 嘉義市立北興國中 108 學年度第一學期第二次定期考查三年級地理科試題

\*請用 2B 鉛筆在電腦卡上劃記作答

1. 歐洲大平原是西歐的地形主體，農業與工業皆發達。請問：下列哪一國家並「不」屬於歐洲大平原的範圍？(A)英國 (B)德國 (C)法國 (D)瑞士。
2. 俄羅斯境內各地區的自然環境差異甚大。請問：這和下列哪一個因素關係最為明顯？(A)國土面積世界最大 (B)氣候位居高緯 (C)族群宗教多元 (D)海洋深入內陸。
3. 北歐的冰島利用廉價能源發展煉鋁工業，同樣地俄羅斯哪一個工業區具有相同的工業區位，也可發展煉鋁工業？(A)莫斯科工業區 (B)烏拉山工業區 (C)庫斯內次工業區 (D)貝加爾湖工業區。
4. 行動科技在北歐人的生活中如呼吸般自然，無線科技的普及讓北歐人可減少出門機會，最主要源於當地自然環境的何項限制？(A)地形崎嶇 (B)國土破碎 (C)暖流流經 (D)永晝永夜。
5. 關於歐洲各國的別稱，下列何者與冰河地形關係最為密切？(A)英國—日不落國 (B)芬蘭—千湖國 (C)荷蘭—鬱金香王國 (D)丹麥—北歐十字路口。
6. 德國的河運相當發達，由運河連結的水運串聯至各主要工業區。請問：德國的運河方向多為下列何者？(A)向心狀 (B)放射狀 (C)東西向 (D)南北向。
7. 歐亞大陸為地球上最大的陸塊，因地理位置的不同而分為歐洲和亞洲，請問這兩洲以哪兩座山脈為地理分界線？(甲)阿爾卑斯山 (乙)烏拉山 (丙)高加索山 (丁)喜馬拉雅山 (A)甲乙 (B)乙丙 (C)丙丁 (D)甲丁。
8. 在 2004 年和 2007 年，歐盟兩度東擴，東歐國家紛紛加入歐盟，成為歐盟的新興工業區。從歐盟的角度來看，東歐被視為「歐洲工廠」，是因具有哪種工業區位優勢？(A)技術先進 (B)資金充足 (C)工資低廉 (D)市場廣大。
9. 「這個地區的河川因上游緯度較低，每逢夏季上游河川已融冰，但下游入海口的河面仍未解凍，因此河水會漫流到下游兩側，形成廣大的沼澤。」上文中提及的情形最可能發生在下列哪一河川？(A)北亞 葉尼塞河 (B)歐洲 多瑙河 (C)南亞 恆河 (D)東亞 長江。
10. 歐洲是工業革命的發源地，該地區的經濟活動相當發達。下列關於歐洲主要的工業國家資料，哪一個是位在「北歐」地區？(A)歐洲經濟產值最大的國家，致力發展環保能源產業 (B)北部山地水力豐富，以汽車、大理石工業為主 (C)針葉林廣布與豐富鐵礦，以林業、家具和汽車工業聞名 (D)昔日以發展軍火工業為主，目前則以汽車工業最發達。
11. 多瑙河為世界上流經最多國家的河川，且在 1992 年興建了連通萊因河的運河後，由黑海航入的船隻可藉由河運直達下列哪一個重要的港口入海，因而航運價值大增？(A)英國倫敦 (B)荷蘭鹿特丹 (C)德國漢堡 (D)荷蘭阿姆斯特丹。
12. 英國的倫敦被稱為「霧都」，主要的原因為該國水氣充足、終年雨日眾多，呈現一片煙霧瀰漫的狀況。請問此現象和哪一項因素的影響最大？(A)緯度較高 (B)西風吹拂 (C)地勢高聳 (D)溫帶氣候。
13. 歐洲在第二次世界大戰後，因為發展的方向不同，形成兩個不同的區域特性。請問：若以經濟發展及政治體制來分辨，下列何者和其他三者的差異性最大？(A)東歐 (B)西歐 (C)南歐 (D)北歐。
14. 俄羅斯商店販售純淨透明像水，但酒精濃度高達40%的伏特加烈酒，這是用俄羅斯生產的小麥經多次蒸餾而製成。從氣候條件來看，俄羅斯的小麥多生產於何地？(A)歐俄平原 (B)西伯利亞平原 (C)西伯利亞高原 (D)高加索山。
15. 北亞與北歐的緯度相同，但是北亞的氣候特徵是「冷乾」，北歐的氣候特徵是「冷溼」，造成此種氣候差異的主要因素為何？(A)有無植被 (B)日照長短 (C)西風吹拂 (D)土壤性質。
16. 瑞士工業以發展體積小、單價高的精密工業著名，如Rolex(勞力士)、Swatch(斯沃琪)等品牌的鐘錶業。請問：瑞士發展精密工業的原因與下列哪個因素最相關？(A)原料缺乏 (B)交通不便 (C)市場太小 (D)勞力不足。
17. 該地區多為斯拉夫人所組成，信仰東正教，生活規律相當嚴謹，和熱情奔放的拉丁人形成強烈對比。」請問：上述最可能為何處？(A)法國 (B)俄羅斯 (C)西班牙 (D)荷蘭。
18. 東歐早期的糧食不足，工業發展以軍火工業為大宗，經濟體質不佳、缺乏民生工業，這和哪項原因關係最大？(A)地勢崎嶇 (B)礦產資源缺乏 (C)實行計畫經濟 (D)人口分布不均。
19. 「歐俄平原因夏季溫度較高，降水量較多，多屬於溫帶大陸性氣候區，愈往東邊離□□□愈遠，水氣調節的影響愈少，則降水量愈少、年溫差愈大。」請問上述的□□□是指下列哪個海域？(A)地中海 (B)北極海 (C)太平洋 (D)大西洋。

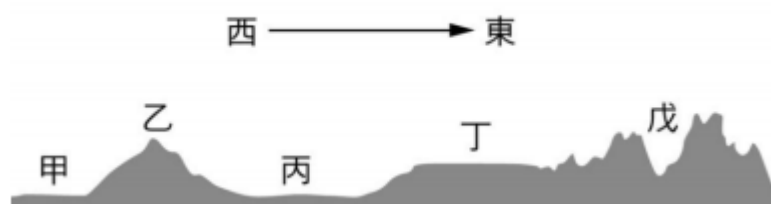
20. 「東歐因較位居內陸，受海洋的影響減弱，年降水量向東遞減，年溫差則向東遞增，呈現夏雨冬乾、年溫差較大的特徵，屬於溫帶大陸性氣候。」請根據引文判讀以下四張氣候圖，哪個地區最可能位於東歐？



21. 英國是工業革命的發源地，昔日利用本寧山兩側的何種礦產發展工業，成為經濟強國？  
(A)鐵礦 (B)煤礦 (C)天然氣 (D)石油。
22. 英國名推理作家柯南道爾筆下的福爾摩斯是一位名偵探，故事背景為著名的霧都，其裝扮常是黑色紳士帽、風衣及隨身雨傘，此裝扮可能與當地何種氣候類型最相關？ (A)溫帶海洋性 (B)溫帶大陸性 (C)溫帶地中海型 (D)高地氣候。
23. 多瑙河和萊因河兩者都發源於阿爾卑斯山北側，同為歐洲地區重要的河川，然而多瑙河水運價值卻不如萊因河，主要原因為何？ (A)泥沙淤積嚴重 (B)出口方向不佳 (C)流域人煙稀少 (D)冬季冰封期長。
24. 北歐各國重視社會福利制度，號稱「從搖籃到墳墓」的全程照顧，但近年來政府因財政困難開始做出適當調整，這是因為社會出現了什麼變化？ (A)教育水準下降 (B)性別比失衡 (C)少子化現象 (D)人口數龐大。
25. 此地區地形崎嶇、族群複雜、語言相異，形成多元文化的地區。且位居東、西要衝，具有戰略重要地位，自古以來紛爭、衝突不斷，素有「歐洲火藥庫」之稱，此段敘述指的是何處？ (A)斯堪地那維亞半島 (B)伊比利半島 (C)義大利半島 (D)巴爾幹半島。
26. 順口溜往往可反映一個區域的地理特色，並令人會心一笑，請問下文中的○○是指哪個國家？「到了○○，才知道太陽，也會賴床睡懶覺。到了瑞士，才知道開個帳戶，沒百萬美金會被人恥笑。到了奧地利，才知道連個乞丐，都能彈上一曲小調。」 (A)挪威 (B)波蘭 (C)丹麥 (D)英國。
27. 俄羅斯是全世界面積最大的國家，領土橫跨歐、亞兩洲，正當首都莫斯科的中學生早晨正準備上學時，在太平洋沿岸城市—海參崴的學生可能已經是下午要放學了。請問：這種現象和俄羅斯的哪項地理特色關係最大？ (A)國土東西寬廣 (B)地勢東高西低 (C)族群多元複雜 (D)大多位居高緯區。
28. 冰島是靠近北極的國家，在世界的地塊中屬於較晚期形成的土地，首都雷克雅維克意為「冒煙的港灣」。依據冰島的環境判斷：下列哪一項為造成其「冒煙」的主因？ (A)冰河侵蝕 (B)火山活動 (C)河流堆積 (D)風力搬運。
29. 在國際政治上，常用北極熊來代表俄羅斯，這和當地冰天雪地的氣候有很大的關係。請問：俄羅斯的氣候特色可由通過該國的哪一條經緯線加以判斷？ (A)南回歸線 (B)本初子午線 (C)66.5°N (D)0°緯線。
30. 北歐各國一直以其完善的社會福利政策為傲，然而這必須藉由哪項政策的實施才可以達成？ (A)出錢補貼低收入戶 (B)禁止國人移民他國 (C)提高進口貨物的關稅 (D)向人民徵收高額稅金。
31. 俄羅斯東部屬西伯利亞地區，面積廣大。該地區的地形分布由東至西分別為何？ (A)平原—高原—山地 (B)山地—高原—平原 (C)高原—山地—平原 (D)山地—平原—高原。
32. 如果要觀察俄羅斯的天然植被分布情況，從北極海沿岸地區往南至西伯利亞鐵路附近，依序可以見到的主要植物景觀為何？ (A)針葉林→闊葉林 (B)闊葉林→苔原 (C)苔原→針葉林 (D)苔原→闊葉林。

※題組一：右圖為俄羅斯地形簡圖，請回答33~35題：

33. 乙是歐亞分界，也是金屬、石油礦產豐富的古老山地，其名稱為何？ (A)喀爾巴阡山 (B)烏拉山 (C)高加索山 (D)阿爾卑斯山。
34. 俄羅斯人口、產業集中的精華區在圖中何地？ (A)甲 (B)丙 (C)丁 (D)戊。
35. BBC新聞快報：「俄羅斯境內出現規模達 6.8 的淺層地震，劇烈的搖晃造成當地居民恐慌，所幸至今未傳出嚴重的傷亡事件。」請問：上述新聞最可能的發生地點為右圖中何處？ (A)甲 (B)丙 (C)丁 (D)戊。




※右圖是西歐與北歐國家簡圖，請回答36~46題：

36. 英國貨櫃車藏屍案轟動全球，英國媒體報導指出，39名貨櫃車藏屍案死者應為越南人。英國貨櫃車藏屍案揭示，不少越南人為了賺錢，不惜離鄉別井從越南偷渡至西方國家。有數字估計，每年前往歐洲的越南偷渡者約有18,000人，請問這些偷渡客冒死前往的英國位於圖中何處？ (A)H (B)I (C)A (D)B。
37. 承上題，被英國媒體稱為「鐵棺材」的冷凍貨櫃由是比利時濟布魯治（Zeebrugge）港口出發，請問比利時位於圖中何處？ (A)H (B)I (C)K (D)B。
38. 承上題，此貨櫃之後跨海抵達英國艾塞克斯（Essex）某條河流的港口柏佛利特（Purfleet），10月23日凌晨被司機發現貨櫃內的屍體後報警，死者為31男8女。司機羅賓森（Maurice Robinson）被控過失殺人及共謀販運人口。請問文中所述某條河川指的是下列何者？ (A)萊茵河 (B)多瑙河 (C)塞納河 (D)泰晤士河。




39. 圖中★海域蘊藏著豐富的石油，使鄰近的國家能夠發展煉油與石化工業，並帶來財富。請問★海域的名稱為何？ (A)黑海 (B)地中海 (C)北海 (D)波羅的海。

40. 右圖是世界上第一個由國家所研發的 emoji 表情。(註：Emoji 表情 是一種視覺上的速記符號也稱為繪文字，最初是在1999年由日本人栗田穰崇發明的。這些符號是為了能在訊息對話中，相較於純文字能提供更豐富的感情表達，讓對話不至於被曲解。) 前兩個表情是一對男女在享受三溫暖（桑拿sauna），而第3張則是成立於1865年、總部位於埃斯波的諾基亞Nokia公司所生產的經典手機—3310，而它們的官方名稱分別是「三溫暖浴」和「堅不可摧」（諾基亞3310 的代稱）。由文中敘述判斷，與上述資料相關的應為圖中哪一個國家？ (A)A (B)B (C)C (D)D。



41. 鋼鐵人閱讀到一篇報導如下：2015年湧上歐陸的難民潮估計將達80萬人，是第二次世界大戰結束以來歐洲最大的難民危機，對歐洲聯盟構成嚴峻挑戰。...某國作為歐盟首富與龍頭，也為洗刷昔日納粹罪行，高呼「歡迎難民」，廣大的難民也成為某國勞動市場能否繼續蓬勃發展的關鍵。根據上述內容，請問某國是指圖中何國？ (A)I (B)G (C)K (D)F。

42. 《北海小英雄》是一部日本與德國合作的電視卡通，於1974 年時首播。作品全長78集。故事內容改編自瑞典作家努勒強森的童書《維京海盜小威》... 根據上述內容，請問《北海小英雄》原作童書作者的出生地位於圖中何國？ (A)A (B)B (C)C (D)D。



43. ○國與海爭地的百年歷史走到轉折點，放棄堤防為治水武器，開始與水共生，並為全世界打造理想中的水上城市。由建築師歐道斯（Koen Ithuis）勾勒出水上世界的未來藍圖，訴求「還地於河」，漂浮島嶼、漂浮沙灘在未來不但可收留氣候難民，更重視生態永續的重要性。○國為圖中哪一國家？ (A) E (B) F (C) H (D) I。

44. 這個國家將荷語、法語、德語定為官方語言，因交通便利和資訊便捷而成為歐盟的總部，請問這指的是圖中的哪一個國家？ (A) E (B) I (C) J (D) K

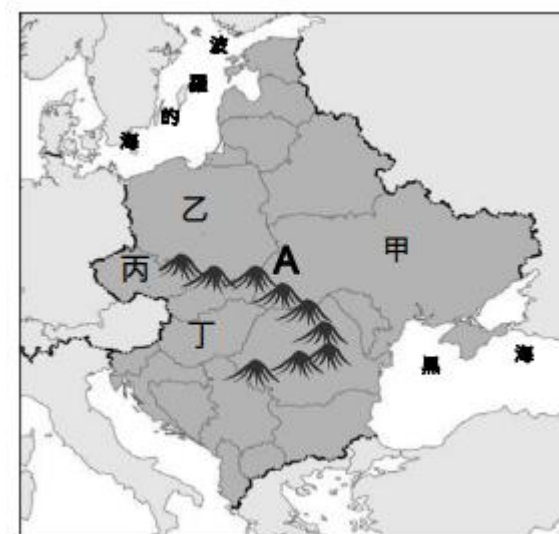
45. 在全球減少使用石化燃料的趨勢下，圖中哪個國家因有豐富的地熱與水力資源，用來發展溫室農業、養殖與煉鋁工業，故所遇到的困難較小？ (A) A (B) B (C) G (D) J。

46. 小美看到朋友的IG打卡，上傳一張當地的著名地標(如右圖)，請問她朋友是在上圖中的哪一國旅遊？ (A) B (B) C (C) E (D) F。





※ 題組三：2014年俄羅斯在與烏克蘭開啟戰端後，和東歐鄰國的關係也格外緊張。2015年2月俄國總統普丁為 擴展外交，前往捷克進行訪問，以爭取盟國的支持。右圖為東歐簡圖，請回答47~50題：



47. 烏克蘭曾在蘇聯時期和俄國是親密的戰友，然而近年來由於經濟改革的影響，烏克蘭和下列何者關係日益密切，導致兩國間出現嫌隙？ (A)世界貿易組織 (B)亞太經濟合作會議 (C)東南亞國協 (D)歐洲聯盟。
48. 新聞介紹某國時的內容如下：「這個國家的歷史充滿辛酸血淚，因位於前蘇聯與德國兩大強國之間，成為兩國權力拉扯的對象。二次大戰時，德國納粹政權曾在其境內建立屠殺營，今日已被列為世界文化遺產名錄。」上述是針對哪個國家的報導？ (A)甲 (B)乙 (C)丙 (D)丁。
49. 俄羅斯總統普丁前往訪問的捷克，過去在共產時期為共產國家的軍火武器兵工廠，請問捷克位於圖中何處？ (A)甲 (B)乙 (C)丙 (D)丁。
50. 黑土帶是世界上重要的糧食生產帶，其主要的分布地區除了北美、南美、中國東北外，歐洲也有廣大的黑土，下列哪個國家的農業發展便與黑土關係最密切？ (A)甲 (B)乙 (C)丙 (D)丁。

全部題目結束，請仔細檢查!