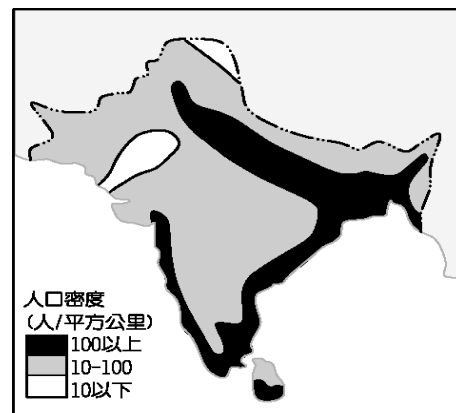


嘉義市立北興國民中學108學年度第二學期地理科第3次段考二年級題目卷

一、單一選擇題：每題 2 分，共 38 分

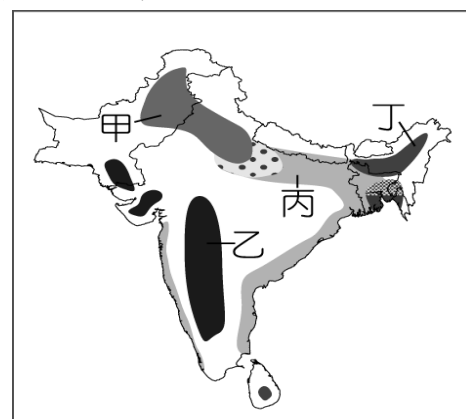
- ()日本傳統的民間習俗，在每年夏季男孩節時，都會掛上斗大的鯉魚旗。請問：此時鯉魚旗多飄往下列哪一個方向？ (A)東北方 (B)東南方 (C)西北方 (D)西南方。
- ()下列為四個不同地區的地理位置觀察資料，請由下列敘述中判斷，何者最可能位於熱帶氣候區？ (A)受到經度位置的影響，為亞洲地區最早看到日出的國家 (B)地勢平坦，世界人口主要密集區 (C)若境內地形起伏大，氣候類型有熱帶、溫帶、寒帶，其分布呈現垂直變化 (D)位於極圈附近地區，年溫差變化不大。

- ()印度為世界上人口第二多的國家，因此經濟發展深受影響。右圖為印度半島主要的人口分布概況。請問：各地區的人口密度大小和下列哪一個因素的關係最大？(A)降雨量的多寡 (B)婆羅門種姓的差異 (C)開發時間早晚 (D)不同宗教信仰。



- ()氣候的形成因素通常受到該地區的地理位置及自然環境條件的影響，其中位於南亞的印度半島，主要的氣候類型為熱帶季風氣候。請問：下列有關該地區的區域特色中，何者和熱帶季風氣候的關係最小？ (A)位於高緯地區 (B)與中南半島氣候類似 (C)乾溼季節分明 (D)海陸交會位置。

- ()印度的農業活動分為水田的稻作農業及早田耕作的棉花生產，請由右圖中的分布地區加以判斷，水稻及棉花的生產地區依序為下列何者？(A)乙、甲 (B)丁、丙(C)甲、丙 (D)丙、乙。



- ()根據聯合國的緝毒官員指出，近年來亞洲的經濟發展快速，使用古柯鹼、製造海洛因和走私毒品的事件也隨之增加，其中某國因位於東南亞泰、緬一帶的毒品製造中心和西亞鴉片生產中心阿富汗之間，因此走私氾濫的情況相當嚴重，需特別加以注意。根據上述地理位置判斷，某國最可能為下列何國？ (A)印尼 (B)柬埔寨 (C)北韓 (D)巴基斯坦。

- ()右表是亞洲四個國家的產業人口組成一覽表。請問：由寮國的產業人口組成可以直接顯示出下列何項特色？(A)人口密度 (B)人口素質 (C)經濟發展 (D)人口分布。

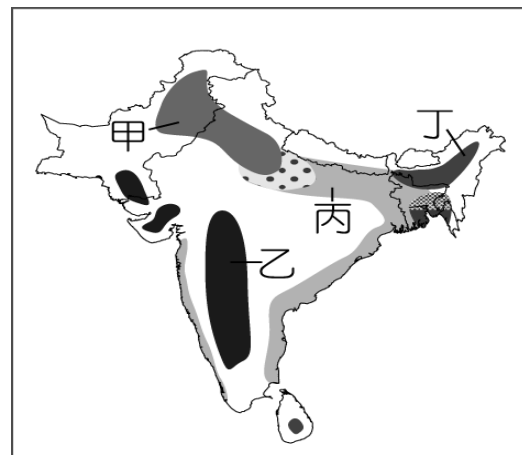
國家	一級產業	二級產業	三級產業
寮國	62%	11%	27%
日本	6%	33%	61%
泰國	27%	27%	46%
南韓	12%	34%	54%

- ()右表為日本地形的相關特色，請根據表中資料判斷，何者與現實狀況較不符合？(A)甲 (B)乙 (C)丙 (D)丁。

項目	主要特色
(甲)成因	海陸板塊接觸地帶
(乙)組成	北海道、本州、琉球、九州等四大島
(丙)特色	東部平原較多，火山地震活動頻繁
(丁)精華區	東部太平洋沿岸平原

- ()球球看了紀錄片《灣生回家》，「灣生」是指日治時期在臺灣出生的日本人，他們在日本戰敗投降後引帆返日。請問：這些灣生若從花蓮港搭船返回日本，船隻在下列哪一股洋流引領下很快就可抵達目的地？ (A)親潮 (B)黑潮 (C)親潮支流 (D)中國沿岸流。
- ()熱帶季風氣候區是東南亞主要的水稻產地，提供大量的糧食所需。請問：該地區發展水稻農業的有利條件中不包括下列何者？(A)冬夏季節風向相反(B)河川沖積肥沃平原(C)氣候溫暖生長季長(D)降水量多灌溉充足。

11. ()印度因北部的山脈阻隔，自成一個地區，於是有人將之稱為「次大陸」。請問：該座山脈受到板塊活動影響而形成，該座山脈的地形特色中不包括下列何者？(A)地勢高聳(B)地形崎嶇(C)人口較少(D)地震不多。
12. ()環境汙染問題已成為全球性的問題，臺灣曾在夏季測得來自其他國家所排放出來的汙染物。若根據位置及季風風向加以判斷，這些空氣汙染物最可能來自何地？(A)北韓 (B)南洋群島 (C)日本 (D)印度半島。



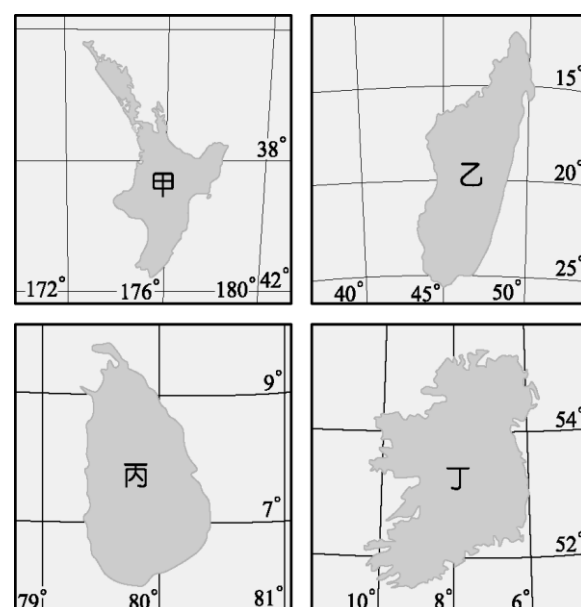
13. ()印度半島人口眾多，因此農業生產成為當地居民主要的活動，受到自然環境的影響，各地區的農業活動皆不相同。右圖為印度地區的農業活動分布圖，請根據圖中位置判斷，「丁」地的作物最可能為下列何者？(A)棉花 (B)水稻 (C)小麥 (D)茶葉。

14. ()小萱到南亞某城市旅遊，發現當地全年的天氣變化概況相似，其狀況如附圖所示，小萱最可能是到了哪一個國家？(A)尼泊爾(B)泰國(C)孟加拉(D)汶萊。

時 間	天氣特色
	太陽升起
	氣溫升高
	白雲朵朵
	風雲突變
	雨過天晴
	涼爽宜人

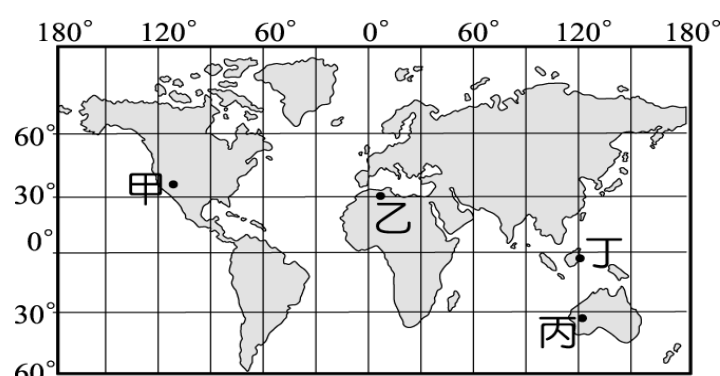
15. ()傳統上日本人吃米飯壽司，而中國華北的居民則吃饅頭麵條。兩地緯度相近，主要的糧食作物卻不相同，這種差異與下列哪一要素關係最密切？(A)氣溫 (B)雨量 (C)地形 (D)人口。
16. ()位於恆河口的孟加拉及其比鄰的印度阿薩姆邦，兩區的降水量皆相當豐沛，但經濟作物卻不同，孟加拉以黃麻為主，阿薩姆邦則以茶葉為重。造成兩地區作物差異的主因為何？(A)地形 (B)交通 (C)勞工 (D)資金。

17. ()斯里蘭卡位於熱帶氣候區內，而受到經度位置的影響，時間較臺灣晚 3 個小時。請根據上文資料判斷，下列哪一個島嶼最可能是斯里蘭卡？(A)甲 (B)乙 (C)丙 (D)丁。



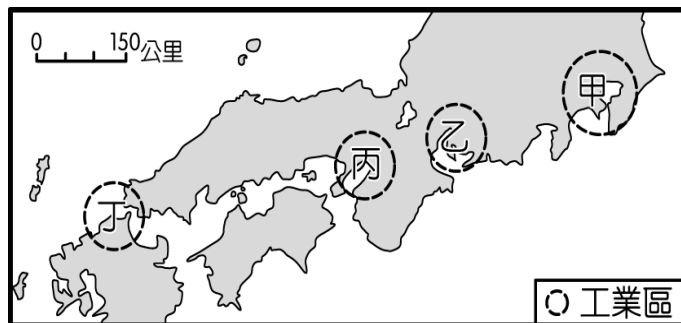
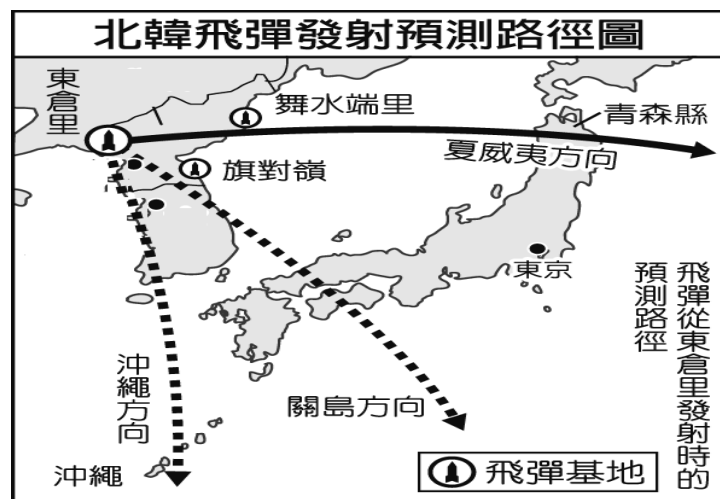
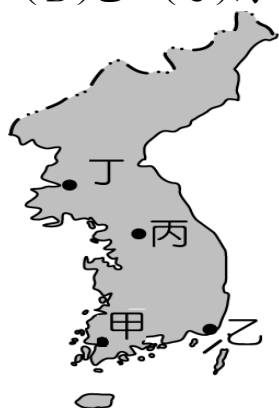
18. ()根據日本的統計資料顯示，日本勞工的平均月薪約為 5,000 美金，遠超過臺灣的 1,250 美金。請問：日本企業最可能採取下列何種經營方式以維持市場上的競爭力？(A)加入北美自由貿易市場 (B)引進優質勞工 (C)加強技術研發 (D)擴大本土企業規模。

19. ()CNN 快報：「該國才歷經颱風的摧殘，上萬居民無家可歸，正急待各界救援之際，今天早上又出現 7 級的大地震，目前災情尚不明朗，可說是屋漏偏逢連夜雨。」請問：上文中所敘述的地區最可能為右圖中何處？(A)甲 (B)乙 (C)丙 (D)丁。



二、題組：每格 2 分，共 62 分

1. 北海道是日本除了本州以外的第二大島，南方為津輕海峽，北方則是宗谷海峽。北海道觀光產業發達，憑藉著原始的自然景色、涼爽的夏季和冬季雪國景觀等旅遊資源吸引了眾多來自各地的遊客。請問：
- () (20). 北海道的地理位置如右圖所示，北部和哪一國家因為海域中的千島群島歸屬出現糾紛，形成國際間的外交問題？(A)中國 (B)俄羅斯 (C)南韓 (D)北韓。
- () (21). 北海道利用冬季的雪國景觀，舉辦雪祭吸引觀光人潮。請問：北海道當地降雪量多的因素中不包括下列何者？(A)緯度高 (B)東南季風吹拂 (C)鄰日本海 (D)季風通過海面。
- () (22). 北海道為發展觀光業，除了整建對外門戶新千歲機場外，境內最大的哪一個都市亦積極和外國城市交流，結交為姐妹市，以增加國際曝光度？(A)神戶 (B)札幌 (C)京都 (D)大阪。
2. 近年來朝鮮半島局勢緊繃，由於北韓積極發展飛彈、核武技術，再加上不斷試射、放話恐嚇等，對周遭的國家造成嚴重影響，更是讓南韓覺得備感威脅。南韓為了防止飛彈進犯，因此決定和美國合作，加裝薩德反飛彈系統。請問：
- () (23). 生活方式的差異為南北韓歧見的主要來源，附表為南、北韓的比較，其中何者正確？
(A)甲 (B)乙 (C)丙 (D)丁。
- () (24). 北韓的飛彈主要鎖定南韓重要的政治及經濟都市，其中，南韓的首都位於圖(一)中何處，因此應為飛彈防禦的重點所在？(A)甲 (B)乙 (C)丙 (D)丁。
- () (25). 承上題，其中南韓的第一大港位於圖(一)中何處？(A)甲 (B)乙 (C)丙 (D)丁。
- | | (甲)農業 | (乙)工業 | (丙)制度 | (丁)產業 |
|----|-------|-------|-------|-------|
| 北韓 | 年可二獲 | 重工業為主 | 共產制度 | 國營企業盛 |
| 南韓 | 年可三獲 | 軍火工業 | 社會主義 | 大財團為主 |
- ▲圖(一)
- ▲圖(二)
- () (26). 圖(二)為北韓飛彈發射預測路徑圖，除了南韓外，下列哪一國家正好位在其飛彈路徑上，受到的威脅最大？(A)臺灣 (B)北韓 (C)日本 (D)俄羅斯。
3. 臺灣的甲企業和日本乙公司在 2012 年洽談相關合作事宜，高達數千億日圓的合作案備受各方關注，而當事者雙方更希望可藉由兩集團之間的合作交流，促進相關產業的競爭力，達到一加一大於二的效果。請問：
- () (27). 關於上文提到的合作案，外傳甲企業打算投資大筆資金入股乙公司，一般認為最大的好處為獲得乙公司提供的哪一項工業區位條件？(A)廉價勞工 (B)豐富原料 (C)生產技術 (D)穩定能源。
- () (28). 甲企業的總裁為了這樁合作案，曾經三番兩次前往乙公司總部開會，表達合作的誠意。若甲企業總裁由臺北搭私人飛機前往日本，飛機應朝向哪一個方向飛行？(A)東北方 (B)西北方 (C)東南方 (D)西南方。
- () (29). 承第(28)題，乙公司的企業總部及主要工廠皆設於大阪，則甲企業總裁的私人飛機將在附圖中哪一個工業區降落最方便？(A)甲 (B)乙 (C)丙 (D)丁。
- () (30). 合作雙方的產業正好為臺日兩國目前經濟發展的主力，一般認為兩者的合作將可大大強化雙方的產業體質，有利國際市場競爭力的提升。上述提到的產業最可能為下列何者？(A)資訊業 (B)鋼鐵業 (C)機械業 (D)礦業。



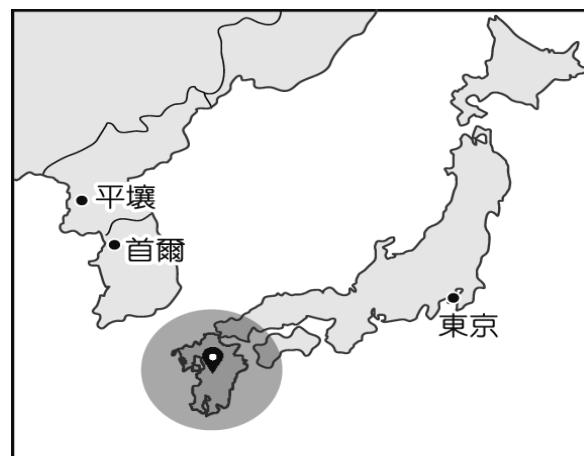
() (31). 對於日本乙公司而言，為了增加國際市場上的競爭力，目前多針對哪一目標來進行公司體質改造，以因應後起新興工業國家的競爭？ (A)減少技術研發 (B)增加產品利潤 (C)本土企業經營 (D)擴大員工招募。

4. 2016 年，日本熊本發生芮氏規模高達 7.3 的大地震，造成多人死傷，對當地產業的衝擊也相當大。附圖為熊本地震的發生地點，請根據圖中資料回答相關問題：

() (32). 根據右圖，地質系學生小蘇想知道這次地震的相關資料，他應該在日本氣象廳網站選取哪一地區，最能獲得詳細資料？ (A)北海道 (B)本州 (C)四國 (D)九州。

() (33). 2011 年的日本 311 大地震曾誘發超級海嘯，造成了嚴重傷亡；因此當熊本地震發生時，日本氣象廳發布消息呼籲哪一國家沿海居民須特別注意海嘯警報？ (A)印尼 (B)中國 (C)印度 (D)新加坡。

() (34). 日本地震頻繁，為當地重大的災難威脅，造成地震的成因與下列何者的相關性最小？ (A)溫泉 (B)火山 (C)斷層 (D)颱風。



5. 近年來中國計畫在西部邊疆打通一條新的絲綢之路（如右圖），興建中國和巴基斯坦之間的跨國鐵路網。中國希望藉由這個計畫讓巴基斯坦成為中國進口重要資源的轉運站。請問：

() (35). 右圖中中巴鐵路的規畫路線上，沿途及起始點都市的主要宗教信仰特色為何？ (A)星期日需進佛堂念經 (B)居民禁食牛肉 (C)可蘭經為社會戒律 (D)社會階級分明。

() (36). 這條中巴鐵路所經過的地區主要生產何種經濟作物？ (A)黃麻 (B)茶葉 (C)咖啡 (D)棉花。

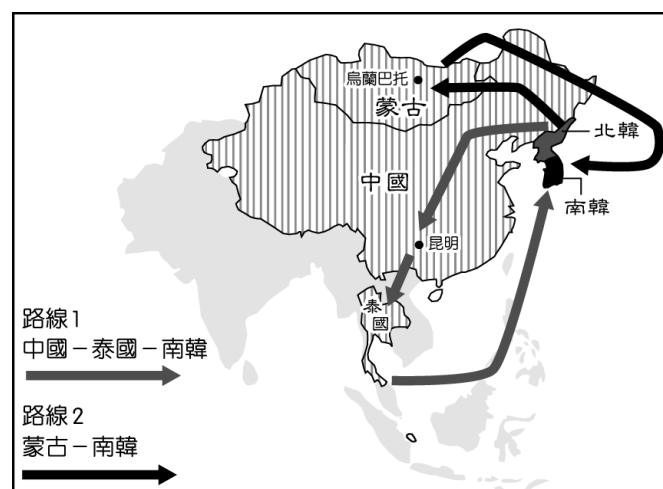


6. 北韓為共產國家，實施極權統治且經濟發展落後，因此經常出現北韓民眾逃亡海外，成為國際難民以期獲得其他國家的政治庇護。右圖為北韓難民的主要脫逃路線，請問：

() (37). 北韓的難民潮主要和該國國內生活困苦有關。由於北韓缺乏下列何項條件，因此工商業發展不佳，成為人口外移的推力？ (A)缺乏礦產 (B)缺乏市場經濟 (C)勞工不足 (D)動力不足。

() (38). 由右圖中的路線 2 來看，北韓難民必須經過哪個海域才能前往南韓尋求庇護？ (A)渤海 (B)南海 (C)黃海 (D)日本海。

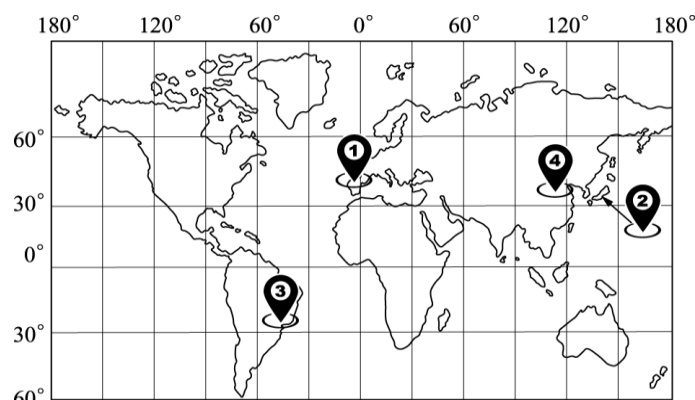
() (39). 由右圖來看，北韓難民最後大多前往同樣位於朝鮮半島上的南韓。南、北韓大致是以下列何者為界線，而形成兩個對立的政權？ (A)東經 120 度 (B)北緯 38 度 (C)太白山脈 (D)首爾市。



7. 2016 年巴西里約奧運結束，在閉幕式上將聖火交給下屆主辦都市——東京，正式宣告 2020 年奧運會將於 7 月 24 日至 8 月 9 日在日本東京舉行。根據國際奧林匹克委員會所舉行的會議中，正式選出東京為 2020 年主辦城市，打敗了土耳其伊斯坦堡及西班牙馬德里，成為目前唯一舉辦過兩次夏季奧運的亞洲城市。請問：

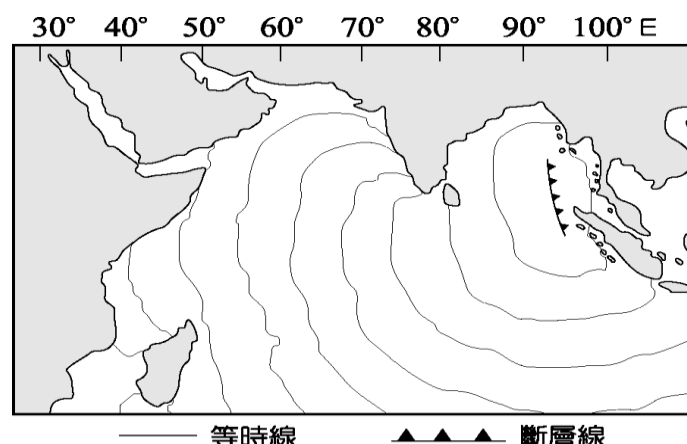
() (40). 在國際奧林匹克委員會舉辦奧運城市選拔會中，大會將三個候選城市標示於地圖上，其中東京的標示為右圖中哪一地點？ (A)① (B)② (C)③ (D)④。

() (41). 2020 年東京奧運舉辦的期間，由於可能會受到何種氣候現象的影響，容易出現大風雨而無法進行戶外賽事，因此主辦單位必須備妥雨天備案？ (A)颱風 (B)熱浪 (C)寒流 (D)暴風雪。



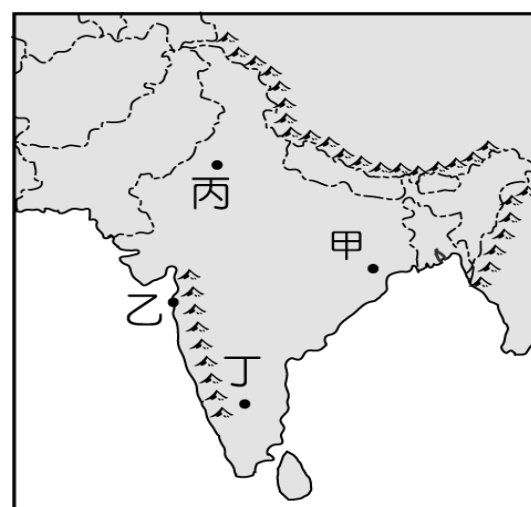
8. 2004 年印尼蘇門答臘西北海域於當地時間 12 月 26 日上午 7：58 發生芮氏規模 9 級的地震，隨後引發強烈海嘯，海嘯影響範圍波及南亞，甚至到達 7,000 公里外的非洲。附圖為海嘯前進的等時線圖。請問：

- () (42). 根據附圖中地震震源的斷層線分布位置判斷，該地震所引起的海嘯主要發生在下列哪一個海洋？ (A)太平洋 (B)大西洋 (C)印度洋 (D)地中海。
- () (43). 地震發生後所引發的海嘯，由震源依序向外影響周遭地區。根據右圖中等時線的分布判斷，下列哪一個國家受到海嘯侵襲的時間最快，可能因來不及疏散民眾，而造成嚴重的損失？ (A)巴基斯坦 (B)越南 (C)緬甸 (D)尼泊爾。



9. 近年來汽車市場上的消費版圖出現劇烈變化，在中國躍升為全球最大汽車市場後，各汽車公司正期待印度將會是下一個金礦。為此臺灣經濟部帶領國內汽車業者前往印度了解當地汽車產業投資環境，除了參觀 TAtA 等印度本土車廠外，亦到印度高科技產業重心，了解車內電子設備的整合狀況。請問：

- () (44). 中國及印度的汽車市場潛力大，被稱為中國龍、印度虎，其主要因素為何？ (A)平均所得高 (B)人口數量多 (C)石油價格低 (D)進口零關稅。
- () (45). 經濟部帶領國內汽車業者前往印度高科技產業重心參觀，該城市應位於附圖中哪一地區？(A)甲(B)乙(C)丙(D)丁。
- () (46). 近年來臺灣車商從印度進口暢銷的小車來臺，挾著低價優勢，成功搶入臺灣市場。請問：印度地區本地汽車工廠因為何種原料充足，成為生產的有利條件？ (A)錫礦 (B)石油 (C)鐵礦 (D)金礦。
- () (47). 若利用海運由印度進口汽車到臺灣高雄港，需經過的海域不包括下列何者？ (A)印度洋 (B)麻六甲海峽 (C)黃海 (D)南海。



10. 右圖為東南亞簡圖，A~J 代表國家。請回答下列問題：

- () (48). 右圖中哪一個國家曾受西班牙與美國的殖民，目前以信奉天主教為主，英語也非常普及？ (A) A (B) F (C) G (D) J。
- () (49). 近年來以石油和天然氣賺取大量外匯，指的是右圖中哪三個國家？ (A) F、H、I (B) F、G、I (C) G、H、I (D) H、I、B。
- () (50). 右圖中 A、D、E 等國的精華區皆位於何處？ (A)河口三角洲 (B)山間盆地 (C)山麓沖積扇 (D)雨量豐富的迎風坡。

