


一、單一選擇題：（每題2分）

1. 《建國大綱》是中華民國成立後，孫中山針對國家建設提出的規畫方案，將國家建設分為三個階段；請問，依《建國大綱》的規畫，國家建設依序按照哪三個階段完成？(A)訓政、軍政、憲政(B)軍政、訓政、憲政(C)軍政、憲政、訓政(D)憲政、訓政、軍政。
2. 19 世紀初的日本原為內憂外患不斷的國家，自明治維新後，逐漸蛻變為現代化國家，卻多次對鄰國發動侵略；請問，下列哪一事件與日本侵略中國最無直接關係？(A)九一八事變(B)西安事變(C)盧溝橋事變(D)一二八事變。
3. 民國 17 年，在瀋陽附近的皇姑屯被日人炸死，以及率東北軍歸順國民政府者，各為何人？(A)張勳、溥儀(B)段祺瑞、吳佩孚(C)唐繼堯、蔡鍔(D)張作霖、張學良。
4. 近代中國自清末與列強簽訂不平等條約，使國家主權、經濟等各方面受到嚴重侵害，一直到英、美等國家與中國簽訂平等新約後，才擺脫了不平等條約的束縛。請問，近代中國不平等條約的簽訂與廢除，各與哪些事有關？(A)英法聯軍、第二次世界大戰(B)鴉片戰爭、民國 17 年北伐完成後(C)鴉片戰爭、八年抗戰(D)英法聯軍、中華民國成立後。
5. 民國成立後，日本屢次對中國發動侵略，甚至採取「以華制華」策略，成立傀儡政權以控制占領區；溥儀及汪精衛皆曾擔任過日本傀儡政權領導人，以下有關兩人的敘述何者正確？(A)溥儀在九一八事變後受日本扶植(B)汪精衛在北伐期間受日本扶植(C)溥儀在一開始受日本扶植即成為滿洲國的皇帝(D)汪精衛所成立的國民政府位於上海。
6. 八年抗戰勝利後，中共獲得蘇聯大力協助，實力可與國民政府互相抗衡；而蘇聯之所以能搶先在中國東北占有優勢，掠奪物資，並進而協助中共，與抗戰期間發生的哪一件事關係最為直接？(A)珍珠港事變後，日本與美國開戰而無力顧及，蘇聯因而趁機進軍中國東北(B)因開羅會議聲明日本應將東北歸還中國(C)美、英兩國為爭取蘇聯對日宣戰，因而訂立了雅爾達密約(D)為打敗日本，國民政府再度恢復聯俄容共策略。
7. 小凡找到去年暑假到中國大陸旅遊時所拍攝的照片，照片中是旅途某景點的一個紀念碑（如右圖），紀念碑上記載了關於「二萬五千里長征」的內容。請問：有關「二萬五千里長征」的敘述何者正確？(A)蔣中正為掃盪軍閥割據，率領國民革命軍展開的北伐行動(B)此長征行動為中共主動進攻國民政府軍以擴張地盤(C)中共長征最後落腳處在陝北(D)七七事變後，中共與國民政府合作抗日所發動之軍事行動。
8. 對日抗戰勝利後，中國又因國共衝突而爆發內戰，最後演變成兩岸政權對立的局勢。請問，下列有關抗戰後國共衝突的敘述何者有誤？(A)中共因獲得蘇聯大力支持而實力大增(B)美國曾派特使馬歇爾到中國調停國共衝突(C)國民政府從一開始在軍事上就居於劣勢，因而難以扭轉局勢(D)國共關係雖緊張，國民政府仍制定中華民國憲法，並於民國 36 年底正式行憲。
9. 每年 10 月 1 日是中共的重要節日，公務機關都不上班，民眾亦安排出外旅遊。請問：這個節日是為紀念下列哪一件事？(A)中國共產黨創立(B)中華人民共和國成立(C)毛澤東生日(D)鄧小平生日。
10. 附圖是一幅歷史照片與說明，圖說人物曾兩度被俘。依據說明，此人最可能先後被下列何者所俘？(A)中國共產黨、北韓(B)中國共產黨、美國(C)日本、中國國民黨(D)日本、美國。



1947年，有一位臺南人在臺灣被政府徵召，隨部隊赴中國華北參戰，戰敗被俘後編入敵軍；1950年代，他參與韓戰，再度被俘；最後以「來歸義士」身分返臺，哭倒在母親懷中。



※ 下列為民國 21 年發布的一篇建國宣言，請回答 11~12 題：

自辛亥革命，共和國成立以來，東省軍閥，乘中原變亂之機，攫取政權，據三省為己有。……今者幸假手鄰師，驅茲醜類，舉連年軍閥盤踞，秕政萃聚之地，一旦廓而清之，此天予我滿蒙之民蘇息之良機，吾人所當奮然興起，邁往無前，以圖更始者耳。滿蒙舊時，本另為一國，今以時局之必要，不能不自謀樹立，應即以三千萬民眾之意向，即日宣告與中華民國脫離關係，創立□□國，茲特將建設綱要昭布中外，咸使聞知。……

11. 「自辛亥革命，共和國成立以來，東省軍閥，乘中原變亂之機，攫取政權，據三省為己有。」上述提到的軍閥應該是指何人？(A)段祺瑞(B)曹錕(C)吳佩孚(D)張作霖。



12. 「……即日宣告與中華民國脫離關係，創立□□國……」根據史實判斷，有關上述的□□國的敘述何者正確？(A)□□國建立時正值國民政府進行北伐期間，使北伐受挫(B)□□國的建立與蘇聯侵略中國東北有關(C)溥儀先為執政，後為皇帝，是他第三次登基為帝(D)□□國建立後，成為一個主權獨立，不受外國勢力控制的國家。
13. 1975 年蔣中正去世後，張學良曾寫了一副「關懷之殷，情同骨肉；政見之爭，宛若仇讎」輓聯悼蔣，並稱蔣對他是「白粉知己」；蔣、張兩人因「政見之爭」而鬧翻，導致「宛若仇讎」的關係，以史實分析兩人鬧翻的時空背景，下列敘述何者正確？(A)時值日本不斷對中國侵略，中國完全無法展開國內建設(B)國民政府為抵禦外侮，採取「先攘外再安內」(C)張學良當時負責西北地區的剿共工作(D)張學良受蘇聯宣傳影響，以武力挾持軟禁蔣中正。
14. 承上題，兩人關係從「情同骨肉」到「宛若仇讎」的演變，對中國的政局造成什麼影響？(A)軍閥勢力坐大(B)國共鬥爭加劇(C)日本出兵東北(D)中共絕處逢生。
15. 有關中華人民共和國建立初期的發展，下列敘述何者有誤？(A)廣納知識分子的意見(B)實施土地改革，並建立國營事業(C)建國後即以向蘇聯「一邊倒」為基本國策(D)曾組織「志願軍」援助北韓作戰。
16. 阿康參加學校舉行的校外教學，到歷史博物館參觀「蔣中正史蹟展覽」；請問：阿康在展覽會場中不會看到下列哪一事件的史料？(A)八年抗戰(B)西安事變(C)北伐統一(D)武昌起義。
17. 中國有一則相聲描寫某時期的運動：「白壇在 20 歲的時候，下放到西北的萬羊公社去勞動改造，響應知識青年下鄉插隊落戶政策，萬羊公社本來只有 650 隻羊，配合政策，以一個月內增加 6,500 隻羊做為增羊報國的目標。不料方法失當，羊群跑光光，一隻也沒有，逼得公社領導人造假，拿了 2 隻肥老鼠交差。」請問：上述相聲所描寫的某時期，會出現下列哪一口號？(A)工業現代化、農業現代化、國防現代化、科學技術現代化(B)無煤也煉焦，無焦也煉鐵(C)革命無罪，造反有理(D)抗美援朝，保家衛國。
18. 某博物館正展出一系列影響世界歷史重大的老照片，其中一張名為開羅會議三巨頭的照片（如右圖）。請問：下列有關開羅會議的敘述何者正確？(A)舉行時間在九一八事變結束後隔年(B)參加的共有中、美、蘇三國領袖(C)會後聲明日本應將東北、臺灣、澎湖歸還中華民國(D)會議主要目的是為了爭取蘇聯對日本宣戰。
19. 老師在課堂上寫下民初的歷史演進如下圖，要同學填入甲和乙的答案。請問：正確的答案為何？(A)甲：民國建立，乙：北伐完成(B)甲：北伐完成，乙：抗戰爆發(C)甲：北伐開始，乙：北伐完成(D)甲：抗戰爆發，乙：國共內戰。



※ 請根據下列資料內容，配合史實及右方地圖，回答 20~24 題：

以下為民國時期的一份文告：

「帝國主義者既使軍閥竊取政權，又使軍閥盜賣國家；既使軍閥永演閥牆之爭，令吾民受盡兵刀之苦，更嗾使軍閥壓迫革命運動，欲吾民永無自決之日……。」

以軍閥為刀俎，以吾民為魚肉，如此則無怪乎中國農民不能安於鄉，工人不能安於市，商民不能安於行旅，知識界不能安於校舍……。」

近者北方軍閥混戰經年，北京政府已不存在，我中國中部及北部人民，不但無好政府，而且亦無惡政府；不但無從減少既有之痛苦，亦且無法減輕新痛苦增加之速度……。」

……本黨至此，忍無可忍，乃不能不決於出師之一途矣……」



20. 國民革命軍的根據地是在何處？(A)甲(B)乙(C)丙(D)丁。
21. 下列哪一個人物，領導了此次的「出師」？(A)孫中山(B)蔣中正(C)蔡鍔(D)張學良。
22. 北伐期間，日本曾出兵某地，殘殺中國外交人員及軍民，位於哪一區？(A)甲(B)乙(C)丙(D)丁。
23. 北伐期間，哪一區不是用武力征服的？(A)乙(B)丙(C)丁(D)戊。
24. 國民革命軍北伐所征討的對象，不包含下列何人？(A)張作霖(B)孫傳芳(C)吳佩孚(D)張勳。
25. 歷史上總會有類似的情境會重覆出現，有時也會帶來類似的結果或影響；有關「六四天安門事件」和「五四運動」的比較，下列敘述何者正確？(A)均為學生發起的運動(B)均成功爭取到提出的訴求(C)均刺激中國的改革運動(D)均為反抗列強侵略而起。

26. 有一部電影劇情如下：「祥子回到故鄉，那裡充斥著『破四舊、立四新』的標語，他看到村長被畫分為『地主』階級而遭受殘酷的公審。後來，祥子的妻子難產，醫院裡的醫生們卻已在『打倒學術權威』的口號下被迫離開……。」請問，這部電影設定的時空背景中所發生的歷史事件，下列敘述何者正確？(A)是鄧小平為進行奪權而發動的(B)推行人民公社，以集體管理方式從事生產(C)毛澤東重新掌權後才結束混亂局勢(D)青少年學生組織的紅衛兵，會以舞蹈表演的方式來宣傳革命理論。
27. 承上題，此歷史事件對中國最大的影響為何？(A)農業生產量大幅提升(B)人民獲得更多自由(C)成功消除了中國的貧富差距(D)中國傳統文化受嚴重破壞。
28. 他為了解決當時經濟衰退的問題，提出「四個現代化」被中國官方稱為「中國改革開放的總設計師」，他所實施的政策幾乎影響到了 20 世紀後期每個中國人，也在相當程度上改變了世界。請問：上述的「他」是誰？(A)鄧小平(B)江澤民(C)習近平(D)毛澤東。
29. 下列是孫中山所成立的革命組織，按照成立的時間先後排列，下列何者正確？(甲)中國國民黨(乙)中國革命同盟會(丙)興中會(丁)中華革命黨(戊)國民黨 (A)乙丙丁戊甲(B)乙丙戊丁甲(C)丙乙戊丁甲(D)丙乙丁戊甲。
30. 河北人張元仁出生於西元 1939 年，1990 年病逝。青年時代的他，極度崇拜毛澤東，因此改名為張向東。請問：他可能遇到下列哪些史事？(甲)聯俄容共(乙)文化大革命(丙)西安事變(丁)對日抗戰(戊)國共內戰(己)胡錦濤出掌大權(庚)鄧小平推動改革開放。(A)甲乙丙丁(B)乙丁戊庚(C)乙丁戊己(D)丁戊己庚。

※ 下段資料是民國 26 年，蔣中正在盧溝橋事變發生不久後，所發表的演說內容。

請回答 31~35 題：

……從這次事變的經過，知道人家處心積慮的謀我之亟，和平已非輕易可以求得；眼前如果要求平安無事，只有讓人家軍隊無限制的出入於我們的國土，而我們本國軍隊反要忍受限制，不能在本國土地內自由駐在，或是人家向中國軍隊開槍，而我們不能還槍。換言之，就是人為刀俎，我為魚肉！我們已快要臨到這極人世悲慘之境地。這在世界上稍有人格的民族，都無法忍受的。我們的東四省失陷，已有了 6 年之久，……現在衝突地點已到了□□門口的盧溝橋。……所以盧溝橋事變的推演，是關係中國國家整個的問題，此事能否結束，就是最後關頭的境界。

31. 上文中提及「現在衝突地點已到了□□門口的盧溝橋」。請問，□□內應填上哪個城市？(A)北平(B)廣州(C)瀋陽(D)上海。
32. 承上題，此衝突的爆發，與哪一國對中國的侵略有關？(A)蘇聯(B)日本(C)德國(D)英國。
33. 承上題，「盧溝橋事變」之後，中國能應付此國侵略長達 8 年之久，下列哪一段期間對國力的培養是十分重要的關鍵？(A)洪憲帝制期間(B)袁世凱死後至北伐完成(C)十年建設期間(D)聯俄容共期間。
34. 為「以空間換取時間」，國民政府宣布遷都□□，以西南各省做為抗戰大後方，並利用中國廣土眾民的條件，制訂長期抗戰方針。請問，上述中的□□指哪一個城市？(A)成都(B)延安(C)重慶(D)武昌。
35. 戰爭初期，中國獨立作戰，直到下列哪一事件後，中國才與美、英等盟國並肩作戰？(A)盧溝橋事變(B)五三慘案(C)珍珠港事變(D)九一八事變。
36. 抗戰之後，由於哪一問題，迫使憲政無法即時全面推動？(A)蘇聯入侵(B)國共內戰(C)美援斷絕(D)二二八事件。
37. 「民國 20 年，日本軍隊炸毀日資興建的南滿鐵路一小段，然後指稱這是中國人所做的，以此為藉口，發兵攻占中國東北。南滿鐵路沿線分布許多重要礦產及城市，尤其南端有一城市，是東北地區對外出入的重要港口，自古即為兵家必爭之地，日本對其早有占領野心。」上文是描述下列哪一事件的發生經過？(A)「滿洲國」成立(B)西安事變(C)盧溝橋事變(D)九一八事變。
38. 「黃金十年」期間國民政府在政治、經濟、文化、外交、軍事等方面上皆有一定成就，整體環境被認為是中國自 1840 年鴉片戰爭以來的最高水準。有關十年建設的內容：(甲)廢除領事裁判權(乙)收回關稅自主權(丙)廢兩改元，發行法幣(丁)廢除不平等條約(戊)廣築鐵路、公路，發展航空運輸。上敘述正確的有幾項？(A)二項(B)三項(C)四項(D)五項。
39. 以下資料為民國 12 年，中國某位政治人物與某國共同發表之宣言部分內容：「□□□博士認為共產組織甚至蘇維埃制度，事實上均不能引用於中國，因中國並無可使此項共產主義或蘇維埃制度可以成功之情形存在之故。此項見解，越飛君完全同意，且以為中國最重要最迫急之問題乃在民國的統一之成功，與完全國家的獨立之獲得。關於此項大事業，越飛君並向□□□博士保證，中國當得○國國民最摯烈之同情，且可以○國援助為依賴。」請問：○國指的是何國？(A)美國(B)英國(C)法國(D)蘇聯。

40. 承上題，□□□博士所代表之黨派與○國合作的原因為何？(A)為抵抗日本侵略(B)為徹底消除中國帝制餘毒(C)為對付西方帝國主義侵略(D)為平定軍閥，統一中國。
41. 民國 25 年，有人曾發了一封電報，指責某人說：「父仇未報，更釀內亂，何以為子？以怨報德，威劫主帥，何以為將？」請問：上述內亂指的是何事？(A)寧漢分裂(B)清黨分共(C)西安事變(D)軍閥割據。
42. 1958 年起，整個中國約六億五千萬人開始總動員，努力建新的道路、工廠、城市、水壩與造林、墾荒。廣為外界所知的就是「□□□□」。可遺憾的是，這樣子的大忙一場，所得到的鋼鐵成品，卻大半是不能使用的。「□□□□」應為下列何者？(A)人民公社(B)文化大革命(C)土法煉鋼(D)改革開放。
43. 阿興在蒐集中國共產黨的歷史資料，其中有一篇《湖南農民運動考察報告》：「……農村革命是農民階級推翻地主階級的權力的革命。農民若不用極大的力量，絕不能推翻幾千年根深蒂固的地主權力。」請問：《湖南農民運動考察報告》應是下列何人的思想？(A)晏陽初(B)毛澤東(C)蔣中正(D)孫中山。
44. 「六四天安門事件」發生在下列何人掌權期間？(A)鄧小平(B)毛澤東(C)江澤民(D)習近平。
45. 老師在課堂上要同學以「八年抗戰」這段時期的歷史為背景，進行角色扮演。下列哪一位同學應是扮演當時日本軍隊將領的角色？(A)小祈：「這戰爭使我們與各國另訂平等新約，解脫百年來不平等條約的束縛。」(B)阿洲：「我們利用對外戰爭壯大了勢力，最後終於取得中國的政權。」(C)小銘：「我國投下的原子彈，讓這場戰爭迅速結束。」(D)阿光：「我們打算速戰速決，三個月內就取下中國。」
- ※ 中國共產黨成立後，其與中國國民黨之間的關係變化，可說是 20 世紀中國歷史發展的縮影，對現代中國的影響相當深遠。請依據史實回答下列 46~50 題：
46. 民國初年，中國政局混亂，為完成國家真正的統一，國共兩黨展開了第一次的合作。請問，第一次國共合作是因為當時國民黨當時採行何項策略？(A)聯俄容共(B)聯俄制日(C)安內攘外(D)抗美援朝。
47. 北伐期間，國共關係日漸緊張，最後雙方決裂，形成對抗局面。請問，有關此期間歷史發展的敘述何者正確？(A)隨北伐進展，國民政府由廣州遷往重慶，被親共人士所控制，國共關係日漸緊張(B)蔣中正在南京發動清黨，並另組國民政府(C)國共決裂後，中共在各地擴張地盤，勢力逐漸茁壯，並在陝西山區建立政權(D)民國 19 年起，國民政府多次以武力圍剿中共，迫使中共被迫撤退。
48. 民國 25 年因發生下列何項事件，以致於國民政府的剿共行動功虧一簣？(A)西安事變(B)七七事變(C)九一八事變(D)濟南事變。
49. 第二次國共合作中，共軍的基本任務是「創造根據地，牽制消滅敵人，配合友軍作戰，保存和擴大紅軍。」請問：下列何事與中共實力大增有關？(A)北伐軍閥(B)九一八事變(C)盧溝橋事變(D)聯俄容共。
50. 民國 34 年起，國共兩黨開始衝突對立，爆發軍事衝突，進而演變成全面內戰。請問，國民黨在「國共內戰」中失利的原因，下列何者錯誤？(A)未能擁有軍事優勢(B)未能解決通貨膨脹問題(C)官員貪汙腐敗(D)馬歇爾調停失敗。