

一、選擇題 (80%)

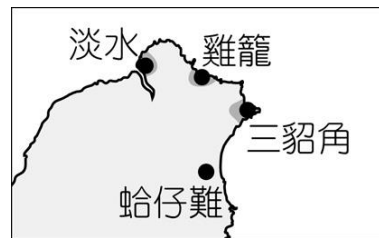
1. 歷史課同學們討論為何要學「歷史」？下列哪一選項比較恰當？ (A) 記取仇恨、加倍奉還 (B) 自我優越、稱霸世界 (C) 飲水思源、鑑往知來 (D) 背多分考試得高分。
2. 今年是西元 2019 年，請問西元紀年是和哪一宗教有關？ (A) 佛教 (B) 基督教 (C) 伊斯蘭教 (D) 道教。
3. 承上題，請問 2019 年是第幾世紀？ (A) 19 世紀 (B) 20 世紀 (C) 21 世紀 (D) 2 世紀。
4. 今年日本媒體最熱門的搜尋關鍵字是「令和」，請問令和代表的意義是？ (A) 現任天皇名字 (B) 民眾票選新地標 (C) 當今日本年號 (D) 最好吃的日本料理。
5. 判別新、舊石器時代的依據除了石器本身的製作技術不同，請問還可以用哪一項來判斷？ (A) 熟食的出現 (B) 使用石器為主要器具 (C) 骨角器的使用 (D) 已進步為農牧的產食時代。
6. 故宮博物院瓷器展廳裡有一件十七世紀日本外銷到歐洲的伊萬里瓷，在瓷盤中央有一個很明顯的 VOC 符號，這顯示出哪一個國家扮演著歐亞貿易交流的重要角色？ (A) 英國 (B) 荷蘭 (C) 葡萄牙 (D) 西班牙。



7. 俊翰暑假和家人前往東部旅遊，其中一處園區裡頭展示著大型石造物、石棺墓群和玉器陪葬物。請問：這個地方應該是哪一文化區？ (A) 卑南文化 (B) 長濱文化 (C) 大坌坑文化 (D) 達悟族文化。
8. 想要瞭解史前時代人類的活動情形，最主要的

根據是？ (A) 文字的記載 (B) 圖片 (C) 遺物和遺跡 (D) 傳說的神話。

9. 小明家裡的菲傭瑪麗亞，除了一口流利的英文，還會說幾句拉丁語，她說她的祖先來自歐洲，曾經殖民過菲律賓，請問是哪一國家？ (A) 西班牙 (B) 荷蘭 (C) 葡萄牙 (D) 英國。
10. 哲偉正在研究十七世紀某國在東亞地區的勢力發展圖，如附圖所示，由圖中的幾個重點發展地區來判斷，這應該是哪個國家的勢力範圍？ (A) 日本 (B) 英國 (C) 西班牙 (D) 葡萄牙。



11. 北星國中校外教學入住圓山大飯店，領隊介紹這裡有重要的史前遺址，請問這處遺址的重要遺物遺跡應該是？ (A) 粗繩紋陶 (B) 石棺 (C) 煉鐵坊 (D) 貝塚。
12. 荷蘭人統治臺灣時期，總督曾說：「臺灣，真是頭好乳牛。」請問：荷蘭人占領臺灣的目的為何？ (A) 作為荷蘭的領土之一 (B) 成為荷蘭向日本傳教的跳板 (C) 以臺灣做為國際貿易的轉運站 (D) 成為荷蘭在亞洲的傳教中心。
13. 十四世紀後半葉，臺灣沿海地區和澎湖，逐漸成為哪些民族從事國際走私貿易和海盗活動的據點？ (A) 葡萄牙人與西班牙人 (B) 西班牙人與日本人 (C) 荷蘭人與西班牙人 (D) 漢人與日本人。
14. 國一新生潘豪，因為祖先長期接受漢人文化，使族人已漸漸忘記自己的母語。請問下列哪一本書能讓潘豪更了解自身文化？ (A) 《飛魚的故鄉》 (B) 《認識台灣平埔族》 (C) 《賽夏矮靈祭探詢》 (D) 《賽德克巴萊》。
15. 請問畫分人類歷史發展的「史前時代」與「歷史時代」，是依據哪一項重大技能的出現？ (A) 使用火 (B) 石器的製作 (C) 陶罐的製作

(D)文字的出現。

16.十七世紀荷蘭佔領台灣南部後，與漢人、日本人展開貿易競爭，請問荷蘭與日本商人主要的衝突點是？(A)徵稅 (B)傳教 (C)貿易範圍 (D)商品項目。

17.嘉義市有前人遺留下來的「紅毛井」、「紅毛埤」，「紅毛」是指哪一國？(A)日本 (B)荷蘭 (C)葡萄牙人 (D)西班牙。

18. 荷蘭人統治臺灣期間，在臺灣從事殖民政策，生產多項商品，以供應貿易外銷，外銷的商品中，不包括下列哪項？(A)茶葉 (B)蔗糖 (C)鹿皮 (D)稻米。

19.姿穎參加某縣市舉辦的「文化尋根一日遊」的活動，他看到了一面古城牆，說明牌上寫著「紅毛城遺址」。請問：姿穎參加的應該是哪一縣市舉辦的活動？(A)臺北市 (B)基隆市 (C)新北市 (D)臺南市。

20.歷史課老師要同學分組演出史前人類的生活劇，小天這組抽到的是新石器大坌坑文化時期人類的生活方式。請問：劇情中應該會出現下列哪一種生活方式？(A)人們過著茹毛飲血，只能生吃食物的原始方式 (B)利用冶鐵工作坊，打煉獵殺動物的鐵器 (C)利用磨製的石鋤，好好整地耕種 (D)利用青銅製作銅鏡，可以整理容貌。

21.臺北總統府前的「介壽路」，已經改名為「凱達格蘭大道」。請問：凱達格蘭屬於哪一個族群？(A)高山族 (B)平埔族 (C)閩南人 (D)客家人。

22..清朝康熙時期對於中國東南沿海區域實施海禁政策，請問其用意是？(A)倭寇騷擾沿海地區 (B)經濟封鎖鄭氏 (C)反制荷蘭的國際貿易 (D)打擊顏思齊與鄭芝龍。

23.建築風格現代前衛的十三行博物館裡，陳列眾多十三行代表性的出土文物，有中國大陸的銅錢、南洋一帶的瑪瑙珠飾、玻璃珠飾等，其中最重要的是鐵渣的出土。請問：這在歷史上具有何種意義？(A)代表採集生活的發端 (B)象徵磨製石器的出現 (C)反應稻米農作的起源 (D)顯示鐵器時代的開始。

24.如下圖，原始人在海蝕洞外活動，志明在打製石器，春嬌用火烤魚。這是指哪一文化人的生活特色？(A)卑南文化 (B)圓山文化 (C)大坌坑文化 (D)長濱文化。

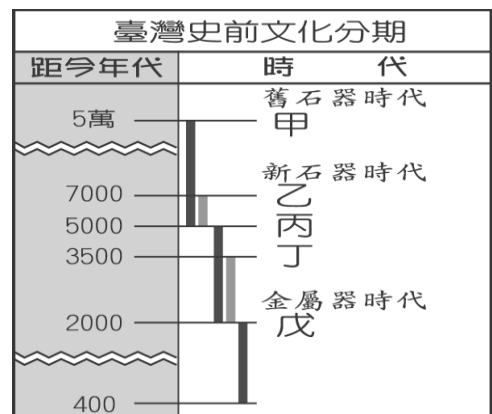


25.西班牙曾在臺灣發展勢力，為何僅為時十餘年即退出？(A)鄭成功將其驅逐，西班牙人只好退回菲律賓 (B)日本實施鎖國政策，使西班牙對日貿易及傳教的目的未能達成 (C)沈有容將之擊退，西班牙在臺灣受到明朝政府的干涉 (D)郭懷一領導反對運動，令西班牙認為臺灣難以統治。

26.有「鄭家諸葛」之稱，並且在台實施科舉設立孔廟的功臣是？(A)施琅 (B)李旦 (C)沈有容 (D)陳永華。

27.早期原住民族沒有文字，我們透過神話傳說作為理解原住民發展的重要素材，請問我們應抱持哪種態度來看待？(A)岩石說誇大不實嚴厲駁斥 (B)跟中國都有類似射日傳說，可見原住民都來自中國 (C)洪水傳說映證原住民都住在高山地區 (D)原住民敬畏大自然，尊重其說法。

28.下圖是臺灣史前文化分期表，根據圖中所示，「戊」的部分應是屬於下列哪個文化分期？(A)大坌坑文化 (B)卑南文化 (C)圓山文化 (D)十三行文化。

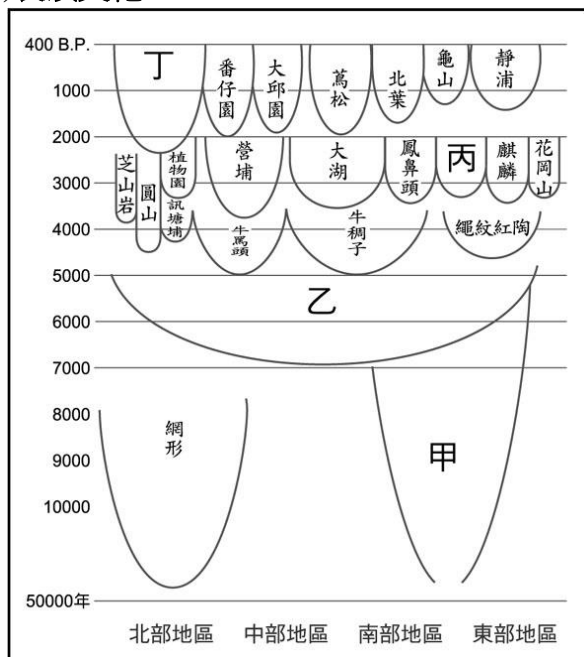


29.鄭成功決定東取台灣的主要原因，下列何者正確？ (A)繼承父業成為海上霸主 (B)戰略地位重要可據地為王 (C)與荷蘭人有殺父之仇要報 (D)作為反清復明的基地。

30.熊熊跟同學去參觀臺灣史前文化的博物館，看到先民使用過的陶罐、鐵刀，和骨製的矛與魚鉤等器具。請問：他們參觀的博物館應該是以展出哪一個史前文化為主題？ (A)圓山文化 (B)長濱文化 (C)十三行文化 (D)大坌坑文化。

31.十六~十七世紀的台灣成為西方列強競爭的焦點，請問原因是？ (A)茶葉樟腦利潤豐厚 (B)地理位置相當優越 (C)四季如春氣候宜人 (D)海盜原住民易於控制。

32.圖為臺灣史前文化的時間與空間架構圖。由圖判斷，「丙」應該是指下列哪一文化？ (A)十三行文化 (B)卑南文化 (C)大坌坑文化 (D)長濱文化。



33.承上題圖表，代號“乙”文化遺址遍及台灣各地區，甚至中國華南地區(東南沿海省分)也發現此文化遺址，請問是下列哪一文化？ (A)十三行文化 (B)大坌坑文化 (C)卑南文化 (D)長濱文化。

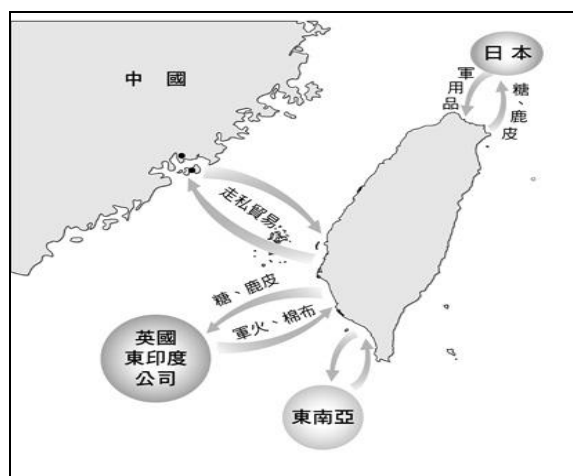
34.下圖是全球南島語系分布圖，根據此圖判斷，下列哪一族群不屬於南島語族？ (A)台灣漢人 (B)菲律賓原住民 (C)紐西蘭毛利人 (D)臺灣原住民。



35.西元 1683 年施琅攻下澎湖，當時台灣掌權者降清並且押往北京拘禁，請問此位降清者是？ (A)鄭克塽 (B)鄭成功 (C)鄭芝龍 (D)鄭經。

36.小雄暑假到高雄市左營區參觀海軍敦睦艦隊巡演。請問：左營地名的由來與下列何者有關？ (A)平埔族學習農業的聚落 (B)軍隊屯墾土地的證據 (C)西班牙人傳教的區域 (D)荷蘭人的建設與開發。

37.阿花在研究臺灣經濟發展時，看到一張臺灣的對外貿易圖，如附圖所示，由圖中的貿易情形可知，這應該是何時期的貿易狀況？ (A)荷蘭在臺時期 (B)鄭氏治臺時期 (C)西班牙的國際貿易 (D)原住民的對外貿易。



38.荷蘭人統治臺灣的時候，從中國大陸招募漢人來臺，但是荷蘭人為了保障自己的經濟利益，對漢人的管制非常嚴格，甚至於壓迫漢人。在這樣的背景下，終於爆發了人民反抗統治者的事件。請問：荷蘭人占據臺灣時，爆發了何人所領導的反政府事件？ (A)沈有容 (B)郭懷一 (C)鄭芝龍 (D)李旦。

39.臺灣地區的原住民，依其主要生活區域的不同，可分為「平埔族」和「高山族」。其中有

關「平埔族」的敘述，下列哪一項是錯誤的？
 (A) 其漢化的時間較高山族稍早 (B) 早期生活在平原、沿海一帶 (C) 鄒族是嘉義地區的平埔族 (D) 移入臺灣的時間在漢人之前。

40. 小美準備為歷史人物寫傳記，她蒐集的資料如附圖所示。請問：小美正準備寫下列哪一位歷史人物的傳記？ (A) 鄭芝龍 (B) 沈有容 (C) 韋麻郎 (D) 顏思齊。

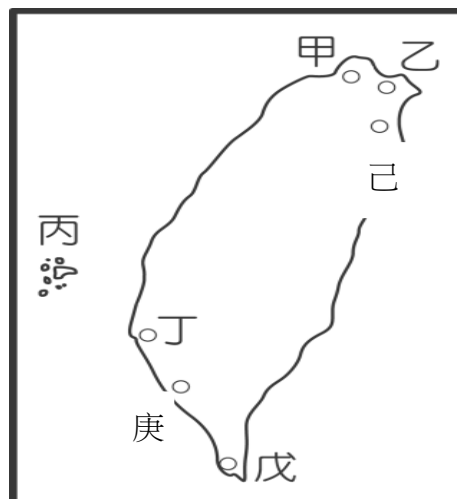
- 一、明朝將領。
 二、三大功勳：
 1. 到臺灣驅逐倭寇。
 2. 在澎湖諭退荷蘭人。
 3. 俘獲倭寇。

(一) 北星國中一年級安排學校戶外教學，該地區遊客中心提供地圖如下：請依此圖回答謝列問題：



41. 請問這次校外教學的地區應該是？ (A) 嘉義市 (B) 嘉義縣 (C) 台南市 (D) 高雄市。
 42. 遊客中心的導覽圖提到了最早來此地區建城統治的是？ (A) 葡萄牙人 (B) 鄭成功 (C) 荷蘭人 (D) 西班牙人。
 43. 地圖中的“乙”最早應該是哪一古蹟？ (A) 熱蘭遮城 (B) 聖多明哥城 (C) 紅毛城 (D) 普羅民遮城。
 44. 地圖中的“甲”最早應該是哪一古蹟？ (A) 熱蘭遮城 (B) 聖多明哥城 (C) 紅毛城 (D) 普羅民遮城。
 45. 請問該地區早期居住的原住民是？ (A) 和安雅族 (B) 西拉雅族 (C) 達悟族 (D) 賽德克族。

(二) 旅遊節目「愛玩客」這次的主題是古蹟文化之旅，請依據下列附圖代號回答問題



46. 想要讓來自荷蘭的交換學生緬懷先人在台留下來的古蹟，請問該前往地圖中的哪些地區？ (A) 甲乙 (B) 乙丙 (C) 乙丁 (D) 甲丁。
 47. 想要帶來自西班牙的交換學生緬懷先人在台的活動足跡，應該帶他們去？ (A) 甲乙 (B) 己戊 (C) 丁庚 (D) 丙丁。
 48. 外籍學生喜歡寺廟建築，他們對於我國的第一座媽祖廟感興趣，因為裡頭還保有一個「諭退紅毛番韋麻郎」的紀念碑，是為了紀念明朝將領將荷蘭人逐出該地的歷史事蹟，請問是地圖中的哪一區？ (A) 甲 (B) 乙 (C) 丙 (D) 丁。
 49. 主持人帶著大家前往祭拜鄭成功的延平郡王祠參訪，請問是在地圖上的哪一區？ (A) 甲 (B) 乙 (C) 丙 (D) 丁。
 50. 荷蘭人在台灣最早建立的城堡，目前的名稱是？ (A) 赤崁樓 (B) 安平古堡 (C) 億載金城 (D) 紅毛城。