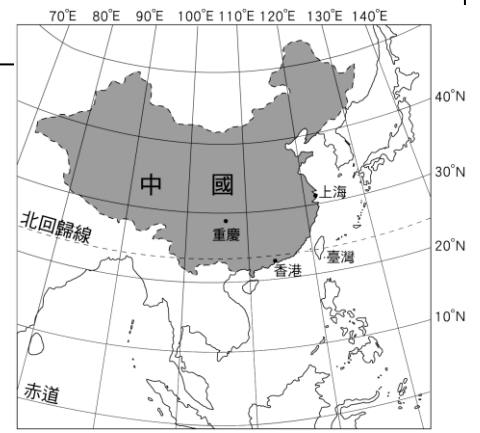


單一選擇題(每題2分，共100分)


一、中國疆域面積廣大，蘊藏豐富的資源，提供國家發展有利條件，請問：

- ( )中國東側濱臨哪個海洋？ (A)太平洋 (B)大西洋 (C)印度洋 (D)北極海。
- ( )放寒假的時候，曉翰去了哈爾濱滑雪，小林則去了海南島享受海島的溫暖陽光，兩地景觀差異如此大的主要原因為何？ (A)緯度跨度大 (B)海陸差異大 (C)經度跨度大 (D)地形差異大。
- ( )珠穆朗瑪峰位於下列何地？ (A)中國與印度邊境上 (B)中國與尼泊爾邊境上 (C)中國與巴基斯坦邊境上 (D)中國與阿富汗邊境上。
- ( )由圖可知「中國西部深入亞洲內陸，東部沿海地區進出口貿易便利」上文是描述中國哪個地理特色的優越性？ (A)面海背陸，宜海宜陸 (B)位居中緯度，氣候溫和 (C)位居東半球，鄰國眾多 (D)面積廣大，幅員完整。



二、中國的海岸線綿長，各段因海岸附近地形的差異，導致海岸地形有所不同。請依據中國海岸的特色，回答下列問題：

- ( )中國海岸若以沙岸和岩岸的分類來看，兩種海岸的顯著劃分點大致在下列何處？ (A)廈門灣 (B)長江口 (C)杭州灣 (D)黃河口。
- ( )岩岸地區較適合發展下列哪種經濟活動？ (A)鹽業 (B)海洋漁業 (C)養殖漁業 (D)農業。
- ( )只考慮地形，附圖產業活動適合在下列哪個地理區發展？ (A)遼東半島 (B)東南丘陵 (C)山東半島 (D)珠江三角洲。

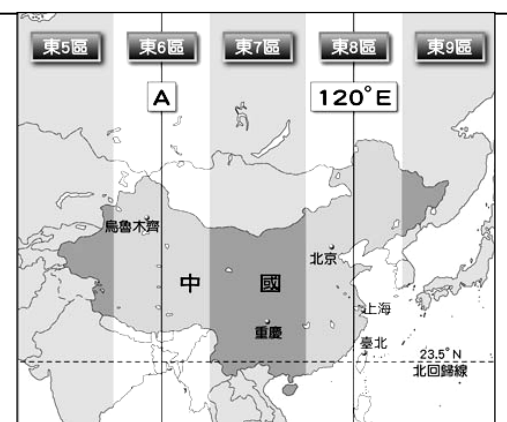


三、中國地形複雜多樣，請問：

- ( )中國的五大地形中，比例最高的是哪兩種地形？ (A)高原、平原 (B)丘陵、平原 (C)山地、盆地 (D)山地、高原。
- ( )中國的五大地形中，農業發達、人口密集的精華區是在何種地形？ (A)山地 (B)高原 (C)盆地 (D)平原。
- ( )關於中國地形特徵的說法，下列何者正確？ (A)地形多樣，平原面積最大 (B)西高東低，呈階梯狀分布 (C)多山地、高原，四周低，中間高 (D)東半部山脈以東——西走向為主。

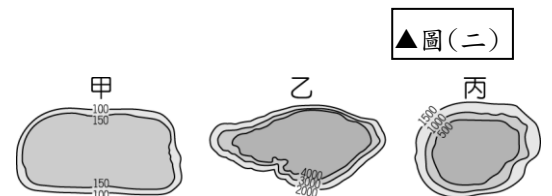
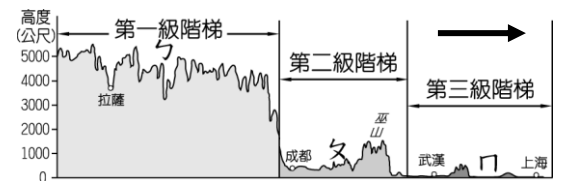
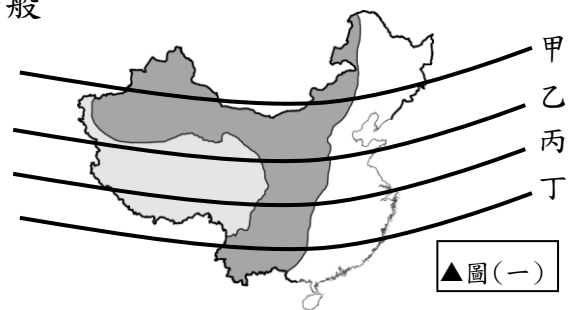
四、附圖為中國時區圖。請問：

- ( )中國橫跨五個時區，造成此現象的原因為何？ (A)地形起伏大 (B)氣候複雜多樣 (C)領土南北相差 30 餘度 (D)領土東西相差 60 餘度。
- ( )由此圖可得知下列哪項訊息「有誤」？ (A)上海時間較倫敦(0°)快 8 小時 (B)重慶的日落比臺北早 (C)烏魯木齊與北京日出時間差 2 小時 (D)北京與上海沒有時差。
- ( )小雨從臺北飛往北京參加「長城之旅」，下飛機後她的手錶應該如何調整？ (A)撥快 1 小時 (B)撥慢 1 小時 (C)不需調整 (D)無法判斷。
- ( )圖中的「A」應為經線幾度？ (A)60°E (B)90°E (C)150°E (D)180°。
- ( )住在烏魯木齊的阿茂在 18:00 時上網與網友阿俊聊天，請問住在英國倫敦的阿俊當地時間是幾點？ (A)2:00 (B)4:00 (C)10:00 (D)12:00。



五、請根據圖(一)、圖(二)、圖(三)，回答下列問題：

16. ( )圖(二)的繪圖方法，是用來表示地表起伏的一種圖示法，一般稱為 (A)圓餅圖 (B)地形剖面圖 (C)等高線圖 (D)分層設色圖。
17. ( )圖(二)是依圖(一)中的哪條剖面線畫出？ (A)甲 (B)乙 (C)丙 (D)丁。
18. ( )圖(二)的→所指的方向為何？ (A)東 (B)西 (C)南 (D)北。
19. ( )圖(二)中ㄉ、ㄅ、ㄇ三個地形區的等高線圖，依序應為圖(三)中的何者？(A)甲乙丙 (B)甲丙乙 (C)乙丙甲 (D)乙甲丙。
20. ( )「第三級階梯」是以哪兩種地形為主？ (A)平原、丘陵 (B)丘陵、高原 (C)高原、盆地 (D)高原、平原。
21. ( )第一級階梯平均高度在 4,000 公尺以上，其中有「世界屋脊」之稱的是 (A)雲貴高原 (B)青藏高原 (C)黃土高原 (D)內蒙古高原。
22. ( )位於中國地勢的第二、三級階梯分界線上，且是黃土高原與華北平原的界山，是指下列何者？ (A)崑崙山 (B)太行山 (C)祁連山 (D)大興安嶺。
23. ( )由圖(二)可知中國地勢西高東低，以下何者[不是]其影響？ (A)一江春水向東流 (B)西部山脈呈東——西走向 (C)興建南北向運河 (D)暖溼的海洋氣流可吹入內地。



▲圖(三)

六、請根據附圖的中國地形簡圖，回答下列問題：

24. ( )觀察附圖中的山脈走向，中國西半部山脈的走向，多以何種方向為主？ (A)東—西 (B)南—北 (C)東北—西南 (D)西北—東南
25. ( )承 24 題，中國西半部的山脈走向，是因為什麼板塊推擠歐亞板塊而形成？ (A)印澳 (B)北美 (C)太平洋 (D)阿拉伯。
26. ( )中國的山脈中，下列何者是呈東北——西南走向？ (A)秦嶺 (B)崑崙山 (C)武夷山 (D)喜馬拉雅山。
27. ( )觀察附圖中的河川，其主要流向為何？ (A)← (B)→ (C)↑ (D)↓。



七、附圖為渝新歐鐵路路線的示意圖，中國藉由該路線的開通，改變了世界物流格局，使得在華中的重慶成為物流中心，將東亞的物品運送至歐洲。昔日海運需要 36 天才能到歐洲，而今日由重慶到歐洲僅需 12 天，時間大大縮短。請問：

28. ( )昔日利用海運較為耗時，通常由中國東南沿海港口出發，航經東南亞海域，再往西航抵歐洲。請問：船隻在東南亞海域上會通過中國與哪一海上鄰國重疊的經濟海域？ (A)俄羅斯 (B)南韓 (C)菲律賓 (D)日本。
29. ( )請依圖中資料判斷，該路線所經過的陸上鄰國可能包括下列哪一國家？ (A)哈薩克 (B)越南 (C)印度 (D)蒙古。
30. ( )渝新歐鐵路的列車在行進當中，會搭配衛星定位系統，以便增加其效率。請問：列車由圖中的起點向終點航行，則經緯度的主要變化應該為何？ (A)經度度數增加、緯度度數減少 (B)經度度數增加、緯度度數增加 (C)經度度數減少、緯度度數減少 (D)經度度數減少、緯度度數增加。



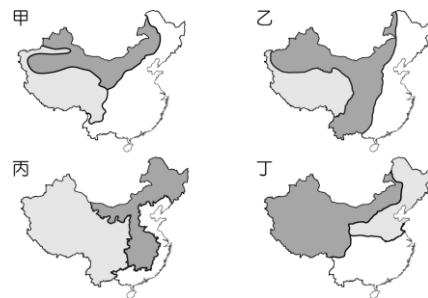
八、附圖為中國四大高原分布圖，根據圖回答下列問題：

31. ( ) 中國哪個高原以「石灰岩地形」著稱？ (A)甲 (B)乙 (C)丙 (D)丁。
32. ( ) 小紅利用假期到中國 陝西省旅遊，有時她看到的景點近在眼前卻要繞道前往。其原因是丙高原出現何種地形特色？ (A)千溝萬壑 (B)湖群散布 (C)河道縱橫 (D)峰巒聳立。
33. ( ) 小松到中國旅行，本想好好欣賞當地雄偉的冰河景觀，卻感到頭疼、噁心、呼吸困難，只好戴上氧氣罩下山，才減輕這些症狀。請問：小松比較有可能是到下列哪個地形區？ (A)甲 (B)乙 (C)丙 (D)丁。
34. ( ) 青藏高原受地形影響，呈現出下列哪個特徵？ (A)交通不便 (B)產業發達 (C)人口密集 (D)氣候炎熱。



九、中國依區域特性不同可分為不同的地理區，其畫分方式如附圖所示。請由圖中資料回答下列問題：

35. ( ) 中國近年來經濟發展快速，卻也造成各地發展的程度不同。附圖中何者最適合呈現中國經濟發展的區域特色？ (A)甲 (B)乙 (C)丙 (D)丁。
36. ( ) 乙圖中各區域畫分的指標主要為下列何者？ (A)氣候類型 (B)整體特色 (C)經濟發展 (D)地勢高低。
37. ( ) 丁圖中國被分為三大區塊，請問北部和南部的分界為何？(A)巫山 (B)秦嶺 (C)武夷山 (D)太行山。

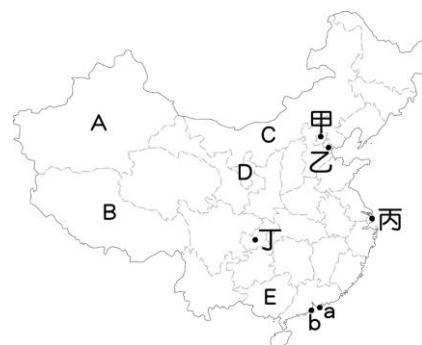


十、中國幅員遼闊，將國土劃分成 33 個省級行政區，請回答下列問題：

38. ( ) 中國設置行政區的目的？(A)加強貿易 (B)礦產開採 (C) (D)方便管理。
39. ( ) 中國最大也是最西的省級行政區(A)福建省 (B)黑龍江省 (C)西藏自治區 (D)新疆維吾爾自治區。
40. ( ) 下列何者是直轄市，也是中國的首都？ (A)北京市 (B)重慶市 (C)廣州市 (D)南京市
41. ( ) 北回歸線穿越的省級行政區有：(甲)廣東省(乙)雲南省(丙)廣西壯族自治區，由西向東排列，下列何者正確？ (A)甲乙丙 (B)丙甲乙 (C)乙丙甲 (D)乙甲丙。
42. ( ) 中國行政區的畫分除了考量政治或經濟因素外，還反映了該區域的人文特色。若以此為考量，內蒙古自治區的人文特色最可能為下列何者？ (A)中央政府機構 (B)一國兩制區域 (C)中國金融中心 (D)少數民族分布。

十一、2019 年 2 月 13 日，香港政府宣布修訂《逃犯條例》。從這一天起，到八一八大遊行，香港社會度過了回歸後困難及激情的 185 天。半年以來，超過 200 萬人站出來，向港府的專斷說「NO」，此為[反送中]運動。

43. ( ) 香港位在圖中的 (A)甲 (B)乙 (C)a (D)b。
44. ( ) 香港因特殊的社會與經濟制度，故特別設置了一種省級行政區。請問：此種行政區的名稱為何？ (A)省 (B)自治區 (C)直轄市 (D)特別行政區。
45. ( ) 香港在此事件上反應激烈，是因為曾經受何國統治，在生活型態與經濟發展上與中國有絕大的不同？ (A)英國 (B)法國 (C)德國 (D)葡萄牙。
46. ( ) 香港做為世界金融、交通轉運中心，與何者最相關？(A)地形 (B)位置 (C)氣候 (D)水文。



十二、中國自 2014 年開始在南海填海造陸將「礁變島」，主要目的是爭奪南海強權地位。

47. ( ) 南海為中國三大緣海之一，所謂緣海是指位在大洋邊緣，前臨「大洋」、後連大陸的海域。請問：「南海」前臨的大洋與後連的大陸組合，下列何者正確？ (A)太平洋、歐亞大陸 (B)大西洋、歐亞大陸 (C)印度洋、非洲大陸 (D)太平洋、非洲大陸
48. ( ) 中國在南海地區填海造陸，下列哪一個國家對領土主權主張的影響「較小」？ (A)越南 (B)馬來西亞 (C)菲律賓 (D)南韓
49. ( ) 「中國不斷填海造陸，增加國土面積，引起世界疆域面積排名第三的○○特別關注……」。請問：上述的○○是指哪一個國家？ (A)俄羅斯 (B)加拿大 (C)美國 (D)巴西
50. ( ) 由於南海水道對鄰近各國在戰略及經濟地位日漸重要，因此各國紛紛進行填海造陸的工程，主要是為了增加哪些類型海域的控制權？ (A)領海、公共海域 (B)經濟海域、私人海域 (C)領海、經濟海域 (D)經濟海域、公共海域