

一、單一選擇題：每題2分，共88分

() 1、夏、商、周三個朝代，各有其部族的發源地。請問：「三代」的起源地，從黃河上游到下游的順序排列，應是下列何者？

(A)夏→商→周 (B)商→夏→周 (C)周→夏→商 (D)周→商→夏。

() 2、「葡萄美酒夜光杯，欲飲琵琶馬上催。」此名句出自於唐朝王翰的《涼州詞》。請問：葡萄琵琶應在何時傳入中國的？

(A)西周 (B)東周 (C)秦朝 (D)漢朝。

() 3、耀翔看電視節目「決戰三國」時，裡面出現董卓、袁紹、曹操等人物，耀翔為了瞭解這些人物的個性，上圖書館查閱相關資料，發現這些人物皆在東漢末年崛起。請問：造成東漢末年群雄崛起的原因與下列何者最有關聯？

(A)黃巢之亂 (B)楚漢相爭 (C)王莽篡位 (D)黃巾之亂。

() 4、「清明時節雨紛紛，路上行人欲斷魂」，清明節是漢人祭祀的重要日子。請問：漢人祭祀的觀念源自於哪一朝代？

(A)夏朝 (B)商朝 (C)西周 (D)東周。

() 5、漢武帝曾推行「鹽鐵酒專賣制度」，其目的為何？

(A)統一國家文物制度 (B)確立中央集權統治 (C)鼓勵民努力生產 (D)籌措征伐匈奴經費。

() 6、客語電影「1895」描寫的是台灣「乙未戰爭」抗日紀錄，而「乙未」這樣記年、記日的方式已沿用三千多年。請問：此制度始自於何時？

(A)黃帝 (B)夏朝 (C)商朝 (D)周朝。

() 7、《尋秦記》是作家黃易的一本玄幻小說。故事講述現代特種部隊的菁英項少龍，在一次時光機器的實驗裡，被送回到戰國時期，並在無意間協助「某人」成為中國史上第一位皇帝。請問：「某人」是誰？

(A)嬴異人 (B)呂不韋 (C)嬴政 (D)劉邦。

() 8、一年一度的中秋佳節晚上，民眾聚在庭院裡賞月烤肉，和樂融融。請問：史前時代的人類，最早懂得用火烤肉，首推下列何者？

(A)山頂洞人 (B)長濱人 (C)北京人 (D)丁村人。

() 9、「運籌帷幄，我不如張良；管理國家，我不如蕭何；率領千軍，我不如韓信。但是我能任用他們就是我的成功。反觀，項羽只有一個范增，卻不能任用，最終敗在我手下。」請問：這段話最可能出自何人所言？

(A)秦始皇 (B)漢高祖 (C)漢武帝 (D)漢光武帝。

() 10、耀祖的爸爸說：「爹是種田的，所以你以後長大也只能種田。」依此判斷，耀祖最有可能生活於何時？

(A)西周 (B)春秋 (C)戰國 (D)秦漢。

() 11、判別新、舊石器時代，主要可以依據哪一標準？

(A)已知用火 (B)審美觀念的萌芽 (C)文字的發明 (D)農業生活的出現。

() 12、春秋戰國時代的歷史大勢為下列何者？

(A)春秋五霸代表西周的形勢，戰國七雄代表東周的形勢 (B)春秋時代決定大局變化的是王室，戰國時代決定大局變化的是諸侯 (C)春秋時代五霸先後稱霸，戰國時代七雄同時並峙 (D)春秋時代各國爭霸，戰國時代各國爭盟。

() 13、巴隆的部落最近正在慶祝新酋長的就任，原來年事已高的酋長決定不將位子傳給自己的兒子，而是尊重部落長老推舉的人選，讓善於捕獵的勇士領導整個部落。請問：這和中國古代哪一個制度相似？

(A)禪讓制度 (B)宗法制度 (C)察舉制度 (D)井田制度。

() 14、請將下列事件按照先後順序排列？(甲)周公東征 (乙)管蔡之亂 (丙)武王伐紂 (丁)犬戎之禍

(A)甲乙丙丁 (B)丙乙甲丁 (C)乙丁丙甲 (D)丙甲乙丁。

() 15、夏商周合稱三代，下列關於三代的敘述，何者正確？

(A)三代皆無文字，後人僅能由考古資料來加以了解 (B)三代皆位於黃河流域，並由上游逐漸往下游發展 (C)三代的政權轉移皆採取傳賢不傳子方式，實為政治美談 (D)三代為青銅器時代，顯示均已具備國家統治力量。

- () 16、歷史上有一個國君曾遷都於「殷」，開創「殷商文化」。請問：這個國君是何人？
 (A)武庚 (B)商湯 (C)盤庚 (D)紂王。
- () 17、歷史學者曾指出：「西周的封建，乃是一種侵略性的武裝移民與軍事占領。」上述朝代的封建擴張，主要是往下面圖中的哪一方向？ (A)甲 (B)乙 (C)丙 (D)丁。



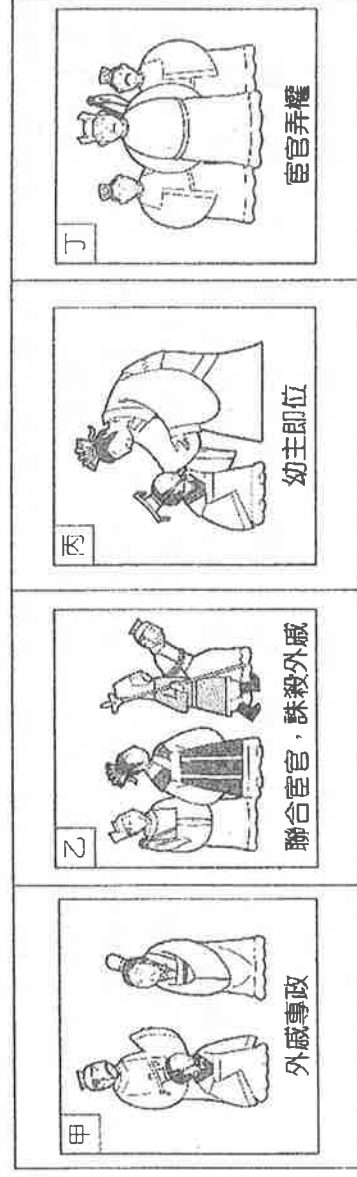
- () 18、「草萊識節和，木衰知風勵。雖無紀歷志，四時自成歲。怡然有餘樂，于何勞智慧。」這首詩所憧憬的世界應是下列哪一家學說的理想？
 (A)儒家 (B)道家 (C)法家 (D)墨家。
- () 19、春秋時代，諸侯中實力強大者開始崛起，出現了「春秋五霸」。當時的霸主以「尊王攘夷」的原則，維持國際間的秩序。請問：此處的「王」指的是誰？
 (A)齊桓公 (B)西周天子 (C)楚莊王 (D)東周天子。
- () 20、「此人」以外戚身分接受當朝皇帝的禪讓，實則篡位，受到史學家諸多批評。但近代學者胡適為此入平反，胡適認同此人改革中的土地國有、均產、廢奴三大政策。請問：「此人」是下列何者？
 (A)張角 (B)項羽 (C)劉秀 (D)王莽。
- () 21、耀文和耀武是生活在西周時期的一對親兄弟。根據左下附圖中的談話，兩人父親的身分應該是下列何者？ (A)天子 (B)諸侯 (C)大夫 (D)士。



項目	西周→東周
(甲)政治	尊王攘夷→爭霸爭雄
(乙)社會	世襲貴族→平民崛起
(丙)經濟	土地私有→井田制度
(丁)思想	私人講學→百家爭鳴

- () 22、歷史老師請同學在黑板上寫下西周至東周的變遷表(如右上附表)，表中項目何者正確？
 (A)甲 (B)乙 (C)丙 (D)丁。
- () 23、以下哪些是秦國得以滅六國，統一天下的有利助因？
 (甲)商鞅變法 (乙)張儀「連橫」政策 (丙)蘇秦「合縱」政策 (丁)管仲的輔佐
 (A)甲乙丙 (B)甲乙丁 (C)乙丙丁 (D)甲乙。
- () 24、請同學根據所學的歷史知識判斷，秦始皇與漢武帝的相同事蹟為下列何者？
 (A)開國皇帝 (B)使用年號 (C)北伐匈奴 (D)西通西域。
- () 25、西元1974年，在大陸岷江挖掘出一尊東漢建寧元年雕刻的李冰石像。請問：下列哪一事蹟與李冰有關？
 (A)布衣卿相的代表 (B)提倡「富國強兵」 (C)經商致富的紅頂商人 (D)興建都江堰。
- () 26、「這草有毒!」據說神農氏過世前所說的這句話，成為網路票選歷史十大遺言之一。關於遠古傳說中的神農氏，可代表當時人們的哪一時期？
 (A)鑽木取火 (B)結網捕魚 (C)教人農耕 (D)飼養家畜。
- () 27、「楚漢相爭」曾經出現許多膾炙人口的故事，也是四面楚歌、約法三章等成語典故的由來。請問：這段爭戰的時期介於哪兩個朝代之間？
 (A)西周、東周 (B)秦朝、東漢 (C)秦朝、西漢 (D)西漢、東漢。
- () 28、「殷人喜以黍釀酒，飲酒風氣興盛，且曆法進步。」上文應是商朝社會的哪一現象？
 (A)農業發達 (B)鬼神迷信 (C)交通進步 (D)商業繁榮。

() 29、東漢在君主早逝後，外戚與宦官勢力消長（如附圖）的過程順序應該為何？



(A)甲丙乙丁 (B)乙丙甲丁 (C)丙甲乙丁 (D)丁甲乙丙。

() 30、從遠古傳說到三代，若就「夏朝」來分析，其文化特色不包括下列何者？

(A)具備國家的統治力量 (B)中國歷史上君位世襲的開始 (C)青銅器是國家權力的象徵 (D)考古挖掘文字的開始。

() 31、西周的政治社會穩定，周公的貢獻非常大。請問：以下哪些是周公的功績？

(甲)建立西周 (乙)平定管蔡之亂 (丙)營建東都雒邑 (丁)制禮作樂。

(A)甲乙丙 (B)甲乙丁 (C)甲丙丁 (D)乙丙丁。

() 32、皇帝是中國傳統政治體系的核心角色，其命令被視為最高權力，其權柄卻也因此常被親近者侵奪。在侵奪皇帝權柄者當中，下列何者是通貫兩漢時期的政治角色？

(A)外族 (B)宦官 (C)權臣 (D)外戚。

() 33、「戰爭是一種兩敗俱傷的行為，最後不論輸贏，都須付出慘痛代價。因此，發動戰爭可謂最愚蠢的行為。」上述的說法與下列何人的見解最為契合？

(A)墨子 (B)韓非 (C)荀子 (D)老子。

() 34、商紂王是歷史上有名的暴君：其好酒淫樂，以酒為池，懸肉為林，使男女相追逐其間，為長夜之飲。這是成語「酒池肉林」的由來。加上連年對外征戰，最後使何人聯合其他諸侯滅商，建立周朝？

(A)周武王 (B)周平王 (C)周成王 (D)周幽王。

() 35、昀儒是漢武帝時代的讀書人，如果他想到朝廷當官，哪一種途徑是可行且正確的？

(A)參加科舉考試 (B)成為貴族養士，等待時機 (C)依附宦官勢力 (D)進入太學，研讀儒家經典。

() 36、萬里長城曾榮登世界七大奇景評比中的榜首。請問：在中國歷史上，萬里長城代表何種意義？

(A)人類從舊石器時代進步到新石器時代的象徵 (B)中國與西方民族文化交流的重要管道 (C)草原民族與農業民族的大致分界線 (D)中國文明的起源呈現多元並立的發展。

() 37、西域是漢朝和匈奴的必爭之地，漢武帝與東漢明帝先後派遣何人經營西域？

(A)張衡、班固 (B)張機、班固 (C)張角、班超 (D)張騫、班超。

() 38、阿牛是生活在春秋戰國時代的農民，下列何者應該是他日常生活的經歷？

(A)使用鐵製農具，幫忙荒地的開墾與整地 (B)以物易物，拿自家的白菜換鄰居的蘿蔔 (C)因為農民不能受教育，所以目不識丁 (D)跟隨周公東征，打敗作亂的管叔蔡叔。

() 39、秦始皇廢除周朝的封建制度，改行郡縣制，這樣的變革造成何種影響？

(A)導致群雄割據 (B)造成日後外戚與宦官的爭權 (C)直接引起民亂 (D)確立了中央集權的政治體制。

() 40、俊翔是生活在秦帝國的平民百姓。請問：他可能會有下列何種生活經驗？

(A)孝順之名聞名鄉里，因而被推薦為官吏 (B)被徵召修建馳道、長城 (C)經由絲路運送絲綢到西域做生意 (D)參與黃巾之亂，反抗朝廷的暴政。

() 41、有「全台首學」之稱的台南孔廟，供奉的是「至聖先師」孔子。以下關於孔子的論述，何者正確？

(A)主張人性本善，發揮本性就能成為聖賢 (B)站在國君立場，提倡富國強兵之道

(C)反對戰爭，善用寓言故事解說人生哲理 (D)首開私人講學風氣，主張國君應實施仁政

() 42、下列哪一歷史事件在《史記》和《漢書》中，均可查到相關資料？

(A)光武中興的榮耀 (B)焚書坑儒的浩劫 (C)首位平民皇帝的崛起 (D)集體耕種的井田制度。

() 43、甲骨文在1880年間，陸續在中國被發掘，但當時主要是作為中藥的藥材使用。直到1899年，才被學者認識到它是極具學術價值的重要文物。請問：關於甲骨文的敘述，下列何者正確？


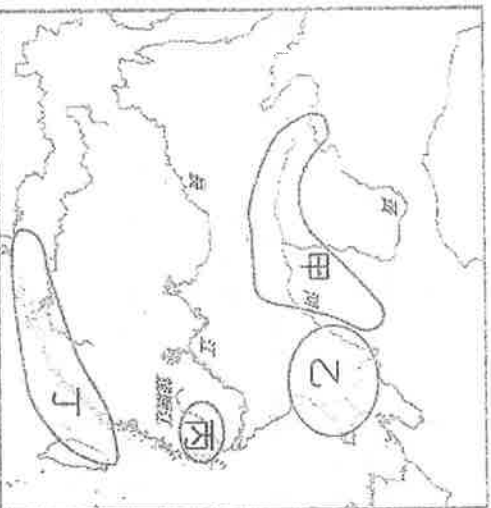
- (A) 甲骨文出土於二里頭文化遺址 (B) 透過甲骨文可認識夏朝的發展
(C) 甲骨文的内容多為商業買賣的契約 (D) 甲骨文的使用代表中國進入信史階段。

() 44、同學們為《東漢演義》話劇安排角色。請問：下列何人扮演的是「張機」？

- (A) 文滄：我先辨別病人的具體情況，而後對症下藥，且完成《傷寒雜病論》一書
(B) 文好：渾天儀可測天體、觀星象，還能解釋人事變化與朝代興亡
(C) 文華：我最擅長利用麻醉進行外科手術，還提倡以運動方式養生
(D) 文青：經過多次的改良，紙張的品質越來越好，而且使用更加普及了。

二、題組：每格2分，共12分

(一) 左下圖為中國新石器文化分布圖。請問：



() 45、新石器時代居住形式以干欄式建築（如右上圖）為主的文化是何者？

- (A) 甲 (B) 乙 (C) 丙 (D) 丁。

() 46、若想研究世界上最早人工栽培稻米的地區，應該到圖中哪一區？

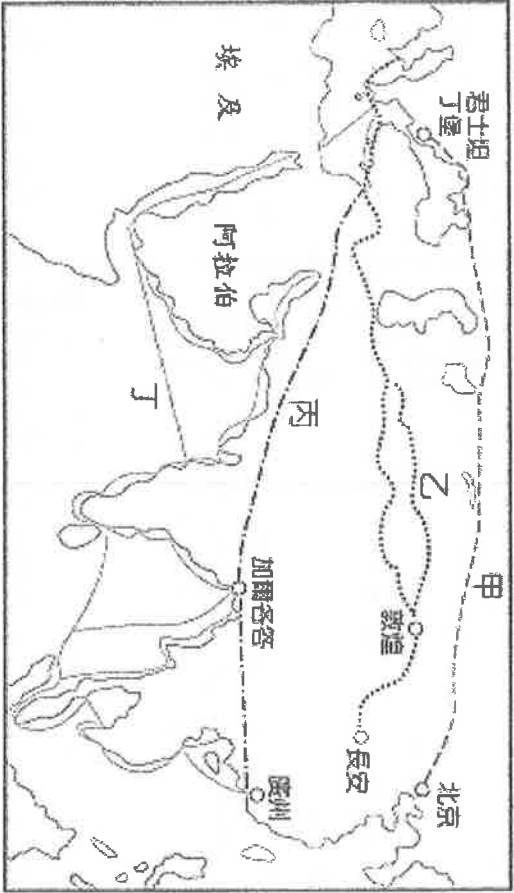
- (A) 甲 (B) 乙 (C) 丙 (D) 丁。

() 47、以「黑、光、薄」黑陶杯為陶器特色的文化類型，位於圖中哪一區？

- (A) 甲 (B) 乙 (C) 丙 (D) 丁。

() 48、民國以來，由於新石器文化遺址的不斷發現，使我們了解到中國文化的起源具有何項特色？ (A) 多元並立 (B) 東西融合 (C) 起源自黃河流域 (D) 南北對立。

(二) 附圖是中國歷代以來，東西往來的交通與文化交流的重要路線圖。請問：



() 49、圖中哪一條路線是漢武帝派使者出使西域後，所開通的「絲路」？

- (A) 甲 (B) 乙 (C) 丙 (D) 丁。

() 50、漢代所開通的絲路最遠可到達何處？

- (A) 大秦 (B) 大月氏 (C) 大秦 (D) 大宛。