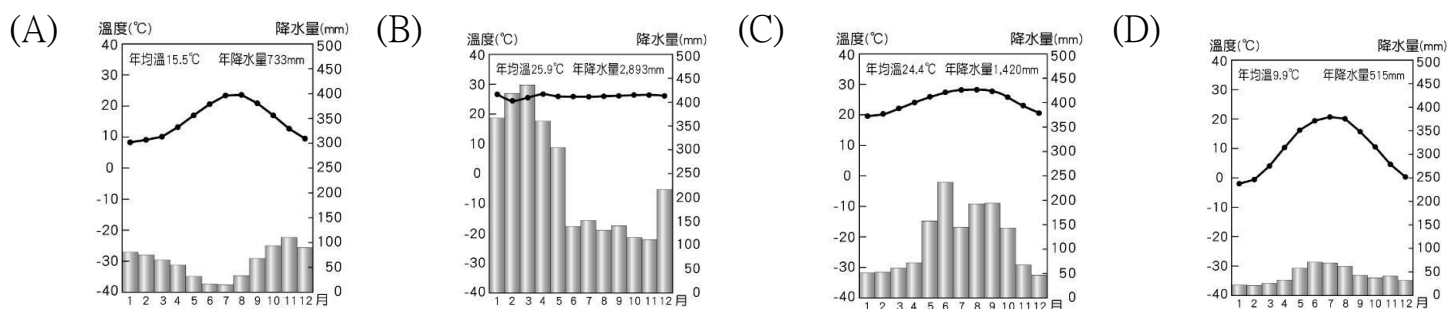
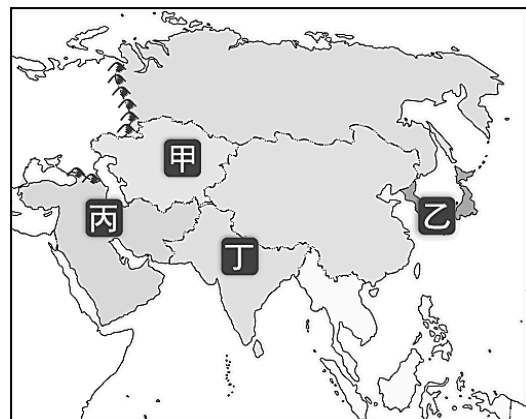


◎單一選擇題：每題 2 分，共 50 題

- 從義大利半島北部搭乘火車，來往於南歐和西歐之間，交通十分便利，阿爾卑斯山脈的分布，並無阻斷兩地的交通。請問：穿梭於阿爾卑斯山的交通路線，主要多沿著下列何種地形興建？
(A)冰蝕作用的 U 形谷 (B)河蝕作用的 V 形谷
(C)溶蝕作用的岩溝 (D)斷層作用的地塹
- 南歐地區的農業經營方式以灌溉農業為主，其主要原因為何？(A)年雨量變率大，水旱災頻繁 (B)全年高溫少雨 (C)石灰岩地形，雨水易滲漏 (D)雨季和生長季無法配合
- 世界十大跑車品牌中，法拉利、藍寶堅尼、瑪莎拉蒂等均來自於義大利，可見該國汽車工業技術引領全球，義大利有利於汽車工業發展的主要條件為下列何者？
(A)水力豐富 (B)煤礦眾多 (C)交通便利 (D)勞力充足
- 法國原為歐洲農業產值最大的國家，但自 1986 年西班牙加入歐洲共同市場後，法國的農產品市場便深受打擊，這是因為西班牙比法國更具有哪項利於農業發展的條件？
(A)降水分布較平均 (B)氣候較溫暖 (C)平原較廣大 (D)農產品品質較優良
- 希臘地區向來以藍、白為其代表顏色，天空及海洋為湛藍的色彩，房屋則多漆成白色，十分美麗。請問：下列哪張氣候圖最能代表希臘愛琴海一帶的氣候類型？



- 歐洲人口分布較其他各大洲均勻，最主要的原因為何？(A)位居陸半球中心。 (B)北大西洋暖流經過，交通便利。 (C)農業發達，經濟繁榮。 (D)地形平坦，全境無沙漠氣候。
- 教宗是羅馬主教，同時為普世天主教會領袖與梵蒂岡城國元首，傳統上被認為是聖伯多祿宗徒之位的後繼者。而教宗同時也是世界上最小國家的領袖，請問此面積最小的國家位於何處？
(A)南歐義大利 (B)西歐英國 (C)南歐希臘 (D)西歐法國
- 中亞的乾燥氣候面積廣大。關於此區的氣候特徵，下列敘述何者不正確？ (A)日溫差大 (B)年溫差大 (C)降水稀少 (D)高壓籠罩
- 中亞近年來從牧業為主轉向農、礦業的發展。目前當地哪個國家與中國合作開發石油和天然氣，並有油管通往中國，成為主要的石油生產國？ (A)塔吉克 (B)烏茲別克 (C)吉爾吉斯 (D)哈薩克
- 承上題，該國家興建輸油管至中國，以至下列中國哪個省區最具位置的優越性？
(A)西藏 (B)新疆 (C)內蒙古 (D)雲南
- 小雨查閱百科全書時看見以下的說明：「此種作物生長在沙漠地區，果實產量多，營養價值高，被稱為『沙漠麵包』，是西亞國家的重要出口農作物。」請問：小雨查閱的是哪種作物？
(A)椰棗 (B)橄欖 (C)石榴 (D)橡膠
- 某電視台的記者報導：「此海域的安定，牽動著你我的生活。一旦此海域發生戰爭，就會引發全球經濟的恐慌。」上述「此海域」因盛產石油，為西亞重要的經濟及戰略資源，「此海域」是指哪裡？
(A)紅海 (B)波斯灣 (C)黑海 (D)地中海
- 某國是西方文明的搖籃，也是奧林匹克運動會發源地，但近年卻因債務問題成為歐元區的隱憂。西元 2017 年德國民調顯示，超過半數民眾希望某國退出歐元區。」文中某國最可能是下列哪個國家？
(A)希臘 (B)西班牙 (C)葡萄牙 (D)義大利
- 南歐居民自古便擅長海上活動，西班牙與葡萄牙都曾是海權時代的強國。請問：南歐發展航運最有利的條件為何？ (A)寒暖流交會 (B)海岸曲折多灣澳 (C)終年有西風吹拂 (D)地形平坦農產豐富
- 「此一區域在中國古代稱為西域，曾是東西文化交流的孔道；近代時受蘇聯控制，產業難以自主；今日經濟發展的關鍵則與豐富的能源礦產密切相關。」上述區域位於右圖中的何地？
(A)甲 (B)乙 (C)丙 (D)丁

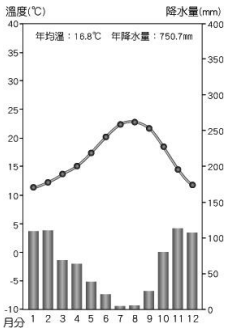


16. 下表為小雨對於西亞與中亞的整理表格，何者正確？(A) A (B) B (C) C (D) D

項目	(A)地形	(B)氣候	(C)氣候乾燥的成因	(D)產油區
西亞	盆地為主	溫帶沙漠氣候	副熱帶高氣壓籠罩	紅海
中亞	高原為主	熱帶沙漠氣候	位居內陸，距海較遠	鹹海

17. 右圖為西亞某地區的氣候圖。請問：該地區最可能位於何處？

- (A)紅海和波斯灣沿岸 (B)波斯灣和黑海沿岸 (C)黑海和地中海沿岸
(D)地中海和阿拉伯海沿岸



18. 黎巴嫩及以色列是西亞的小國家，鄰近地中海，近年來發展石油產業經濟，該國可以有如此發展的原因是 (A)在地中海域發現油田 (B)是油管經過的路線 (C)向歐洲購買石油 (D)石油大國將石油儲存在黎巴嫩

19. 「有人說西風是上帝對歐洲人的恩賜，能帶給歐洲豐沛的雨量；但對中國人來說，伴隨西風而來的卻常是漫天黃沙。」造成上述差異的原因為何？

- (A)歐洲的緯度位置較高；中國的緯度位置較低。(B)歐洲西風集中於冬季；中國西風集中於夏季。
(C)歐洲的西風來自陸地；中國的西風來自海洋。(D)歐洲位於大陸的西岸；中國位於大陸的東岸。

20. 西班牙瓦倫西亞某小鎮每年舉辦「番茄節」，節慶中參與者手抓熟透的番茄，向身旁的人投擲、搓揉，不一會兒個個渾身上下都是紅糊糊的番茄汁，整個街道也成了一條「番茄河」。請問：若考量晴朗無雨的天氣能吸引最多人潮，當地政府應選擇哪個月分辦理本項活動？(A)12月 (B)4月 (C)7月 (D)10月



21. 南歐某國有星羅棋布的島嶼、綿延的海岸線，右圖為該國簡圖。該國海灣最可能屬於下列何種類型的海岸？ (A)峽灣海岸 (B)谷灣海岸 (C)斷層海岸 (D)珊瑚礁海岸

22. 西元 2016 年 1 月 25 日，西班牙南部發生芮氏規模 6.2 地震，震央位於西班牙與北非摩洛哥之間的海域，距離直布羅陀東南 164 公里。」文中震央所在的海域應為下列何者？

- (A)北海 (B)黑海 (C)地中海 (D)波羅的海

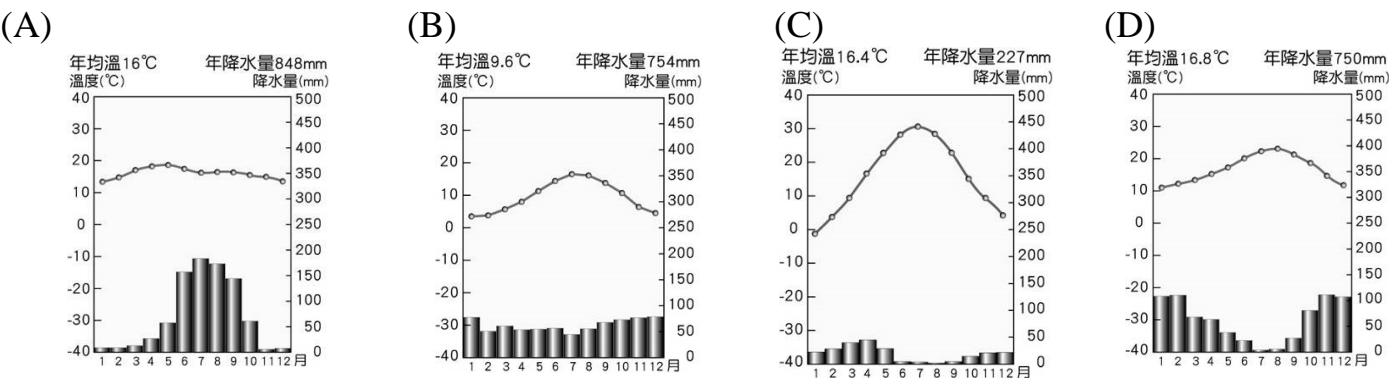
23. 右圖是描寫西亞傳統駱駝商隊的漫畫圖，西亞哪一項重要的地理特徵最能表達漫畫所要呈現的意義？ (A)氣候乾燥，人口外移 (B)位於歐、亞、非三洲的接觸帶 (C)當地缺乏糧食物資 (D)民族糾紛嚴重



24. 右圖中的甲、乙、丙、丁為西亞主要國家的代號，其中有關「丙」國的地理特色的敘述，何者錯誤？ (A)丙國主體地形是高原，屬古老陸塊 (B)丙國有北回歸線經過，氣候乾燥少雨 (C)丙國是阿拉伯聯合大公國 (D)丙國是西亞最大產油國。

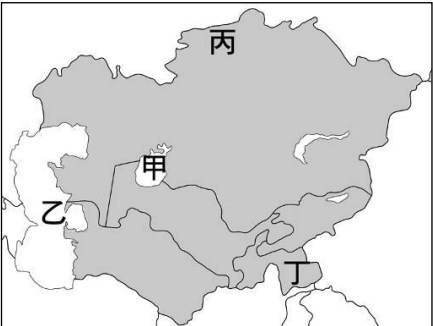


25. 下列哪張氣候圖最符合中亞的氣候類型？



26. 中亞擁有豐富能源礦產，其中石油資源主要分布於右圖中何處附近？

- (A)甲 (B)乙 (C)丙 (D)丁。



◎『歐洲聯盟』簡稱『歐盟』，是歐洲重要的區域經濟組織，請回答下列問題：

27. 歐洲聯盟的英文簡稱？ (A) APEC (B) ASEAN (C) EU (D) OPEC

28. 歐盟最早的會員國，大多分布於哪個區域？

- (A)北歐、東歐 (B)東歐、歐俄 (C)西歐、南歐 (D)南歐、東歐

29. 歐元是歐盟會員國的共同貨幣，但下列哪個國家並不使用歐元？

- (A)瑞典 (B)法國 (C)荷蘭 (D)西班牙


30. 某國地跨歐、亞兩洲，極少部分領土在歐洲，申請加入歐盟至今未成為正式會員國。

請問：某國是哪個國家？ (A)俄羅斯 (B)土耳其 (C)烏克蘭 (D)匈牙利

31. 西元 2004 年以後加入歐盟的會員國，在經濟發展上具有什麼優勢？

(A)技術先進 (B)交通便利 (C)勞力廉價 (D)資金充足

32. 下列何者為歐洲聯盟的旗幟？



33. 關於歐盟的描述下列何者正確？

(A)總部設在比利時布魯塞爾

(B)歐元是該組織內唯一的通行貨幣

(C)目前所有歐洲國家均已加入該組織

(D)台灣貨物進口該區可享免除關稅的優惠

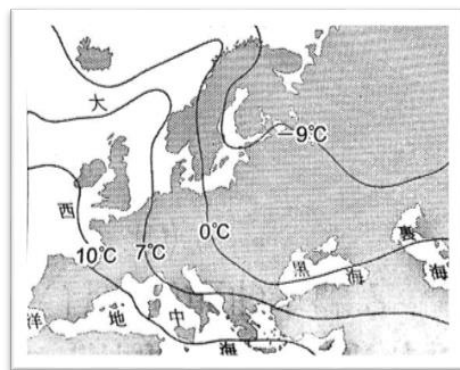
34. 右圖是歐洲 1 月月均溫分布圖，由圖中資料可以推知，此種現象的形成，與下列何者最有關係？

(A)山脈阻擋寒風

(B)洋流調節氣溫

(C)太陽照射角度不同

(D)副熱帶高壓籠罩



◎請閱讀文章，依序回答下列問題：

烏茲別克，天山山系水源流經的國度。

但在一群人忙於農事的同時，繁忙的漁船從地圖上消失，從前的港都亦沒落了。

風把鹽份與有毒物質吹往人群聚居的地區，造成嚴重的健康問題。

35. 文中「一群人忙於農事」，最有可能種植的作物是？ (A)蒜頭 (B)棉花 (C)棗椰 (D)岩鹽

36. 漁船的消失及港都的沒落都與某水域的消失有關。請問，該水域最有可能是下列何者？

(A)死海

(B)紅海

(C)鹹海

(D)裏海

37. 該地區種植此作物所使用的灌溉水源主要來自下列何者？ (A)河水 (B)雪水 (C)海水 (D)雨水

38. 請問，此地的環境問題不包括下列何者？

(A)沙塵暴加劇

(B)地下水面下降

(C)洪水氾濫

(D)生態系統破壞

◎右圖為歐洲氣候分區圖，請依圖回答下列各題：

39. 「此國的氣候夏乾冬雨，所生產的葡萄酒、橄欖油、起司..等，深受世人喜愛，大量銷往世界各國。」請問根據敘述，可判斷是位於圖中的哪個區域？

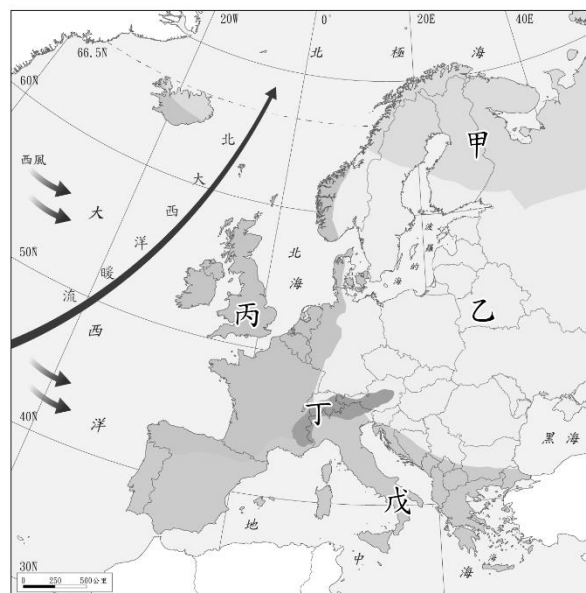
(A)甲 (B)丙 (C)丁 (D)戊

40. 「街頭瀰漫著厚重的霧，一位頭戴狩獵帽、口叼煙斗，披著斗篷風衣的紳士站在鋪著鵝軟石的街角，因為全年有雨或雪，公事包裡常備著雨傘...」請問上文所敘述的氣候特色，位於圖中的哪個區域？ (A)甲 (B)乙 (C)丙 (D)丁

41. 「拉普蘭地區每年 10 月便進入冬季，一直要到來年的 5 月開春。當地的原住民用馴鹿拉雪橇，靠馴鹿供給食衣住行，整個民族可說是以馴鹿維生。」請問：上文所述應該位於圖中哪一個地區？ (A)甲 (B)乙 (C)丙 (D)丁

42. 「在阿爾卑斯山寒冷的冬天裡，聖伯納犬用溫暖豐澤的皮毛緊緊擁住受難者，給予保溫，同時用舌頭試圖讓受難者一直保持清醒，是優秀的雪地救難犬。」請問：上文所述應該位於圖中哪一個地區？

(A)甲 (B)丙 (C)丁 (D)戊



◎右圖為西亞國家簡圖，請依圖回答下列各題：

43. 美索不達米亞平原灌溉水源豐富，利於農業發展，故為古文明發源地，也是本區人口集中的精華區，主要位於哪一國境內？

(A)甲 (B)乙 (C)丙 (D)丁

44. 近年來，西亞部分國家朝觀光、貿易產業多元發展，其中知名的「帆船飯店」、「哈里發塔」為哪一國的重要景點？

(A)甲 (B)丙 (C)庚 (D)壬

45. 耶路撒冷聖城爭奪是因三個宗教紛爭而起，而該城市位於哪一個國家境內？

(A)乙 (B)丙 (C)丁 (D)辛

46. 伊斯蘭教徒每日須面向聖地麥加朝拜五次，而教徒一生中最大的願望，也是能親臨聖地朝拜。請問：伊斯蘭教的聖地麥加位於圖中的哪個國家內？ (A)甲 (B)乙 (C)丙 (D)庚

47. 為適應西亞地區的乾燥氣候，圖中的哪個國家發展出滴灌農業的技術？(A)丙 (B)丁 (C)己 (D)辛

48. 圖中「己」國家因地跨歐、亞兩洲，交通位置重要，而有「歐亞陸橋」之稱，請問該國為下列何者？

(A)土耳其 (B)阿富汗 (C)科威特 (D)伊朗

49. 乙國現在的農業多利用下列何種方式灌溉？

(A)坎井 (B)渠道 (C)地下水井 (D)河水

50. 某國家為古波斯帝國所在，現為重要產油國，某國家為下列何者？

(A)甲 (B)乙 (C)丙 (D)丁



試題結束