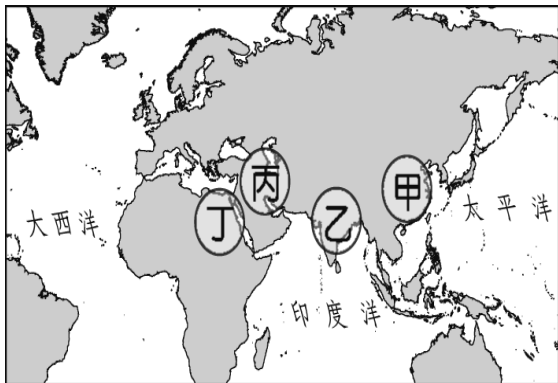


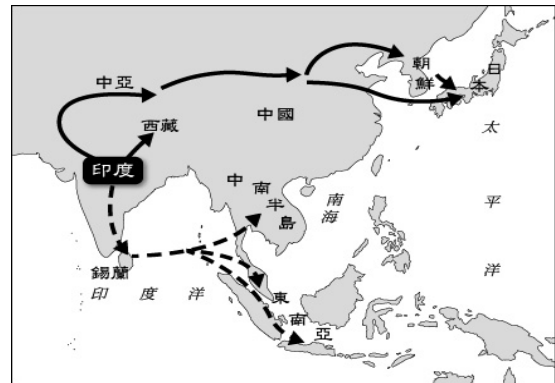
〈試題卷〉

一、選擇題（一題 2 分，共 88 分）

1. () 在古希臘的獨立城邦中以「斯巴達」和「雅典」兩城邦最為著名，請問兩者在希臘歷史上的發展特色為何？(A)兩者的經濟型態均以工商業為主 (B)波希戰爭後，雅典文化藝術盛極一時，可以稱是「全希臘的學校」 (C)斯巴達政治採行抽籤任官制 (D)雅典以軍國主義著稱。
2. () 下列有關印度「種姓制度」的敘述，何者正確？(A)各階級身分職業世襲，可以互相通婚 (B)為阿利安人根據印度教的教義制定出來的制度 (C)是阿利安人為維持統治地位而制定的 (D)種姓制度現今被民眾唾棄，此觀念已蕩然無存。
3. () 有一部法典提及：「任何人不能將尚未定罪的人置於死地」，此種「無罪推定原則」概念出現於下列哪部法典？(A)漢摩拉比法典 (B)拿破崙法典 (C)查士丁尼法典 (D)十二表法。
4. () 西亞各民族的文化成就燦爛輝煌，下列關於西亞各民族文化的敘述，何者正確？(A)蘇美人發明太陽曆，並將一年分為12個月 (B)巴比倫人制定的《漢摩拉比法典》是當地保存較完整的成文法典 (C)西臺人創立的星期制沿用至今 (D)希伯來人的一神信仰對基督教和佛教影響至深。
5. () 考古學家發現摩亨約達羅古城，其歷史悠久、規畫整齊，為人類古文明發源地之一。請問：其位於附圖（一）中何處？(A)甲 (B)乙 (C)丙 (D)丁。



圖（一）

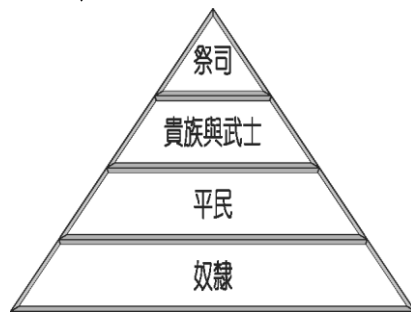


圖（二）

6. () 歷史老師在上課時，放了一張某項印度文化外傳路線圖，如附圖（二）所示，準備要介紹這項印度文化的發展與傳播。從圖中傳播的路線及目的地判斷，這項印度文化應是下列何者？(A)佛教信仰 (B)零的觀念 (C)數字系統 (D)種姓制度。
7. () 歷史博物館計畫舉辦一場「美索不達米亞」文物展，在此次活動中參觀民眾最有可能會觀賞到下列哪些古物？(甲)木乃伊(乙)亞述戰士浮雕像(丙)濕婆神神像(丁)《漢摩拉比法典》(戊)楔形文字泥板 (A)甲乙丙 (B)乙丁戊 (C)乙丙丁 (D)甲乙戊。
8. () 羅馬帝國時期哪一位君王正式將帝國分為東西兩部？(A)君士坦丁 (B)狄奧多西 (C)凱撒 (D)屋大維。
9. () 承上題，分裂後的東羅馬帝國和羅馬帝國分別亡於何族？(A)鄂圖曼土耳其人、日耳曼人 (B)突厥人、日耳曼人 (C)蒙古人、馬其頓人 (D)匈奴人、日耳曼人。
10. () 基督教創立初期，時常受到羅馬帝國統治者的迫害。請問：下列何者不是基督教受到打壓的原因？(A)不願膜拜羅馬皇帝 (B)僅信仰上帝一個神明 (C)與羅馬傳統宗教教義相違背 (D)與猶太教一起反對羅馬統治
11. () 中國歷史上有一位篤信佛法的梁武帝，而印度也有一位與梁武帝有異曲同工之妙的阿育王，下列有關阿育王對佛教的影響，下列敘述何者錯誤？(A)他促使佛教傳播到東亞及東南亞各地 (B)他是笈多王朝的君主，開創印度古典文化的黃金時期 (C)他派遣眾多僧侶到國外弘揚佛教 (D)他興建寺廟、佛塔，對推廣佛教不遺餘力。
12. () 希臘史學家希羅多德曾說：「埃及是尼羅河的贈禮」，可見埃及的發展與尼羅河有密切的關係。以下敘述何者正確？(A)法老王被視為尼羅河之子 (B)尼羅河定期氾濫為埃及帶來肥沃的淤泥以種植作物 (C)尼羅河神為埃及唯一的神明 (D)尼羅河形成天險保障埃及的安全。
13. () 西元前27年，屋大維被尊為奧古斯都，此亦是羅馬帝制時代的開端。請問：此時正值中國的哪一時期？(A)漢朝 (B)唐朝 (C)秦朝 (D)春秋。
14. () 西元前八世紀，羅馬人在臺伯河南岸建城，自此逐步發展，並建立了一個橫跨歐、亞、非三洲的大帝國。請問：下列有關羅馬的事蹟何者為非？(A)王政時期的政治領導中心為國王 (B)共和晚期凱撒實行獨裁而遭暗殺 (C)帝制時期將地中海納為其內海 (D)屋大維集權於一身，被尊為「奧古斯都」

」，羅馬進入帝制時期。

15. () 下列歷史人物及其文化成就的配對何者正確？ (A)阿基米德—浮體力學 (B)歐幾里德—槓桿原理 (C)希羅多德—奧德賽 (D)荷馬—歷史。
16. () 孔子對於學習的態度是：「知之為知之，不知為不知，是知也。」，古代希臘的某位哲學家也有類似的看法：「了解自己的無知才是真知」，所以這位哲學家有「西方的孔子」之稱。請問：這位哲學家應該是何人？ (A)亞里斯多德 (B)希羅多德 (C)蘇格拉底 (D)柏拉圖。
17. () 英國南部某些城市有公共浴池與引水道的遺跡，由這些遺跡可知，此地可能曾被哪個民族統治過？ (A)希臘人 (B)西臺人 (C)猶太人 (D)羅馬人。
18. () 歷史老師在上課時，在黑板畫下如附圖中的金字塔型示意圖，同學對課程可以更清楚了解。請問：老師的教學內容應該是下列何者？ (A)周朝的宗法制度 (B)印度的種姓制度 (C)蒙古的種族政策 (D)古埃及的統治政策。



19. () 小丞暑假想前往古西亞文明的發源地，但下列哪一地區不是他的目的地之一？ (A)小亞細亞 (B)伊朗高原 (C)兩河流域 (D)尼羅河流域。
20. () 現代西方所使用的文字系統，是源於古埃及人所發明的哪一種字母？ (A)楔形文字 (B)甲骨文字 (C)希伯來文 (D)象形文字。
21. () 請問下列何者是古印度文明的成就？(甲)零的觀念(乙)幾何學(丙)陽曆(丁)數字系統 (A)甲乙 (B)丙丁 (C)甲丁 (D)乙丙。
22. () 羅馬帝國在四世紀末分為東西兩部，造成此現象的背景為何？ (A)帝國內部東方勢力興起，不服羅馬的統治 (B)羅馬皇帝建新都，以加強對東方各省的控制 (C)北方民族占據帝國中央地帶，隔絕東西兩部 (D)帝國東半部改信猶太教，與西半部信仰基督教的王公貴族起爭執。
23. () 西元前 2000 年克里特島上就已出現燦爛的文明，為希臘文明的先驅，其位於下列何處？ (A)大西洋 (B)愛琴海 (C)地中海 (D)太平洋。
24. () 關於佛教與婆羅門教教義的比較，下列哪一項敘述是正確的？ (A)兩者皆主張眾生平等 (B)兩者皆支持種姓制度 (C)兩者皆受到印度教的影響 (D)兩者皆強調因果輪迴。
25. () 古代奧林匹克運動會在西元前 776 年首次舉辦，它是宗教慶典的一部分，被當成給眾神之神宙斯的獻禮。古代奧運只准男性參加。請問：當時這個運動會舉辦的地點，應在下列何處？ (A)希臘半島 (B)小亞細亞 (C)義大利半島 (D)伊比利半島。
26. () 基督教是現今西方世界文明發展相當重要的元素之一，有關基督教的發展，下列何者為非？ (A)西元一世紀，由耶穌提倡平等、宣揚「神愛世人」的觀念，以及信仰神可得永生 (B)門徒記錄耶穌生前的言行，其經典稱《新約聖經》 (C)君士坦丁正式確立以基督教為羅馬帝國國教 (D)基督徒因不肯膜拜羅馬皇帝而遭到迫害。
27. () 以下四處地方：(甲)小亞細亞(乙)兩河流域(丙)埃及(丁)伊比利半島。有哪些是「希臘化時代」影響的範圍？ (A)甲乙丙丁 (B)乙丙丁 (C)甲乙 (D)甲乙丙。
28. () 老師上課講述《出埃及記》中有關摩西帶領希伯來人逃離埃及，最終回到上帝的應許之地—迦南地區，並創立宗教的故事。下列有關希伯來人的宗教文化敘述，何者正確？ (A)希伯來人聲稱自己為上帝「阿拉」的選民 (B)其創立的宗教為「祆教」 (C)宗教具有社會階級觀念 (D)具有一神觀念，對基督教及伊斯蘭教造成深遠影響。
29. () 根據史料記載：「岡比西斯二世在西元前525年率軍隊入侵埃及，攻破其國都孟斐斯，成為埃及統治者」。從其事蹟判斷，岡比西斯二世應是哪個民族的君主？ (A)亞述人 (B)波斯人 (C)腓尼基人 (D)希伯來人。
30. () 印度教是現今印度地區信仰人口最多的宗教，請問它是下列哪幾種宗教融合而成？(甲)伊斯蘭教(乙)佛教(丙)猶太教(丁)婆羅門教(戊)印度民間信仰 (A)甲丙丁 (B)乙丁戊 (C)甲丙戊 (D)乙丙戊。
31. () 小恩暑假跟隨家人到希臘旅遊，他想參觀一座最能表現當地注重「均衡」、「對稱」、「和諧」藝術風

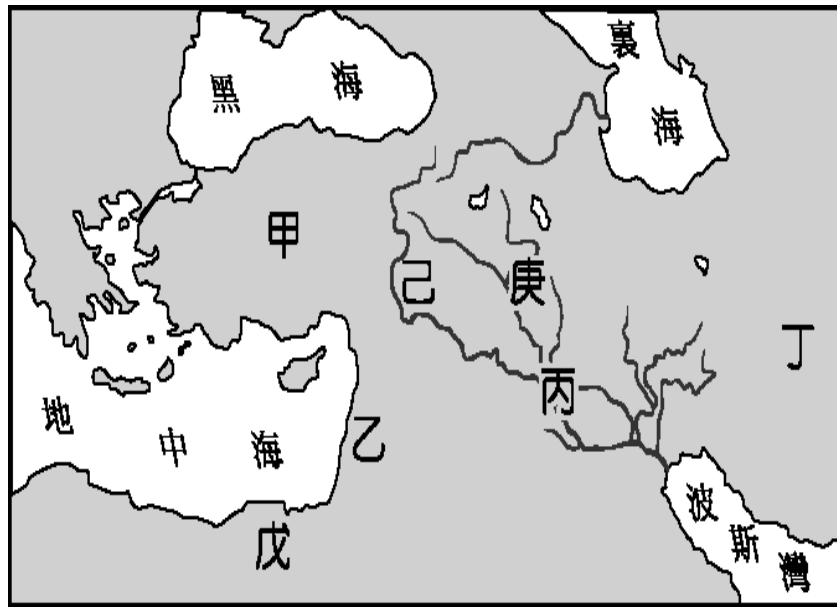
格的建築物，請問：他應該造訪哪一座建築？ (A)摩亨約達羅遺址 (B)大菩提寺 (C)金字塔(D)帕德嫩神廟。

32. () (甲)羅馬帝國分為東、西兩部分 (乙)羅馬和平時代開始 (丙)基督教合法化。若依時間先後順序排列上述事件，何者正確？ (A)甲乙丙 (B)丙甲乙 (C)乙丙甲 (D)丙乙甲。
33. () 古希臘政治體制的發展和希臘半島的哪一項地理環境特色有關？ (A)多山，地形崎嶇 (B)平原適合農耕 (C)河流多，灌溉容易 (D)農牧漁業皆發達。
34. () 伊斯坦堡是今日土耳其最大城市和港口，是土耳其的文化、經濟和金融中心，也是世界上唯一地跨兩個洲的大都市。請問：伊斯坦堡的舊稱為何？ (A)迦太基 (B)君士坦丁堡 (C)特洛伊 (D)亞歷山卓城。
35. () 歷史課中老師請同學們討論《漢摩拉比法典》的特色，請問下列何者敘述正確？ (A)憶丞：此法典為加爾底亞國王漢摩拉比下令編定 (B)均玲：法典強調「以牙還牙，以眼還眼」的報復原則 (C)昱凱：法典原文由象形文字寫成 (D)加寶：法典強調「法律之前人人平等」。
36. () 埃及在天文學與科學上的成就斐然，其最主要的原因為何？ (A)讓船隻在地中海航行時能不迷失方向 (B)為了征討鄰近國家而加以研發 (C)發明陰曆和六十進位法 (D)為了掌握尼羅河氾濫的時間與測量氾濫後的土地。
37. () 埃及歷史淵遠流長，早在西元前 3100 年左右即已建立統一的王朝，此後可分為古王國、中王國、新王國三大時期。請問：關於這三個時期的相關敘述，何者正確？ (A)古王國時期貿易最為發達 (B)中王國時期國王偏愛建築雄偉的金字塔以炫耀國力 (C)新王國時期是埃及版圖最廣的時代 (D)西元前 525 年埃及為希臘所滅，古文明逐漸消失。
38. () 阿利安人征服印度後，信奉婆羅門教，施行種姓制度，並以下列何者作為婆羅門教的主要經典？ (A)《佛經》 (B)《吠陀經》 (C)《新約聖經》 (D)《舊約聖經》。
39. () 佛教興起後逐漸向外傳播，下列有關佛教傳播的敘述，何者**錯誤**？ (A)釋迦牟尼廣建寺廟，並積極派遣使者向外傳教 (B)佛教於兩漢之際由西域傳入中國 (C)魏晉南北朝時期由於戰亂頻仍與君王提倡，佛教大為盛行 (D)玄奘於唐朝時至印度取經，有助於佛教的中國化。
40. () 大英博物館埃及展區內有一著名的「不幸的木乃伊」蓋板，這蓋板是屬於約西元前 945 年一位上層社會女性木乃伊所有；上面繪有太陽圓盤與老鷹、伸展翅膀的女神努特、靈魂鳥、尼羅河神。相傳蓋板會為持有者帶來不幸，西元 1912 年鐵達尼號沉沒時它也恰巧被裝載在船上。請問：這蓋板代表埃及人對死亡特有的觀念，以下何者**錯誤**？ (A)製作木乃伊是為了保存肉體而使靈魂能與之結合，達成復活的目的 (B)由蓋板上繪滿人死後世界可知，埃及人相信靈魂輪迴、因果報應 (C)太陽圓盤的圖案代表埃及人對太陽的崇拜 (D)尼羅河神，象徵循環不息的再生力量。
41. () 羅馬帝國君士坦丁大帝在位時於內政上有許多作為，對後世影響甚大。請問：下列哪些事件發生於君士坦丁在位時？ (甲)基督教被立為國教 (乙)帝國正式分裂為東、西兩部 (丙)使基督教得以合法 (丁)擴建拜占庭為新都並為其改名 (A)甲乙 (B)甲丁 (C)乙丙 (D)丙丁。
42. () 埃及人相信人死後有來生，因此虔誠的信仰、繁複的禮儀、妥善的屍體保存等，都是為了以備來世之需。請問：下列哪些埃及人的作為與其復活觀念有關？ (甲)製作木乃伊 (乙)崇拜尼羅河神 (丙)發明陰曆 (丁)建造金字塔 (戊)創立猶太教 (A)甲乙丙 (B)甲乙丁 (C)乙丙丁 (D)丙丁戊。
43. () 西元前八世紀，羅馬人已開始在義大利中部的臺伯河畔建立羅馬城，之後經過幾世紀的發展，這股勢力稱霸整個地中海地區。在這個過程中，政治發展也經歷幾個政體，如果依歷史發展順序排列，下列何者正確？ (A)帝制→共和→王政 (B)王政→帝制→共和 (C)王政→共和→帝制 (D)共和→王政→帝制。
44. () 請問下列哪些是曾經橫跨歐、亞、非三洲的大帝國？(甲)亞述帝國 (乙)波斯帝國 (丙)亞歷山大帝國 (丁)羅馬帝國 (戊)馬其頓王國 (A)甲乙丙 (B)乙丁戊 (C)甲丙戊 (D)乙丙丁。

* 背面尚有試題

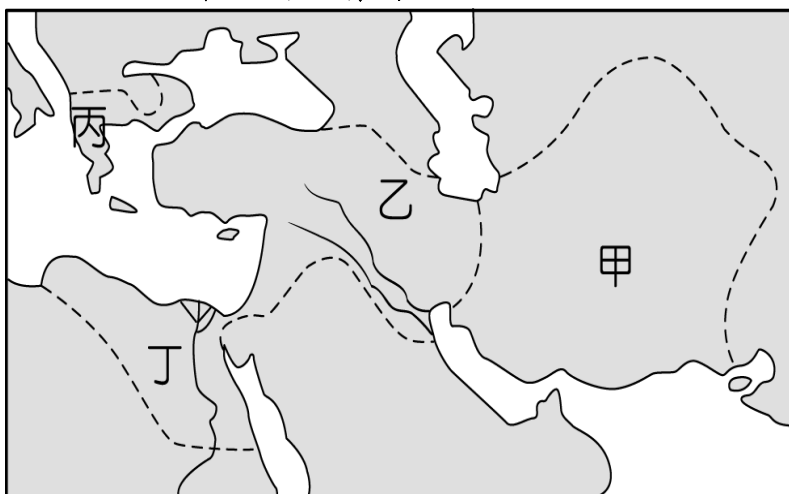
二、題組（一題 2 分，共 12 分）

*西亞古文明包括伊朗高原、兩河流域、小亞細亞、巴勒斯坦等地，這裡是人類文明的發源地之一，留下許多民族的文化遺跡。附圖為古代西亞形勢圖，請問：



45. () 圖中乙區應是上古西亞那些民族活動的地區？ (A)腓尼基人、希伯來人 (B)巴比倫人、蘇美人
(C)亞述人、希伯來人 (D)腓尼基人、蘇美人。
46. () 圖中的「己」、「庚」兩河流的名稱分別為何？ (A)底格里斯河、尼羅河 (B)幼發拉底河、印度河
(C)幼發拉底河、底格里斯河 (D)底格里斯河、幼發拉底河。
47. () 金庸小說《倚天屠龍記》中的主角「張無忌」為明教教主，所信仰的宗教特色是崇拜光明，以火為尊，講究善惡的對立。請問「張無忌」所信仰的宗教應該源自於附圖中的何處？ (A)甲區 (B)乙區
(C)丙區 (D)丁區。

*附圖中的帝國涵蓋歐、亞、非三洲，請問：



48. () 圖中由丙區所發揚而出的文化為何？(A)西亞文化 (B)希臘文化 (C)波斯文化 (D)埃及文化。
49. () 甲、乙、丙、丁四區是哪一位君王所建立的帝國？ (A)亞歷山大 (B)成吉思汗 (C)阿育王 (D)漢摩拉比。
50. () 此帝國所採取的統治手段，不包括下列哪一項？ (A)建立希臘式城市 (B)尊重各地的文化並加以融合
(C)鼓勵部屬與其他族群通婚 (D)實施種姓制度。