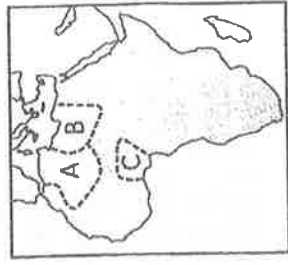


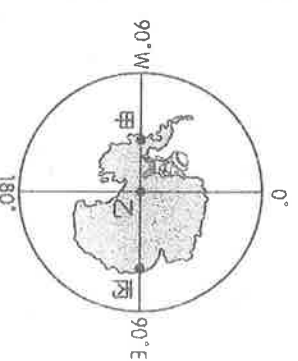
嘉義市立北興國中 108 學年度第二學期第一次定期考查三年級地理科試題


*請用 2B 鉛筆在電腦卡上劃記作答

單選題（每題 2 分，共 50 題）

1. 北極除了軍事、交通的重要性外，下列何者也是關注的焦點，導致各國對該地區爭奪正愈演愈烈？
(A)廣闊陸塊 (B)低廉勞力 (C)豐富物種 (D)礦產資源。
2. 依國際標準時區來看，下列哪一個地方最有可能見到「2021年」的第一道曙光？
(A)非洲的好望角 (B)紐西蘭的北島 (C)英國的格林威治 (D)北美洲的格陵蘭島。
3. 早期歐洲列強大多以何種方式在非洲劃分勢力範圍，造成非洲各國複雜的民族組成，使得日後衝突與紛爭頻傳？
(A)山脈 (B)河川 (C)語言 (D)經緯度。
4. 東非各國是世界上最貧窮的地區之一，近年來部分國家為改善生活，正嘗試利用國家公園發展觀光事業，這些國家公園吸引遊客的最主要條件為何？
(A)豐富的動物資源 (B)多樣的族群文化 (C)壯觀的風成地形 (D)遠古的人類遺址。
5. 澳洲乳製品大多製成奶粉、乳酪和煉乳等，以利久運、久藏並銷往國外，可能原因為何？(A)此類產品成本較低 (B)營養與附加價值較鮮乳高 (C)距離主要消費市場遠 (D)重量減輕，減少陸運運費。
6. 東非肯亞首都是奈洛比。奈洛比由當地馬賽族的話演繹而來，意即冰涼的水。奈洛比雖地處赤道周邊，然因何故，氣候相對的涼爽舒適？
(A)位處 1660 公尺的高原 (B)鄰近濕潤的大西洋 (C)阿古拉斯暖流流經 (D)板塊張裂地層下陷。
7. 無尾熊、鴨嘴獸、袋熊和食蟻獸等均為澳洲特有種，請問澳洲特有種生物豐富的主因為何？
(A)中、西部沙漠廣大，阻隔物種接觸 (B)長期遠離其他陸塊，物種獨立演化 (C)地廣人稀，人類對自然界的干擾較少 (D)地質年代古老。
8. 右圖為非洲簡圖，A、B、C 代表 3 個國家，請問此三國最可能加入下列哪一個國際組織？
(A) OPEC (B) APEC (C) EU (D) NAFTA。
9. 非洲氣候呈南、北對稱的原因和下列哪個因素關係最密切？
(A)地形以高原為主體 (B)海岸平直少曲折 (C)赤道橫貫中部 (D)陸塊面積廣大。
10. 非洲大部分國家和中南美洲許多國家一樣，太過依賴一、兩種農、礦產的出口，以致國家發展有何缺點？
(A)野生動物繁衍過多 (B)族群征戰不休 (C)易受國際價格波動影響 (D)糧食作物生產過剩。
11. 「這一個地區在殖民時期因灌溉設施的興建及海外市場的需求，大量栽培葡萄並釀成葡萄酒輸出到國外，但是因為當地宗教信仰的關係，這裡的居民雖然製酒卻不喝酒」請問上述地理區最可能位於下列哪一個國家？
(A)東非衣索比亞 (B)南非共和國 (C)北非阿爾及利亞 (D)西非迦納。
12. 十九世紀時，皇家地理學會的成員在探索非洲某地區後，回到倫敦將所見所聞加以報告。當他們表示在當地見到山頭覆蓋著白雪的景象時，遭到了與會者的質疑，後來才證實了他們所說的都是事實。請問這兩位探險家所到的地區，應該為非洲何處？ (A)北非尼羅河谷 (B)東非大裂谷 (C)中非剛果盆地 (D)西非幾內亞灣。
13. 世路計畫暑假要來趟島嶼度假，但又不希望該處與臺灣在時差、季節上相差太多，下列何處會是他的最佳選擇？
(A)馬達加斯加 (B)帛琉 (C)夏威夷 (D)西西里島。
14. 「這一洲是唯一被赤道從中一分為二，又同時處在東、西、南、北 4 個半球的地區，且大陸的最北端與最南端，與赤道的距離幾乎相等。」請問文中描述的應是哪一洲？ (A)非洲 (B)南美洲 (C)澳洲 (D)北美洲。
15. 非洲對外的海運交通較為不便，因此港口集中在少數河流出海口附近。請問：這和非洲地區海岸地形的何種特色關係最大？ (A)西側緊鄰大西洋，波浪洶湧 (B)海岸線長，港口過於分散 (C)海岸陡峭平直，缺少天然港灣 (D)地塊古老，沿岸沙灘水淺。
16. 台灣曾經的邦交國吉里巴斯所屬島嶼東西跨越數千公里，是世界上唯一橫跨東西南北四個半球的國家，若依照理論時區劃分，東西兩側時間將相差一天而造成不便。1995 年為使全國的商業能在同一日期發展，挪動□而成為全球一天當中最早開始的國家。□應填上 (A)本初經線 (B)國際換日線 (C)北回歸線 (D)大圓航線。
17. 咖啡種植屬於「殖民式經濟」的一種，是歐洲人殖民非洲時所產生的農業型態，下列何者是殖民式經濟的特色？
(A)種植多元農作物 (B)大量生產糧食作物 (C)農產品以外銷為主 (D)屬於粗放農業。





18. 以瑞計畫到南極洲探險，路線是由右圖中的丙點出發，直線前進至乙點。根據圖中經緯座標系統判斷，下列對她前進方向的敘述，何者正確？
(A)由北而南 (B)由東向西 (C)由南而北 (D)由西向東。
19. 長年冰封的北極海，近年因全球暖化，導致冰層在夏季迅速融化，科學家預估自 2025 年起，北極海航道四季皆可通航，為周邊國家帶來相當大的商機。請問：上述周邊國家中不包括下列何者？(A)挪威 (B)美國 (C)俄羅斯 (D)英國。
20. 「紐西蘭放牧新趨勢！無人機成為牧羊人的得力助手。紐西蘭牧場利用無人機可以在羊群上空驅趕羊群、聲音干擾控制它們的移動方向，還可以在廣大無垠的牧場中找到走失的羊，或者讓分散的羊群集合在一起。透過攝影機和感測器，無人機甚至還能統計牛羊的數量，用熱力感測器檢測哪些羊發燒了，而不用牧羊人親自出馬觀察羊群的狀況。」請問：上述紐西蘭的牧業發展，與下列何項環境限制有關？
(A)位於水半球中心 (B)地廣人稀 (C)地形崎嶇落差大 (D)都市化程度低。
21. 澳洲與南極洲均為古老陸塊，下列哪張等高線圖最能表示兩者的地形主體？
(A)  (B)  (C)  (D) 
22. 1989年1月，澳大利亞總理波比·霍克訪問大韓民國時在首爾倡議召開「亞洲及太平洋國家部長級會議」。該倡議得到美國以及亞洲多個國家的積極回應...，同年11月於坎培拉召開「亞洲太平洋經濟合作部長級會議」。上述所提到會議的代表標誌指的是下列何者？
(A)  (B)  (C)  (D) 
23. 非洲的地形大致以平坦的高原為主，中間陷落形成3個盆地，由北到南依序為撒哈拉盆地、剛果盆地、喀拉哈里盆地。請問這3個盆地因其位置分布差異，分別為哪三種氣候類型？(A)熱帶沙漠、熱帶莽原、熱帶雨林 (B)熱帶沙漠、熱帶雨林、熱帶莽原 (C)熱帶沙漠、熱帶雨林、熱帶沙漠 (D)熱帶沙漠、熱帶沙漠、熱帶莽原。
24. Peter為國際知名的經濟學家，在一次「為非洲把脈」的活動中，指出了饑荒問題的癥結點——非洲從國外進口大量作物，又將自己最為優良的耕地種植其他作物以出口至國外市場，這種不平等的交換導致了今日的饑荒問題。請問非洲主要的進出口作物情況，主要為下列何者？
- | | (A) | (B) | (C) | (D) |
|------|-----|-------|-------|-------|
| 進口作物 | 小麥 | 咖啡、可可 | 小麥、玉米 | 稻米、小麥 |
| 出口作物 | 稻米 | 稻米、小麥 | 葡萄、橄欖 | 橡膠、油棕 |
25. 紐西蘭地形景觀豐富，同時擁有冰河和火山地形。請問：下列哪個國家也同時擁有這兩種地形？
(A) 印尼 (B) 南非 (C) 西班牙 (D) 冰島。
26. 阿拉斯加因位於北極圈內，夏季時太陽幾乎不落到地平線下，此現象稱為「永晝」。請問：應該利用哪個時間前往阿拉斯加，較有機會欣賞此奇景？(A) 12 月~2 月 (B) 3 月~5 月 (C) 6 月~8 月 (D) 9 月~11 月。
27. 有人說：「澳洲是『褐色』大陸，紐西蘭是『綠色』島嶼。」澳洲與紐西蘭同位於東半球、南半球，但從高空鳥瞰卻有此差異的原因是？(A)澳洲有大分水嶺山脈，紐西蘭則有南阿爾卑斯山 (B)澳洲有大範圍的沙漠，紐西蘭多為溫帶海洋性氣候 (C)澳洲著名的「艾爾斯岩」，紐西蘭則有「福克斯冰河」 (D)澳洲主要地形為高原，紐西蘭的地形為平原。
28. 中華民國目前有20個邦交國，其中大洋洲的友邦只剩4個。台灣在大洋洲的邦交國，如「吐瓦魯」最可能因下列哪一「環境變遷」而導致滅國，使臺灣又少一個邦交國？(A)海平面上升 (B)火山爆發 (C)颱風危害 (D)臭氧層破洞。
29. 紐西蘭的首都威靈頓、大城市奧克蘭，都分布於「北島」，連原住民毛利人也多集中於北島，主要的原因是？
(A)北島氣候較濕潤 (B)北島緯度較高 (C)南島氣候較寒冷 (D)南島緯度較低。
30. 北極與南極同屬高緯，但「世界寒極」卻是「南極」。請問：南極比北極冷的原因「不包括」哪一項？
(A)南極中心為海洋，北極中心為陸地 (B)南極的地勢較高，平均為 2000 公尺以上的高原
(C)北極地區有全球最強大的暖流流經 (D)南極地區比熱小，散熱速度較快。

◎附圖為非洲簡圖，請根據附圖回答 31~40 題：

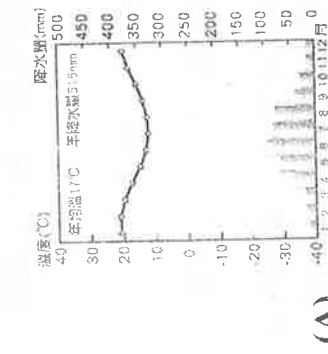
31. 圖中①運河，是溝通歐、亞、非的主要國際通道，且連接哪兩地？甲、黑海；乙、紅海；丙、裏海；丁、地中海
(A)甲乙 (B)丙丁 (C)甲丙 (D)乙丁。

32. 非洲位於南、北回歸線附近的地表呈現熱帶沙漠的景觀，造成該地乾燥少雨的主要原因為何？(A)副熱帶高氣壓籠罩 (B)距海遙遠 (C)寒流流經 (D)位於高山的背風側。

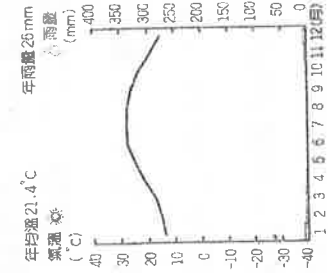
33. 雨林面積廣大，林木茂密，林外有林，對外交通隔絕，林內以狩獵和採摘果實為生的矮黑人過著原始生活。」上文中所指的地區最有可能位於圖中哪一個國家？(A)Ⓐ (B)Ⓑ (C)Ⓒ (D)Ⓓ。

34. 某國曾施行「種族隔離政策」，在白人統治下，有色人種不准有門牌號碼，為了讓郵差與朋友找到自己，便將房子塗成各種顏色，而成為吸晴的觀光景點。請問：上文所敘述的國家應是非洲的哪一個國家？(A)Ⓐ (B)Ⓑ (C)Ⓒ (D)Ⓓ。

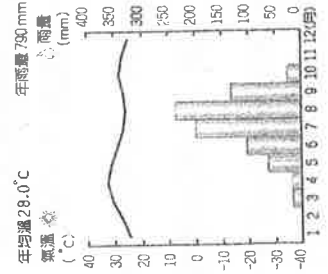
35. 玄彬在寒假要前往南非旅行，尋找當地有名的葡萄酒，請由下列非洲各地區的氣溫雨量圖加以判斷，哪一張氣候圖能代表南非溫帶地中海型氣候？



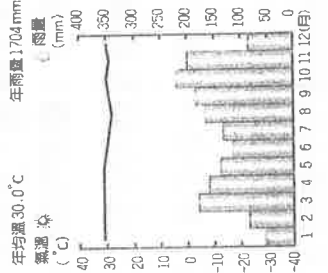
(A)



(B)



(C)

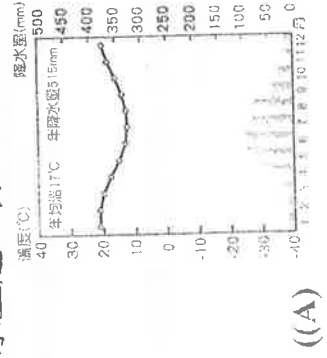


(D)

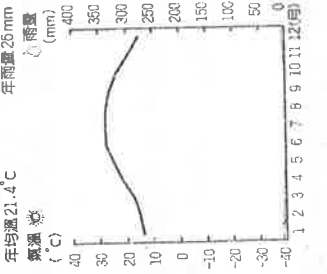
36. 開羅西元 973 年起做為某國首都，是人類史上最古老的首都之一，它橫跨尼羅河，是整個中東地區的政治、經濟和商業中心...」上述中的某國應為圖中何者？(A)Ⓐ (B)Ⓑ (C)Ⓒ (D)Ⓓ。

37. 「每年7月，由於吸收了非洲中部豐富的季節性雨水，這條河流的水位逐漸升高，並溢出河床，為下游地區帶來了大量的沃土及充足的水量，河岸旁的居民飲水、農業均仰賴此河，實為一條生命之河。20世紀後，因中游水壩的興建，停止了這條河流週期性的生命之旅。」引文中描述的是指哪一條河流？(A)Ⓐ (B)Ⓑ (C)Ⓒ (D)Ⓓ。

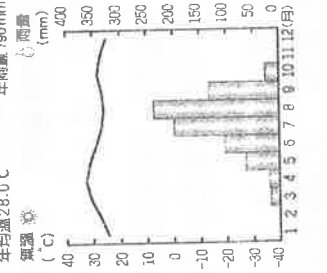
38. 承上題，昔日此河流每年夏季定期氾濫，主要是因為該河流上游流經何種氣候區所致？



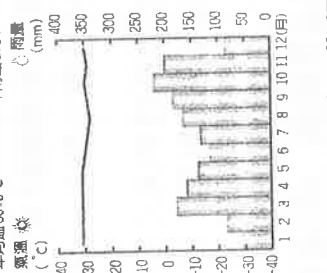
((A))



(B)



(C)



(D)

39. 「非洲因某地形的阻隔，導致南、北部的族群與文化差異甚大...」根據上述，請問某地形是指圖中何處？

(A) A (B) B (C) C (D) D

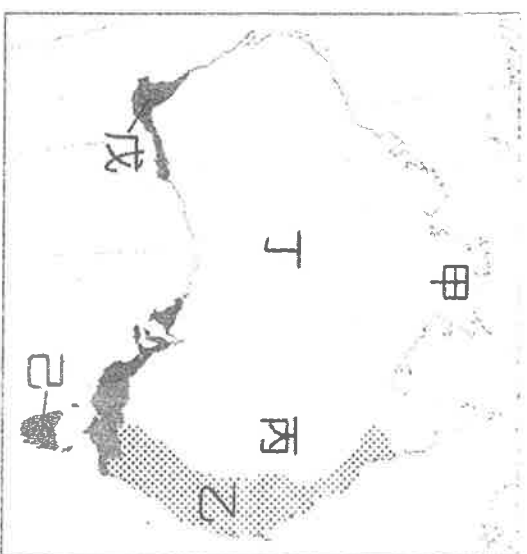
40. 「奈及利亞是非洲石油產量最高的國家，但在2019年2月16日的總統大選突然宣布順延一週，因為數個選委會的辦公室遭焚毀、數千個投票讀卡機與選民電子卡也遭到破壞，動盪不安可見一斑。」上述國家，最可能在圖中何處？

(A)Ⓐ (B)Ⓑ (C)Ⓒ (D)Ⓓ。





◎以下附圖為紐澳簡圖、澳洲氣候分布圖以及紐西蘭雨量分布圖，請回答 41~50 題：



圖一、澳洲與紐西蘭簡圖



圖二、澳洲氣候分布圖

41. 澳洲的酪農業主要分布在上圖一中乙區，這種情況與下列哪項人文因素最相關？
(A)政策規定 (B) 勞工充裕 (C) 技術進步 (D)人口密集。
42. 「Rotorua 素有『毛利之鄉』的美譽，中文被譯作『羅托魯瓦』，是一個以毛利語命名的小鎮。在毛利語裡，羅托魯瓦是火山口湖的意思。這裡的熱泉及泥漿池多不勝數，到處蒸氣瀰漫，泥漿跳躍，硫磺味兒十足。」請問：若想親身體會上述景色，應前往圖一中哪一個地區？(A)乙 (B)丙 (C)丁 (D)戊。
43. 知名卡通海綿寶寶生活的空間—澳洲大堡礁，坐落於上圖一中何處？(A)乙 (B)丙 (C)丁 (D)戊。
44. 澳洲地表最高山脈一大分水嶺主要位於上圖二中哪兩種氣候之間？(A)甲、丙 (B)乙、丙 (C)丙、丁 (D)甲、丁。
45. 「沙漠高溫熱死人！澳洲日前發生觀光客駕車穿越沙漠途中，因油料耗盡車子拋錨，下車徒步求援，慘被烈日活活曬死的意外。澳洲當局呼籲遊客前往沙漠地區務必做好萬全準備。」請問：上述新聞報導所指沙漠應位於圖二中何處？(A)甲 (B)丁 (C)丙 (D)戊。
46. 秀雅計畫前往紐西蘭旅行，行程中圖一的「丁」處郵輪旅遊最讓她期待。請為秀雅可在「丁」處看到的哪種地形？
(A)  (B)  (C)  (D) 
47. 「阿龍應徵了澳洲某地農場的打工度假，契約書上載明工作期間為9月到隔年3月，工作內容為葡萄採摘、葡萄藤修剪等，工作期間雨季剛結束，氣候漸漸乾燥變熱，後來幾乎不下雨，讓阿龍身體適應不良。」請問：阿龍可能在附圖二中哪個氣候帶工作？(A)乙 (B)丙 (C)丁 (D)戊。
48. 知名的藍山咖啡種植於大分水嶺以東，雪梨、坎培拉等大城市有許多咖啡廳販賣其品牌咖啡。咖啡種植與當地豐沛的降水有密切關係。試問，這可能與下列哪一種風向有關？(A)↗ (B)↘ (C)↙ (D)→。
49. 承上題，圖二乙氣候區為藍山咖啡分布的氣候區為下列何者？
(A)夏雨型暖溫帶氣候 (B)溫帶海洋性氣候 (C)熱帶沙漠氣候 (D)熱帶莽原氣候。
50. 澳洲的首都在 (A)雪梨 (B)伯斯 (C)墨爾本 (D)坎培拉。