

一、單一選擇題：(每題2分，共100分)

- () 1. 政府舉辦各式語言學習與文化交流課程，希望能協助新移民順利融入臺灣社會。上述屬於哪種社會福利政策的內容？
(A)社會保險 (B)社會救助 (C)國民就業 (D)福利服務。
- () 2. 李安執導的電影《斷背山》描述的是同性戀的感情世界；近年來，社會對於同志也給予更多的理解與包容。這是屬於哪種層面的社會變遷？
(A)器物 (B)制度 (C)理念 (D)文化。
- () 3. 為因應社會變遷，政府通過《就業服務法》修正案，以保障國民就業機會平等，其中新增列條文規定雇主招募員工，不得因「出生地」和「年齡」而有所差別。這是屬於社會變遷中何者的改變？
(A)器物 (B)制度 (C)風俗 (D)理念。
- () 4. 裕軒從小在都市長大，他感嘆地說：「這十多年來，最少已蓋了數百棟大樓，整個城市變成了水泥森林。」上述裕軒的感嘆清楚點出哪種概念？
(A)社會分工 (B)社會變遷 (C)社會規範 (D)社會正義。
- () 5. 器物、制度與理念三方面的變遷，彼此之間會互相影響。信用卡的出現影響部分民眾使用金錢的觀念，這是屬於哪些方面的交互影響？
(A)器物與理念 (B)器物與制度 (C)制度與理念 (D)制度與經濟。
- () 6. 根據統計顯示，我國高齡人口預估在民國 107 年將超過 14%，為了因應此一轉變，政府特別研議了長期照護制度，來處理進入高齡化社會後可能會對社會產生的衝擊。由上可知，政府是以何種方式來因應此一社會問題？
(A)鼓勵民間參與 (B)政府提出新政策 (C)呼籲個人及早因應 (D)要求人民自行承擔風險。
- () 7. 許多業者為了迎合時下女性追求窈窕身材的需求，紛紛推出減肥塑身的產品，希望能在市場上占有一席之地。上述風氣導致相關產品的開發，這是社會變遷的哪些面向相互影響的結果？
(A)器物生活影響社會制度 (B)價值觀念影響器物生活 (C)價值觀念影響社會制度 (D)風俗習慣影響器物生活。
- () 8. 北部曾經爆發「紅眼症」大流行，部分學校因為人數眾多，併發群體感染，對此許多家長都非常擔心。政府的衛生單位接獲通報後，隨即進行宣導及防治工作，使疫情傷害程度降到最低。政府的作法屬於何種社會福利政策？
(A)社會救助 (B)社會保險 (C)健康與醫療照護 (D)就業安全。
- () 9. 孟修今年就讀高二，家裡是低收入戶家庭。近日，里長和他的父母聊天時，告訴他們可以向政府申請「社會住宅」。「社會住宅」是屬於政府的哪項社會福利措施？
(A)社會保險 (B)就業安全 (C)居住正義 (D)健康及醫療照顧。
- () 10. 政府發放低收入戶生活補助與醫療補助，並透過短期聘僱的方式，協助低收入者自立。上述政府的做法，主要在改善哪項社會問題？
(A)家庭問題 (B)犯罪問題 (C)環境問題 (D)資源分配問題。
- () 11. 在現代生活中，利用雲端硬碟等方式來保存數位文件成為許多人外出時的好選擇，也讓現代人更加依賴網際網路，因而也使得政府對於保護網路世界中的個人資料問題更加重視，不斷強化相關的法律規範。上述現象是屬於下列何種社會變遷的發展過程？
(A)器物的發展帶動理念層次的變遷 (B)理念的發展帶動器物層次的變遷 (C)制度的發展帶動器物層次的變遷 (D)器物的發展帶動制度層次的變遷。
- () 12. 根據附圖中的對話可知，閱讀方式的改變是受到下列何項社會變遷因素的影響？



(A)科技的創新發明 (B)外來文化的刺激 (C)自然環境的改變 (D)社會運動的推動。

()13. 環保署調查國內有機溶劑運作工廠，發現地下水及土壤均超標，這是屬於何種社會問題？

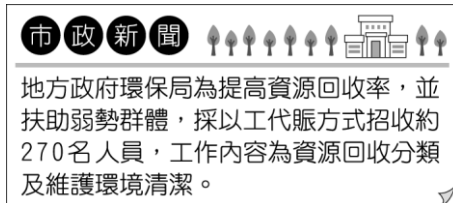
(A)環境問題 (B)犯罪問題 (C)家庭問題 (D)資源分配問題。

()14. 幾位同學正在討論「社會正義」的概念，下列何人所舉的例子最符合？

(A) 到偏鄉設立行動圖書館。 (B) 強制全國國民服兵役。 (C) 要求老年人施打流感疫苗。 (D) 購物時要向商家索取統一發票。



()15. 根據附圖的新聞報導，環保局的做法屬於社會福利政策中的哪一項目？



(A)就業安全 (B)社會救助與津貼 (C)福利服務 (D)社會保險。

()16. 我國社會福利政策中包含由政府通過立法，強制實施的保險制度。附圖中克菁所指的社會保險應為下列何者？



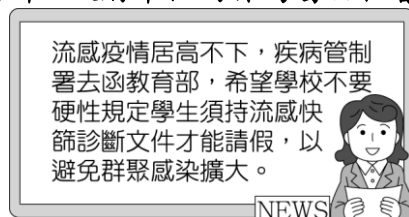
(A)勞工保險 (B)軍人保險 (C)全民健康保險 (D)國民年金保險。

()17. 社會變遷快速，政府調整社會福利政策以因應社會需要，附圖中政府所提供的服務，應屬於社會福利政策中的哪一項目？



(A)社會救助與津貼 (B)就業安全 (C)居住正義與社區營造 (D)健康與醫療照護。

()18. 根據附圖中的新聞報導判斷，政府單位的作為屬於社會福利政策的哪一項目？



(A)福利服務 (B)社會救助與津貼 (C)居住正義與社區營造 (D)健康與醫療照護。

()19. 國內連鎖量販店業者和公益團體合作，舉辦「一日店長體驗活動」，安排發展遲緩的兒童與手足共同完成店長工作，以促進彼此間的感情。上述屬於下列何者為社會福利工作

所做的努力？

(A)學校 (B)政府 (C)民間團體 (D)傳播媒體。

- ()20. 多元入學方案的推動，打破「萬般皆下品，唯有讀書高」的想法。根據上述，下列何者正確？

(A)制度的發展帶動理念層次的變遷 (B)理念的發展帶動器物層次的變遷 (C)制度的發展帶動器物層次的變遷 (D)器物的發展帶動制度層次的變遷。

- ()21. 近年來，臺灣的教育有許多重大變革，首先是教科書開放民間版本，再來是縮短上課時數、甚至是推行十二年國教等，這種改革屬於社會變遷的何種面向？

(A)制度 (B)藝文 (C)理念 (D)器物。

- ()22. 根據附圖內容判斷，此應是下列何項社會變遷因素帶來的影響？



(A)自然環境的改變 (B)社會運動的推動 (C)科技的創新發明 (D)外來文化的刺激。

- ()23. 附圖是俊凱上臺報告的內容，他所負責介紹的社會福利政策應是下列哪一項？



(A)社會救助與津貼 (B)就業安全 (C)居住正義與社區營造 (D)社會保險。

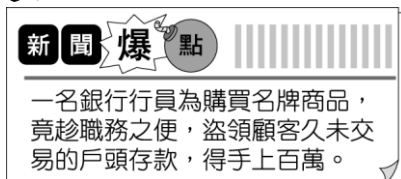
- ()24. 美國民眾發起「占領華爾街」運動，群眾在紐約華爾街附近的祖科提公園紮營抗議，甚至蔓延至其他 10 多個城市，試圖讓大眾注意到美國經濟的不平等和不公平。上述是指下列何種概念？ (A)社會規範 (B)社會文化 (C)社會變遷 (D)社會運動。

- ()25. 佑佑收到一則電話簡訊如下所示，這應是針對下列何種社會問題而發送？

警政署關心您：若收到電話或簡訊要求您到櫃員機操作，有可能是詐騙手法，請立即撥打 165 反詐騙電話求證！

(A)都市化衍生的問題 (B)貧富差距問題 (C)教育問題 (D)犯罪問題。

- ()26. 社會變遷不一定都會造成進步，有時也會對社會帶來負面衝擊，附圖的報導即顯示社會變遷造成下列何種問題？



(A)價值觀念的混淆 (B)貧富差距的擴大 (C)生活品質的下降 (D)弱勢權益的忽視。

- ()27. 文文和綺綺正在聊這個星期日的計畫，如附圖所示。請問：根據圖中的對話內容，應與下列何者的意義相近？

星期日我要去參加公益團體舉辦的騎單車環臺活動，募集的款項將做為救助急難家庭。

這麼有意義的活動，也算我一份吧。

文文

綺綺

(A)正當的親子活動，有助於培養家人的情感 (B)響應環保節能減碳觀念，將帶動單車產業發展 (C)社會資源有限，必須倚賴競爭的社會互動方式而獲得 (D)社會福利工作，需要民間團體與社會大眾共同推動。

() 28. 心瑜因家境不好，向鄉公所申請低收入戶證明，之後每個月可領到生活補助。請問：政府實施上述這項社會福利政策的目的是為何？

(A)保障人民的經濟安全 (B)維持國民的基本生活 (C)提升勞工人力素質 (D)營造健康的生活環境。

() 29. 由附圖中這對夫妻的對話判斷，社會變遷帶來何種負面的影響？

同事都在談論薪水沒有調漲，大家生活苦哈哈。

有錢人吃頓飯就用掉20萬，我們不知要賺幾個月。

(A)弱勢權益的忽視 (B)貧富差距的擴大 (C)生活品質的下降 (D)文明病的出現。

() 30. 王永慶先生小學畢業後即到茶園當雜工，後來開店賣米，憑著經營能力，加上堅持與努力，成功打造了自己的企業王國，成為「臺灣經營之神」。上述說明了下列何種現象？

(A)社會流動 (B)社會文化 (C)社會變遷 (D)社會運動。

() 31. 新北市教育局拍攝「青春Orz—品德教育心系列」影片，希望能教導同學正確的價值觀，進而學習劇中人物的好品德。上述說明下列何者對於社會變遷負面衝擊所做的因應？ (A)民間的力量 (B)個人的努力 (C)政府的作為 (D)企業的投入。

() 32. 為因應社會需求，我國制定多項社會福利政策，附圖中情境應屬於社會福利政策中的哪一項目？

記得向政府請領敬老金，每個月都會發放。

謝謝你的提醒，我上禮拜去申請了。

(A)社會救助與津貼 (B)健康與醫療照護 (C)社會保險 (D)福利服務。

() 33. 以下為四個朋友在網路上聊天，依聊天內容判斷，何人的做法較為適當？

聊天室

佳新：我每個月都有繳健保費，所以沒病也要去看醫生。

彥瑋：上回氣爆，我去災區附近拿了很多免費的物資。

孟瑜：我找到工作後，就沒領政府的補助，把錢留給有需要的人。

潔盈：我借用表弟的低收入戶資格，
申請社會住宅，省了好多錢。

(A)佳新 (B)彥璋 (C)孟瑜 (D)潔盈。

- () 34. 禹雯在搭乘捷運時，看到如附圖的標示。請問：此標示蘊含何種精神？



(A)文化創新 (B)文化傳承 (C)社會正義 (D)終身學習。

- () 35. 由附圖中的對話內容判斷，造成此社會變遷的原因為下列何者？



(A)自然環境的改變 (B)外來文化的刺激 (C)科技的創新發明 (D)社會運動的推動。

- () 36. 每年政府都會在新聞媒體、各大醫院廣為宣傳：3歲以下、65歲以上的民眾可以免費施打流感疫苗。請問：上述屬於哪一項社會福利政策的內容？

(A)社會保險 (B)社會救助與津貼 (C)福利服務 (D)健康與醫療照護。

- () 37. 「社會福利」的觀念源自於西方，是18世紀中葉哪一事件之後才開始發展起來？

(A)工業革命 (B)文藝復興運動 (C)地理大發現 (D)宗教革命。

- () 38. 彰化縣政府針對65歲以上獨居民眾，實施獨居老人關懷訪視及電話問安服務，透過定期關懷，了解老人現況與需求，使這些長者免於孤寂與生活危難，享有安全、溫馨的社區生活環境。上述措施主要在落實何項社會福利政策？

(A)就業安全 (B)福利服務 (C)社會保險 (D)社會救助。

- () 39. 某民間團體召開記者會宣布發起夜宿臺北市仁愛路活動，抗議政府的房產政策不當，讓財團和富人將房屋當作炒作的商品，使得臺灣的房價不斷高漲，一般民眾根本買不起房子。依據上述內容判斷，民間團體的訴求應該是希望政府能夠加強下列哪項社會福利政策？

(A)福利服務 (B)居住正義 (C)就業安全 (D)社會救助

- () 40. 臺中市政府為解決市民托育幼兒的問題，推動多項服務措施，如提供「育兒支持—平價托育服務」，並設置「社區巡迴托育行動列車」，將托育服務的專業資源送至各社區。請問：上述措施應屬於哪一項社會福利政策？

(A)福利服務 (B)社會救助與津貼 (C)居住正義與社區營造 (D)社會保險。

- () 41. 引起社會變遷的原因很多，附圖中阿雅提及的變革應是下列哪一項社會變遷因素所導致的？



(A)自然環境的改變 (B)社會運動的推動 (C)科技的創新發明 (D)外來文化的刺激。

- () 42. 政府實施與推動社會福利政策的經費，主要是來自何者？
(A)企業捐助 (B)善心人士捐款 (C)稅收與社會保險的保費 (D)民間團體的營利收入。
- () 43. 下列何者不屬於「社會福利」的觀念？
(A)幸福是與他人共享得來的 (B)近朱者赤，近墨者黑 (C)社會正義 (D)施捨與救濟。
- () 44. 為增進全民福祉，我國依據下列何者的規畫，推動社會福利政策？
(A)《社會福利政策綱領》 (B)《世界人權宣言》 (C)《民法·親屬編》 (D)《禮記·禮運篇·大同章》。
- () 45. 《禮記·禮運篇·大同章》提到：「使老有所終，壯有所用，幼有所長，矜寡孤獨廢疾者，皆有所養。」若要達到這種理想境界，必須靠下列何種政策？
(A)國防外交 (B)經濟發展 (C)國民教育 (D)社會福利。
- () 46. 高雄市前鎮區發生石化氣爆後，高雄市政府針對現住房屋受損的災民，提供每人六千元的生活慰問金；勞動部針對受災民眾，提供三個月的臨時工作，協助災區重建。以上地方與中央的做法是在落實下列哪項社會福利政策？
(A)社會救助 (B)社會津貼 (C)福利服務 (D)社會保險。
- () 47. 社會保險保障個人及家庭在面臨疾病、身心障礙、職業傷害、失業、年老、死亡時的經濟生活。下列何者屬於社會保險？
(A)職業保險 (B)老年農民福利津貼 (C)急難救助 (D)免費流行性感疫苗注射。
- () 48. 根據中央健康保險署針對國人就醫次數所做的統計，西元2013年有三萬多名的民眾就醫超過一百次。中央健康保險署將針對其中一千多位的民眾進行輔導，不排除限制就醫場所。除輔導與限制就醫場所外，下列何項做法最為恰當？
(A)規定民眾每年度的就醫次數 (B)按照就醫次數增加健保保費 (C)建立正確使用福利資源的觀念 (D)鼓勵民眾自行到藥局買藥。
- () 49. 過去農業社會民眾認為「多子多孫多福氣」，喜歡「子孫滿堂」。後來政府宣導提倡家庭計畫，「兩個孩子恰恰好，一個孩子不算少」，於是民眾漸漸轉變觀念為生育子女要重質不重量。現在由於我國出生率逐年下降，政府又要想辦法提出因應措施。上述內容牽涉到哪些文化層次的社會變遷？
(A)理念、制度 (B)理念、器物 (C)制度、器物 (D)理念、器物、制度。
- () 50. 個人應培養下列何種態度，以作為因應快速、多元的現代資訊社會之基礎？
(A)只在學校時間學習 (B)增加每天上網的時間 (C)突破法律規範的限制 (D)建立終身學習的觀念。

試題結束，請仔細檢查