

北興國中 106 學年度第二學期第三次段考

國二地理科試卷

一、單選題（每題 2 分，共 50 題）

_____班_____號 姓名_____

※近年來臺灣引進許多來自亞洲地區的國際移工，下列是五位在新竹科學園區工作的國際移工自我介紹。請依其內容回答下列問題：

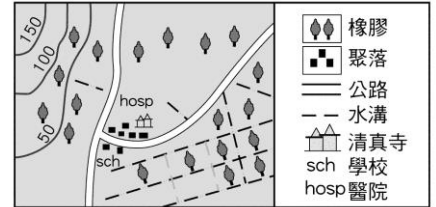
甲：我的家鄉常看到許多金碧輝煌的佛寺，男生要到廟裡當過短期的和尚才能稱為男人。

乙：我的家鄉受中國文化影響很深，也曾經被法國殖民，二次大戰後更分裂成南北兩部分，美國因此出兵參與內戰，西元 1976 年南北統一，定都河內。因此在我的家鄉可以體驗到不同文化的融合，也可品嚐到特殊風味的咖啡。

丙：右圖是我自己畫的家鄉簡圖，我本來是採橡膠的工人，離鄉背景來臺灣賺取更高的薪資，來這裡後心裡常覺得很孤單，還好有真主阿拉，透過每天固定向麥加的朝拜，讓我心情安定不少。

丁：我來自臺灣正南方的國家，語言與宗教信仰受到昔日殖民的西班牙及美國影響深遠。

戊：我從小立志成為軟體工程師，因為這是改善我家經濟狀況的捷徑。誰叫我的老祖先發明了數字與算術，從小我就有很多數學功課，加上老師很重視邏輯推理的能力，所以我的祖國有許多高科技人才，2011 年家鄉的軟體工業產值高居世界第二，僅次於美國。



1. 「甲」的故鄉是右圖中哪個國家？

(A)G (B)B (C)J (D)H。

2. 「乙」他最可能來自哪國家？

(A)越南 (B)泰國 (C)緬甸 (D)日本。

3. 「乙」的故鄉是右圖中哪個國家？

(A)A (B)F (C)E (D)D。

4. 「丙」他最可能來自哪國家？

(A) 柬埔寨 (B) 不丹 (C) 菲律賓
(D) 印度尼西亞。

5. 承上題，來到臺灣的「丙」若要定時向麥加方向朝拜，大致應朝哪個方向膜拜？(A) 東方 (B) 西方 (C) 南方 (D) 北方

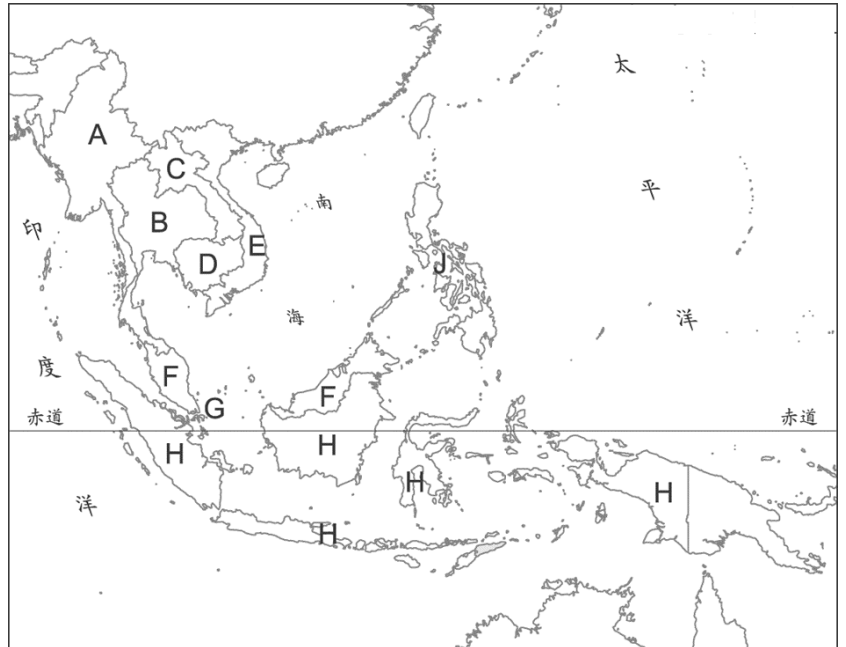
6. 來到臺灣的「丁」表示，在臺灣的新聞中常會發現許多和家鄉類似的情形，因此常有親切的感受。請問：上述提及的類似情形不包括下列何者？

(A)颱風 (B)地震 (C)土石流 (D)暴風雪。

7. 承上題，在「丁」的家鄉最有可能看到哪一個景色？

(A)齋戒月期間，白日禁食 (B)吃香喝辣，參與泡菜製作體驗營 (C)天主教教宗方濟各親臨，信徒熱烈歡迎 (D)群山環伺，攀爬世界第一高峰。

8. 根據『戊』的敘述，他的祖國最可能是下列哪一個國家？(A)印度 (B)日本 (C)韓國 (D)新加坡



※右圖為日本境內重要的工業區分布圖，請根據圖中資料回答下列問題：

9. 日本的重要工業區多分布於下列何地？

(A)北海道 (B)本州 (C)四國 (D)九州。

10. 日本主要的貿易路線為何？

(A)太平洋航線 (B)內陸鐵路 (C)日本內海 (D)日本海海域

11. 日本工業區的分布和哪項工業發展特色的關係最大？(A)火山地震頻繁 (B)天然資源缺乏 (C)經濟海域廣大 (D)工業技術進步

12. 住在東京都會區的小丸子想到大阪旅遊，她若搭乘新幹線鐵路前往，應朝下列哪一個方向前進？

(A)東北方 (B)西南方 (C)西北方 (D)東南方。



※小興八月到南亞旅遊，行前找了一張南亞地區簡圖，如右下圖所示，圖中 A~F 為國家，甲~丁為都市。請問：

13. 第一站，小興想要見到熱帶風情的珊瑚礁景觀，並享受一島一飯店的樂趣，他應前往哪一個國家旅遊？

(A) A (B) D (C) E (D) F。

14. 第二站，小興想要到南亞著名的電影聖地，有「寶萊塢」之稱的城市參觀，那麼他應該到哪一個都市去遊覽？

(A) 甲 (B) 乙 (C) 丙 (D) 丁。

15. 承上題，參觀「寶萊塢」時，小興最可能遇到下列那一種狀況？
(A)天氣乾燥涼爽，舒適宜人 (B)人口壅擠，隨處可見貧民窟與乞丐，衛生條件差 (C)除了電影中的俊男美女外，也是高科技重鎮，有許多跨國企業的研發中心 (D)巧遇伊斯蘭教的齋戒月，白天不容易找到餐廳吃午餐。

16. 第三站，小興想要去挑戰世界第一高峰，請問：他應該去拜訪那一個國家？

(A) A (B) B (C) C (D) D。

17. 小興在旅途中認識了小易，聽小易說他的祖國為爭奪喀什米爾與印度交惡，居民多信仰伊斯蘭教；當地農業因氣候乾燥所以不太興盛，僅少數有河水灌溉的地方能種植棉花等作物。請問：小易的祖國應該是哪一個國家？ (A) A (B) B (C) C (D) D。

18. 第四站，來到『甲』城市，小興發現當地的藝術品和手工藝品自古就很著名，牛隻在街上漫步，就是汽車遇上了這些老爺，也得耐心等牠通過；路上也看到許多前往恆河畔進行聖浴的信徒。請問：小興提及的情形最可能是下表中哪個國家？


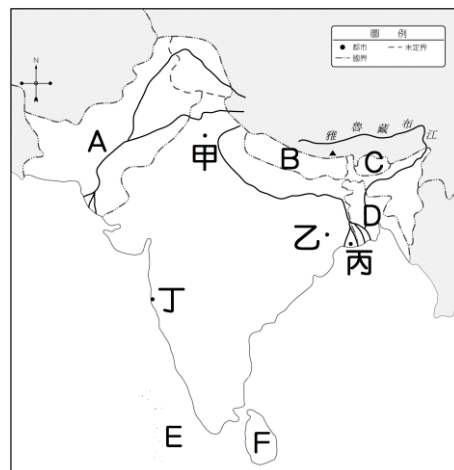
(A) ㄅ (B) ㄆ (C) ㄇ (D) ㄊ。

19. 旅程接近尾聲，小興想購買南亞著名的「錫蘭紅茶」做為伴手禮，那麼他應該到右上圖中哪個國家去採買？

(A) B (B) C (C) D (D) F。

20. 承上題，右表中何者最可能是該國的宗教信仰資料？

(A) ㄅ (B) ㄆ (C) ㄇ (D) ㄊ。

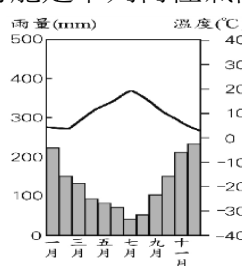


國家	印度教	伊斯蘭教	佛教	基督教	其他
ㄅ	80	11	1	2	6
ㄆ	2	95	—	2	1
ㄇ	12	87	—	—	1
ㄊ	—	8	70	8	14

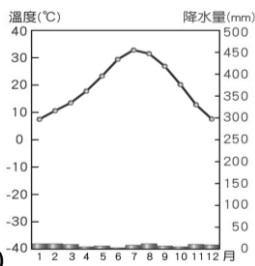
※今年初魯夫船長計畫自台灣出發搭船環遊亞洲，請根據魯夫沿途留下的船長日誌，回答下列問題：

21. 「西元 2018 年 1 月 15 日，來到菲律賓的蘇祿，當地是世界著名的海盜窩，他們每每乘著盛行風揚帆到處肆虐，因此附近島嶼的居民都稱此盛行風為「海盜風」。請問當時所吹的「海盜風」風向應是下列何者？ (A) ↙ (B) ↗ (C) ↘ (D) ↖。

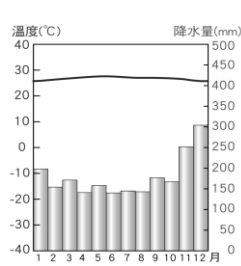
22. 「西元 2018 年 3 月 2 日，航行期間綠意盎然，終日高溫，常在午後被暴雨打個溼透，心情相當惡劣，只有到晚上，清風徐徐吹來，是一天最舒服的時候。」由此日誌內容判斷，魯夫經過的地區最可能是下列何種氣候？



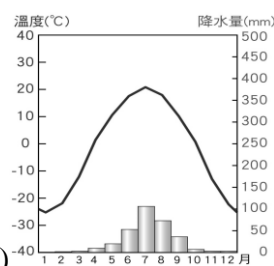
(A)



(B)



(C)



(D)

23. 承上題，魯夫當時最可能到達下列哪一國家？ (A)新加坡 (B)尼泊爾 (C)南韓 (D)巴基斯坦。

24. 承上題，當地的地理位置特色為何？ (A)五海三洲之地 (B)位於印度洋和大西洋之間 (C)連接東西方的鐵路樞紐 (D)十字路口的位罝。

25. 「西元 2018 年 6 月 29 日，船隻抵達孟加拉，當地濕熱多雨，洪水為患，真令人難以忍受……」，請問當時的盛行風向為下列何者？ (A) ↘ (B) ↗ (C) ↖ (D) ↙。

※2018年4月27日全球矚目的兩韓領袖高峰會，在板門店召開，請依照參與的兩國領袖發言回答：

金正恩：「我剛剛非常輕易地就跨過了分界線，也讓我開始思考，這件事情為什麼花了長達幾十年的時間才實現呢？……」

文在寅：「今天天氣非常的好，彷彿在祝賀我們的見面一般，半島的春天也即將來臨。……」

26. 金正恩所提出的分界線是沿著哪條經緯線所劃分出來？

(A) 23.5° N (B) 38° N (C) 23.5° S (D) 38° S。

27. 文在寅所提出『半島的春天也即將來臨』，請問：此半島位置最可能是右圖何處？

(A)甲 (B)乙 (C)丙 (D)丁。

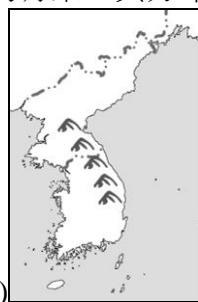
28. 二次大戰後，兩韓長達幾十年的分裂，最主要是因為下列何種因素？ (A)族群糾紛 (B)宗教歧異 (C)資源分享不均 (D)政治制度不同。

29. 今日的兩韓經濟發展互異，下列有關這兩個國家產業特色的描述，何者正確？ (A)南韓的礦產資源豐富 (B)南韓近來全力發展輕工業 (C)北韓十分重視軍事工業 (D)北韓緯度較高，農作物生長季較南韓長。

30. 南韓工業發展的過程與臺灣相似，最有可能的發展順序為何？

(A) 重工業→輕工業→高科技產業 (B) 重工業→高科技產業→輕工業
(C) 輕工業→重工業→高科技產業 (D) 高科技產業→輕工業→重工業。

31. 太白山脈可說是半島的脊梁，其分布與下列哪張圖最相符？



(A)

(B)

(C)

(D)

32. 高峰會的晚宴菜單中，有一道菜上面的裝飾，描繪了兩韓統一地圖，標上了與東側海上鄰國有領土爭議的獨島(鄰國稱為竹島)，可見兩韓也許在諸多方面不對盤，但曾遭殖民統治的共同記憶，讓雙方在反殖民上卻有絕對共識。請問：東側海上鄰國是指下列哪一個國家？

(A)日本 (B)中國 (C)菲律賓 (D)俄羅斯。

33. 兩韓領袖高峰會後，文在寅、金正恩次日都表態希望美國總統川普與北韓金正恩能會面，兩方希望在東南亞經濟最繁榮國家舉辦高峰會，當地靠近麻六甲海峽，是交通位置重要的港埠型城市。請問：川普與金正恩會面的都市是下列何者？

(A)東京 (B)平壤 (C)新德里 (D)新加坡。

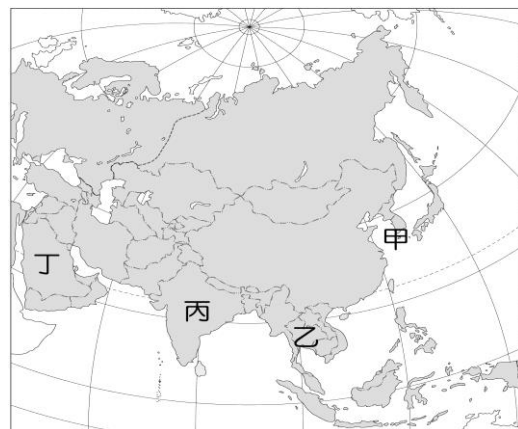
34. 最近火熱的兩韓領袖高峰會議，引發台灣民眾對當地的好奇，旅行社接到北韓旅遊意願的電話也比以前多，請問：旅行社針對北韓的說明，最『不可能』是下列者？

(A) 商業幾乎全部由國家控制，實行「住房免費」、「醫療免費」、「教育免費」 (B) 至今仍是完全封閉的社會主義共產國家 (C) 特別設計密境旅遊，掀開高麗古國的神秘面紗，除了一窺當地與世隔絕未受污染的美景外，也品嚐朝鮮民族的特色風味 (D)可以到吳哥窟，參訪古老的廟宇群。

35. 承上題，旅行社安排了參訪泡菜與人蔘文化體驗館，可以親手製作泡菜，現場真空包裝，帶回台灣成為最佳伴手禮，請問：泡菜是半島人民一年四季不可或缺的食物，此種飲食習慣最主要是受到何項因素影響？ (A)節儉美德 (B)養生觀念 (C)冬季寒長 (D)耕地狹小

36. 承上題，除了美食外，台灣哈韓族到了夢寐以求的韓國，就是為了親眼見到心目中的歐巴(歐尼)，除了在路上巧遇偶像，還有很多人喜歡到該國戲劇取景地點參觀。請問：這些慕名而來的遊客，最有可能帶動下列哪一個當地城市的觀光業？

(A)首爾 (B)曼谷 (C)雅加達 (D)吉隆坡。



※賞櫻是日本人春季的一大盛事，稱之為「花見(Hanami)」。每年3月起日本氣象廳就會開始做櫻花綻放的日期預報(如右圖)，供民眾安排賞櫻活動時的參考。請問：

37. 小丸子是個「花見」族，她聽友藏爺爺說：「賞櫻一開始要先從九州，最後再到北海道去欣賞。」小丸子覺得困惑，為什麼櫻花是由南向北依序開放。這是受到何種因素影響所造成？

(A)經度 (B)雨量 (C)緯度 (D)洋流。

38. 家住臺灣的小興想利用清明節前往日本賞櫻，他應該選擇哪個地區才能欣賞到櫻花初開的景象？

(A)札幌北部 (B)東京北部 (C)京都南部 (D)宮崎南部。

39. 對於圖中四個都市的介紹下列何者正確？(A)札幌位於四國島上，緯度最高，以「雪祭」聞名 (B)東京位於近畿平原，是日本的經濟中心 (C)宮崎位於九州島上，緯度最低，氣候較溫暖 (D)京都位於關東平原，是日本有名的千年古都。



40. 右圖為日本著名的世界文化遺產白川村「合掌造」傳統家屋。顧名思義，就是其聚落住屋的頂部，整齊呈三角造型，以避免凍結沉重的積雪壓垮屋頂，甚至破壞建築結構。請問：此建築類型的出現，主要和哪種季風風向有關？ (A)↖ (B)↗ (C)↘ (D)↙



41. 承上題，「合掌造」傳統家屋的積雪，與經過哪個海洋帶來豐沛降水關係密切？ (A)黃海 (B)日本海 (C)北極海 (D)太平洋。

42. 日本神戶牛肉相當有名，據說每天按摩、聽音樂、吃高級牧草是必備的畜養要件。請問：根據當地的自然環境推論，此地牛隻是屬何種畜牧活動的產品？ (A)水平游牧 (B)放牧 (C)欄牧 (D)垂直游牧

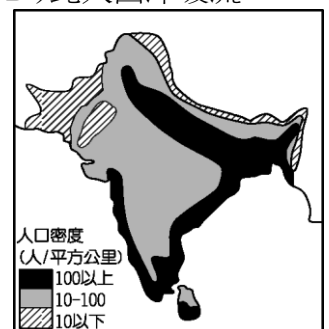
43. 小花為準備國中會考，她整理了一張日本群島與臺灣島的比較表，如下表所示。請問：表中資料哪項正確？ (A)地形 (B)河流 (C)季風 (D)氣溫。

異同	項目	日本群島	臺灣島
相同	(A)地形	地處東亞島弧，多火山、地震，島窄多山，平原狹小。	
	(B)河流	河流短小，富航運之利，水力資源缺乏。	
相異	(C)季風	冬季盛行東北風，夏季盛行西南風。	冬季盛行西北風，夏季盛行東南風。
	(D)氣溫	屬副熱帶季風氣候，南、北變化較大。	屬熱帶季風氣候，南、北變化較小。

44. 電影「海角七號」劇中的日籍男老師，在日本戰敗後從台灣搭船返回日本，請問：當時這艘船最可能順著哪一股洋流返航日本？ (A)黑潮 (B)親潮 (C)中國沿岸流 (D)北大西洋暖流

45. 東南亞早期以熱帶栽培業為主要的經濟活動，下列哪種作物是熱帶栽培業出口的商品？(A)甜菜 (B)大豆 (C)蘋果 (D)咖啡

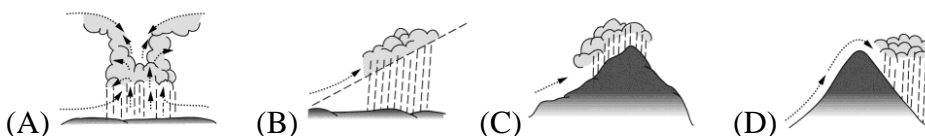
46. 右圖為南亞地區的人口密度圖。南亞的人口分布與下列何項地理現象密切相關？ (A)地形起伏 (B)降水多寡 (C)氣溫高低 (D)礦產分布。



47. 孟加拉與印度阿薩姆邦均位於恆河下游附近，兩區的降雨量皆相當豐沛，但農作物卻不同，孟加拉以黃麻為主，阿薩姆邦則以茶葉為主。造成兩地作物差異的主要原因為何？ (A)政策 (B)氣溫 (C)地形 (D)勞力

48. 東印度群島位於緯度 0° 附近，日照與水分都很充足，降水量遠高於世界平均。請問：這些地區最可能為何種降水類型？(A)地形雨 (B)鋒面雨 (C)颱風雨 (D)對流雨。

49. 承上題，就成因而言，其主要降水類型為下列何者？



50. 承上題，何種景觀最不可能分布於當地？

(A)蕉風椰雨 (B)棕櫚樹林立 (C)棉花田廣布 (D)稻穗搖曳。