

國二地理科試卷

一、 單選題（每題 2 分，共 50 題）

_____班_____號 姓名_____

- 中國形成季風氣候的主要因素為：
(A)地勢高低 (B)距海遠近 (C)海陸性質差異 (D)緯度位置
- 中國的面積相當廣大，氣候類型多樣化。請問：若依中國各地區的氣候特色加以判斷，則下列哪一張圖的標示最為適合？

(A)



(B)



(C)



(D)



- 中國一月時南北溫差大，主要是受下列哪項因素影響？
(A)緯度 (B)地形 (C)季風 (D)距海遠近。
- 「南船北馬」是早期中國交通的特色，中國南北交通發展方向不同，主要是受下列哪項因素影響？ (A)人口 (B)地形 (C)氣候 (D)市場。
- 下列對於內流區的介紹，何者出現錯誤？

(A)



多位於西部地區，河川流量少

(B)



氣候乾燥蒸發旺盛，多鹹水湖

(C)



夏季融雪為水源來源，影響流量及長度


(D)




內流河多位於地形第一級階梯，距海遙遠

※薛家為世居中國的大家族，為四代同堂的大家庭。輩分最小的平貴發現他的曾祖父母共有 10 個兄妹，父母那一代也有 4 個兄弟姊妹，而在配合國家一胎化政策下，1990 年出生的平貴卻是這一代唯一的小孩。請問：

- 上述現象將形成下列何種人口問題？
(A) 扶養比提高、所得增加 (B) 幼年人口增加、勞力不足 (C) 人口素質降低、結構不佳 (D) 性別比失衡、重男輕女。
- 中國實施「一胎化政策」以來，每年仍然增加很多人口，最根本的原因是：
(A)出生率高 (B)人口總數多 (C)死亡率低 (D)自然增加率高
- 來到適婚年齡的薛平貴發現周遭男性友人很多還是光棍(單身)，出現「一妻難求」現象，請問：中國「一妻難求」的社會問題，和下列何者最有關係？
(A)新生兒出生率女孩多於男孩 (B)幼年人口性別比為 117 (C)男性平均壽命較長 (D)壯年女性移居都市。
- 中國於 2015 年宣布結束「一胎化政策」，不再限制只能生育一胎子女。此政策的轉變，有助於紓解的人口問題為何？ (A)人口分布不均 (B)人口素質低 (C)人口基數大，增長慢 (D)人口老齡化。



- 薛平貴婚後想與老婆搬進老家的窯洞(右圖)經營民宿，老家採光雖不佳，但屋子冬暖夏涼且造價便宜，祖先甚至為了避免冬季寒風一直灌入家門內，在鑿洞時，連窯洞的方位也考慮在內，請問此處大門口應朝向哪個方位，最能避免冬季寒風進入？
(A)西北方 (B)北方 (C)東北方 (D)東南方
- 承上題，薛平貴的老家最可能位於下列何處？
(A)黃土高原 (B)青藏高原 (C)四川盆地 (D)橫斷山脈。



※右圖為中國氣候與人類活動分布圖，請問：

12. 『甲』與『乙』兩個地區的分界最可能是下列何者？

- (A)大興安嶺、黑龍江 (B)秦嶺、淮河 (C)巫山、長江
(D)騰衝、黑河。

13. 承上題，與該地理分界線大致相符的是？

- (A) 熱帶與副熱帶分界線 (B) 一月月均溫 0°C 等溫線
(C)年雨量 250 mm 等雨量線 (D)季風與乾燥氣候分界線。

14. 『甲』地區河運交通不便，傳統上多是以陸運的交通方式為主，形成當地的區域特色。這種陸運較發達的特色和該地區哪一項氣候因素的關係最大？

- (A)乾季長，冬結冰 (B)年雨量變率小 (C)夏季季風強勁 (D)年均溫較高。

15. 對於『乙』地區的描述下列何者正確？

- (A)以麵食為主 (B)傳統上依賴犂牛 (C)常見騎樓或高腳屋 (D)湖泊多為鹹水湖。

16. 承上題，每年 6、7 月，『乙』區水災頻繁，與下列哪種降雨類型關係最密切？

- (A)梅雨 (B)地形雨 (C)颱風雨 (D)對流雨。

17. 『甲』與『丁』區的氣候界線，最接近下列何者？

- (A)年雨量 750mm 等雨量線 (B)海拔高度 3000 公尺 (C)一月均溫 18°C 等溫線 (D) 年雨量 500mm 等雨量線。

18. 『丁』地區的人口主要分布在綠洲與河谷地帶，與下列哪項因素最為相關？

- (A)地形較平坦 (B)水源較充足 (C)交通較便利 (D)土壤較肥沃。

19. 承上題，當地民眾最有可以利用下列何者的水資源？

- (A)雅魯藏布江 (B)珠江 (C)洞庭湖 (D)塔里木河。

20. 右圖為中國某城市一月分的風向統計圖，該城市最可能位於何處？

- (A)甲 (B)乙 (C)丙 (D)丁。

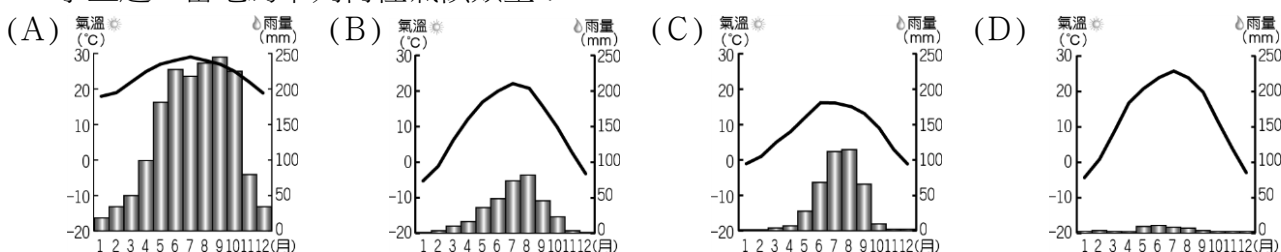
21. 空心菜是家庭常食用的蔬菜，原產於中國，性喜溫暖溼潤，可耐澇、耐熱，但不耐寒，最適合的生長溫度為 15°C 至 40°C 。從氣候條件分析，圖中哪一區域最適合栽種空心菜？

- (A)甲 (B)乙 (C)丙 (D)丁

22. 駱駝的體溫晚間為 34°C ，白天高達 41°C ，只有在高於這個體溫，才開始出汗，因此駱駝可以每天節省約 5 公升水，並可以忍受出汗引起的 25% 的體重損失；厚毛髮可以反射陽光；長腳也讓它們遠離火燙的地面；它們的嘴也很強壯，可以咀嚼多刺的植物；長睫毛和毛髮，可封閉的鼻孔，可以幫助它們隔絕沙塵；它們同時移動同側雙腳的獨特步伐和寬大的腳掌防止在走動時陷入沙中。從以上條件分析，圖中哪一區域是最適合駱駝的自然環境？

- (A)甲 (B)乙 (C)丙 (D)丁

23. 承上題，當地為下列何種氣候類型？

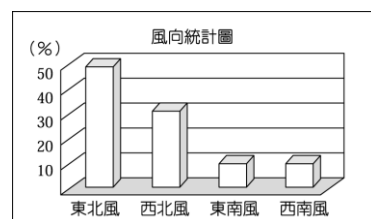
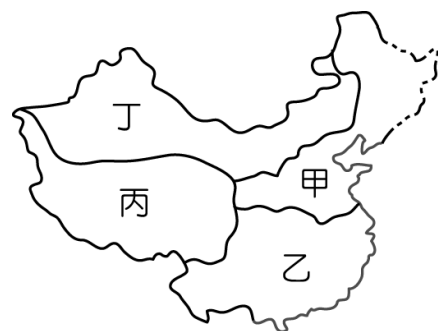


24. 王先生到中國旅行，出發前家人特別叮嚀：那裡的氣候冬天冷、夏天涼；通常白天的氣溫會讓人覺得熱，但是晚上卻又直線下降，務必要多帶外衣禦寒。請問：王先生的旅遊地點在圖中的何處？(A)甲 (B)乙 (C)丙 (D)丁。

25. 承上題，造成該地區夏季涼爽的主要原因為何？

- (A)緯度高 (B)季風強 (C)地勢高 (D)距海遠。

26. 寒假期間，小習自北京市出發，沿京廣鐵路南下到乙區的香港旅遊；小英的旅程則從丁區的天山出發，搭火車向東抵達上海市。下列哪一項地理現象的變化，是二人旅遊路線的共同特徵？(A)日均溫漸高 (B)日溫差漸大 (C)沙漠漸多 (D)小麥田漸多。



※中國的民族眾多，形成多樣化的文化特色。其中生活於各地區的少數民族，為了適應當地的環境特色，因此形成各種特殊的生活形式。請問：

27. 在下列何地最容易看到右圖的傳統住屋景觀？

- (A)內蒙古高原 (B)珠江三角洲 (C)橫斷山脈 (D)雲貴高原

28. 承上題，此類建築主要分布的地區，具有下列何種氣候特徵？

- (A)潮溼多雨 (B)溫差大 (C)冬暖夏涼 (D)終年嚴寒。

29. 承上題，對於當地少數民族的敘述何者正確？

- (A)當地高溫多雨，以稻米為主食 (B)是少數民族中人數最多者，約占人口的 1.3%
(C)以畜牧為主，生活離不開牲畜 (D)信奉伊斯蘭教。

30. 少數民族最多元、民族風情最濃的是下列哪個行政區？

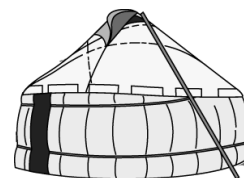
- (A)雲南省 (B)西藏自治區 (C)內蒙古自治區 (D)黑龍江省。

31. 承上題，造成該地族群多元的最主要原因是：

- (A)當地地形崎嶇，交通不便 (B)當地氣候乾燥，沙漠阻擋 (C)當地宗教不同，禁止往來
(D)當地氣候嚴寒，地廣人稀。

32. 中國少數民族中，人口數量最多的是下列何族？

- (A)漢族 (B)回族 (C)苗族 (D)壯族



※下表為中國某都市的氣候統計資料。請問：

月份	一	二	三	四	五	六	七	八	九	十	十一	十二
氣溫 ℃	3.1	4.1	8.0	13.5	18.8	23.1	27.1	27.0	22.8	17.4	11.3	5.8
雨量 mm	50	60	83	90	93	176	145	142	127	71	52	37

33. 該地的年溫差為何？ (A) 24℃ (B) 3.2℃ (C) 23.1℃ (D) 15.2℃。

34. 該地的年雨量最接近下列者？

- (A) 563mm (B) 2372mm (C) 182mm (D) 1126mm。

35. 若依表中的資料判斷，該都市的氣候屬於下列哪一種類型？

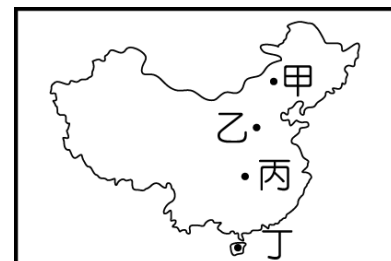
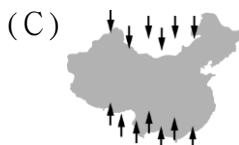
- (A)溫帶草原氣候 (B)溫帶季風氣候 (C)副熱帶季風氣候
(D)熱帶季風氣候。

36. 上表中的氣候類型主要分布於右圖中的哪一個地點？

- (A)甲 (B)乙 (C)丙 (D)丁。

37. 承上題，當地最主要的降雨季節受某盛行風的影響。下列哪一張圖最符合此盛行風的風向？

- (A) (B) (C) (D)



※右圖為中國預計興建的四個水力發電站的分布位置圖，請問：

38. 若要提高發電量，則必須選擇在水量較豐沛穩定，河面落差大的河段上，建造水力發電站，因此圖中何處最符合需求？

- (A)甲 (B)乙 (C)丙 (D)丁。

39. 這四個水力發電站所屬的河流，皆位於下列哪一個區域？

- (A)內流區 (B)北極海外流區 (C)印度洋外流區
(D)太平洋外流區

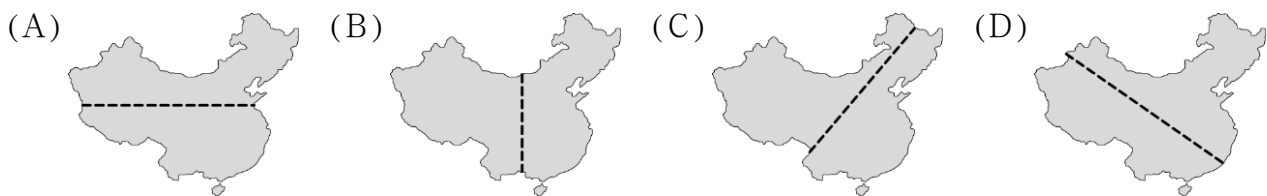
40. 承上題，關於這四條河川的水文特徵描述何者正確？

- (A)甲地所在河川的豐水期出現在冬季，是季節性河流
(B)乙地所在河川的冬季會結冰 (C)丙地所在河川的水量比乙地所在河川小 (D)丁地所在河川的含沙量為中國最高。



※中國的人口分布受到地理環境的影響，呈現人口分布不均的狀況。請問：

41. 下列哪一張圖最能夠表達出中國人口分布疏密的分界線？



42. 承上題，影響中國人口分布，最主要的是下列哪些因素？

(A)地形、氣候 (B)植物、土壤 (C)水文、地質 (D)礦產、能源

43. 下列哪一個地區的環境負載力較高，較容易形成人口密度高的特色？

(A)青藏高原 (B)四川盆地 (C)內蒙古高原 (D)柴達木盆地。

44. 右表哪一個城市，最有可能是哈薩克族與維吾爾族的傳統居住地？

(A)甲 (B)乙 (C)丙 (D)丁。

45. 右表中的「戊」城市最有可能是下列哪一個民族的傳統分布地？

(A)壯族 (B)回族 (C)藏族 (D)滿族

46. 近年來，中國許多內陸的民工不願再到沿海地區工作，反而留在家鄉就業，使沿海地區爆發嚴重的「缺工潮」，沿海工廠只好不斷放寬條件限制，或以其他誘因來吸引員工。下列何者最可能是造成上述缺工潮的原因？

(A)沿海地區的工廠外移 (B)城鄉戶籍可自由遷動 (C)東部物價水準高 (D)西部工業較東部盛。

47. 可口可樂在中國的銷售量屢創新高，顯示中國對企業具有下列何種優勢？

(A)市場廣大 (B)工資低廉 (C)原料充足 (D)技術進步。

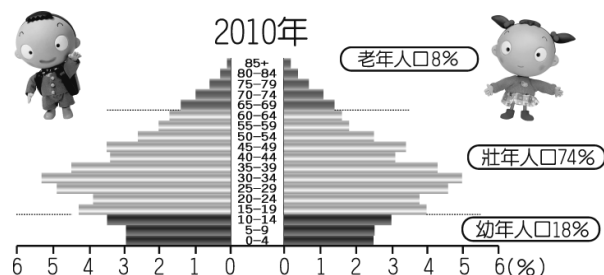
48. 下列何者不是中國目前的人口問題？

(A)人口太多 (B)都市化程度低 (C)人口高齡化 (D)人口素質較低。

城市	一月份均溫 (°C)	七月份均溫 (°C)	年雨量 (mm)
甲	-16	23	536
乙	-4.7	25.8	34
丙	3.9	27.8	1111
丁	18.3	28.8	2025
戊	-1.6	15.1	420

49. 右圖為中國過去及預估未來的人口變化趨勢，由圖中內容判斷，下列何者最不可能發生？

(A) 造成來自父母和長輩的嬌寵溺愛，使許多獨生子女成了家中的「小皇帝」「小皇后」，這些溺愛造成很多不良的性格和心理 (B)撫養比先降後升 (C)婦產科成為中國未來的「明星產業」，接生以女嬰較多 (D) 未來總勞動力開始負成長，「用工荒」日漸顯露，養老困難日益嚴重。



50. 「高齡化社會」通常出現在經濟發展程度高的國家，如日本、瑞典。但中國卻在2000年達到高齡化社會的標準，其成因可能與下列何者最有關係？

(A)國民所得的金額逐年增加 (B)勞動力大量流入鄰近國家 (C)社會資源多偏向老人福利 (D)實行嚴厲的計畫生育政策。

