

一、單一選擇題，每題 2 分

1. () 公民老師講述歷史上某一重要事件所使用的簡圖，如附圖，其中甲、乙最可能為下列何者？ (A) 甲：



政府持續大量發行貨幣，乙：人民生活水準上升

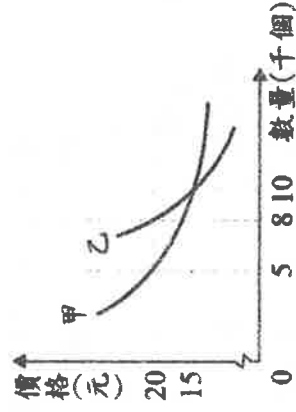
- (B) 甲：政府持續大量發行貨幣，乙：人民生活水準下降
(C) 甲：政府減少貨幣流通數量，乙：人民生活水準上升
(D) 甲：政府減少貨幣流通數量，乙：人民生活水準下降

2. () 小毅、小國與小峰三人，以同時段由其二人工作的方式輪班生產水餃與包子，且每人一次只負責生產一項產品，附表為他們的產能狀況。若小國與小毅搭檔生產時，小毅在生產水餃上具有比較利益；而小國與小峰搭檔生產時，小峰在生產包子上具有比較利益，根據表中資料判斷，甲最可能為下列何者？ (A) 25 (B) 30 (C) 35 (D) 40。

	水餃	包子
小毅	50	40
小國	40	甲
小峰	25	25

3. () 附圖是根據市場調查結果所繪製

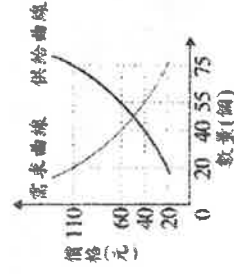
出的需求曲線圖，某公司打算藉此結果為甲、乙二種不同產品訂價。若此公司隨時備有足夠



產品可供應市場所需，則依圖中內容判斷，該公司採用下列何種價格組合的「銷售收入」最高？ (A) 甲、乙產品皆為 15 元 (B) 甲、乙產品皆為 20 元 (C) 甲產品 15 元，乙產品 20 元 (D) 甲產品 20 元，乙產品 15 元。

4. () 附圖是依某店家招牌

商品的市場供需狀況所繪製的圖形，根據圖中訊息判斷，此項招牌商品在下列四種定價時，何者為店家帶來的銷售收入最高？



- (A) 20 (B) 40 (C) 60 (D) 110。

5. () 交通部觀光局邀請日本知名藝人為臺灣拍攝觀光宣傳影片，以吸引日本人來臺旅遊，但在宣傳活動的某段期間，因匯率劇烈波動，反而導致當時日本人來臺旅遊人次呈現負成長。上述觀光局作法所希望影響的消費行為因素，與該段期間匯率變化的情況，最可能為下

列何項組合？ (A) 預期心理、新臺幣相對日幣升值 (B) 預期心理、新臺幣相貶 1 對日幣貶值 (C) 個人偏好、新臺幣相對日幣升值 (D) 個人偏好、新臺幣相對日幣貶值。

6. () 飯店業者常運用需求法則，針對不同時段的來客數量設定不同的價格，希望盡可能提高住房率。附表為某飯店原本房價及優惠後房價，根據表中資料判斷，若不考慮其他條件，下列何者最可能是該飯店推出優惠方案之前的住房情況？

時段	原本房價〈元〉	優惠後房價〈元〉
甲	4000	2800
乙	4000	2000
丙	4000	3600

- (A) (B)

時段	住房率
甲	40%
乙	90%
丙	70%

時段	住房率
甲	70
乙	40%
丙	90%

- (C) (D)

時段	住房率
甲	70%
乙	90%
丙	40%

時段	住房率
甲	90%
乙	40%
丙	70%

7. () 阿龍和小明一起

編製竹筐和斗笠，依比較利益法則進行分工，

小明被分配去製作竹筐，附表是他們每小時所能製作數量的部分數據。根據上述內容判斷，下列敘述何者正確？ (A) 阿龍在製作竹筐上具有絕對利益 (B) 小明在製作斗笠上具有絕對利益 (C) 阿龍製作斗笠的機會成本比較高 (D) 小明製作斗笠的機會成本比較低。

	竹筐	斗笠
阿龍	6	?
小明	3	?

8. () 《錢週刊》本期內容寫著：「由於美元持續反彈，新臺幣面臨沉重的貶值壓力，近一個月以來，新臺幣兌美元匯率已由 31.2 元兌 1 美元，變成 32.8 元兌 1 美元。」根據內容判斷，新臺幣匯率變動所造成的影響為何？ (A) 廠商進口美國貨物的成本降低 (B) 導致國內通貨膨脹嚴重 (C) 此時購買美國進口商品較便宜 (D) 有助於我國貨物出口至美國

9. () 以下是

阿幸與阿福摺星星與紙鶴的生產量。根據表中資料判斷，下列相關敘述，何者正確？ (甲) 分工前，阿福無論摺星星或紙鶴都比

項 目	阿 幸		阿 福	
	分鐘	數量	分鐘	數量
分工前	星星	30	180	30
	紙鶴	30	60	30
分工後	星星	40	240	10
	紙鶴	20	40	50

單位：個

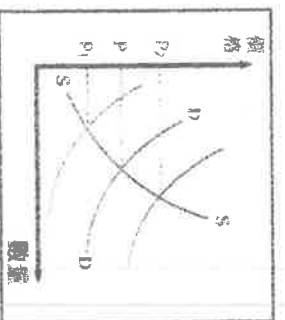
阿幸強 (乙) 分工後，星星數量增加了 (丙) 分工後，紙鶴數量不變 (丁) 分工後，阿幸較專心摺星星，阿福較專心摺紙鶴 (戊) 分工合作使兩人比原先的單打獨鬥獲得較多的利益 (A) 甲乙丙丁 (B) 甲乙丁戊 (C) 甲丙丁戊 (D) 乙丙丁戊。

10. () 花媽請柚子跟橘子利用週末打掃家中環境，已知兩人擦一輪窗戶或掃一次地所需的時間如附表，請問：根據比較利益原則，兩人應該如何分工比較有利？(A) 柚子擦窗戶、橘子掃地 (B) 柚子掃地、橘子擦窗戶 (C) 兩人先一起擦窗戶，接著一起掃地 (D) 兩人的工作效率相同，如何分工都沒有差異。

人物	擦窗戶一輪	掃地一次
柚子	1 小時	45 分鐘
橘子	1.5 小時	1 小時

11. 附圖為新鮮現榨果汁的供給曲線 SS 和需求曲線 DD——

近日因部分加工濃縮果汁被檢驗出含有塑化劑，導致消費者為維護健康，於是轉而購買新鮮現榨的果汁。根據上述內容判斷，在其他條件不變的情形下，此時新鮮現榨果汁的價格最有可能發生何種變化？




- (A) 移往 P1 方向 (B) 移往 P2 方向 (C) 維持在 P1 (D) 無法預測。

12. () 所謂「看不見的手」是經濟學家對市場價格機能的比喻。然而即使是民主自由的國家，政府有時也會因為各種因素而介入干預市場活動。請問：以下何者在台灣有受到政府這隻「看得見的手」影響？(A) 高速公路通行費 (B) 上市公司股票價格 (C) 手機的通話費率 (D) 銀行的房貸利率。

13. () 我國哪個金融機構負責發行貨幣，並肩負維持物價與金融穩定的任務？(A) 交通銀行 (B) 臺灣銀行 (C) 合作金庫銀行 (D) 中央銀行。

14. () 一顆茶葉蛋 8 元、一臺電腦價值新臺幣 20,000 元、一輛腳踏車 7,000 元。從上述的「8 元」、「20,000 元」、「7,000 元」可以看出貨幣的何種功能？(A) 交易媒介 (B) 債務清償 (C) 價值衡量 (D) 價值儲存。

15. () 下圖為甲國在西元 2008 年至 2011 年進出口貿易的年度資料。根據圖中內容判斷，甲國在哪一年的貿易開始產生順差？(A) 2008 年 (B) 2009 年 (C) 2010 年 (D) 2011 年

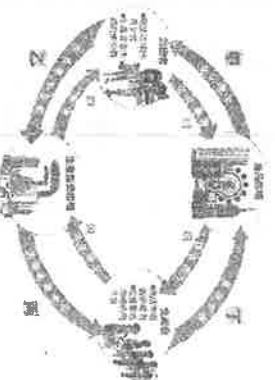


▲西元 2008 年至 2011 年甲國進出口貿易年度資料

- 二、題組，每題 2 分
題組一

閱讀下列短文，配合下圖回答下列問題，並將圖中的代號，填入空格中。

明華利用國中畢業的暑假，到大賣場打工。樓上的王媽媽常來買醬油等生活用品。一天，隔壁早餐店的謝老闆跑進店裡



參考選項：貨幣的流向

- A、所得 B、消費支出
C、銷貨收入 D、生產成本

選購冷氣機，原來是店裡的冷氣機壞了。打工兩個月下來，明華賺了 15,000 元。

16. () 謝老闆選購冷氣機的錢，屬於？
17. () 謝老闆賣早餐獲得的錢，屬於？
18. () 明華打工所賺的 15,000 元屬於？

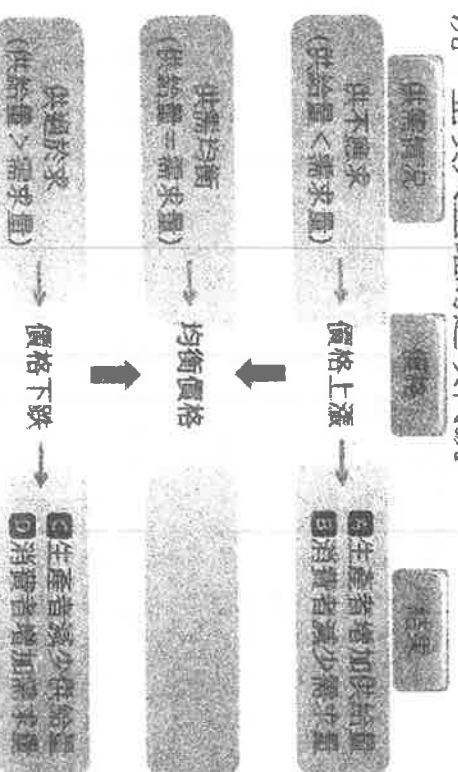
參考選項：商品、生產要素的流向

- A、商品需求 B、生產要素供給
C、生產要素需求 D、商品供給

19. () 王媽媽買醬油的行為，屬於？
20. () 明華到大賣場上班的行為，屬於？
21. () 謝老闆賣早餐的行為，屬於？

題組二

請判斷下列各題目中的文字描述是屬於何種情況，並填入正確的選項代號。



22. () 產油國組織減少石油供給，使得油價上漲，民眾出門都盡量避免自行開車，而改搭

大眾交通工具，汽油出現_____的情形。

23. () 香蕉盛產，果農降價促銷，以吸引民眾購買，表示香蕉將出現_____的情形。

24. () 七夕情人節玫瑰花價格飆升，許多情侶改以其他花種表達情意，由此可知玫瑰花出現_____的情形。

25. () 日式糕點「和菓子」熱潮消退，部分店家為增加買氣降價促銷，但許多業者認為無利可圖，紛紛倒閉關門，表示「和菓子」市場出現_____的現象。

26. () 新流感(H1N1)流行，民眾搶購耳溫

槍、口罩，使得價格飆漲，業者想藉此大賺一筆，所以將出現_____的狀況。

27. () 電影院早場時段客人較少，因此提供早場優惠價，藉此達到_____的效果。

28. () 颱風侵襲全臺後，民眾紛紛改買較便宜的根莖類蔬菜，高價的葉菜類蔬菜將出現_____的情形。

題組三

請閱讀文章，並回答下列問題，選出正確答案。

小芬暑假時到韓國首爾自由行，出發前聽別人建議：先不要在國內把(甲)新臺幣兌換成(乙)韓元，應該帶(丙)美金去韓國，在當地兌換韓元會比較划算。

小芬到了韓國，先在機場用美金兌換韓元，1美金可兌換到1,040韓元，接著又買了(丁)T-money卡，類似國內的(戊)悠遊卡，儲值後，搭車、買東西都很方便。

首爾的明洞有很多保養品店，小芬看到商家正在發放廣告傳單，裡面剛好有她想買的品牌(己)折價券和(庚)贈品兌換券，於是她趕快到店裡挑選想買的商品，結果因為兌換的韓元不夠消費，只好趕緊拿出(辛)信用卡來結帳。

小芬和店員聊天時，發現她是來自臺灣的留學生，畢業後在韓國定居，聽她說剛來念書的時候，一碗韓式炸醬麵折合新臺幣50元，現在則漲為100元了，所以即使這裡的薪水比臺灣高，生活品質並沒有比較好。

29. () 上述文章中，屬於貨幣的有哪些？(A)

甲乙丙(B)甲戊己(C)乙己庚(D)丁戊辛

30. () 從文中得知，美金和韓元相較，哪一種貨幣價值較高？(A)美金 (B)韓元 (C)相同 (D)無從比較

31. () 下列有關T-money卡的說法，何者正確？

(A)卡片本身具有一定價值，又稱為「商品貨幣」 (B)可作為交易媒介，但不具備價值儲存的功能 (C)又稱為「法定貨幣」，由韓國政府負責發行 (D)和信用卡一樣，都是「塑膠貨幣」的一種

32. () 店員提到炸醬麵的價格從新臺幣50元變成100元，若還有保養品、交通費等其他很多商

品都變貴了，表示韓國出現什麼情況？(A)貨幣貶值(B)民眾的薪水提高(C)貨幣的發行量不夠使用(D)民眾的消費欲望提高

題組四

安和國和樂利國各自生產不同的產品，並透過國際貿易進行交換。表1為兩國生產葡萄酒和羊毛的年產量部分數據，且依據比較利益原則，已知樂利國應生產羊毛。請根據表中內容回答問題。

▼表1 安和國和樂利國生產葡萄酒和羊毛的年產量表(單位：萬噸)

國家 產品	安和國	樂利國
葡萄酒	40	60
羊毛	80	


33. () 根據表中數據判斷，樂利國羊毛的產量可能為下列何者？(A)90萬噸 (B)100萬噸

(C)115萬噸 (D)180萬噸

34. () 根據題敘述及上題結果判斷，下列敘述

何者正確？(A)安和國在生產葡萄酒方面具備絕對利益 (B)樂利國在生產羊毛方面具備比較利益 (C)樂利國在生產葡萄酒方面具備比較利益 (D)安和國在生產羊毛方面具備絕對利益

35. () 圖1為某年安和幣兌樂利幣的匯率走勢圖，小明是安和國的羊毛進口商，請問：小明應在幾月自樂利國進口羊毛最為有利？(A)1月 (B)5月 (C)8月 (D)12月



▲圖1 安和幣兌樂利幣的匯率走勢圖

題組五

請閱讀下列短文，並回答下列問題，選出正確答案。

臺灣早在一九九〇年代，筆記型電腦的產量就已位居全球第一。然而，臺灣並非電腦王國，而應該是電腦代工王國。由於全球分工的生產模式，各國根據其在生產筆記型電腦的不同優勢，分別專門生產筆記型電腦的某一構成零件，例如：美國科技較為先進，因此專門開發中央處理器和操作系統；中國有低廉而充足的人力，則負責最後的電腦組裝工作。

透過國際分工，各個國家得以將生產資源投入特定領域，使資源得到最大利用，並提高生產效率，同時也讓筆記型電腦整體產量大增。或許這是筆記型電腦近年來售價得以不斷下降，從昂貴的奢侈品變成生活必需品的原因之一。

- 36.()文中提及美國專門研發電腦操作系統，中國則利用低廉人力進行電腦組裝，不同國家在國際生產鏈上負責不同的工作，此種作法符合下列何種經濟學原理？ (A)外部效果 (B)負擔能力 (C)比較利益 (D)供給法則
- 37.()文中提及中國選擇專門負責最後電腦的組裝工作，主要是因為該國有充足且低廉的人力，此說法符合下列何種經濟學原理的意涵？ (A)供需達成平衡 (B)機會成本較低 (C)減少外部效果 (D)提升負擔能力
- 38.()各國根據各自的優勢，選擇發展不同的產業，主要可以達成下列何種目的？ (A)降低生產成本 (B)達成供需平衡 (C)促進國民就業 (D)提高投資意願
- 39.()根據文中內容判斷，各國進行專業化的國際分工，可以帶來何種效益？ (A)促進投資，擴大生產規模 (B)提升效率，增加產品產量 (C)增加需求，提高消費意願 (D)增加供給，提升生產意願

題組六

下表為我國在西元2007年~2013年的進出口貿易統計，請根據資料回答問題。

▼我國進出口貿易統計表

(單位：百萬美元)

項目	出口總值	進口總值	貿易收支
西元			
2007	246,677	219,252	27,425
2008	255,629	240,448	15,181
2009	203,675	174,371	29,304
2010	274,601	251,236	23,364
2011	308,257	281,438	26,820
2012	301,181	270,473	30,708
2013	305,441	269,897	35,544

- 40.()哪一年貿易順差最大？
(A)2010 (B)2011 (C)2012 (D)2013
- 41.()哪一年的貿易進口和出口均呈現大幅萎縮的現象？

(A)2007 (B)2008 (C)2009 (D)2010

- 42.()承上題，造成我國當年貿易進出口大幅萎縮的原因可能和下列何者有關？ (A)產品的競爭力提高 (B)政府提高勞工薪資 (C)金融海嘯影響全球經濟 (D)國外企業資本雄厚

- 43.()我國天然資源缺乏，經濟成長主要來自對外貿易，在其他條件不變的情形下，本國貨幣應該要升值或是貶值才有利於出口貿易？〈三選一〉

(A)貶值，因為本國貨幣貶值後，外國貨幣對本國產品的購買力相對增加
(B)升值，因為本國貨幣升值後，本國貨幣對外國產品的購買力相對增加
(C)不要升值也不要貶值，維持現況，穩定經濟，

題組七

野獸國公司

徵求經理、

會計、業

務、護理人

員四種工作

的人才各一

名。老闆從

收到的履歷

表中選出老

虎、孔雀、

無尾熊、貓

頭鷹四位應徵者，依照他們提供的資料，歸納各自的優點及缺點，列表比較(如附表所示)，經面試後，安排適合四人專長的工作。請回答下列問題：

應徵者	優點	缺點
老虎	具備領導能力，善於判斷事情，適合作決策、下指令。	不喜低聲下氣，習於一人之下，萬人之上。
孔雀	善於溝通協調事務，人脈廣，交際能力佳。	不擅處理數字、報表，以及瑣碎事務。
無尾熊	脾氣好，EQ高，常扮演傾聽者、安慰者的角色。	主見不夠，易學棋不足，決策能力不足。
貓頭鷹	精於處理財務報表，精準計算金錢數字。	一板一眼，不擅變通。

- 44.()野獸國公司需要接待客戶、擴展業務時，何者的機會成本最低？ (A)老虎 (B)孔雀 (C)無尾熊 (D)貓頭鷹。
- 45.()處理複雜演算的會計工作，何者具有比較利益？ (A)老虎 (B)孔雀 (C)無尾熊 (D)貓頭鷹。
- 46.()老闆依照四個人的專長安排各自適合的工作，會帶來何種結果？ (A)能力佳的人得不到好處 (B)能力差的人才有好處 (C)對所有人都沒有好處 (D)使公司做出最佳的表現。
- 47.()老闆依四人專長安排分工，主要是依據哪項經濟學概念？ (A)比較利益 (B)絕對利益 (C)供需法則 (D)機會成本。
- 48.()為增加公司的競爭力，老闆決定訓練員工具備更多技術與能力。上述老闆「訓練員工具備更多技術與能力」的行為，稱為什麼？ (A)消費行為 (B)生產行為 (C)投資行為 (D)國際貿易行為。

題組八

郝艾昕要到美國去出差，並採購公司所需的物料。根據上星期出國的經驗，新臺幣 33 元可兌換 1 美元；這次他到銀行去兌換美元時，新臺幣 32 元即可兌換 1 美元。請回答下列問題：

- 49.()根據上述內容判斷，新臺幣的幣值有什麼變化？ (A)新臺幣升值 (B)新臺幣貶值 (C)無法判斷 (D)沒有變化。
- 50.()承上題，此時對於國際貿易將會有下列何種影響？ (A)有助於廠商出口貨物 (B)有利於廠商進口貨物 (C)美元可兌換的新臺幣變多 (D)我國的貿易收入會增加。