

◎單一選擇題：每題 2 分，共 50 題

1. 臺灣歷經許多不同階段的工業發展，每個階段的發展重點都不同，請問：(甲)鋼鐵、石化 (乙)紡織、鞋業 (丙)生物科技、奈米科技 (丁)半導體、電子產業。以上工業種類若依臺灣經濟發展的順序，應如何排列？ (A)甲→乙→丙→丁 (B)乙→丙→丁→甲 (C)丙→丁→甲→乙 (D)乙→甲→丁→丙

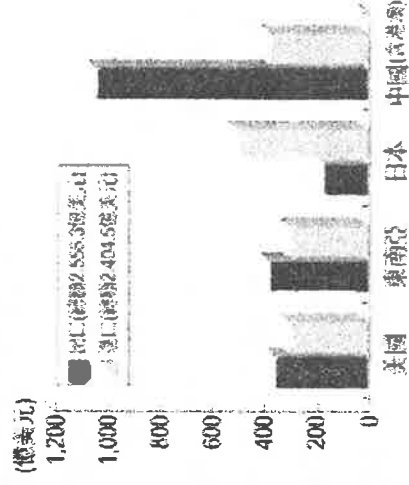
2. 臺灣目前以高科技產業為工業主流，其具備的工業特徵包括下列哪些？ (甲)附加價值高 (乙)外銷潛力大 (丙)技術密集度高 (丁)原料需求量大 (A)甲乙丙 (B)甲乙丁 (C)甲丙丁 (D)乙丙丁

3. 家樂福、好市多採用「以量制價」的方式，又可提供停車服務，因此地點多設在空間寬闊的市郊，此種銷售形式是以下哪一種商業型態？ (A)批發 (B)零售 (C)量販 (D)無店舖

4. 24 小時營業的便利商店，其銷售形式是哪一種商業型態？

(A)批發 (B)零售 (C)量販 (D)無店舖

5. 右圖為臺灣某年與主要貿易對象的進出口貿易額，請依圖判斷，下列何者正確？ (A)臺灣主要的進口物品為農工原料 (B)臺灣對東南亞的貿易為入超 (C)臺灣對日本的出超額最大 (D)臺灣最大的貿易夥伴為中國



6. 第三級產業以提供服務為主，一般也稱為服務業。下列哪種行業「不」屬於服務業？ (A)運輸業 (B)觀光業 (C)零售業 (D)半導體業

7. 臺灣五大都會區中，多是以商業為主，但是其中有個都會區，本身重工業發達，且擁有臺灣最大的國際港，請問是哪個都會區？ (A)臺北基隆 (B)臺中彰化 (C)臺南 (D)高雄

8. 老師請同學討論「都市」的特色，下列誰的說法最正確？ (A)小雨：「都市的面積比鄉村大。」

(B)大仁：「都市的人口密度較高。」 (C)中忠：「都市的居民都是從事第一級產業為主。」

(D)語心：「都市的居民主要由宗族關係所組成。」

9. 下列哪一項重要的交通建設，對臺灣東部地區的開發，直接貢獻最少？

(A)北迴鐵路 (B)南迴鐵路 (C)中山高速公路 (D)蘇花公路

10. 鐵路運輸和公路運輸相較之下，鐵路運輸的特色為何？

(A)運輸量較大 (B)受地形限制較小 (C)機動性較高 (D)修築費用較低

11. 臺灣的蘭花生產在全球市場占有 60% 以上，每年產值高達數十億元，其中以蝴蝶蘭、文心蘭與蕙蘭為最大宗，其外銷的運輸應以何種方式為主？ (A)公路 (B)鐵路 (C)空運 (D)海運

12. 小語想認識臺灣經濟發展的歷史，如果想調查「臺灣加工出口區」與「重工業區」的發展，應該前往右圖中何處？ (A)甲 (B)乙 (C)丙 (D)丁

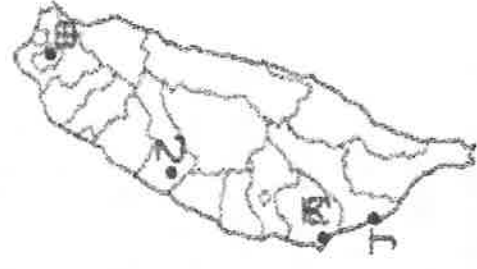
13. 2017 年發生 815 全國大停電事件，讓民眾對於供電穩定憂心忡忡，成為企業家在臺灣投資設廠的一大變數。請問：這屬於哪一種工業發展的區位條件？

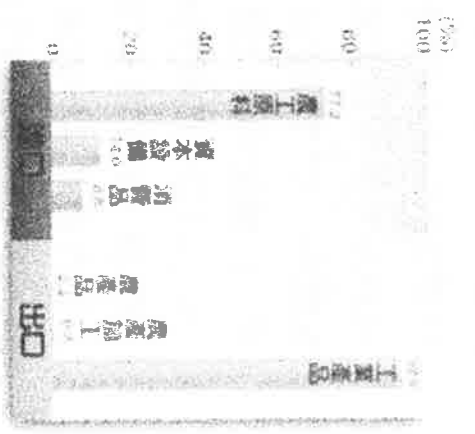

(A)原料 (B)動力 (C)勞工 (D)市場

14. 臺灣產業發展重心歷經幾個不同階段，今日臺灣經濟以何種產業的產值居冠，帶動臺灣的經濟發展？ (A)輕工業 (B)精緻農業 (C)重工業 (D)服務業。

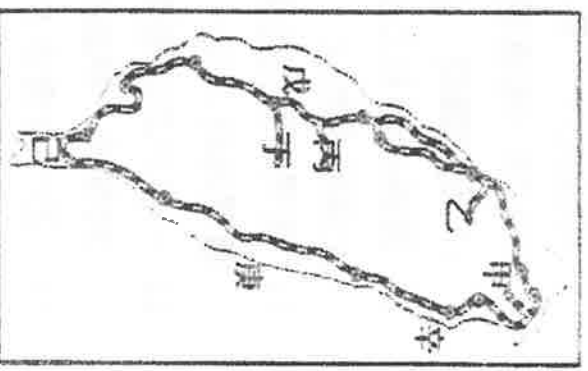
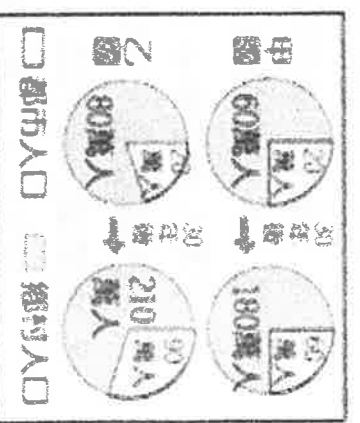
15. 以高科技工業為例，臺灣工廠在國際分工體系中，主要扮演何種角色，因此對世界經濟的影響相當明顯？ (A)代工 (B)行銷 (C)設計 (D)研發

16. 你今天 LINE 了嗎？說到通訊軟體，有 80% 的臺灣人第一個想到的就是 LINE！請問：LINE 的使用，是屬於通訊中的何種方式？ (A)郵政 (B)傳真 (C)無線電 (D)網際網路





17. 近年來，臺灣的製造業環境面臨嚴峻挑戰，產業結構出現明顯變化，紡織、製鞋等傳統工業占製造業 GDP 比重如右圖所示。由圖中數據的變化來看，這是受到下列何項因素的影響較大？(A)加入 WTO，競爭激烈 (B)工資上漲，成本提高 (C)傳統產業的技術落後 (D)傳統產業的原料昂貴
18. 右圖為臺灣主要進出口貨品金額比例圖。由此圖可推測，臺灣在發展工業上的主要限制為何？ (A)礦產不豐 (B)勞力不足 (C)技術缺乏 (D)土地狹小
19. 網路購物平台跟進百貨公司周年慶，強打促銷，瓜分消費市場，百貨公司業績年年下滑。請問：網路購物與實體商店相比，具有什麼優點？ (A)可以直接看到商品 (B)貨物的品質較好 (C)可立即取得貨品 (D)不受時間與空間的限制
20. 北興國的都市化程度為 85 %，而人口總數為 2,000 萬人。以下敘述何者正確？ (A)北興國經濟發展程度比台灣低 (B)北興國的產業發展以第一級產業為主 (C)北興國的都市人口約有 1700 萬人 (D)北興國的鄉村人口約有 1700 萬人
21. 右圖是甲、乙兩國都市人口和鄉村人口占全國人口比例的統計圖。圖中顯示三十年後，甲、乙兩國的都市化程度有何改變？(A)僅甲國提高 (B)僅乙國提高 (C)甲、乙兩國皆提高 (D)甲、乙兩國皆未提高
22. 臺灣的公路四通八達、深入各地，是最為普遍的交通工具。——台車「凸」全臺灣，更凸顯其機動性高的特色。請問，若由臺北前往宜蘭遊玩，在不考慮塞車的情況下，走哪一條路線最為省時快速？



23. 台灣鐵路成環狀分布，主要是受到哪一項因素影響？ (A)地形 (B)氣候 (C)土壤 (D)水文
24. 根據右圖所示，台鐵支線中，哪一條支線，因近年來政府大力推展觀光產業，加上當地推動平溪天燈節，觀光訪客逐年增加因而著稱的鐵路。 (A)甲 (B)乙 (C)丙 (D)丁
25. 腹地是指港口集中和分散貨物所能到達的地區，聯繫的交通運輸網路愈發達，港口腹地愈大。請問：高雄港腹地遠大於基隆港的主要原因為何？ (A)勞工充足 (B)氣候暖溼 (C)地形平坦 (D)高科技業發達
26. 鄉村聚落的景觀會因為不同的地理條件，而出現集村和散村兩種不同的居住型態。請問：下列何種地理條件最有可能形成「散村」景觀？ (A)缺乏水源之處 (B)水源充足的平原地帶 (C)治安不佳之處 (D)開發時間較早的沿海地區
27. 台灣哪一地區較可能出現「集村」景觀？(A)嘉南平原 (B)阿里山山區 (C)蘭陽平原(D)臺北盆地
28. 臺灣國際貿易活動相當發達，請問：我國對於國際貿易依賴程度甚高，其原因與下列哪些因素有關？(甲)自然礦產資源缺乏 (乙)土地狹小糧食不足 (丙)氣候不穩天災較多 (丁)國內消費市場有限 (A)甲乙 (B)丙丁 (C)甲丁 (D)乙丙

29. 根據右表資料判斷，臺灣前五大農產品的進出口貿易，對何國呈現「出超」？

- (A)中國 (B)日本 (C)巴西 (D)美國

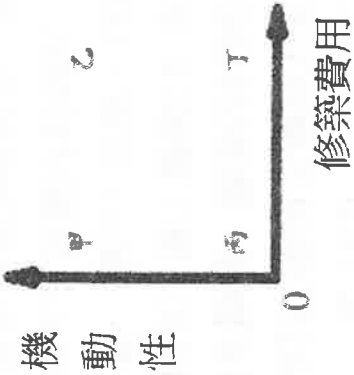
2014年臺灣前五大農產品主要進出口國

排名	出口 國名	出口 金額	排名	進口 國名	進口 金額
1	中國	9.95億	1	美國	38.0億
2	日本	8.33億	2	巴西	11.22億
3	香港	5.35億	3	日本	9.66億
4	越南	5.04億	4	中國	9.64億
5	美國	5.02億	5	澳洲	8.55億

30. 右圖為機動性與修築費用的關係圖，

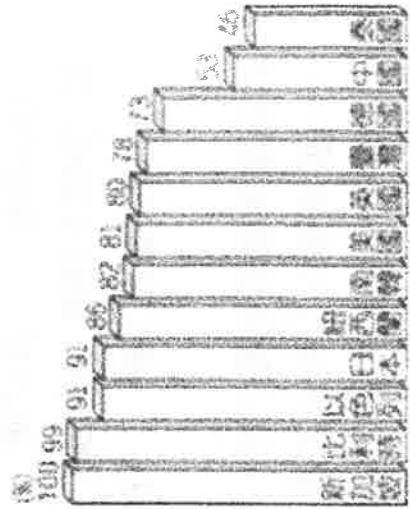
甲、乙、丙、丁何者是影響公路建設密度較鐵路普及的原因？

- (A)甲 (B)乙 (C)丙 (D)丁



31. 都市聚落已成為現代國家主要的發展趨勢，右圖為 2013 年臺灣與其他國家都市化程度比較圖。請問：其高低變化和下列何者關係最大？

- (A)土地大小 (B)氣候條件 (C)產業發展 (D)族群組成



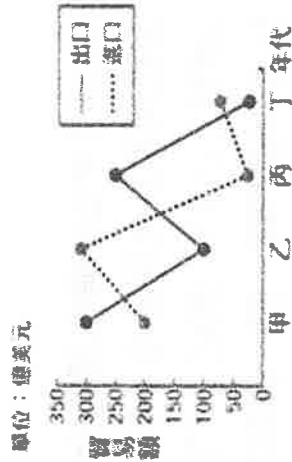
32. 判斷集村和散村的不同，主要的依據為何？(A)聚落土地的大小

- (B)聚落居民從事的職業 (C)聚落住屋分布的型態

- (D)聚落的總人口數

33. 右圖為北星國四個時期的貿易總額統計圖。請問：哪個時期，北

- 星國的人超最嚴重？ (A)甲 (B)乙 (C)丙 (D)丁



◎據報載：花蓮縣政府的將礦石稅調高，以喚起各界對產自花蓮礦石的重視。另外，花蓮縣政府實施的「八不政策」中包括「不准山坡地開發」、「新砂石場不准申請設立」、「不准有煙囪工業進駐」等。這些政策希望能保住花蓮青山綠水，並朝『無煙囪產業』發展。

34. 根據上述文章敘述，花蓮縣的產業活動，希望能朝向哪一種產業發展？

- (A)科技工業 (B)加工出口工業 (C)觀光產業 (D)鋼鐵工業

35. 花蓮縣為台灣水泥廠的集中地，水泥工廠選擇設立於花蓮縣，最主要考慮的區位條件是以下哪

- 一項？(A)勞工 (B)原料 (C)市場 (D)交通

◎臺灣早期交通運輸的往返以海運為主，因此造就了許多港口都市。後因陸上交通的普及，港口都市日漸沒落。請回答下列相關問題：

36. 早期的港口主要分布於臺灣西半部，其主要的原因為何？ (A)當時航海技術不佳 (B)西半部許多天然良港 (C)台灣西部氣候較穩定 (D)台灣聚落的分布位置

37. 臺灣早期因地形限制，導致南北向交通受阻，故以海運為主要交通方式。上述所謂「地形限制」是指下列何者？ (A)眾多橫向的山脈 (B)陡直的海岸 (C)廣大的平原 (D)東西流向的河川

◎美國 MATTEL 公司與台灣華夏集團合資，擇定台北縣泰山鄉成立美寧工廠，開啟了泰山鄉紡織製作與代工產業的興盛年代，也帶動了當地經濟的發展。請回答下列相關問題：

38. 從上文敘述，可確定當時台灣工業發展階段應為下列哪一個年代？

- (A) 民國 40 年代 (B) 民國 50 年代 (C) 民國 80 年代 (D) 民國 90 年代

39. 當初工廠設立的選擇條件，主要是受到以下哪一個區位條件影響？

- (A) 政策區位 (B) 市場區位 (C) 勞工區位 (D) 動力區位

◎工業區位是指工廠設置的地點，而選擇地點時所需考慮的各項因素，就是工業區位條件。請根據右圖回答下列問題：

40. 『甲地』若考量原料區位條件，應以下列哪一種工廠為佳？

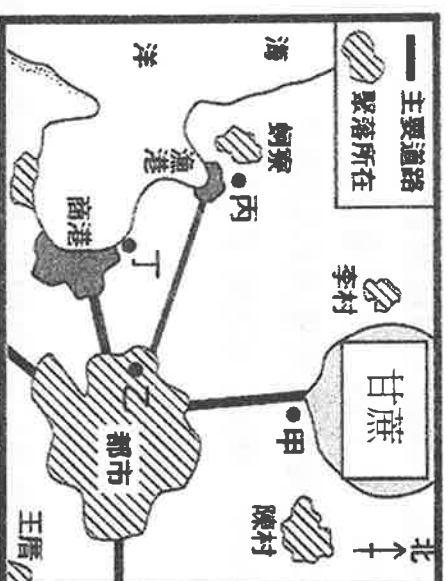
- (A) 麵包工廠 (B) 成衣工廠 (C) 鋼鐵工廠 (D) 製糖工廠

41. 此地區普遍缺乏礦產，利用國外的煤礦、鐵礦來發展重工業。請問：發展重工業的最佳建廠位置應在何地？

- (A) 甲地 (B) 乙地 (C) 丙地 (D) 丁地

42. 請問下列哪一種工廠，較適合設置在『乙地』？

- (A) 陶瓷藝品工廠 (B) 煉鋁工廠 (C) 石油化學工廠 (D) 製糖廠



◎高雄林園區地勢平坦，農、漁業發達。1973 年起政府在此興建石油化學工業，也是十大建設之一，使本區由「魚米之鄉」轉變為台灣石化工業區的重鎮。請回答下列相關問題：

43. 當時將石化工業設立高雄林園區，主要考慮的工業區位是下列哪一項？

- (A) 交通 (B) 原料 (C) 動力 (D) 市場

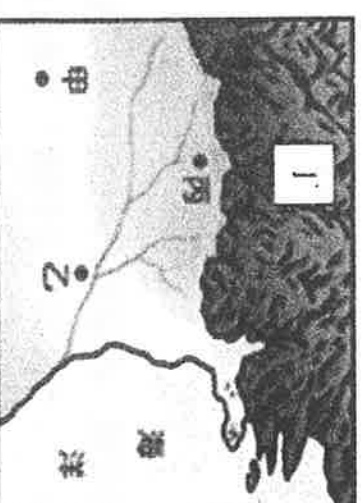
44. 石油化學工業是屬於工業的哪一類型？(A)輕工業 (B)重工業 (C)高科技工業 (D)國防工業

◎右圖為某地區四個聚落的分布位置，請依圖回答下列問題：

45. 如果河運是此地區唯一的運輸方式，請問：哪個聚落的交通最為便利？(A)甲 (B)乙 (C)丙 (D)丁

46. 根據右圖判斷，哪一個聚落的地勢較高？

- (A) 甲 (B) 乙 (C) 丙 (D) 丁



◎ (甲)海運 (乙)公路 (丙)空運 (丁)鐵路 上述四種為主要的運輸方式，請回答下列相關問題：

47. 臺灣本島上的交通，以何種運輸方式最為普遍、便利？ (A)甲 (B)乙 (C)丙 (D)丁

48. 臺灣地區大量工礦原料的進口、工業產品的輸出，以下列哪一種運輸方式所占的比例最大？

- (A) 甲 (B) 乙 (C) 丙 (D) 丁

49. 離島的澎湖、金門、馬祖等，通常以何種運輸方式與臺灣本島互通有無？

- (A) 甲 丙 (B) 甲 乙 (C) 乙 丙 (D) 丙 丁

50. 在地形崎嶇的高山地區，或短距離的貨物運輸，較適合利用何種運輸方式？

- (A) 甲 (B) 乙 (C) 丙 (D) 丁