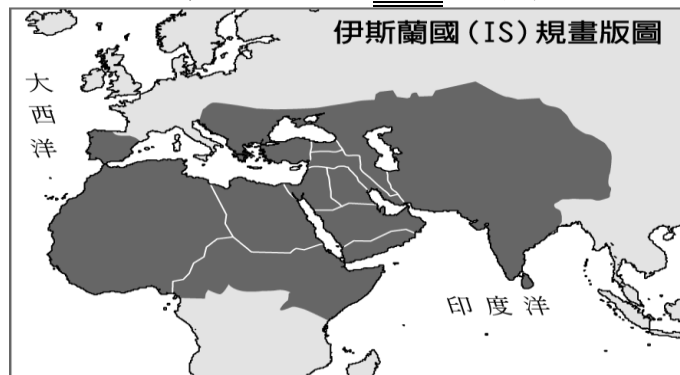


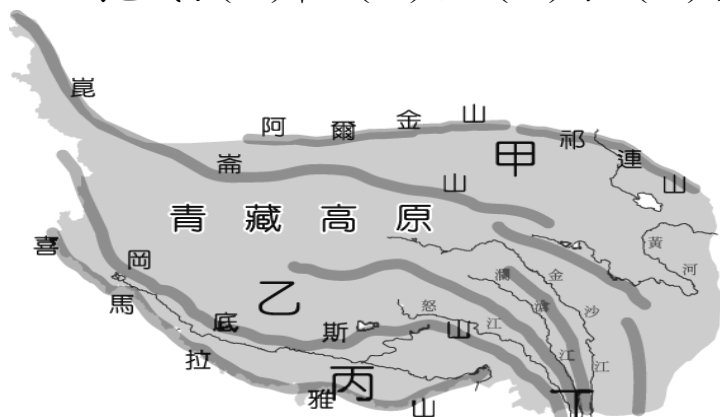
嘉義市立北興國民中學106學年度第二學期地理科2年級第二次段考

一、單一選擇題：每題2分，共42分

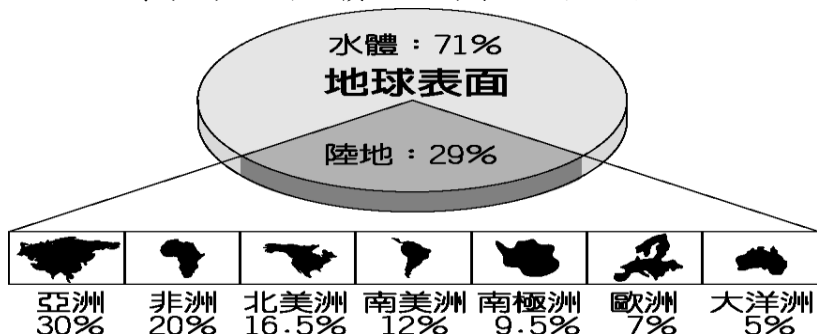
1. () 伊斯蘭國 (IS) 是活躍於西亞的宗教聖戰組織，奉行極端恐怖主義，該組織宣稱未來將建立一個政教合一的大帝國，其規畫的版圖如附圖所示。請問：其版圖包括下列哪一國？



- (A) 法國 (B) 中國 (C) 紐西蘭 (D) 美國。
2. () 中國西部地區因為自然環境差異，各地人口分布不均。附圖中何處為青藏地區人口最為密集的區域？(A) 甲 (B) 乙 (C) 丙 (D) 丁。



3. () 附圖是地球表面水陸分布及各洲占陸地面積比例圖。請根據圖上資料判斷，下列哪一項正確？(A) 海洋大部分在南半球 (B) 美洲面積的總和比非洲小 (C) 陸半球的陸地面積與水半球相等 (D) 亞洲面積占地球表面的30%



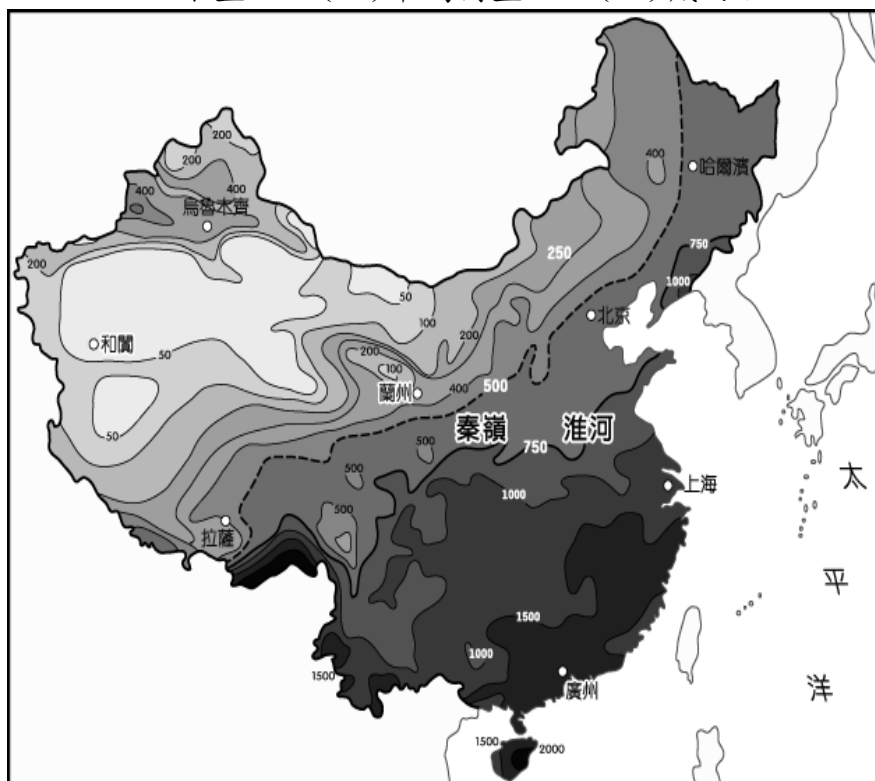
4. () 附圖為中國西部地區位置示意圖，西部地區地廣人稀，面積超過全國的一半。請問：西部地區缺乏的氣候類型為何？(A) 高地氣候 (B) 溫帶草原氣候 (C) 溫帶季風氣候 (D) 溫帶沙漠氣候。



5. () 綠色植物在白天陽光照射時，可行光合作用產生營養物質，而夜間溫度降低會使得呼吸作用效率減低，能量耗損較少，有利於營養物質的累積。如果阿農想要購買一塊土地種植瓜果，他應選擇附表中哪一種氣候條件的土地，其單位產量會最高？(A) 甲地 (B) 乙地 (C) 丙地 (D) 丁地。

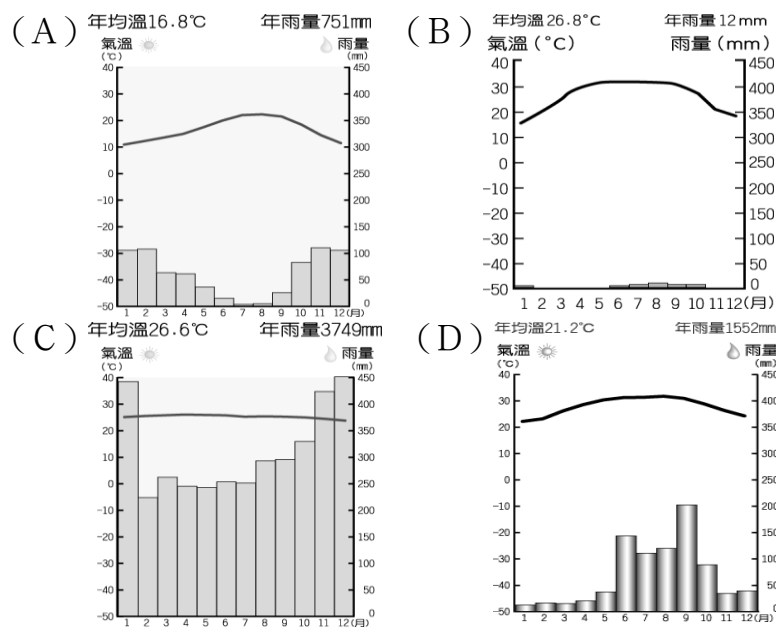
地點	太陽輻射量 (千卡 / cm ² / 年)	日照時數 (小時)	平均日溫差 (°C)
甲地	195	1,965	16
乙地	143	2,043	4
丙地	92	2,132	13
丁地	112	2,305	7

6. () 附圖為中國各地的降雨量分布圖，圖中年雨量最少的地區位於何處？(A) 東北平原 (B) 塔里木盆地 (C) 準噶爾盆地 (D) 藏南縱谷。

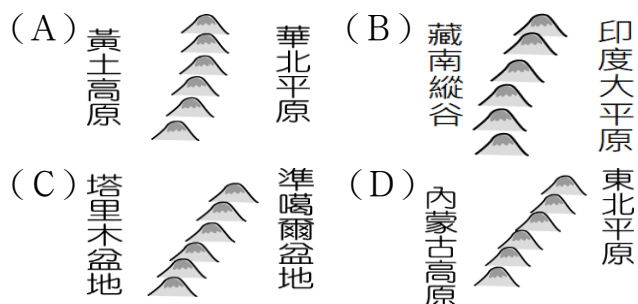


7. () 新疆由於地理位置的影響，隨著交通日漸便利，成為中國新興的工業地帶，經濟重要性日益顯著。上文中的地理位置與國家和新疆緊鄰下列何處無關？(A) 蒙古 (B) 東南亞 (C) 俄羅斯 (D) 中亞。
8. () 河西走廊自古為東西往來的交通要道。請問：交通要道的形成所具備的條件是什麼？(A) 氣候乾燥，雨量稀 (B) 有綠洲提供商旅所需 (C) 文化古國多，交易方便 (D) 北有高山阻隔，不受風寒。
9. () 氣候影響該地區的地理景觀，附圖中的景象主要分布於哪一種氣候區中？





10. () 河西走廊在哪一個季節的灌溉用水最為豐富？
 (A)春季 (B)夏季 (C)秋季 (D)冬季。
11. () 「這裡人煙稀少，其中一個原因是盧安瓦河一年一度的氾濫。每年10月之後的雨季期間，黑壓壓的雷雨雲開始聚積，滂沱大雨如急流般從天而降，洗去草與樹上的塵埃；暴漲的河水會重新改變土地的面貌，野生動物也隨著乾溼季節的更替而遷移。」上文所述的地區，最可能是位於下列何種氣候分區？(A)北半球熱帶季風氣候(B)北半球溫帶沙漠氣候(C)南半球熱帶莽原氣候(D)南半球熱帶雨林氣候。
12. () 氣候對當地的產業影響甚大，下列有關敘述中，何者為溫帶大陸性氣候的特色？(A)終年有雨、風向轉換(B)夏雨為主、年溫差大(C)冬雨為主、風向固定(D)夏雨冬乾、年溫差小。
13. () 「由於當地居民的宗教信仰以及血統，皆與中亞游牧民族較為接近，和中國傳統漢人社會的差異反而較大，此地一直存在著獨立建國的聲音。中國對此十分重視，於是積極改善當地交通及基礎設施，加速當地石油、煤礦等資源的開發。」上文是在描述中國哪一地區？(A)西藏自治區 (B)內蒙古自治區 (C)寧夏回族自治區 (D)新疆維吾爾自治區
14. () 地球表面起伏的五大地形中，以下列哪兩種地形所占的面積最為廣大，各約占總面積的1/3？(A)平原、高原 (B)平原、盆地 (C)高原、山地 (D)平原、丘陵。
15. () 下列為四張中國重要山脈與地形的相對位置圖，其中何者北方的方位標示應指向圖中左側？

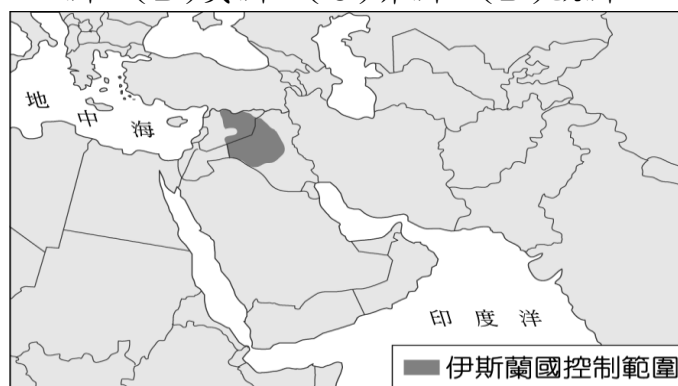


16. () 青藏高原受到地勢高的影響，因此當地呈現何種自然環境現象？(A)沙漠 (B)礫漠 (C)寒漠 (D)岩漠。
17. () 隨著國際貿易的發達，全球金融往來越加頻繁，附圖中標示點即為全球金融重鎮之一的位置

所在，請問：當地主要信仰的宗教為何？(A)伊斯蘭教(B)基督宗教(C)佛教(D)印度教。



18. () 東南亞氣候極為炎熱潮溼，因此常會遇到潮溼、蟲蛇的問題。請問：當地居民利用哪一種傳統的建築方式來避免此問題的發生？(A)架高搭建(B)黃土窯洞(C)傾斜屋頂(D)土樓建築
19. () 附圖為2015年伊斯蘭國(IS)控制範圍的示意圖，主要位於敘利亞和伊拉克之間。其控制範圍靠近三洲的交會位置，因此戰略地位相當重要。請問：下列哪一洲不在交會區內？(A)亞洲 (B)美洲 (C)非洲 (D)歐洲。



20. () 河西走廊因形狀狹長而得名，主要水源位於下列哪一個地區？(A)內蒙古高原 (B)秦嶺 (C)祁連山 (D)青藏高原。
21. () 中國西部地區的環境負載力較低，過多的人為開發會為該區帶來嚴重的環境災害。請問：西部地區的環境災害不包括下列哪一項？(A)湖泊乾涸(B)火山爆發(C)沙塵暴(D)草原退化

二、題組：每格2分，共58分

(一). 新疆過去曾分別在外國勢力的支持下，建立兩次短暫的政權，成為新疆地區爭取獨立的起源。1933年受英國支持成立東突厥斯坦伊斯蘭共和國，1944年則受北方鄰國支持而成立的東突厥斯坦共和國，兩者都是未獲國際承認的短暫國家，均被當時中華民國的國民政府軍剿滅。請問：

- () 22.當時英國支持的獨立國家「東突厥斯坦伊斯蘭共和國」位於維吾爾族聚集區，處於下列哪一個地形區？(A)準噶爾盆地(B)塔里木盆地(C)青海湖盆地(D)柴達木盆地
- () 23.上文中支持「東突厥斯坦共和國」成立的北方鄰國現今最可能為下列何者？(A)印度 (B)日本 (C)英國 (D)俄羅斯。

(二). 世界各地有關不明生物的傳說眾多，中國新疆也傳出相關消息。一名遊客前往新疆的喀納斯風景區，廣大的湖面突然出現一條黑影游動，目測其長度較小船要大，讓該地區的傳說又添一則。請問：

() 24.喀納斯風景區位於新疆準噶爾盆地北側山脈中，自然生態景觀和人文景觀維持原始風貌，當地人視之為「人間淨土」。根據其位置判斷，該風景區所在的山脈應為下列何者？(A)天山 (B)崑崙山 (C)太行山 (D)阿爾泰山。

() 25.承第(24)題，位於該山脈的喀納斯湖有著「世界上最美麗湖泊」的美譽，若依當地的氣候而言，該湖泊降雨的水氣來源為何？(A)北極海(B)大西洋(C)太平洋(D)印度洋。

(三).新疆電影《歌行千里》主要是在講述當地青年人尋夢的過程。為了追求歌唱的夢想，當地一位歌手由村子裡的自然環境尋求創作靈感，並來到烏魯木齊尋找機會，過程中不斷受挫，但是也讓他更清楚堅定自己的方向。影片中到新疆各地實地取景，將各地秀麗的景觀藉此呈現給廣大的觀眾。請問：

() 26.新疆地區的居民生活受到自然環境的影響極大，形成他們獨特的生活方式。圖(一)為當地某少數族群的聚落型態，根據圖(一)判斷，其生活方式應以下列何者為主？(A)放牧(B)欄牧(C)山牧(D)游牧。



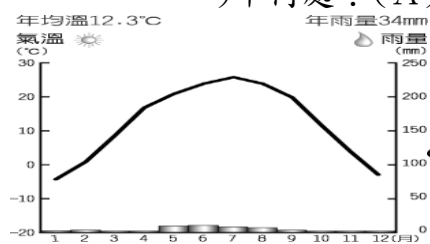
▲圖(一)

() 27.承第(26)題，該族群主要活動的型態受到自然環境的影響，多分布於準噶爾盆地。該地區發展農牧業活動的水氣主要來自於何處？(A)太平洋 (B)北極海 (C)印度洋 (D)大西洋。

() 28.新疆地區的自然條件相當嚴苛，卻有許多不同族群生活在一起。由於該地區居民多信奉哪一種宗教，因此成為當地的文化特色之一？(A)基督教 (B)藏傳佛教 (C)印度教 (D)伊斯蘭教。

() 29.新疆地區由於具有特殊的條件，中國在當地設立少數民族自治區，然而因為地理位置因素。哪一個少數民族在當地所占的人口比例可能最少？(A)哈薩克族 (B)蒙古族 (C)維吾爾族 (D)壯族。

() 30.新疆某地區的氣溫雨量圖如圖(二)所示，若根據其特色判斷，該地點最可能位於圖(三)中何處？(A)甲(B)乙(C)丙(D)丁。



▲圖(二)



▲圖(三)

(四).「(一)美國從阿富汗撤軍之後，計畫長期駐留『甲地區』，以抑制中、俄的勢力。(二)中國擔心『甲地區』的宗教激進分子將會影響到新疆獨立運

動，因此由國家主席習近平前往『甲地區』進行訪問，希望穩定當地的局勢，阻止當地激進穆斯林力量，以加強新疆內部的統治。」以上為哥倫比亞大學教授剖析中、美和俄三國在「甲地區」的競爭，請回答下列問題：

() 31.上文中提及的「甲地區」，應該位於下列何處？(A)東南亞 (B)中亞 (C)西亞 (D)東北亞。

() 32.中國政府為了新疆發展，不斷投入自治區首府建設。請問，這個都市是？(A)喀什 (B)烏魯木齊 (C)拉薩 (D)酒泉。

() 33.新疆位於中國邊陲，軍事地位十分重要，周圍有許多國家。請問，下列哪一個國家不是與新疆交界？(A)蒙古 (B)俄羅斯 (C)哈薩克 (D)尼泊爾。

() 34.由於新疆近年來的經濟地位重要性逐漸提高，中國對當地更是重視，除了政治目的外，還兼有掌控下列何種重要經濟區位條件？(A)勞力(B)鐵礦(C)水力(D)石油。

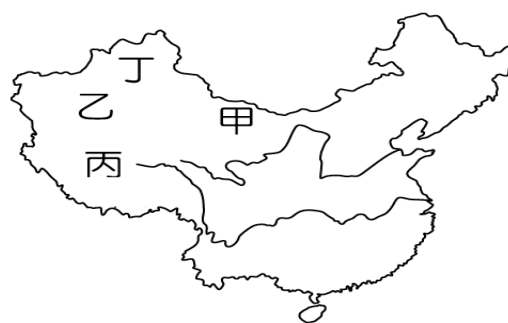
(五).中國在近年來經濟發展相當快速，但是也出現了許多問題，其中區域發展不均被認為是最迫切須要解決的難題。因此，近年來中國陸續針對不同地區提出相關政策，其概念在於「把東部沿海地區的剩餘經濟發展能力，轉用以提高西部地區的經濟和社會發展水平、鞏固國防。」請問：

() 35.西部地區經濟發展普遍較慢，未能搭上中國對外改革開放的快速列車，因此形成區域差異的問題。造成這種現象的主要原因為何？(A)氣候乾燥少雨(B)地形崎嶇阻隔 (C)對外交通不便(D)勞動人口不足。

() 36.針對西部地區的發展問題，中國提出的政策中包括了「加強生態環境保護和建設」，這是因為西部地區受到區域發展的影響，造成了何種環境問題？(A)水土流失(B)土地荒漠化(C)地層下陷(D)水源汙染。

() 37.承第(36)題，過度的農耕開發、牲畜飼養是造成西部地區環境問題的主因，這是受到何種因素的影響，造成土地過度使用？(A)人口增加 (B)邊境貿易 (C)農產出口 (D)農業改良。

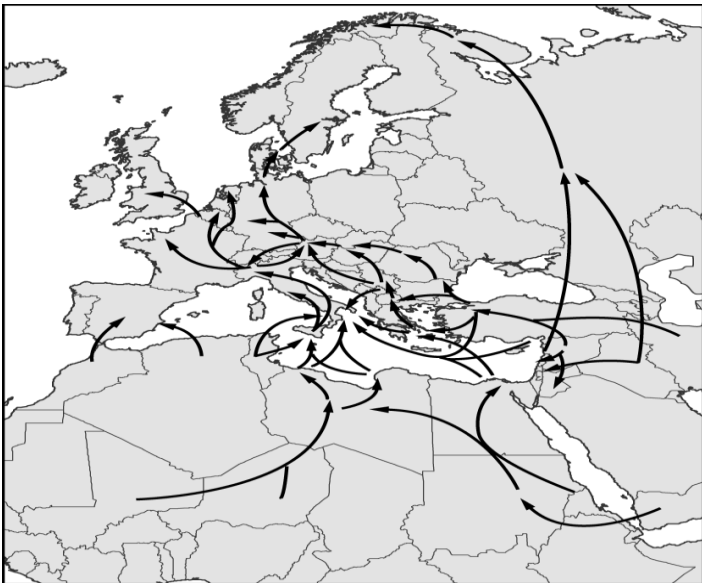
() 38.影響太平洋地區的沙塵暴亦是發源自西部地區的「特產」，若中國官方想派人處理沙塵暴問題，他應該先到附圖中何處去了解沙塵暴發生的源頭？(A)甲 (B)乙 (C)丙 (D)丁。



() 39.中國的經濟發展和世界經濟日趨緊密，因此中國為減緩區域差異，在西部地區的西藏地區計畫加大改革開放力度，以促進其經

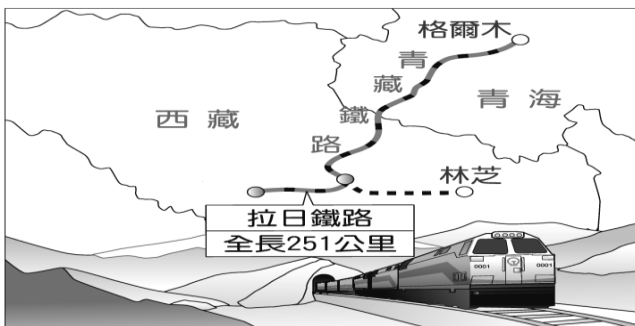
濟成長。若當地政府想和鄰國洽談貿易合作，以下列哪一個國家較為適合？(A)北韓 (B)越南 (C)哈薩克 (D)印度。

(六). 附圖為近年來難民主要移動路線，由於戰爭和迫害，2014 年全球流離失所人數逼近六千萬人，創下新高，且人數增長也呈現加速的趨勢，一再發生的難民悲劇，也擋不住大量湧入的難民潮。問：



- () 40. 由附圖中難民的移動路線可知，出現難民遷移的地區不包括下列何者？ (A)歐洲 (B)南美洲 (C)亞洲 (D)非洲。
- () 41. 由附圖判斷，難民在移入該地後，容易造成哪兩種宗教信仰的衝突？(A)基督宗教、猶太教(B)基督宗教、印度教(C)佛教、伊斯蘭教(D)基督宗教、伊斯蘭教。

(七). 青藏鐵路被稱為世紀工程，在 2006 年正式通車後，成為世界最著名的高山鐵路，吸引許多觀光客，也為西藏當地帶來可觀的收入。2014 年青藏鐵路繼續擴建，延伸到西南地區，從拉薩到日喀則，沿線最低海拔 3,600 公尺，最高將近 4,000 公尺，可稱為「行在天空中的火車」，穿越大峽谷，可遠眺世界第一高峰的美景。請問：



- () 42. 若旅行社要針對青藏鐵路的特性來編寫廣告文宣，下列何者最適合用來形容？(A)雲端上的旅程(B)穿越沙塵暴的故鄉(C)中國的黃金路線(D)重工業躍動的大動脈
- () 43. 若觀光客搭乘該鐵路來沿途欣賞周邊的風情，所見到的景觀中不包括下列何者？(A)犛牛(B)沙漠(C)冰蝕湖(D)糌粑。
- () 44. 由拉薩到日喀則的新路線將通過岡底斯山至喜馬拉雅山之間，此路段所通過的河谷為何？ (A)長江 (B)黃河 (C)雅魯藏布江 (D)塔里木河。

(八). 《西遊記》文中描述玄奘西行取經故事，過程中在三位徒兒護送下，展開一場引人入勝冒險故事。今日有相關研究重現玄奘取經路線，如圖(一)：



圖(一)

- () 45. 據說玄奘取經的年代正值中國北方發生旱象，民不聊生，於是玄奘發願前往西方取經，對於後來佛教在中國的影響相當大。上述造成中國北部發生旱象的主要原因可能為何？(A)年雨量變率大(B)河川曲流發達(C)終年連綿有雨(D)山地雪水融化。
- () 46. 若由圖(一)中玄奘取經路線判斷，其所經過的地區不包括下列何處？(A)黃土高原 (B)青藏高原(C)河西走廊(D)新疆盆地
- () 47. 孫悟空在火焰山大戰牛魔王為小說中大家最為熟知的橋段，而火焰山的瓜果特別甜美，成為當地的特色，其有利的氣候條件為何？ (A)降雨豐富 (B)生長季長 (C)日溫差大 (D)風力強勁。
- () 48. 在圖(一)玄奘取經的行進路線中，他發現了某地農田出現了如圖(二)的現象。根據圖(二)中的資料判斷，此現象和下列何種產業活動的發展關係最大？(A)游牧業(B)粗放農業(C)採礦業(D)灌溉農業。



圖(二)

- (九). 新疆位於中國西端，自古交通便極為重要：
- () 49. 新疆某地區所形成的特殊灌溉方式如附圖所示。請問：該地區在何時的水源最為豐富？(A)春天(B)夏天(C)秋天(D)冬天



- () 50. 承第(49)題，形成這種灌溉方式的氣候類型最可能為下列何者？

