

一、單題：(1~47題)

1. 目前許多資訊產品的密碼設定方式日新月異，如圖(一)。請問：依據馬斯洛的需求層次理論，圖中內容主要滿足的層次，與下列哪一例子相同？

- (A) 阿新在家裡加裝了火災煙霧警報器
(B) 美美補習後饑餓難耐買了麵包充飢
(C) 大明規劃籌辦好朋友的驚喜慶生會
(D) 小馬參加歌唱比賽完成自己的夢想



設定指紋辨識密碼，以防他人登入系統竊取資料。

圖(一)

2. 榮獲金鐘獎的電視劇「戀愛沙塵暴」，描述一對父母與同住的三個未婚子女的家庭故事，熱愛該劇的小文畫出了角色結構圖如圖(二)，請問：依據圖中內容判斷，下列敘述何者正確？

- (A) 此劇中的家庭型態屬於折衷家庭
(B) 林源明與陳珮玲彼此為姻親關係
(C) 林亦得與林亦珊、林亦謙為旁系血親
(D) 父母對林亦珊與林亦謙皆能行使親權



圖(二)

3. 飛揚市舉辦青少年即席演講比賽，要求參賽學生以我國的「社會福利政策」為主題自訂題目，進行10分鐘的演講。請問：以下何人的演講題目最符合主辦單位的要求？

(A)	(B)	(C)	(D)
勞工就業訓練與職業災害預防之道	退休人士終身學習與大學進修推廣部課程檢視	新移民族群與我國人口結構變動的分析	社會地位與各式犯罪型態的比較

4. 曉燕在查詢資料時看到某公益團體的介紹如圖(三)。請問：根據圖中內容及我國相關法規判斷，下列敘述何者正確？

- (A) 此協會屬《人民團體法》的職業團體
(B) 立案字號是向當地警察局登記後取得
(C) 此協會是以關係取向為主的政治團體
(D) 協會的服務項目有助於落實社會正義

台灣外籍配偶福利發展協會
人民團體立案字號：1040027377
服務項目：
1. 關懷新住民、外籍配偶權益。
2. 開設學習課程，協助外籍配偶適應臺灣生活。

圖(三)

5. 「艋舺青山祭」為臺北三大廟會之一，【甲】青山宮辦理的遶境活動為萬華地區居民多年的宗教及民間信仰，與【乙】大台北文化協會結合此活動舉辦音樂祭，【丙】將傳統廟宇活動注入搖滾音樂元素。但是遶境活動常產生噪音與環境問題，【丁】環保局稽查人員表示，若有違規行為將依法開罰。請問：關於前文所述，下列何者正確？

(A) 【甲】顯示遶境活動包含宗教信仰與倫理道德
(B) 【乙】文化協會與宮廟間的互動為衝突與交換
(C) 【丙】此遶境活動兼具了文化傳承與文化創新
(D) 【丁】激發道德良知達到譴責自身行為的效果

6. 圖(四)為新聞報導的部分內容。請問：根據圖中內容判斷，此政府機關亦可行使下列何項職權？

(A) 審核中央政府決算
(B) 懲戒失職公務人員
(C) 提案彈劾正副總統
(D) 審理政黨違憲解散

……某政府機關調查認定勞動部行政怠惰，未積極推動《職業安全衛生法》相關規定，導致容易產生職業災害，因此通過對勞動部的糾正……



圖(四)

7. 臺中市立圖書館大甲分館歷時兩年整建，於2017年重新開館，除了將當地蘭草工藝作為「館藏特色」外，配合不同年齡層的需求，也設立了兒童、青少年及銀髮樂齡區的閱覽空間。請問：前述圖書館的設立，最能彰顯出何項政府的經濟職能？

(A) 提供公共財 (B) 保障私人財產 (C) 維持經濟秩序 (D) 處理外部成本

8. 林大強收到了一封與兒子林小強權利義務有關的通知書，如圖(五)。請問：通知書內的權利，與下列哪一項事例的類型最為相近？

(A) 文風為爭取勞工權益申請集會遊行
(B) 大明向政府申請低收入戶生活補助
(C) 志雄想當公務員因此報考國家考試
(D) 湘華因為調職從花蓮縣搬到宜蘭縣

貴子弟林小強因曠課已超過3日以上，依據《強迫入學條例》請儘速向○○國中辦理復學程序。

XX縣強迫入學委員會

圖(五)

9. 民雄收到來自法院的裁定通知，其部分內容如圖(六)。但是資料中說明不予受理的原因被污漬遮住了，此原因最有可能為下列何者？

(A) 未先在調解委員會進行調解
(B) 未先向嘉義縣政府提起訴願
(C) 未接受行政法院進行的和解
(D) 未先向嘉義縣議會進行請願

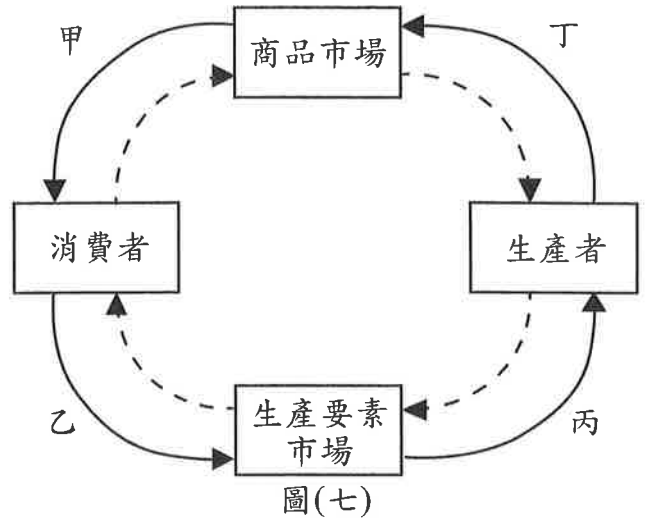
嘉義地方法院
行政訴訟庭裁定

……原告所經營的餐飲店，因違反《噪音管制法》遭環保局開罰2萬元罰鍰，因~~XXXXXXXXXX~~，不予受理，本院將此案移送管轄機關。

圖(六)

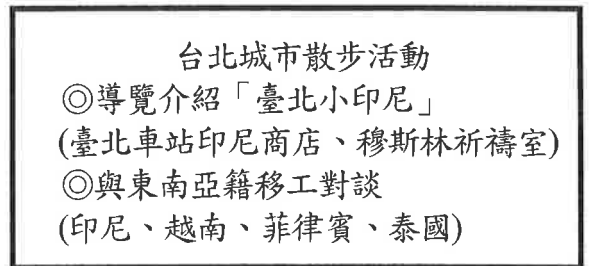
10. 某數位遊戲公司一年前推出首款手機遊戲受到玩家的喜愛，因此順勢再推出新款實境手機遊戲，上線後蟬聯熱銷排行榜冠軍。此遊戲公司公布單月的營業額高達1.4億元，創下新高。請問：依據文中畫線部分判斷，該遊戲公司的情形最符合經濟循環圖(七)的哪一環節？

(A) 甲
(B) 乙
(C) 丙
(D) 丁



11. 某個以「東南亞」為主題的書店，經常舉辦活動與講座如圖(八)。請問：依據圖中內容判斷，此書店舉辦的活動最主要是為了達到下列何項目的？

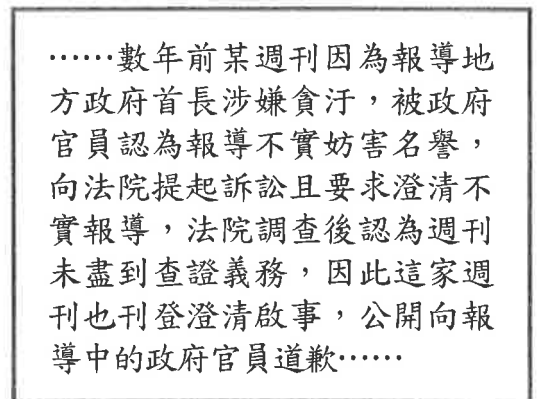
(A) 協助政府落實地方自治工作
(B) 促進族群融合使用共同語言
(C) 落實性別平權提升勞工薪資
(D) 尊重多元文化促進族群交流



圖(八)

12. 王教授在研討會時引用一則數年前發生的真實案例如圖(九)。請問：根據圖中內容判斷，此實例最適合說明下列何項概念？

(A) 新聞記者維護民眾知的權利，有採訪自由
(B) 媒體經營者為支持特定政黨，應堅持立場
(C) 傳媒應提供多元性娛樂內容，供調劑身心
(D) 閱聽人行使媒體接近使用權，可要求更正



圖(九)

13. 大學剛畢業但是不想找工作的小剛，希望靠著投資理財致富，表(一)是他評估自己以存款三萬元，分別投入不同理財工具的預估投資報酬率。依據前文及表中內容判斷，下列敘述何者最正確？

表(一)

	預估投資報酬率
公債	1%
共同基金	8%
股票	15%

(A) 小剛屬於有工作能力但沒有行動的失業人口
(B) 若物價持續上漲，存款利息將有更高購買力
(C) 投資公債與基金的獲利金額將會高過於股票
(D) 將存款投入股票投資的風險將高於共同基金

14. 振偉在報紙上看到了一則社會新聞，如圖(十)。依據我國相關法規與新聞內容判斷，下列有關此案的分析何者最正確？

- (A) 檢察官偵查後對民代起訴是屬於「告訴」
- (B) 民代造成車主的損失亦可進行調解程序
- (C) 若不服判決應向高等行政法院提出上訴
- (D) 地方法院判決的內容包含主刑以及從刑

……某地方民意代表多次酒駕肇事，最近又因酒駕撞毀他人汽車，雖然被撞的車主未受傷，檢察官仍然起訴；且地方法院基於他是累犯，依公共危險罪判刑7個月，併科罰金6萬元；汽車的損失則與車主達成和解……

圖(十)

15. 16歲的小惠與同學因為誤會產生嫌隙，在網路論壇上公開辱罵同學，同學的家長知悉後決定提告，小惠心急的在網路上詢問網友的意見。請問：依據我國法律規定判斷，哪一位網友提供的意見最正確？

- (A) 小花：「你的年齡屬於無責任能力人，可能處以感化教育但不須負刑責」
- (B) 薇薇：「你的案子最有可能以保護管束的處分結案，對方亦可請求賠償」
- (C) 念庭：「透過家長的告發，檢察官偵辦你的案件後，會以少年刑事案件處理」
- (D) 文詠：「你觸犯《兒童及少年福利與權益保障法》，你跟家長將被處以罰鍰」

16. 九年乙班開班會時，小智提議下個月班遊可到鄰近的社區參訪，社區的介紹如圖(十一)所示。擔任主席的大華馬上將此案進行表決，偉忠認為不妥，舉手向主席反映。依據前文與圖中內容判斷，下列說明何者最正確？

- (A) 提議未討論即表決，偉忠提出的應為秩序問題
- (B) 石門社區居民的行動屬於短期的社區參與行為
- (C) 小智的提議須獲得二人以上附議才能成為議案
- (D) 此社區所在的行政區，地方層級與臺東市相同

桃園市石門社區

- ◎以客家人為主的聚落
- ◎居民將年久失修的古厝修護，並且進行環境美化，也訓練居民成為社區導覽員，為民眾述說社區的沿革與興衰。

圖(十一)

17. 目前20歲的男大學生啟華想與16歲的茵茵結婚，透過朋友的聚會活動舉辦公開儀式。他們兩人帶著結婚書約到戶政事務所辦理登記卻無法如願，請問：下列何者最有可能是他們無法辦理結婚登記的原因？

- (A) 茵茵雖已達到法定結婚年齡，但是兩人登記結婚前未辦理訂婚
- (B) 啟華與茵茵在聚會活動舉辦公開儀式，婚姻有效因此不須登記
- (C) 茵茵的年紀仍屬限制行為能力人，尚未取得法定代理人的同意
- (D) 啟華與茵茵雖然有帶著結婚書約，但未能取得三個證人的簽名

18. 立法院於2017年三讀通過《公民投票法》修正案，修正的部分內容，如圖(十二)。請問：依據我國相關法規及圖中內容判斷，下列敘述何者正確？

<p>懶人包：「<u>公民投票法</u>修正案」</p> <ol style="list-style-type: none"> 1. 投票年齡為18歲、沒有受到監護宣告者。 2. 連署、提案、投票門檻皆降低，公民投票將更容易通過。 3. 連署書除了紙本，民眾可利用電子系統進行連署程序。 	
--	--

圖(十二)

- (A)公投法修正後須經行政院覆議、總統公布才生效
 (B)公投的投票年齡、資格與選舉公職人員皆為相同
 (C)調降公投門檻使人民行使創制複決權的機會增加
 (D)新增的連署方式只顯示了在器物層次的社會變遷
19. 1069年，中國當時的政府頒布了一系列的新法，主要內容有增加國家財政收入的均輸法、青苗法；也有提高軍隊戰鬥力的將兵法、保甲法以及科舉、教育方面的改革措施，但卻因為變法內部的紛爭，最後導致新舊黨爭、變法失敗。請問：上述的這場變法，最有可能為何人所推動？
 (A) 王莽 (B) 范仲淹 (C) 張居正 (D) 王安石
20. 網路上流傳一首臺灣《日治時代之歌》的改編歌曲，淺顯易懂的文字、搭配豐富的圖片，令聽過的人對此段歷史發展印象深刻。其中有段歌詞如下：「中日戰爭爆發，一開打就是八年，□□□□□□，實在夠陰險，說日語在外面，不准再祭拜祖先，通過各種考驗，國語之家貼你門前……」請問：根據上述歌詞前後內容推論，空格處應填入下列哪一句歌詞最為適當？
 (A) 日本 清廷對決 (B) 武裝抗日不斷 (C) 民主國 唐景崧 (D) 逼臺灣皇民化
21. 1912年8月，某位歷史人物以同盟會為基礎，再聯合其他黨派，組成國民黨，他擔任代理理事長後，又奔走於長沙、武漢、上海、南京等地，發表演說，主張組織責任內閣，以制約袁世凱，但後來卻被袁世凱派人刺殺於上海火車站。請問：上述歷史人物最有可能為下列何者？
 (A) 黃興 (B) 蔡元培 (C) 孫中山 (D) 宋教仁
22. 小明整理中國歷史上某事件的資料，將其最後失敗的原因條列，如下表(二)：

表(二)

(一)	人才方面	領導人見識不足，爭權導致內訌
(二)	思想方面	反對 <u>儒家</u> 思想，將 <u>儒家</u> 典籍燒毀
(三)	政治方面	採「神權統治」，常藉天父之命來發號施令
(四)	軍事方面	只顧攻城掠地，不知治理，後其軍紀敗壞
(五)	外交方面	缺乏國際知識，對外人態度傲慢，因此得不到外國勢力的支持

請問：該歷史事件最有可能所指為何？

- (A) 戊戌變法 (B) 太平天國事件 (C) 流寇之亂 (D) 義和團事變

23. 2017年電視臺播出某國的連續劇，劇中上演一對老夫妻分隔六十多年後重逢，聊著往事時說道：「都是我們國內的那條停戰線（北緯38度線），讓我們分離這麼久……。」根據上述，此對老夫妻的國家最可能位於下列哪一地區？
- (A) 伊比利半島
 (B) 巴爾幹半島
 (C) 中南半島
 (D) 朝鮮半島

24. 圖(十三)為埃及開羅的古城牆，此係為1176年伊斯蘭政權的薩拉丁王朝(阿猶布王朝)所建造，其目的在抵擋來自西方的侵略以保護開羅城的安全。請問：當時薩拉丁王朝(阿猶布王朝)是受到西方哪一個勢力入侵的威脅？
- (A) 亞歷山大東征
 (B) 凱撒東征
 (C) 十字軍東征
 (D) 希特勒東征



圖(十三)

25. 現今的哈薩克共和國東南方江布爾城附近，曾經是一場古老戰役發生的地點：西元751年，安西節度使高仙芝率領三萬大軍，與大食軍隊在此交戰，後被大食將領齊雅德擊敗。許多戰敗俘虜的士兵原來是造紙工匠，大食利用他們的技術設廠製造，從此中國造紙術西傳。請問：上述這場戰役為下列何者？
- (A) 赤壁之戰 (B) 蒙古西征 (C) 怛羅斯之役 (D) 靖難之役

26. 中國歷史上有一時期的貨幣政策規定：「所有公私款項收付、契約票據及一切交易、一律改用銀幣，不得再用銀兩。原定以銀兩收付者，應以銀兩7錢1分5釐折合銀幣1元的標準以銀幣收付。」請問：這可能是下列哪一個時期所頒布的政策？
- (A) 漢朝 (B) 宋朝 (C) 清朝 (D) 民國

27. 佳蓁閱讀一本西洋史相關書籍，書中提到某位歐洲君主一生南征北討共53次，幾乎統一了整個西歐。比較知名的戰役如下表(三)：

表(三)

772~804年	對 <u>薩克遜人</u> 發動八次戰役，將 <u>薩克遜</u> 納入王國
774年	取得 <u>義大利</u> 的王位
778年	率大軍翻越 <u>庇里牛斯山脈</u> ，南征 <u>西班牙</u> 的 <u>穆斯林</u> 國家 <u>安達魯斯</u>
787年	征服 <u>巴伐利亞</u>

根據表格內容，此一歐洲君主為下列何者？

- (A) 亞歷山大 (B) 凱撒 (C) 查理曼 (D) 拿破崙

28. 圖(十四)為某場國際會議後，對世界各地所產生影響的示意圖。請問：這場會議可能為下列何者？



圖(十四)

- (A) 1814年維也納會議 (B) 1919年巴黎和會
(C) 1943年開羅會議 (D) 1945年雅爾達會議

29. 圖(十五)為19世紀法國畫家米勒的代表作《拾穗》，畫作中描繪秋收後的麥田裡，三個農婦彎腰拾取遺落的麥穗，以補充家中的食物。她們身後堆疊如山的麥垛，和她們無關，畫作真實的表現出當時農民艱難生活的樣貌。請問：根據上述內容，下列那一選項最適合用來形容米勒？



圖(十五)

- (A) 寫實主義先驅 (B) 人文主義之父 (C) 浪漫主義先行者 (D) 立體主義創始者

30. 圖(十六)為1997年美國郵政發行的某人物紀念郵票，用於紀念該人物在50年前提出「歐洲復興計畫」。計畫提供大量援助資源，使遭遇戰爭蹂躪後的西歐國家能迅速恢復經濟，亦成功阻止共產黨勢力在西歐國家的發展。請問：郵票中紀念的人物為下列何者？



圖(十六)

- (A) 威爾遜 (B) 羅斯福
(C) 馬歇爾 (D) 麥克阿瑟

31. 民國67年（1978），蔣經國繼任中華民國第六任總統，次年即遭遇美國宣布對臺灣斷交的打擊，面對這樣嚴苛的考驗，蔣經國採取了下列何項方針來因應局勢的變化？

- (A) 解除戒嚴，開放大陸探親 (B) 推動九年國民義務教育
(C) 推動政治本土化、民主化 (D) 實施耕者有其田的措施

32. 圖(十七)為中國歷史上四個不同時代的成年男子，說明如何成為官員的方式。根據其內容判斷，若將四人所處的時代依序排列，請問：下列何者正確？



圖(十七)

- (A) 甲乙丙丁 (B) 甲丙乙丁 (C) 乙甲丁丙 (D) 乙丙丁甲

33. 根據文獻記載：「荷蘭的東印度公司最先在北汕尾島落腳，並在島上建立商館及城堡。後來因鄭成功與荷蘭人於北汕尾島一戰，將三百餘名荷軍殲滅，北汕尾島因而名垂史冊。」文中發生戰役的島嶼，其形成原因最可能為下列何者？
- (A) 大量海沙堆積 (B) 火山熔岩噴發
(C) 珊瑚遺骸聚積 (D) 海崖崩落堆疊
34. 中國是目前世界上重要的成衣生產國之一，但根據媒體報導指出，許多貼上「中國製造」的成衣並非真正在中國製造，而是由中國廠商接單，交由北韓工廠生產，最後再運往中國貼上「中國製造」的標籤外銷。形成上述現象的原因中，最可能包括下列何者？
- (A) 北韓的天然資源豐富，盛產棉、麻等紡織原料
(B) 北韓致力開發成衣生產技術，技術較中國先進
(C) 北韓的勞工眾多，且薪資水準較中國勞工低廉
(D) 北韓基礎建設完善，電力供應較中國充足穩定
35. 泰國某電影描寫一位天才高中生，誤用聰明才智，跨時區到別的國家提前參加國際級考試，讓他在泰國應考的友人能在考試前就得知所有答案。由於此國際級考試是在各國的同個日期進行，因此主角要前往下列哪個國家，才得以提前參加考試？
- (A) 印度 (B) 瑞士
(C) 加拿大 (D) 澳大利亞
36. 下文是甲社區的生態旅遊敘述。甲社區最可能位於下列臺灣哪個地點附近？

【日間生態遊程】

由解說員帶領遊客探索外人無法窺探的原始路徑，路線中可以看見蝴蝶群聚的「蝴蝶峽谷」與「賞蝶步道」、高聳的珊瑚礁岩、造型奇特的風剪樹、不時飛越天際或跳動於樹林間的鳥類，獼猴山壁呼嘯與碧海藍天大草原等景觀。

【毛柿林尋幽遊程】

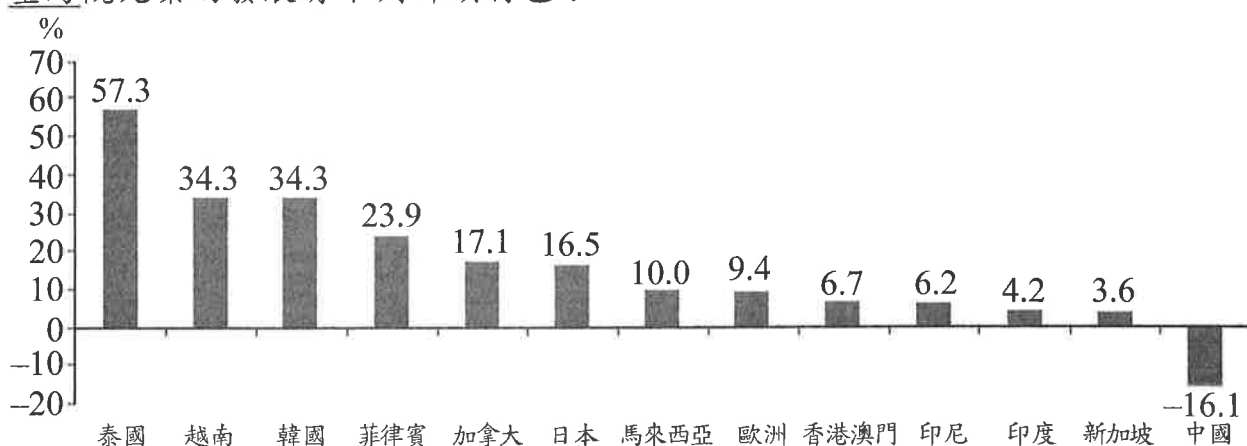
在這不但可以欣賞占地140公頃的毛柿林、10人環抱的大型雀榕，更有機會看見在野外奔馳的成群梅花鹿，與排灣族在此生活的歷史痕跡。

- (A) 三貂角燈塔 (B) 富貴角燈塔
(C) 鵝鑾鼻燈塔 (D) 曾文溪口國聖燈塔
37. 某篇遊記中寫著：「暫別臺灣故鄉，我來到這遙遠國度，佇足於此山之巔，眼前流水穿梭在壯闊海岸峽谷，這山河猶如一年前於挪威所見，但內陸谷壁險峻陡峭，冰冠綿延廣布，又令人彷彿身在瑞士；這景象若再加上氣候特色，應該會讓不少英國人想起了老家」。此遊記描述地點最可能位於下列哪個國家？
- (A) 智利 (B) 巴西
(C) 以色列 (D) 奈及利亞

38. 近年來，有學者提出「薄荷四國」一詞（MINT），認為這些國家在未來的經濟發展將會呈現快速的成長。「薄荷四國」中的某國，「位在東南亞，油氣、木材、橡膠等資源豐富，更曾經是石油輸出國組織（OPEC）會員國，有眾多優良的勞動人口，是東協人口最大國」。該國境內以下列哪種宗教信仰的人口數最多？

- (A) 佛教 (B) 天主教
(C) 印度教 (D) 伊斯蘭教

39. 圖(十八)是2016年外國來臺遊客數與前一年比較的成長圖。該資料可看出該年臺灣觀光業的發展有下列哪項特色？



圖(十八)

- (A) 來臺遊客最大來源地是泰國 (B) 來臺遊客人數最少的是中國
(C) 東南亞來臺遊客數大幅成長 (D) 來臺遊客人數每年持續減少

40. 表(四)為2017年四個國家幼年人口與老年人口占總人口的比例。其中哪個國家的扶養比最高？

表(四)

	巴西	南非	芬蘭	汶萊
0-14歲比例(%)	22.33	28.87	16.43	23.12
65歲以上比例(%)	8.33	5.68	21.10	4.84

- (A) 巴西 (B) 南非 (C) 芬蘭 (D) 汶萊

41. 阿里山最著名的行程，莫過於搭乘森林鐵路火車，到海拔最高車站——祝山站觀賞日出。圖(十九)為臺灣五大山脈分布圖，遊客在阿里山上觀賞日出時，太陽最可能從圖中的哪一座山脈緩緩躍出？

- (A) 甲
(B) 乙
(C) 丙
(D) 丁



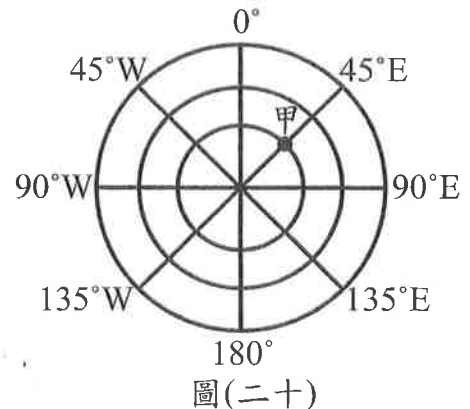
圖(十九)

42. 早期東歐諸國實施計畫經濟制度，在蘇聯解體後，曾出現產業結構嚴重失衡的問題。之後東歐諸國開始透過內部便宜的勞力與優惠的補助政策，吸引外國資金與技術的投入，以尋求國家經濟的健全發展。東歐諸國在蘇聯解體後的經濟發展方向，與下列哪個國家曾有的產業發展途徑最為類似？

- (A) 1950年代，大量出口石油的沙烏地阿拉伯
- (B) 1960年代，逐漸進入出口導向時期的臺灣
- (C) 2000年代，以高科技產業出口為主的南韓
- (D) 2010年代，積極拓展全球金融產業的冰島

43. 圖(二十)是以極點為中心所繪製的經緯線圖，放射線代表經線，而同心圓代表緯線，每圈同心圓度數間距相同，最外圈的圓為赤道。由此判斷，圖中甲處的經緯度為何？

- (A) 30°N, 45°E
- (B) 30°S, 45°E
- (C) 60°N, 45°E
- (D) 60°S, 45°E



44. 表(五)是2016年某個區域性經濟組織人均GDP排名前五名的國家，以及該組織平均值與世界平均值的資料表。該區域性經濟組織最有可能為下列何者？

- (A) 歐洲聯盟
- (B) 東南亞國協
- (C) 北美自由貿易區
- (D) 亞太經濟合作會議

表(五)

排序	國家代號	人均GDP(美元)
1	甲	102,831
2	乙	61,607
3	丙	53,418
4	丁	51,600
5	戊	45,295
該組織平均		32,059
世界平均		10,151

45. 近年荷蘭建築師設計了一種會「游泳」的「漂浮屋」，即使發生海水倒灌、海面上升或大雨成澇，這些漂浮屋都能浮在水面，免於被淹沒。單就未來全球暖化的趨勢來看，下列哪個都市，最適合採取「漂浮屋」的住屋形式，作為未來考量居民居住安全的策略之一？

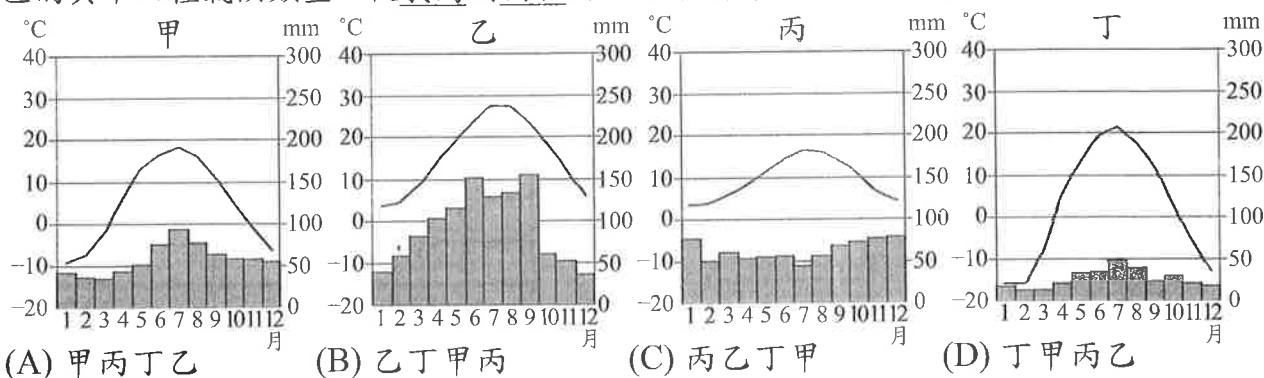
- (A) 中國 西安
- (B) 美國 紐約
- (C) 法國 巴黎
- (D) 埃及 開羅

46. 表(六)為2015年中國各省區人均水資源量統計表。從該表可知中國各地人均水資源量的分布，具有下列哪項特色？

表(六)

省區	北京	天津	河北	山西	內蒙古	遼寧	吉林
人均水資源量	12	84	182	257	2141	408	1203
省區	黑龍江	上海	江蘇	浙江	安徽	福建	江西
人均水資源量	2130	265	731	2547	1495	3469	4397
省區	山東	河南	湖北	湖南	廣東	廣西	海南
人均水資源量	172	304	1741	2839	1792	5097	2185
省區	重慶	四川	貴州	雲南	西藏	陝西	甘肅
人均水資源量	1519	2717	3279	3959	120121	881	635
省區	青海	寧夏	新疆	全國		單位：立方公尺／人	
人均水資源量	10058	138	3994	2039			

- (A) 溼潤氣候區的人均水資源量較乾燥氣候區來得多
 (B) 西部經濟帶的人均水資源量為三大經濟帶中最少
 (C) 少數民族自治區人均水資源量皆高於全國平均值
 (D) 第一級階梯地形區人均水資源量較其他地區豐沛
47. 2017年初，中歐鐵路首發列車於中國浙江省義烏市出發，於新疆阿拉山口海關出境後，沿途經過哈薩克、俄羅斯、白俄羅斯、波蘭、德國、比利時、法國等國，穿越英法隧道抵達英國倫敦，全程12,451公里，共行駛18天。下列甲乙丙丁為此路線所經地區的其中四種氣候類型，從義烏到倫敦將呈現下列哪種排列順序？



二、題組：(48~63題)

請閱讀下文後，回答第48至49題：

我國自2010年起陸續調整行政院的組織架構，例如：新增勞動部、文化部、科技部等，2017年立法院廢除《蒙藏委員會組織法》，讓原屬行政院的蒙藏委員會正式熄燈。請問：

48. 上述內容涉及哪一個國家組成要素的變動？
 (A) 領土 (B) 政府 (C) 人民 (D) 主權
49. 2017年立法院審議通過廢除的委員會，昔日最可能舉辦過下列哪種活動？
 (A) 駱馬自然生態攝影展示 (B) 土樓民居建築文化導覽
 (C) 家常青稞炒麵美食饗宴 (D) 種姓制度歷史變遷演講

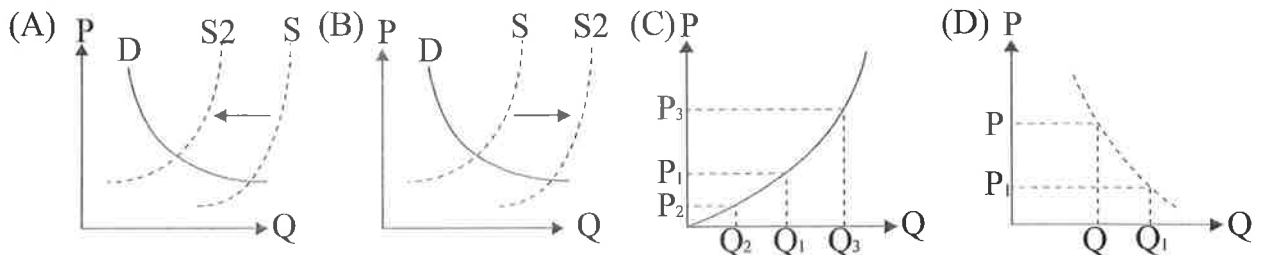
閱讀下列選文，回答第50至51題：

報載：日圓走勢自2017年起呈現貶值趨勢，表(七)是新臺幣兌換日圓匯率的四個時間點紀錄；而日本因為2020年將舉辦東京奧運，民眾預期東京的房屋價格應會持續上漲，因此【甲】在日圓貶值的情況下，原本赴日本購置房地產投資的民眾，趁勢加碼繼續添購位在東京地區的房地產。

表(七)

	日圓：新臺幣
1月12日	1:0.2795
8月21日	1:0.2804
10月20日	1:0.2688
11月27日	1:0.2714

50. 依據前文中【甲】的敘述，下列哪一張圖最能說明這樣的情況？



51. 家銘想趁著此波日圓走勢到日本購買房屋，請問：他在表(七)中哪天兌換日圓，購買日本房地產最為有利？

- (A) 1月12日 (B) 8月21日 (C) 10月20日 (D) 11月27日

請閱讀下文後，回答第52至54題：

「基隆中元祭」為臺灣規模最大的中元祭典，也是第一個被指定為重要民俗國家文化資產的節慶。此活動每年從農曆七月一日老大公廟開龕門開始，歷經法國公墓祭祀、主普壇開燈放彩、迎斗燈遶境祈福、放水燈遊行、以及普渡、跳鍾馗，至八月一日關龕門為止，活動時間長達一個月，盛大熱鬧的活動年年吸引許多海內外人士前往觀看。

據廟方說法，「老大公」是對基隆當地殉難先人的尊稱，早期包含明朝末年抵抗西方人侵略戰死的先民；與原住民戰鬥死亡的漢人；但最主要乃是死於清咸豐元年（1851年）漳、泉械鬥的移民，事件之後，屍骨盈野，經地方人士出面協調，集資將死者遺骸集中埋葬，因而有「老大公廟」的存在。老大公廟建廟後，居民為杜絕械鬥，融合漳、泉移民，協商每年以姓氏輪值主普，舉辦中元祭典普渡孤魂幽靈。

咸豐六年（1856年），基隆中元祭開始舉辦，至今已有一百多年歷史。

52. 基隆中元祭活動中，有一「法國公墓祭祀」主題，請問：法國公墓墓主人，最可能是因下列哪一戰爭而客死異鄉臺灣？

- (A) 英法聯軍 (B) 中法戰爭 (C) 八國聯軍 (D) 甲午戰爭

53. 文中提到，「老大公」早期包含明朝末年抵抗西方人侵略死亡的居民，請問：當時居民抵抗的西方國家最可能為下列何者？

- (A) 英國 (B) 法國 (C) 日本 (D) 西班牙

54. 文中提到咸豐年間基隆地區漳、泉械鬥的發生，和下列那一原因最有關連？

- (A) 祖籍地區的不同 (B) 降清、反清意見的衝突
(C) 閩、粵間的衝突 (D) 漢人、原住民間的爭執

請閱讀下文後，回答第55至57題：

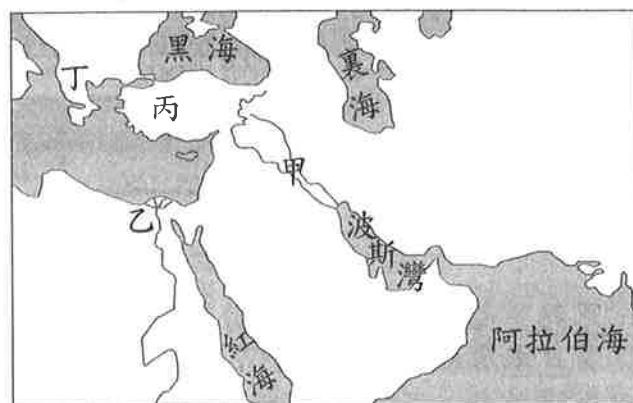
人類歷史上，曾有個擁有悠久歷史的古老文明，因為法老權力的式微，加上異族不斷的入侵割據，讓原本篤信太陽神的文化受到挑戰，最終徹底被毀滅。

西元四世紀末，羅馬皇帝狄奧多西（Theodosius）頒布敕令，強行關閉帝國境內所有傳統信仰的神廟，本已式微的古文化，漸漸走上毀滅之路。

西元七世紀後幾百年間，伊斯蘭文化大舉入侵，取代以太陽神為主的信仰，長達數千年的傳統宗教變成伊斯蘭教，古代文字、語言被忘得一乾二淨，這個古老文明，徹底被毀滅了。現在，古文字已不再被使用，僅有少部分土著文化，在傳統宗教儀式中所進行的祝禱詞中，還保有類似古代語言的發音。

55. 根據文中所述，此一古文明位於圖(二十一)中哪一區域？

- (A) 甲
- (B) 乙
- (C) 丙
- (D) 丁



圖(二十一)

56. 西元四世紀末，羅馬皇帝狄奧多西（Theodosius）下令關閉帝國境內所有傳統信仰的神廟，主要原因最可能為下列何者？

- (A) 狄奧多西皇帝信奉基督教
- (B) 推行古代羅馬多神教信仰
- (C) 受馬丁路德宗教改革影響
- (D) 羅馬參與十字軍東征行動

57. 西元七世紀時，入侵此地的伊斯蘭勢力為下列何者？

- (A) 蒙古人
- (B) 阿拉伯人
- (C) 塞爾柱土耳其人
- (D) 鄂圖曼土耳其人

請閱讀下文後，回答第58至59題：

表(八)為臺灣與非洲的兩條河川比較表。請問：

表(八)

項目	甲河川	乙河川
名稱由來	因含沙量大，溪水混濁。	原義是「河谷」、「大河」。
特色	臺灣第一長河。	世界第一長河。
流向	自東向西流，注入臺灣海峽。	自南向北流，注入地中海。
貢獻	雨季時，洪氾帶來的泥沙孕育出豐饒的彰化平原，使之成為臺灣重要穀倉。	受上游季節性降雨影響，造成下游定期氾濫，發展出傲人的農業文明。
面臨問題	河口附近的泥沙量減少。	河口附近的三角洲面積縮小。

58. 表中乙河川提到的農業文明，曾發展出下列哪項文化成就？

- (A) 顯微鏡、溫度計、望遠鏡的發明
- (B) 使用圖像與表音符號的象形文字
- (C) 寫實主義、浪漫主義的文學創作
- (D) 老師行會組織轉變成的大學教育

59. 由表中敘述可知，甲、乙二條河川面臨相似的問題，下列何者最可能是造成這些問題的共同原因？

- (A) 上游地區遭受過度墾伐
- (B) 漁民大量捕撈河中魚蝦
- (C) 使用化學肥料灌溉農田
- (D) 河川中、上游建築水壩

請閱讀下文後，回答第60至61題：

圖(二十二)是臺灣某地google map的衛星影像圖。該地「甲」區為花蓮某個水泥礦區場址，由影像中可清楚看到白色部分已無植被覆蓋。實際上甲區只是一小部分的水泥礦區，後來鄰近地區設立國家公園後，部分礦區與國家公園範圍有所重疊，引發許多爭議；2017年，經濟部通過該業者採礦權展延20年，再度惹議。請問：

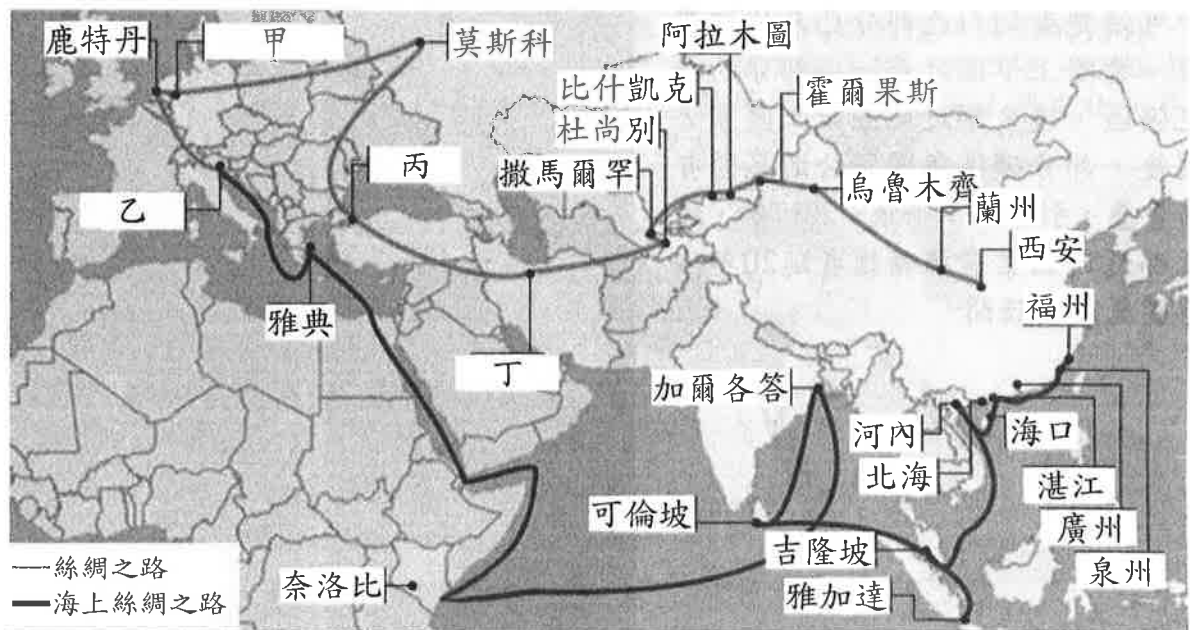


圖(二十二)

60. 由海洋與陸地的相對位置判斷，圖中右上角的方向標深色朝下的部分，最可能指向下列哪一個方位？
- (A) 東
(B) 西
(C) 南
(D) 北
61. 下列哪一項景觀是文中國家公園內的特色？
- (A) 硫氣孔噴發刺鼻的白色氣體
(B) 溪水下切而成的大理石峽谷
(C) 櫻花鉤吻鮭棲息的高山溪流
(D) 早期溝通東西的八通關古道

請閱讀下文後，回答第62至63題：

圖(二十三)為中國規劃的「絲綢之路經濟帶」與「21世紀海上絲綢之路」兩條路線。中國希望藉由「一帶一路」，打通與東南亞、南亞、西亞、中亞、非洲以及歐洲等區域的經濟合作。請問：



圖(二十三)

62. 一帶一路沿途經過許多都市，這些都市歷史背景各異，居民信仰、語言有別，成為中國推動該政策時，需要考慮到的文化差異。圖(二十三)中哪個都市，曾被羅馬帝國、鄂圖曼帝國統治，都市文化樣貌非常多元，除能見到一般東正教教堂，亦能看到清真寺？
- (A) 甲
(B) 乙
(C) 丙
(D) 丁
63. 中國推動「絲綢之路經濟帶」的政策時，在霍爾果斯與杜尚別之間的地帶，最可能需要面對下列哪項經濟發展背景帶來的挑戰？
- (A) 土壤鹽鹼化嚴重，農作物生長環境條件不佳
(B) 能源礦產資源不足，不利人員與貨物的運輸
(C) 中俄兩國領土尚有糾紛，政治秩序持續不穩
(D) 溶蝕作用造成地形崎嶇，鐵道路網不易形成