

一、選擇題 (80%)

1. 臺灣民謠「安平追想曲」中有一段歌詞為：「身穿花紅長洋裝，風吹金髮思情郎……只有金十字，給阮母親做遺記。伊是荷蘭的船醫……」從歌詞可知荷蘭人曾在臺灣留下足跡。其中提到「只有金十字，給阮母親做遺記」，這裡所說的金十字是指什麼？ (A)天主教 (B)基督教 (C)佛教 (D)胃腸藥。

2. 台中科學園區的西大墩窯遺址的出土，證明台灣早期先民是使用自製陶器並非全自中國大陸運送過來。若追溯臺灣最早出現陶器的史前遺址，應該是下列哪一文化？ (A)長濱文化 (B)原住民文化 (C)卑南文化 (D)大坌坑文化。

3. 荷蘭人統治臺灣時期，總督曾說：「臺灣，真是頭好乳牛。」請問：荷蘭人占領臺灣的目的為何？ (A)作為荷蘭的領土之一 (B)成為荷蘭向日本傳教的跳板 (C)以臺灣做為國際貿易的轉運站 (D)成為荷蘭在亞洲的傳教中心。

4. 下列用具發明的時間，出現順序為何？(甲)

陶器 (乙)磨製石器 (丙)打製石器(丁)鐵

器。(A)甲乙丙丁 (B)乙丙丁甲 (C)丙乙甲丁 (D)丁丙乙甲。

5. 如下圖，原始人在海蝕洞外活動，志明在打製石器，春嬌用火烤魚。這是指哪一文化人的生活特色？ (A)卑南文化 (B)圓山文化 (C)大坌坑文化 (D)長濱文化。



6. 上歷史課時，老師要同學分組演出史前人類的生活劇，內容是關於新石器時代大坌坑文化人們的生活方式。請問：劇情中應該會出現下

列哪一種生活方式？ (A)人們過著茹毛飲血，只能生吃食物的原始方式 (B)利用冶鐵工作坊，打煉獵殺動物的鐵器 (C)利用磨製的石鋤，好好整地耕種 (D)利用青銅製作銅鏡，可以整理容貌。

7. 俊翰暑假和家人前往卑南文化公園參觀，裡頭展示著大型石造物、石棺墓群和玉器等陪葬物。請問：卑南文化是屬於下列哪一時期的文化？ (A)舊石器時代晚期 (B)新石器時代早期 (C)新石器時代晚期 (D)金屬器時代。

8. 荷蘭人統治臺灣時，向原住民推廣宗教與教育的主要目的是什麼？ (A)改變原住民的文字 (B)讓原住民接受基督教文化 (C)利用原住民反對漢人 (D)利用原住民反擊明鄭。

9. 美侖美奐的十三行博物館裡，陳列眾多十三行

代表性的出土文物，有中國大陸的銅錢、南洋一

帶的瑪瑙珠飾、玻璃珠飾等，其中最重要的是鐵渣的出土。請問：這在歷史上具有何種意

義？ (A)代表採集生活的發端 (B)象徵磨製

石器的出現 (C)反應稻米農作的起源 (D)

顯示鐵器時代的開始。

10. 人類從「採食」進步到「產食」，開始出現農

業及畜養動物，是開始於哪一時期？ (A)舊石器

時代早期 (B)舊石器時代晚期 (C)新石器時

代 (D)金屬器時期。

11. 十四世紀後半葉，臺灣沿海地區和澎湖，逐

漸成為哪些民族從事國際走私貿易和海盜活

動的據點？ (A)葡萄牙人與西班牙人 (B)

西班牙人與日本人 (C)荷蘭人與西班牙人

(D)漢人與日本人。

12. 西班牙曾在臺灣發展勢力，為何僅為時十餘

年即退出？ (A)鄭成功將其驅逐，西班牙人

只好退回菲律賓 (B)日本實施鎖國政策，使

西班牙對日貿易及傳教的目的未能達成 (C)

沈有容將之擊退，西班牙在臺灣受到明朝政

府的干涉 (D)郭懷一領導反對運動，令西班

牙認為臺灣難以統治。

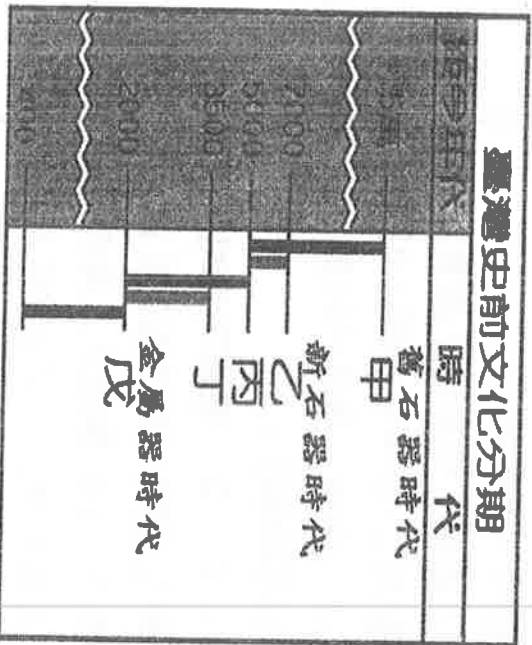
13.原住民平埔族祭祀的對象除了日、月、星辰、河川之外，也祭拜動物與祖先的靈魂。從平埔族這一行為可知其宗教信仰特色為何？ (A)相信萬物皆有神靈 (B)崇拜萬善爺的慈悲 (C)彰顯義民爺的神勇 (D)重視修練成仙的法術。

14.判別新、舊石器時代的依據是下列哪一項？ (A)熟食的出現 (B)使用石器為主要器具 (C)骨角器的使用 (D)農牧取代漁獵成為主要生活型態。

15.姿穎參加某縣市舉辦的「文化尋根一日遊」的活動，他看到了一面古城牆，說明牌上寫著「熱蘭遮城遺址」。請問：小華參加的應該是哪一縣市舉辦的活動？ (A)臺北市 (B)基隆市 (C)新北市 (D)臺南市。

16.關於中國漢人到臺灣、澎湖的開發歷史，下列敘述何者錯誤？ (A)曾將臺灣稱為高砂國 (B)十二世紀開始，已有漢人移居澎湖 (C)自元朝開始將澎湖納入版圖 (D)明朝時期曾為防止海盜而實施海禁。

17.下圖是臺灣史前文化分期表，根據圖中所示，「乙」的部分應是屬於下列哪個文化分期？ (A)大坌坑文化 (B)卑南文化 (C)圓山文化 (D)十三行文化。



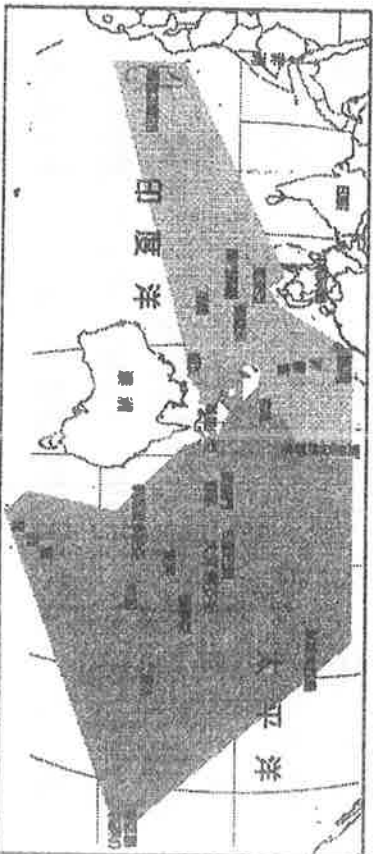
18.臺北總統府前的「介壽路」，已經改名為「凱達格蘭大道」。請問：凱達格蘭屬於哪一個族群？ (A)高山族 (B)平埔族 (C)閩南人 (D)客家人。

19.荷蘭人占領臺灣期間，在臺灣從事殖民政策，生產多項商品，以供應貿易外銷，外銷的商品中，不包括下列哪項？ (A)茶葉 (B)蔗糖 (C)鹿皮 (D)稻米。

20.國一新生潘豪，因為祖先長期接受漢人文化，使「族人已漸漸忘記自己的母語。請問下列哪一本書比較適合自己族群的母語，請問下列哪一本書比較適當？ (A)飛魚的故鄉 (B)認識台灣平埔族 (C)矮靈祭探詢 (D)原住民紋面習俗。

21.臺灣原住民各族中，呈現出多元的家庭制度型態，請問以下哪一族的家庭制度相異於其他三族？ (A)西拉雅族 (B)卑南族 (C)賽夏族 (D)阿美族。

22.下圖是全球南島語系分布圖，根據此圖判斷，下列哪一族群不屬於南島語族？ (A)台灣漢人 (B)菲律賓原住民 (C)紐西蘭毛利人 (D)臺灣原住民。



23.十六~十七世紀的台灣成為西方列強競爭的焦點，請問原因是？ (A)茶葉樟腦利潤豐厚 (B)地理位置相當優越 (C)四季如春氣候宜人 (D)海盜原住民易於控制。

24.下列關於臺灣原住民的相關敘述，何者正確？ (A)皆屬父系社會，家產由男子繼承 (B)皆屬母系社會，家產由女子繼承 (C)原住民分為平埔族和高山族 (D)各自發展成為類似國家的政治組織。

25.請問畫分人類歷史發展的「史前時代」與「歷史時代」，是依據哪一項重大技能的出現？ (A)使用火 (B)石器的製作 (C)陶罐的製作 (D)文字的出現。

26.在現在北港地區，有一開拓臺灣登陸紀念碑。請問：此紀念碑是紀念曾經從日本來到臺灣笨港發展的何人？ (A)鄭成功 (B)鄭芝龍 (C)林道乾 (D)顏思齊。

27.想要瞭解史前時代人類的活動情形，最主要的根據是？ (A)文字的記載 (B)圖片 (C)遺物和遺跡 (D)傳說的神話。

28.在臺灣新石器時代的文化中，哪一個文化出

土的器物非常豐富，有石棺、石杵，並有玉器作為陪葬品？ (A)十三行文化 (B)卑南文化 (C)圓山文化 (D)大坌坑文化。

29.原住民的祭典豐富多元，就祭典的性質而論，以下哪一個是屬於“生命禮俗”？ (A)飛魚祭 (B)猴祭 (C)矮靈祭 (D)豐年祭。

30.北星國中校外教學入住圓山大飯店，領隊介紹這裡有重要的史前遺址，請問這處遺址的重要遺物遺跡應該是？ (A)貝塚 (B)石棺 (C)煉鐵場 (D)粗繩紋陶。


31.老師介紹下列四本與臺灣歷史有關的課外讀物，要班上同學自行閱讀，學生亮亮對荷蘭統治時期的歷史特別有興趣，那麼他應該閱讀下列哪一本書？ (A)《紅毛城的淵源》 (B)《臺灣山區開發史話》 (C)《聖多明哥城的興築》 (D)《臺灣漢化的源起》。

32.中國最早在台澎地區設立官方機構「巡檢司」，請問是在哪個朝代設立？ (A)清代 (B)宋代 (C)元代 (D)明代。

33.熊熊跟同學去參觀臺灣史前文化的博物館，看到先民使用過的陶罐、鐵刀，和骨製的矛與魚鉤等器具。請問：他們參觀的博物館應該是以展出哪一個史前文化為主題？ (A)圓山文化 (B)長濱文化 (C)十三行文化 (D)大坌坑文化。

34.嘉義市有前人遺留下來的「紅毛井」、「紅毛埤」，「紅毛」是指哪一國？ (A)日本 (B)荷蘭 (C)葡萄牙人 (D)西班牙。

35.附圖是「史前人類生活想像圖」，圖中哪一景象最能表現出臺灣「新石器時代」文明的特色？ (A)甲 (B)乙 (C)丙 (D)丁。



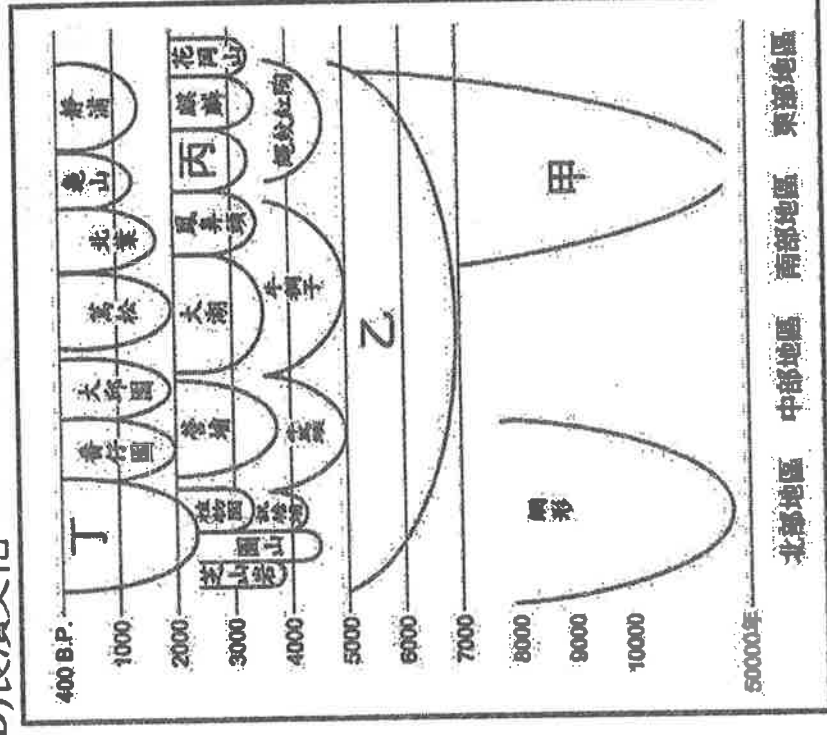
36.荷蘭人統治臺灣的時候，從中國大陸招募漢人來臺，但是荷蘭人為了保障自己的經濟利益，對漢人的管制非常嚴格，甚至於壓迫漢人。在這樣的背景下，終於爆發了人民反抗統治者的事件。請問：荷蘭人占據臺灣時，爆發了何人所領導的反政府事件？ (A)沈有容 (B)郭懷一 (C)吳三桂 (D)鄭成功。

37.有關長濱文化生活的推斷：(甲)過著採集、狩獵和漁撈的生活(乙)已知用火(丙)喜歡用玉器做為裝飾(丁)住在洞穴或岩蔭中(戊)有陪葬品，具宗教信仰。以上正確的敘述有哪些？ (A)甲(乙)(丙) (B)甲(乙)(丁) (C)甲(乙)(丙)(丁) (D)甲(乙)(丁)(戊)。

38.臺灣地區的原住民，依其主要生活區域的不同，可分為「平埔族」和「高山族」。其中有關「平埔族」的敘述，下列哪一項是錯誤的？ (A)其漢化的時間較高山族稍早 (B)早期生活在平原、沿海一帶 (C)大約可分泰雅、布農等九族 (D)移入臺灣的時間在漢人之前。

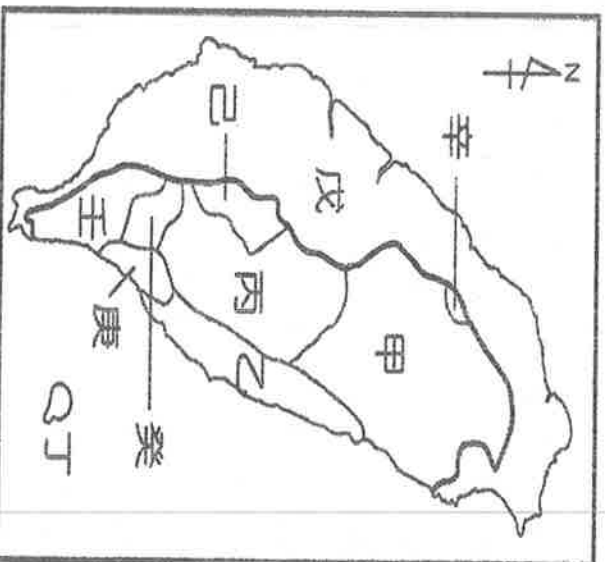
39.阿翔家裡的菲傭瑪麗亞，除了一口流利的英文，還會說幾句拉丁語，她說她的祖先來自歐洲，曾經殖民過菲律賓，請問是哪一國家？ (A)荷蘭 (B)葡萄牙 (C)西班牙 (D)英國。

40.圖為臺灣史前文化的時間與空間架構圖。由圖判斷，「丙」應該是指下列哪一文化？ (A)十三行文化 (B)卑南文化 (C)大坌坑文化 (D)長濱文化。



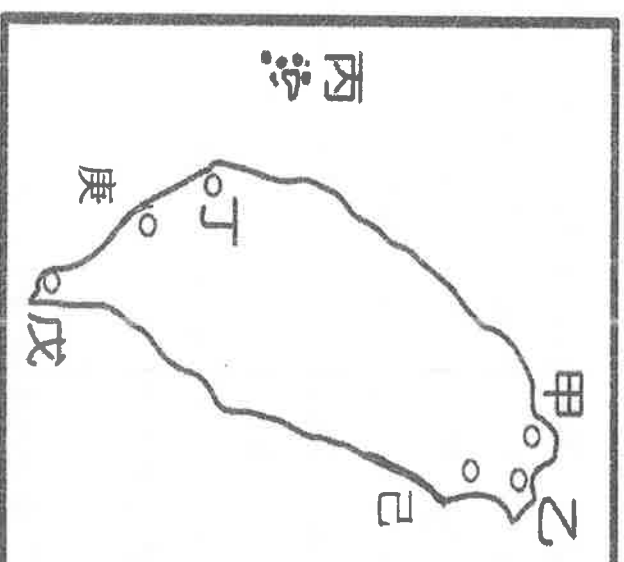
二、整合題 (20%)

(一) 請就以下原住民族群分布圖，選擇適當的代號選項：(41 至 45 題)



41. 曾因核廢料問題，穿著傳統戰鬥服、丁字褲，前往總府前抗議的是哪一區的原住民？ (A) 甲 (B) 乙 (C) 丙 (D) 丁。
42. 具有神奇的矮人傳說，每年吸引許多遊客參與的矮靈祭，是哪一區的原住民？ (A) 己 (B) 庚 (C) 辛 (D) 壬。
43. 以祀壺信仰來祭拜祖靈的是哪一區的原住民？ (A) 戊 (B) 丁 (C) 甲 (D) 癸。
44. 阿里山的少年壯如山，請問鄒族的戰祭是在哪一區？ (A) 甲 (B) 丙 (C) 戊 (D) 己。
45. 在臉上刺青，以紋面的方式代表成年的是哪一區原住民的成年禮？ (A) 甲 (B) 庚 (C) 乙 (D) 癸。

(二) 2017 台北世大運，來自世界各地的體育好手來台較勁共襄盛舉，熱情豐富的台灣文化，深受外國朋友們的喜愛；他們決定賽後留在台灣進行台走透透。請依據下列附圖，幫助外國朋友找到他們想去的地點，請選擇適當的代號選項：(46 至 50 題)



46. 人氣超高的荷蘭水球隊，他們想去緬懷先人在台留下來的古蹟，請問該前往地圖中的哪些地區？ (A) 甲乙 (B) 乙丙 (C) 乙丁 (D) 甲丁。
47. 從台北出發，荷蘭水球隊尋找的先人古蹟，哪一個距離最近？ (A) 紅毛城 (B) 赤崁樓 (C) 安平古堡 (D) 億載金城。
48. 來自西班牙的觀光客，請問要到哪些地方緬懷先人足跡？ (A) 甲乙 (B) 己戊 (C) 丁庚 (D) 丙丁。
49. 西班牙人建立的城堡已不復存在，請問這個古蹟應該是？ (A) 紅毛城 (B) 熱蘭遮城 (C) 聖多明哥城 (D) 普羅民遮城。
50. 荷蘭水球隊隊員喜歡寺廟建築，對於台灣地區第一座媽祖廟感興趣，因為裡頭還保有一座跟他的祖先「紅毛番章麻郎」的紀念碑，請問他該前往地圖中的哪一區？ (A) 甲 (B) 乙 (C) 丙 (D) 丁。