

班級：

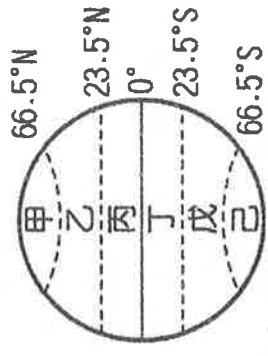
姓名：

座號：

1. 中國、菲律賓、越南長期因為某緣海海域內島嶼主權的糾紛，關係一直處於緊張狀態，日前更因菲國提出的主權仲裁結果出爐，引起中國的不滿，海域周邊各國也對仲裁的結果出現極大爭議。根據上述國家判斷，此一海域應是指下列何者？

(A) 南海 (B) 黃海 (C) 東海 (D) 北海。

2. 中國位於季風亞洲地區，天然環境優越，物產豐富，養活眾多的人口。該地區的發展受到地理位置影響明顯，氣候溫暖溼潤，相當適宜人居。請問：中國的疆域位置主要位於附圖中的哪一個地區？



(A) 甲 (B) 乙 (C) 丙 (D) 丁

3. 中國國家主席習近平於2013年提出「一帶一路」

(如右圖，其中一帶所指為絲綢之路經濟帶；一路為21世紀海上絲綢之路)，欲以海陸路與陸路連通中國與中亞、印度、東非與歐洲，發展與沿線國家的經濟合作，包括能源、基礎建設等。沿線涵蓋26國、44億人口(佔全球63%)，經濟總量約623兆台幣。此政策提出得利於中國哪項優越地理條件？

(A) 領土廣大 (B) 氣候溫和  
(C) 面海背陸 (D) 形狀完整。

4. 中國興建長江三峽大壩後，四川盆地的河運交通可直通上海，重要性倍增。請問：該盆地位於哪一個地勢階梯中？

(A) 第一級階梯

(B) 第二級階梯 (C) 第三級階梯 (D) 第四級階梯

5. 「桂林山水甲天下，陽朔山水甲桂林」來描述中國某自治區內秀麗的石灰岩地形。其地形大多位於高溫多雨之處。請問哪一個自治區是位於此處？

(A) 內蒙古自治區 (B) 西藏自治區 (C) 新疆維吾爾自治區 (D) 廣西壯族自治區

6. 寇冠想帶著年長的老柯一同遊覽中國，考慮到飛行距離的長短，她希望距離台灣由近到遠的玩，請問：(甲)福建省 (乙)北京市 (丙)上海市 (丁)新疆維吾爾自治區這些省級行政區中，何項排列組合最可能是她心中的理想順序？

(A) 甲乙丙丁 (B) 甲丙乙丁 (C) 丙甲乙丁 (D) 丁丙乙甲。

7. 小新在網路上看到一段歷史古蹟的介紹：大三巴牌坊正式名稱為聖保祿大教堂遺址，「三巴」這個名字是來自於「聖保祿」的葡萄牙文，而「大」是指最大的教堂，故「大三巴」是指「最大的教堂」。請問：由上文判斷，大三巴牌坊可能位在下列哪一個地點？

(A) 北京 (B) 澳門 (C) 上海 (D) 香港。

8. 附圖為中國幾座重要山脈的分布圖。請問：下列關於各山脈的敘述何者正確？

(A) 甲為中國和印度的國界、太平洋夏季季風的屏障  
(B) 乙的北方為塔里木盆地，中國最大的沙漠分布於此  
(C) 丙為印澳板塊推擠歐亞板塊而形成山脈，是中國第二、三級階梯的分界山之一  
(D) 丁為中國北部和南部的分界以南地區氣候較溫暖。

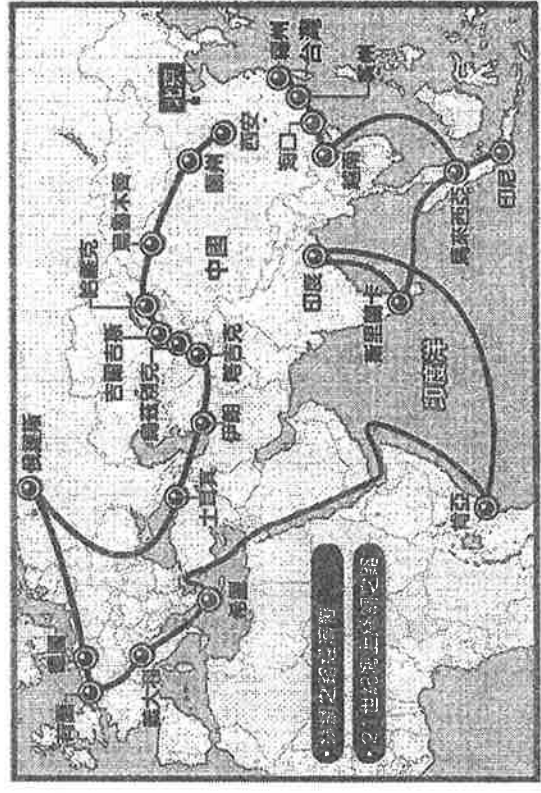


9. 中國設立了四個直轄市，其中哪一個直轄市位在內陸地區且面積最大，為內陸開發的重點區域？

(A) 北京市 (B) 天津市 (C) 上海市 (D) 重慶市。

10. 右圖為全球主要板塊的分布圖，其中中國就是位於板塊1上，且中國山脈走向多與板塊2及板塊4推擠碰撞板塊1的方向有關。請問：下列哪一座山脈的走向就是和板塊4推擠板塊1的方向有關？

(A) 武夷山 (B) 岡底斯山  
(C) 太行山 (D) 長白山。



11. 資穎從臺北飛往北京參加「世界盃羽球賽」，下飛機後她的手錶應該如何調整？

- (A) 撥快一小時 (B) 撥慢一小時  
(C) 不需調整 (D) 無法判斷。

12. 右為大興安嶺及其兩側地形的剖面示意圖。圖中的甲地是中國緯度最高，面積最大的平原，由此推測，應是哪個平原？

- (A) 東北平原 (B) 華北平原  
(C) 長江中下游平原 (D) 珠江三角洲

13. 省、自治區、直轄市、特別行政區是中國目前的四大區劃。附圖中，哪個區域同時擁有這四種行政區劃？

- (A) 甲 (B) 乙 (C) 丙 (D) 丁。

14. 承上題，中國路上商旅往來歐洲各國的要道，主要是利用古代的「絲路」以及目前的新絲路—鐵路運輸，其主要的分布地區位於附圖的何處？

- (A) 甲 (B) 乙 (C) 丙 (D) 丁。

15. 台灣式海岸多位於中國的東南部沿海。請問：台灣式海岸具有哪項特色？

- (A) 沿岸多沙洲 (B) 沿岸水淺 (C) 港灣甚多 (D) 晒鹽業發達。

16. 「這裡農民的主要收入在冬季，因為緯度的關係，當地在冬季比其他地區適合蔬菜、水果的栽培，加上這幾年因為台商投資引進許多新品種，使得瓜果更具競爭力，大量的銷售到其他地區。」由以上敘述判斷，該地最可能位於何處？

- (A) 海南島 (B) 四川盆地 (C) 黃淮平原 (D) 長江三角洲。

17. 京杭大運河是世界上最長、工程最大的古代運河，並且使用至今，曾有人說過：「長城是凝固的歷史，京杭大運河則是流動的文化。」請問關於京杭大運河的敘述以下何者「正確」？

- (A) 東西流向 (B) 以南京為起點 (C) 可連接至珠江 (D) 位於第三級階梯。

18. 遊客若想欣賞峰林、鐘乳石、石筍等特殊地形景觀，旅行社應該建議他參加下列哪個行程？

- (A) 北京天津七日遊 (B) 上海蘇杭七日遊 (C) 雲貴高原七日遊 (D) 新疆絲路七日遊。

19. 某島嶼的位置如附圖所示，下列有關此島嶼和中國的比較，何者正確？

- (A) 同位於東半球 (B) 同位於北半球  
(C) 面積大約相等 (D) 時區大約相近

20. 黃土高原是由長年的風沙層疊而成，卻受○○作用影響形地表上溝谷遍野崎嶇不平景象。請問文中的○○最適合填入下列哪一個選項？

- (A) 冰蝕 (B) 河蝕 (C) 溶蝕 (D) 斷層。

21. 波波跟著小說《西遊記》的腳步，探訪了中國某一地理區，附圖為該地區的地形剖面圖。根據圖中資料判斷，波波應是到了下列何處？

- (A) 準噶爾盆地 (B) 柴達木盆地  
(C) 四川盆地 (D) 塔里木盆地。

22. 以真從中國地形圖上面發現，中國大興安嶺，太行山，巫山，長白山等東部地區山脈都呈同一走向，請問這可能是受到下列哪個板塊推擠歐亞板塊所造成的？

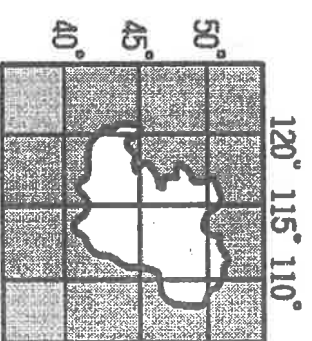
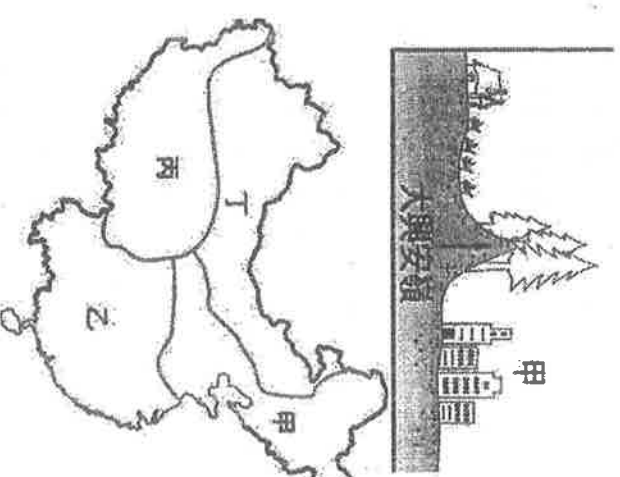
- (A) 太平洋板塊 (B) 菲律賓海板塊 (C) 印澳板塊 (D) 非洲板塊。

23. 中國西高東低的地勢，對河川產生什麼影響？

- (A) 河川終年結冰 (B) 河川南北流向 (C) 河水洪枯量變化大 (D) 運河多南北流向。

24. 劉邦從漢中攻打項羽時，曾經以「明修棧道、暗渡陳倉」的方式，取得勝利，其中棧道指的是古人在長江峽谷區中鑿壁穿石、架木開路，以方便進出四周環山地區的交通方式。下列哪個地理區可以看見棧道？

- (A) 華北平原 (B) 四川盆地 (C) 東北平原 (D) 珠江三角洲。



25. 附圖為中國三大經濟帶的分布圖，請問：唯一不位於圖中甲區域附近的縣市為下列何者？

(A) 北京(B) 天津(C) 上海(D) 重慶。

26. 犛牛是偶蹄目牛科的一種，體型強壯有力，全身披黑褐色長毛，能耐早與寒，可在雪坡上步行、巉岩中行走，故有「高原之舟」美名。請問『犛牛』主要是分布在何處？

(A) 內蒙古高原 (B) 青藏高原 (C) 雲貴高原 (D) 黃土高原。

27. 阿土伯是一位勤奮的農民，他想找尋一塊與台灣南部氣候最相似的地區來種熱帶水果，請問你最推薦以下哪一處給他呢？

(A) 東北平原 (B) 華北平原 (C) 珠江三角洲 (D) 長江中下游平原

28. 中國經濟成長相當快速，然而環境汙染的速度也達到已開發國家的 30 倍之多。其中人口眾多的長江沿岸因為工商業活動集中，造成嚴重的汙染。根據河川的流向判斷，中國哪個地勢階梯的河段所累積的汙染物質會最多？

(A) 各階梯相同 (B) 第三級階梯 (C) 第二級階梯 (D) 第一級階梯。

29. 中國有「一江春水向東流」及暖溼的海洋氣流吹入內地，提供充沛的雨水，利於農作等特徵。下列哪一張地圖最適合用來解釋這種現象？



30. 阿拓將他公司的貨物透過「新絲路」來進行運輸。請問：阿拓可透過「新絲路」直接將貨物向西運輸至下列哪一洲？

(A) 大洋洲 (B) 非洲 (C) 美洲 (D) 歐洲。

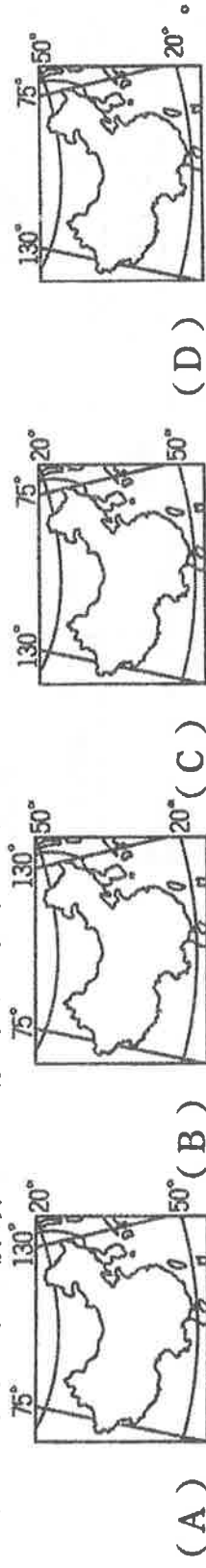
31. 廣西著名的梯田景觀，被譽為世界梯田之冠。請問：其地理位置應該在附圖中的何處？

(A) 甲 (B) 乙 (C) 丙 (D) 丁。

32. 就中國的行政區層級而言，下列哪一個城市與其他三者不同？

(A) 廣東省 (B) 深圳市 (C) 天津市 (D) 澳門特別行政區。

33. 中國的疆域面積廣大，請問下列哪一張是中國的經緯度位置圖？



34. 中國早期的絲綢、瓷器等商品利用陸上或海上交通運送至西方國家，使中國文化在世界傳播開來。此一事實與中國疆域的哪項特徵關係最密切？

(A) 形狀完整 (B) 面積廣大 (C) 面海背陸 (D) 鄰國眾多。

35. 中國三個緣海中何者因為地理位置，和韓國及日本的經濟海域出現重疊的爭議？

(A) 渤海 (B) 南海 (C) 黃海 (D) 東海。

36. 下列哪個地形區不屬於第二級階梯的範圍？

(A) 柴達木盆地 (B) 黃土高原 (C) 準噶爾盆地 (D) 雲貴高原。

37. 位於中國第三級階梯內的平原地形，主要是受哪種作用所形成？

(A) 河川堆積 (B) 河川侵蝕 (C) 風力堆積 (D) 風力侵蝕。

38. 住在英國倫敦(0.2°W, 51.5°N)的韓特爾為了完成碩士論文而到中國考察，當她到了中國，應該將手錶時間做下列何種調整？

(A) 調慢8小時 (B) 調快8小時 (C) 調慢6小時 (D) 調快6小時

\* 附圖為中國五個自治區的分布圖。請回答39-42題：

39. 自治區是為了保障什麼而設立的？  
 (A) 少數民族 (B) 殖民地  
 (C) 工業大城 (D) 經濟特區。

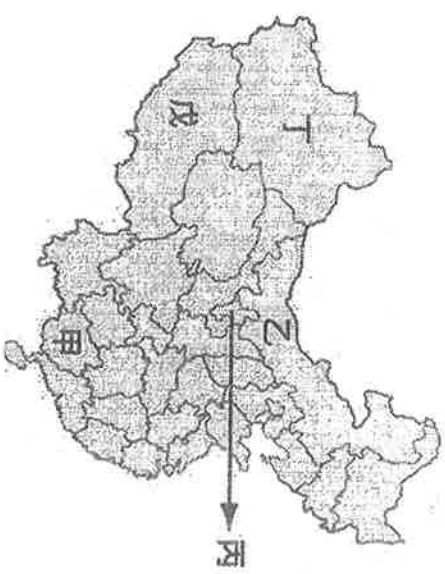
40. 哪個自治區分布在高溫多雨地區，以農業活動為主？  
 (A) 甲 (B) 乙 (C) 丁 (D) 戊。

41. 哪個自治區位於古代絲路的必經之處，長久以來就是中國與西方國家的交通樞紐，因而發展出多元的族群、文化與邊疆貿易？

(A) 甲 (B) 乙 (C) 丁 (D) 戊。

42. 「丙」為面積最小的自治區，其名稱為何？

(A) 寧夏回族自治区 (B) 內蒙古自治區  
 (C) 新疆維吾爾自治區 (D) 廣西壯族自治區。



①~④為平原  
 A~D 為高原  
 甲~丁為盆地

\* 右圖為中國主要地形分布，請根據代號回答43-47題

43. 何處因地勢高聳且寒冷，有「世界屋脊」和第三極之稱號？

(A) A (B) B (C) C (D) D。

44. 此區石灰岩地形發達，表示受溶蝕作用旺盛而崎嶇不平。上述敘述是指何處？

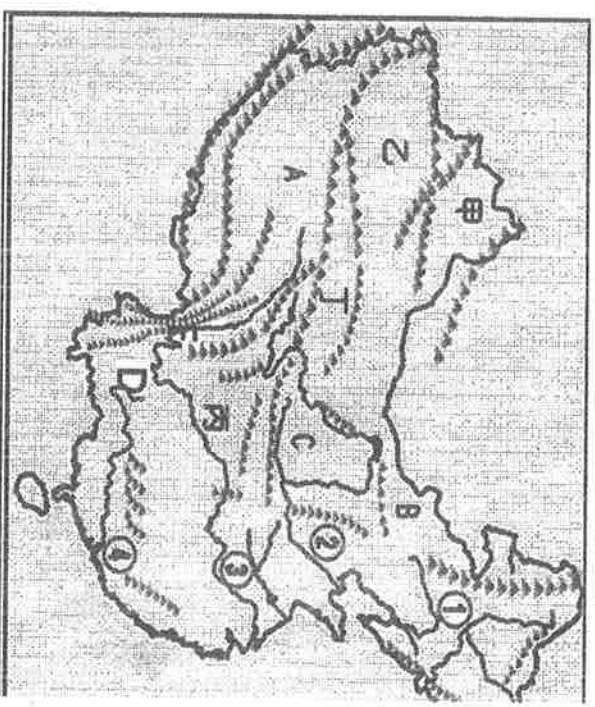
(A) A (B) B (C) C (D) D。

45. 中國面積最大的沙漠——塔克拉瑪干是位於下列何處？

(A) 甲 (B) 乙 (C) 丙 (D) 丁。

46. 「夏季是一望無際的田野，中國重要糧食供應地也是面積最大的平原」請問上述所指何處？

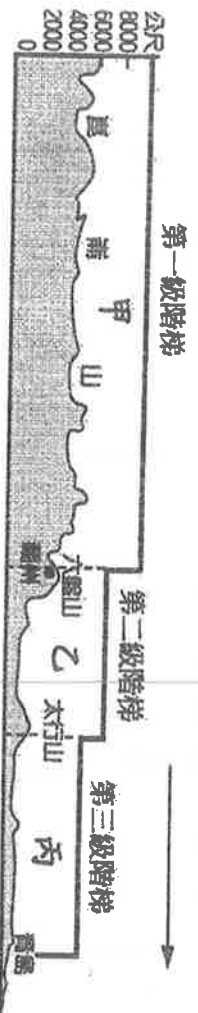
(A) ① (B) ② (C) ③ (D) ④。



47. 請問甲、乙兩高原的界山是哪一座山脈？

(A) 阿爾泰山 (B) 天山 (C) 崑崙山 (D) 祁連山。

\* 下圖為中國地形的三級階梯示意圖。請回答47-50題：



48. 圖中「→」所指的方向為何？

(A) 北方 (B) 西方 (C) 東方 (D) 南方。

49. 由圖可知中國地形的特徵為何？

(A) 地勢東高西低 (B) 地勢起伏很大  
 (C) 疆域面積廣 (D) 山脈呈南北走向。

50. 圖中的甲、乙、丙各是中國哪三大主要地形區？

(A) 青藏高原、黃土高原、華北平原 (B) 內蒙古高原、黃土高原、東北平原  
 (C) 青藏高原、內蒙古高原、珠江三角洲 (D) 內蒙古高原、雲貴高原、長江中下游平原。

第四頁，試題結束