

# 嘉義市北興國民中學 106 學年度第一學期第 1 次段考三年級地理科試題卷

## 一、單選題(每題 2 分)

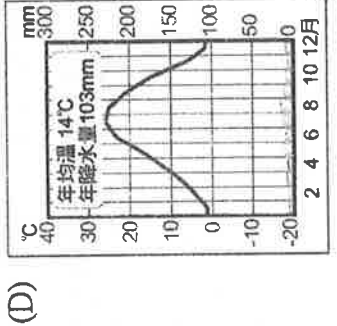
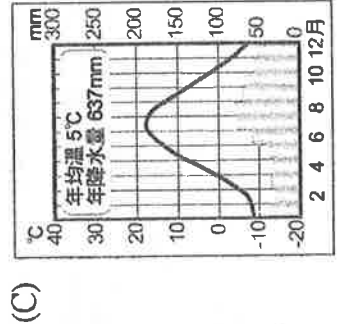
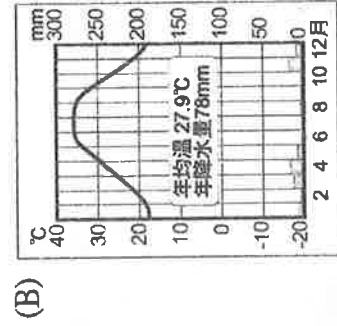
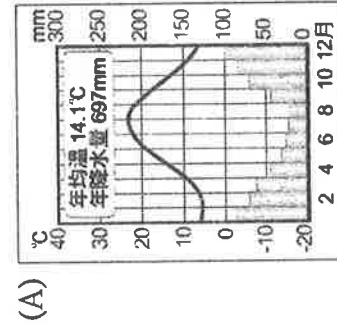
1. 曾是世界第四大湖泊的中亞鹹海在 50 年來面積快速縮小，NASA 預估在 2020 年鹹海將完全消失。鹹海縮小的主因，是由於流入鹹海的河流被過度取用來灌溉何種作物？(A)棉花 (B)茶葉 (C)玉米 (D)椰棗。
2. 中亞地處內陸，河川大多屬於內流河，其水源大多來自下列何處？(A)高山融雪 (B)地下水體 (C)自然降雨 (D)海上冰山。
3. 英國於2016年6月公投決定脫離歐盟，主因是多數人認為數量眾多的外來移民壓縮本地人就業機會。這與歐盟的哪一項政策最相關？(A)會員國使用歐元作為統一貨幣 (B)會員國彼此享有免關稅的優惠 (C)多數會員國公民可以自由在其他會員國工作、居住 (D)語言統一以方便各國溝通交流。
4. 歐洲是世界人口分布最平均的一洲，這和其哪些地理環境特徵最相關？〈甲〉全境無沙漠氣候〈乙〉平均生育率極低〈丙〉平原廣闊〈丁〉老年人口比例極高，正確的是 (A)甲乙 (B)乙丙 (C)甲丙 (D)丙丁。
5. 中亞地區在氣候、水文、農業和聚落的各項地理特徵中，呈現出「溫帶沙漠」的景觀。在中國哪個地區也有出現類似中亞當地的地理景觀？(A)藏南縱谷 (B)藏北高原 (C)雲貴高原 (D)塔里木盆地。
6. 位於義大利北端的阿爾卑斯山為歐洲最高大的山脈，成為南歐與西歐之間的界山。該座山脈的哪一種地形作用力形成許多天然交通孔道，因此有利於山脈兩側的交通往來？(A)冰河侵蝕 (B)風力侵蝕 (C)河川侵蝕 (D)斷層陷落。
7. 死海是世界鹽度最高、海拔最深的鹹水湖，海面為海拔-424公尺，含鹽量是海水的10倍，無法蘊孕生命而有死海之稱。死海的水源來自向南注入湖泊的約旦河，沿途提供以色列、約旦、巴勒斯坦、黎巴嫩等國重要的水資源。在1960年代，為了爭奪水源甚至引發了戰爭。請問：死海位在哪個區域？(A)中亞 (B)西亞 (C)南歐 (D)西歐。

8. 阿拉伯聯合大公國近年推動經濟轉型，逐漸擺脫對「單一礦產」輸出的依賴，快速發展的經濟有「杜拜學」之稱。右表是該國的「世界之最」，由內容判斷：該國以哪一類產業作為轉型的方向？(A)重工業 (B)資訊業 (C)觀光業 (D)航運業。

1.世界唯一的七星級酒店：泊瓷(阿拉伯塔飯店)。  
2.全球最高的建物：哈里發塔(原稱杜拜塔)，用途包含酒店、住宅、辦公室、購物中心等。  
3.世界最大的人工港口：傑貝拉里港。

9. 梵蒂岡是教廷的首都，為全球八億天主教教徒的信仰中心。請問梵蒂岡的位置於下列哪一城市中？(A)羅馬(B)米蘭 (C)倫敦(D)威尼斯。
10. 希臘居民自古便擅長海上活動，請問希臘航運發達的有利條件為何？(A)地形崎嶇多山脈 (B)海岸曲折多港灣 (C)夏乾冬雨的氣候 (D)耕地廣物產豐饒。
11. 小明到歐洲登山，爬上山頂後，發現自己正位於洲際間的交會區，一側為歐洲，另一邊為亞洲。此時所攀登的高山應該為下列何者？(A)阿爾卑斯山 (B)斯堪地那維亞山脈 (C)底里牛斯山 (D)高加索山。
12. 「某區域」依當地特有的環境條件生產糧食，在降水較缺乏的山區，以「坎井」收集融化雪水，種植小麥、香料、果仁、椰棗等作物，糧食可自給自足。上述的「某區域」是指何處？ (A)安那托利亞高原 (B)阿拉伯高原 (C)伊朗高原 (D)美索不達米亞平原。

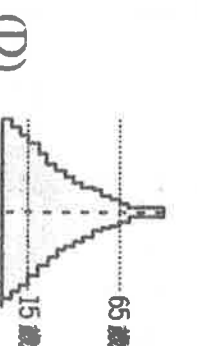
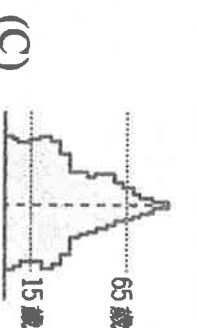
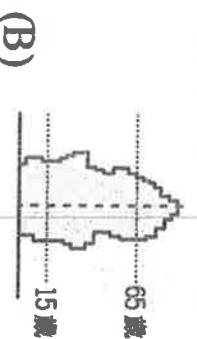
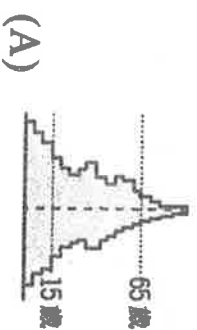
13. 棗椰樹常見於西亞地區，在伊拉克被稱為“綠色金子”，它是作為一種傳家寶世代相傳的，被認為是家庭財產的一部分。椰棗果肉味甜，營養豐富，可以製成各種糖果，高級糖漿、餅乾和菜餚，以及製醋和酒精，是穆斯林最喜愛的食物之一。其根部長達4~6公尺、葉片細長等特徵，主要是為了因應分布區的氣候環境，請問下列哪一張氣候圖符合棗椰樹的分布區特色？



14. 歐洲依位置可分為東歐、西歐、南歐、北歐、歐俄五個區域，其中西歐和東歐位於歐陸的中央位置，這兩個地區的地形主體為下列何者？(A)高原 (B)丘陵 (C)平原 (D)盆地。

15. 歐洲南部地中海沿岸的三大半島，在地形上最大的特色為何？(A)以盆地為主體 (B)冰河、峽灣地形發達 (C)屬於古老陸塊，多平坦的高原 (D)板塊擠壓，多山地、丘陵。

16. 歐洲部分國家少子化與高齡化現象越趨顯著。其人口結構呈現下列哪一種人口金字塔型？





17. 西亞地區自古即為重要的交通要道，因此戰略地位相當重要。下列有關西亞地區的位置敘述，何者錯誤？

(A)經度位置：位於東半球 (B)緯度位置：有赤道經過 (C)海洋位置：被五海包圍，地處黑海到地中海的通道 (D)陸地位置：歐、亞、非三洲接觸地帶。

18. 新聞報導：「...石油價格將在明日清晨調漲...」，小花想上網蒐集有關「石油價格」的國際組織資料。請問：她該輸入下列哪一個國際組織簡稱作為關鍵字？(A)EU (B)APEC (C)OPEC (D)WHO。

19. 下表為北歐和南歐的海岸特徵比較表。請問：表中哪一項是完全正確的？

	(A)海岸示意圖	(B)成因	(C)利用	(D)代表國家
北歐		斷層作用	海運	希臘
南歐		冰河侵蝕	陸運	挪威

20. Google 的街景製作團隊除了深入一般街道，他們還會上山下海，又會走入博物館、美術館，製作不同地方的街景圖。Google 街景車今年不慎進入了一年一度的西班牙蕃茄節互擲蕃茄的人群中，由於群眾太過興奮，最後令街景車損毀嚴重。上文中的街景車是到歐洲的哪一個半島？(A)義大利半島 (B)巴爾幹半島 (C)斯堪地那維亞半島 (D)伊比利半島。

21. 西亞因為油井探鑽技術的進步，運用在鑿井取水，發展灌溉農業，但因淺層地下水大部分已經耗盡，當地農民不得不挖掘更深的水井抽取不可再生的深層地下水，形成「人工綠洲」。請問：這種利用方式主要位於下列哪一個地理區？

(A)阿拉伯高原 (B)安那托利亞高原 (C)伊朗高原 (D)美索不達米亞平原

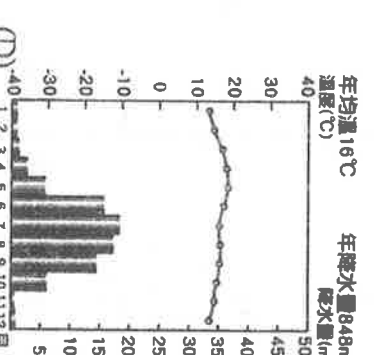
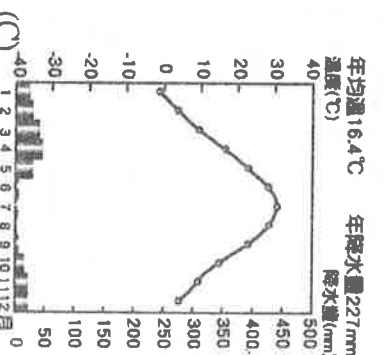
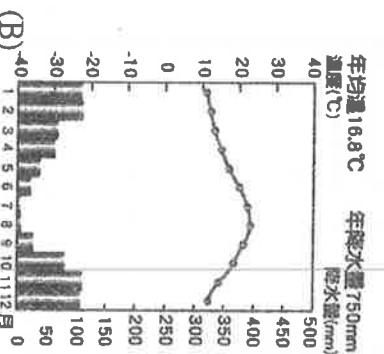
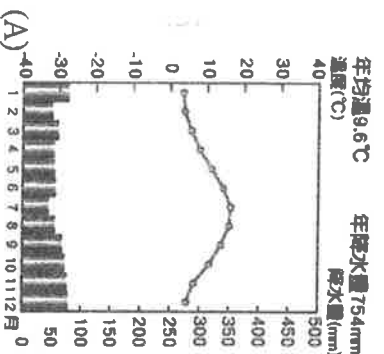
22. 每四年一次的奧林匹亞運動會，原是為了取悅希臘神話裡眾多神明而舉辦的活動，請問：此運動會的起源地是下列何者？(A)倫敦 (B)羅馬 (C)雅典 (D)馬德里。

23. 歐洲東半部的國家較晚加入歐盟，其原因是經濟發展較西歐緩慢，但下列何者也因此是歐洲東半部的經濟發展優勢？(A)技術人才 (B)資金豐沛 (C)土地廣大 (D)勞力便宜。

24. 西班牙有「橄欖油王國」之稱，目前是世界最大的橄欖生產地和橄欖油出口國，橄欖年產量占世界40%。橄欖屬於耐旱作物，下列哪一項因素使當地多種植耐旱的經濟作物？(A)雨季和生長季無法配合 (B)土壤肥沃，水力豐富 (C)地勢低平，多平原地形 (D)緯度低，生長季較長。

25. 地形的作用力對當地的地形特色影響甚大，位於西亞北部的伊朗高原及安納托利亞高原，其地形成因為均為板塊擠壓所形成，因此對於該地區的影響主要為下列何者？(A)地勢平坦 (B)地塊古老 (C)面積廣大 (D)地震頻繁

26. 中亞為歐亞大陸的中心，這個區域正是千年以前，漢武帝派遣張騫通西域必經的路途，也是東西方文化與貿易交流的十字路口。請問：當年張騫經過此地域時，得適應下列何種氣候類型？



27. 西亞多數的房屋為平頂式建築，該建築的特色有牆很厚，門窗也很小，這種景觀和下列哪項地理因素最有關係？

- (A)地形 (B)氣候 (C)政策 (D)產業。



■右圖是南歐地區簡圖，代號為國家，請根據敘述完成28~31題：

28. 位於伊比利半島，與非洲隔著直布羅陀海峽相對的國家：

- (A)甲 (B)乙 (C)丙 (D)丁。

29. 波河平原是丙地的精華區，人口集中、工業發達。該區工業發達的

區位條件是？(A)盛產煤、鐵，原料豐富 (B)阿爾卑斯山的豐富水力 (C)政府的優惠政策 (D)勞工便宜，技術先進

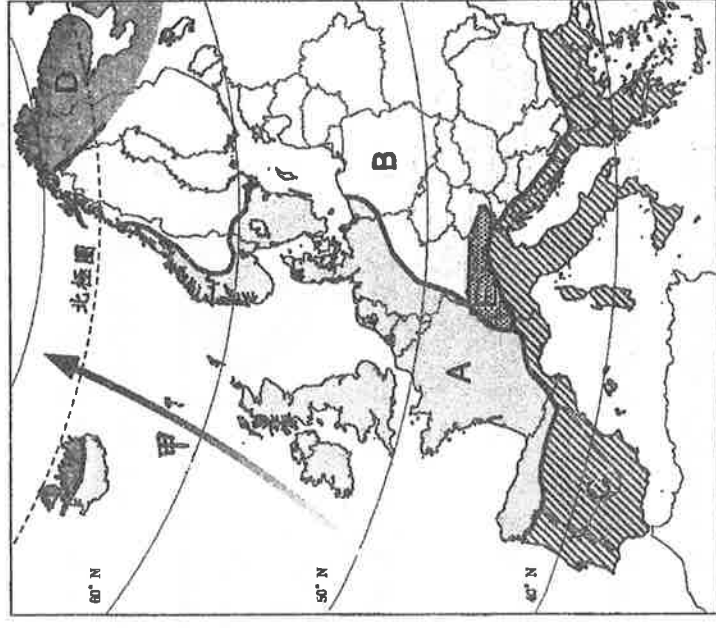
30. 南歐與歐洲其他分區有高大的山脈相隔，乙國以哪個山地鄰接西歐？

- (A)阿爾卑斯山 (B)喀爾巴阡山 (C)庇里牛斯山 (D)烏拉山。

31. 以下是一句旅遊廣告詞：「慵懶愛琴海、聖托里尼島風車夕陽下」，此段廣告要介紹的國家位於上圖中何處？

- (A)甲 (B)乙 (C)丙 (D)丁

■右圖為歐洲氣候類型分布圖，請根據右圖回答32~38題：



32. 歐洲全境無沙漠氣候。請問：造成這種現象的因素中「不包括」下列何者？(A)位於赤道附近，氣候溫暖潮濕 (B)西側為大西洋，深受海洋水氣調節 (C)終年盛行西風，且有暖流流經 (D)山脈多為東西向，多半島、海灣，利於水氣深入內陸。

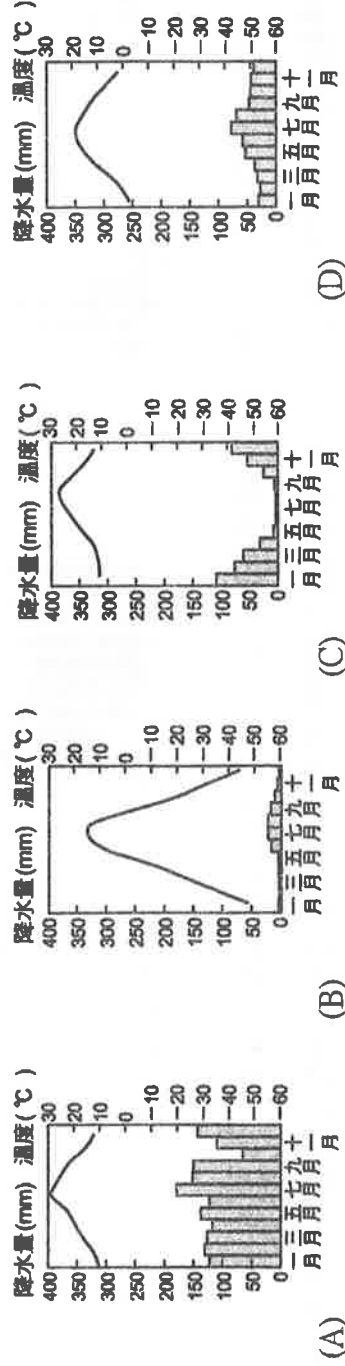
33. 阿爾卑斯山主峰白朗峰日前測量高度，比兩年前變矮1.29米，為4808.73 米。專家指出，近兩年來氣溫偏高是造成白朗峰變矮的一個重要原因。白朗峰位於右圖中哪個氣候區？(A)E (B)B (C)C (D)D。

34. 哪一個氣候區一月均溫可在0°C以上，冬溫為同緯度地區最高的「正偏差」區，加上水氣豐沛，使本區冬暖夏涼，降雨充沛，雨日多，雲霧也多？(A)A (B)B (C)C (D)D。

35. 若想體會特殊的「永晝」、「永夜」景象，要到圖中何區比較有機會可以遇到？(A)A (B)B (C)C (D)D。

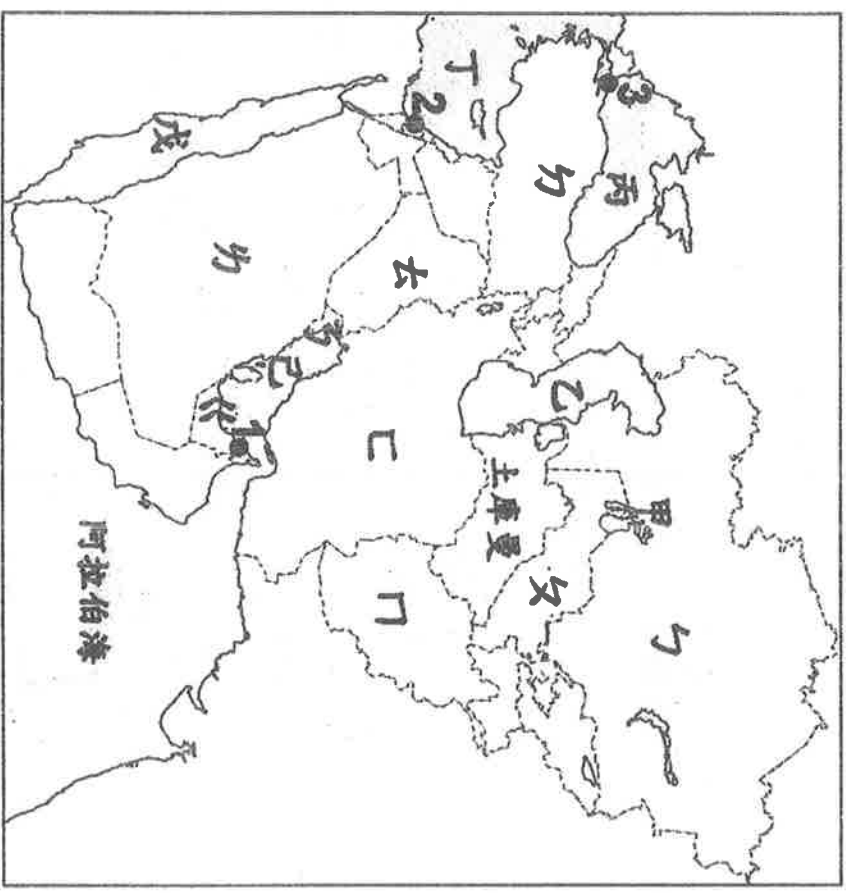
36. 「藍」和「白」是此區建築給人最鮮明的印象，藍色屋頂、粉白灰泥牆，部分地區甚至將建築物全部都漆成白色，有抵擋夏季炙熱陽光的效果。要欣賞此種建築景觀，須前往圖中哪一氣候區？(A)A (B)B (C)C (D)D。

37. 承上題，此氣候區所繪製的氣候圖，應該是下列何者？



38. 一般的情況下，緯度決定不同氣候。但「A」與「B」這兩個氣候區，緯度位置差不多，卻在年溫差上有所差異，請問其差異可能來自什麼原因？(ㄅ)距海遠近 (ㄆ)副熱帶高壓帶的籠罩 (ㄇ)信風吹拂 (ㄋ)北大西洋暖流經過 (A)ㄅㄆ (B)ㄅㄇ (C)ㄆㄇ (D)ㄇㄋ。

■右圖為西亞、中亞的區域簡圖，請回答39~50題：



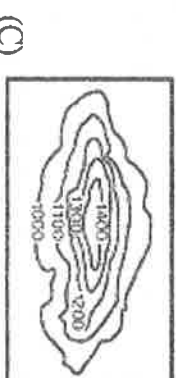
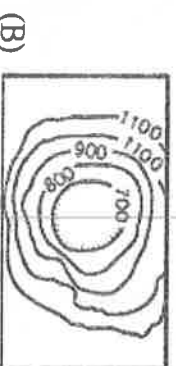
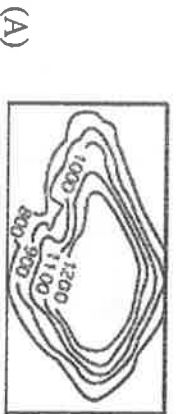
39. 西亞原與非洲相連，後因板塊運動陷落而分離。請問：非洲與西亞間的水域是下列何者？(A)丙 (B)丁 (C)戊 (D)己

40. 「乙」和「丙」水域之間的山脈為：(A)烏拉山 (B)喀爾巴阡山 (C)阿爾卑斯山 (D)高加索山。

41. 造成「戊」國氣候乾燥的主要原因為何？(A)距海遙遠 (B)地形封閉 (C)副熱帶高壓籠罩 (D)沿海有涼流經過。

42. 蘇美人最早在美索不達米亞建立城市，創造了楔形文字，也發展出宏偉的神廟、殿堂，以及精美的祭器、神像等；亞述人是最先在美索不達米亞建立帝國的人；亞歷山大則將希臘文明帶到此地。總之，美索不達米亞的文明，是由內不同部族政權相繼承襲創造的，形成了多姿又多元的特性。請問：美索不達米亞平原主要位於圖中的哪個地方？(A)戊 (B)己 (C)庚 (D)辛

43. 美國的飛行員，在一次偵察任務中，分別在ㄅ、ㄆ兩國飛行偵查，請問飛行員拍攝出來的照片，為下列何種地形？



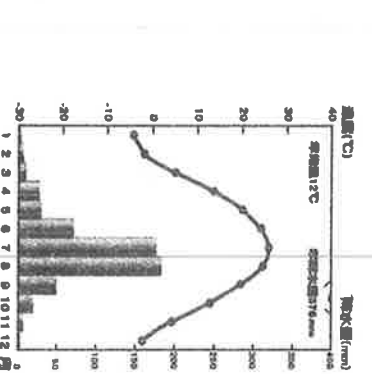



44. 有一句話：「【 】的安定，是世人的希望」，感嘆西亞因石油資源的爭奪而紛爭不停。請問【 】應該是指圖中哪一個水域？(A)丙 (B)丁 (C)戊 (D)己。

45. 耶路撒冷是以色列名義上的首都，為猶太教、基督教、伊斯蘭教3個宗教的聖地，請問該城市的位置位於上圖中何處？(A)1 (B)2 (C)3。

46. 哪一國家沿岸因生長季與雨季不配合，農業仰賴灌溉，種植耐旱作物，如葡萄、橄欖？(A)己 (B)戊 (C)庚 (D)辛。

47. 「ㄆ」國若要發展農業活動，需仰賴灌溉工程，主要是因為當地以下列哪種氣候類型為主？



48. 「中亞主要石油生產國，也是世界最大的內陸國。」上述國家位在上圖中的？(A)ㄅ (B)己 (C)庚 (D)辛。

49. 「該國著名地標包括世界最高塔—哈里發塔及六星級阿拉伯塔飯店(俗稱帆船飯店)。」上述國家所在位置位在上圖中的何地？(A)戊 (B)己 (C)庚 (D)辛。

50. 2013年9月29日，世界第一條橫跨歐亞兩洲的海底隧道舉行開通落成儀式，該海底隧道長約1.4公里，通車後往來歐亞僅需4分鐘。請問該隧道位在圖中那一個國家？(A)戊 (B)己 (C)庚 (D)辛。