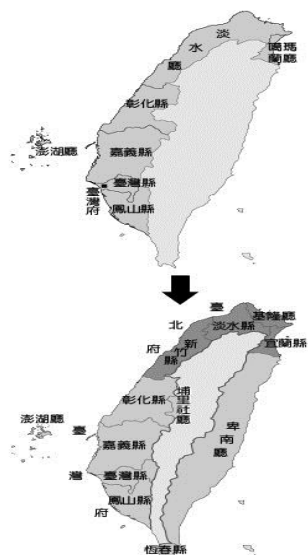


〈試題卷〉

一、選擇題（一題 2 分，共 100 分）

1. ( ) 早期來臺漢人移民的分布有何特性？(A)閩南人大多居住在丘陵一帶 (B)客家人多聚居在平原地帶 (C)同鄉聚居的現象明顯 (D)山區一帶尚未有居民。
2. ( ) 下列哪則諺語顯示出臺灣械鬥頻繁？(A)「唐山過臺灣，心肝結歸丸。」 (B)「仙拚仙，拚死猴齊天。」 (C)「紅柿若出頭，羅漢腳目屎流。」 (D)「六死三留一回頭」。
3. ( ) 土地公一直以來是臺灣民間共同信仰的神明，下列那些信仰與土地公的信仰性質相似？(A)保生大帝、王爺 (B)三山國王、開漳聖王 (C)王爺、媽祖 (D)保生大帝、有應公。
4. ( ) 「德記洋行」為今日臺南市安平區「臺灣開拓史料蠟像館」的前身，請問：這是由哪一國商人所建？(A)美國 (B)日本 (C)英國 (D)法國。
5. ( ) 下列哪些因素是臺灣逐漸由移墾社會走向文治社會的主因？(甲)統治者有意以教育來壓制反對意見(乙)人們經濟生活改善(丙)文憑主義掛帥的觀念(丁)文教機構的增設 (A)甲乙 (B)乙丁 (C)甲丙 (D)丙丁。
6. ( ) 臺南古蹟「二鯤鯓砲台」是下列哪一位治臺官員來臺興建的第一座西式砲台？(A)劉銘傳 (B)邵友濂 (C)丁日昌 (D)沈葆楨。
7. ( ) 附圖是清領時期臺灣的行政區域變遷。請問：這個變化與下列哪個歷史事件有關？(A)林爽文事件 (B)朱一貴事件 (C)牡丹社事件 (D)戴潮春事件。

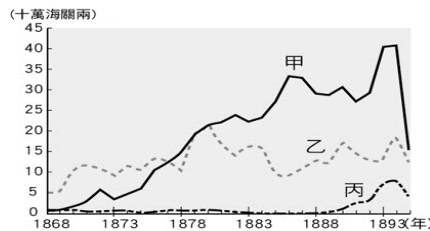


8. ( ) 「阿榮是南投市張家後代，每逢年節返鄉，全家族便齊聚『張瑄溪祠堂』，並以部分祖產作為公費，祭祀其渡臺始祖。」根據文中所示，下列敘述何者正確？(A)這是以「唐山組」為祭祀中心的組織 (B)透過祭祀活動來反抗清廷統治 (C)組織成員均為同船來臺者的後代 (D)屬於「開臺祖」的祭祀組織。
9. ( ) 清領初期雖有渡臺禁令的限制，但還是有很多漢人移民不計九死一生，甘冒生命危險橫渡黑水溝（台灣海峽），來臺開墾拓荒，請問原因為何？(A)臺灣經濟遠較中國繁榮，文教事業興盛 (B)中國大陸沿海居民生活困難，紛紛到外地發展 (C)中國大陸戰禍連年 (D)政府徵調漢人，到臺灣征討原住民。
10. ( ) 呈上題，當時中國來臺移民，以下列哪兩個省份最多？(A)廣東、廣西 (B)福建、廣西 (C)廣東、浙江 (D)福建、廣東。
11. ( ) 歷史課堂中，老師請同學討論清領前期械鬥發生的原因，以下哪一位同學的說法是錯誤的？(A)大天：「為爭奪進士名額而大打出手」 (B)小布：「因語言不同而出現隔閡」 (C)基德：「移民為爭奪水源與田地發生爭執」 (D)柯南：「爭奪商業利益而發生械鬥」。

12. ( ) 附圖是臺灣人民祭拜原鄉信仰的漫畫，請根據圖中內容加以判斷，他們的祖先應該是來自中國何處的移民？ (A)漳州 (B)泉州 (C)客家 (D)潮州。



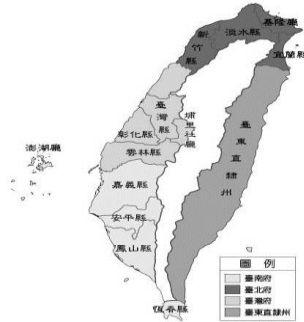
13. ( ) 真美：「放寬漢人出入番界的限制。」；育志：「取消禁止漢原通婚等規定。」；宜佳：「開築北、中、南地區聯絡東部的道路。」根據以上三位同學陳述的內容，他們應是在討論下列哪一政策？ (A)渡臺禁令 (B)劃界封山 (C)開山撫番 (D)海禁政策。
14. ( ) 清領後期有多位外國傳教士來到臺灣，他們除了傳教之外，也帶來許多影響，下列何者並非其重要影響？ (A)帶入西方醫學 (B)發起社會運動 (C)傳入西方文化 (D)導入新式教育。
15. ( ) 劉銘傳為了培養洋務人才，以及訓練能操作西式設備的技術人員，在臺灣設立哪兩種新式學堂？(甲)電報學堂(乙)機器學堂(丙)西學堂(丁)師範學堂 (A)甲乙 (B)甲丁 (C)甲丙 (D)乙丙。
16. ( ) 博剛看到一張臺灣在清領後期的重要出口商品統計表，如附圖所示，由圖中可知當時最重要的出口商品為甲、乙、丙商品，這三樣商品按照順序來看應該是下列何者？(A)樟腦、糖、茶 (B)糖、茶、樟腦 (C)樟腦、茶、糖 (D)茶、糖、樟腦。



17. ( ) 清領前期，漢人移民來臺灣後，為了團結彼此之間的情感，於是成立了許多宗族組織，下列相關敘述中，何者正確？ (A)祭祀「唐山祖」的人都具有血緣關係 (B)「唐山祖」有祠堂及族譜，供後代子孫紀念 (C)「開臺祖」祭祀的對象為唐山原鄉共同的同姓人物 (D)「開臺祖」組成分子彼此的關係較緊密，團結互助。
18. ( ) 劉銘傳在臺灣現代化建設中影響最大的是交通建設。請問：當時所推動的交通建設有哪些？(甲)興建台北到高雄的縱貫鐵路(乙)設立郵政總局(丙)修築北、中、南三條通往後山的道路(丁)架設電報線(戊)購置輪船 (A)甲乙丙丁戊 (B)乙丁戊 (C)甲乙丁 (D)乙丙丁戊。
19. ( ) 歷史老師在課堂上請同學討論傳教士馬雅各的事蹟，以下哪些同學的發言是正確的？ 小帥：設立理學堂大書院。明威：建立台灣第一間西醫醫館。玲玲：在台灣南部傳教。一美：設立淡水女學堂院 (A)明威、玲玲 (B)小帥、一美 (C)玲玲、一美 (D)明威、小帥。
20. ( ) 清領前期的「閩粵械鬥」及「漳泉械鬥」主要是以何者作為分類依據？ (A)貧富 (B)職業 (C)姓氏 (D)祖籍。
21. ( ) 「他」是八卦會的首領，因其勢力擴張迅速而引起清廷的鎮壓。「他」發動的民變始於西元1862年，清廷至1865年才完全平定剩餘勢力，為清領後期持續時間最久的民變。請問：「他」是何人？ (A)林爽文 (B)戴潮春 (C)郭懷一 (D)朱一貴。
22. ( ) 清領時期，來臺漢人因為各有不同的語言與信仰，並面對嚴苛的生存競爭，故常以同籍聚居來保障彼此的生命財產安全，當時聚居的宗族型態有「唐山祖」與「開臺祖」兩類。請問：

下列何者是這兩類組織的差異？ (A)居住地區 (B)組成姓氏 (C)祭祀對象 (D)人數多寡。

23. ( ) 清領後期有幾場戰爭影響到臺灣，下列哪一場戰爭促使清廷開放臺灣港口，外國勢力正式進入臺灣？ (A)甲午戰爭 (B)鴉片戰爭 (C)中法戰爭 (D)英法聯軍。
24. ( ) 一個清末的人不可能在大稻埕碼頭看到哪種現象？ (A)茶葉大量出口，國際貿易興盛 (B)蔗糖由此地大量輸往中國大陸 (C)購貨商人，以抽鴉片煙為樂 (D)洋行設立，充滿異國情調。
25. ( ) 「人文旅遊」節目正在介紹一座位於新竹市的進士第，據說是第一位以臺灣本籍的身分考上科舉的人，請問：此人是誰？ (A)朱一貴 (B)沈光文 (C)林爽文 (D)鄭用錫。
26. ( ) 下圖為臺灣某一時期的行政區劃，此區劃的形成與下列哪一事件最有關連？ (A)朱一貴事件 (B)中法戰爭 (C)牡丹社事件 (D)英法聯軍。



27. ( ) 台北市大龍峒保安宮為祭祀保生大帝的廟宇，請問：這應是來自中國何處的漢人移民所創建的？ (A)廣東潮州人 (B)福建泉州人 (C)廣東惠州人 (D)福建漳州人。
28. ( ) 小丞暑假跟隨家人參訪臺南赤崁樓，他見到在赤崁樓旁放置的九座「鼐鼐碑」甚感好奇，經導覽人員解說，他才了解原來這些石碑是乾隆年間曾平定某一次「民變」後所樹立的。請問：此「民變」指的應是下列何者？ (A)郭懷一事件 (B)戴潮春事件 (C)朱一貴事件 (D)林爽文事件。
29. ( ) 臺灣歷史上被稱為「臺灣口腔外科的先驅」者為何人？ (A)黃玉階 (B)馬雅各 (C)馬偕 (D)林聰明。
30. ( ) 丁日昌是清領後期臺灣的重要建設者之一，下列哪項措施不是他的政策？ (A)嚴懲貪官汙吏 (B)招民移墾東部 (C)架設電報線 (D)設置三府一州。
31. ( ) 賽璐珞是最早的人工樹脂，直至今日，桌球及日本手工鏡框仍然使用此材料。它的特點是質地光澤、硬度高，缺點是不耐高溫。而這種成分是從□□取得的，在清領時期，臺灣的產量曾居世界第一。請問：□□應是下列何者？ (A)鹿皮 (B)樟腦 (C)茶葉 (D)稻米。
32. ( ) 清領時期，臺灣發生民變的因素不包含哪些？ (甲)信仰複雜 (乙)宗族組織不相容 (丙)吏治不良 (丁)官逼民反 (A)甲乙 (B)甲丙 (C)乙丙 (D)丙丁。
33. ( ) 清領前期，臺灣民間不斷發生變亂，以下哪一句諺語即是在這樣的背景下產生的？ (A)「红柿上樹頭，羅漢腳目尿流」 (B)「一個某，卡贏三個天公祖」 (C)「三年一小反，五年一大亂」 (D)「有唐山公，無唐山媽」。
34. ( ) 清領時期臺北人王大福到省城參加鄉試，第一次他遠赴福州應考，結果落榜；第二次他則在臺北應試，終於榜上有名。請問：王大福第二次應考地點的改變，是因為哪一事件的發生，使得臺灣的行政區劃有所調整？ (A)朱一貴事件 (B)英法聯軍 (C)中法戰爭 (D)牡丹社事件。
35. ( ) 臺灣經濟重心由南轉移至北，主要是因為北部哪兩項商品的開發有關係？ (A)茶葉、樟腦 (B)茶葉、蔗糖 (C)蔗糖、稻米 (D)稻米、木材。
36. ( ) 在清領時期曾有「義學」的設置，請問：這個機構的功能如何？ (A)主要提供教育貧寒子

- 弟之用 (B)有錢人家的學習機構 (C)主要培育政府官員的地方 (D)教育原住民的組織。
37. ( ) 歷史課時，學生們討論臺灣西元 1880 年時的對外發展概況，哪一位的說法是正確的？ (A)建補：「此時為清領前期，臺灣對外貿易大幅成長。」 (B)加寶：「臺灣也進口鴉片與紡織品。」 (C)廷恩：「中國製的紡織品取代了英國的棉布料。」 (D)育萱：「臺灣開放淡水、鹿港、安平、打狗四個港口。」
38. ( ) 臺灣開港通商後，貿易的性質也不斷改變，然而哪一項商品仍居出口大宗，歷史悠久？ (A)茶葉 (B)樟腦 (C)鴉片 (D)蔗糖。
39. ( ) 清領前期，臺灣的各式教育機構中，哪一種機構全部是由官方設立的？ (A)儒學 (B)義學 (C)書院 (D)私塾。
40. ( ) 小恩某日閱讀一篇「鹿港懷舊之旅」的報導，文中指出：「鹿港現僅存的一座『隘門』建於西元 1830 年，為縣定古蹟……。」，請問「『隘門』與下列何項史實最有相關性？ (A)外患頻傳 (B)械鬥頻繁 (C)倭寇出沒 (D)漢番衝突。
41. ( ) 位於臺北、基隆之間的「獅球嶺隧道」是臺灣最早的鐵路隧道，隧道口有當時主持鐵路興建的官員所題之「曠宇天開」四字。請問：題字者應是何人？ (A)施琅 (B)劉銘傳 (C)丁日昌 (D)沈葆楨。
42. ( ) 19 世紀中葉，臺灣開港後，外國商人紛紛在通商口岸，設立何種機構從事貿易？ (A)行會 (B)行郊 (C)洋行 (D)會館。
43. ( ) 在清朝統領臺灣的兩百多年中，真正用心於臺灣之建設，僅在最後 20 年。請問：清廷一改「為防臺而治臺」態度而積極治臺的原因，與下列何者關係最為密切？ (A)開港通商 (B)日軍侵臺 (C)英法聯軍 (D)朱一貴事件。
44. ( ) 清領時代臺灣最具代表性的民變為：朱一貴事件、林爽文事件、戴潮春事件，下列何者不是這三者的共通點？ (A)其背景與貪官汙吏、移民問題等因素有關 (B)清朝治臺政策消極導致變亂迭生 (C)清朝派兵來臺後救平亂事 (D)均發生在乾隆年間以前。
45. ( ) (甲)台灣建省 (乙)施琅攻臺(丙)中法戰爭(丁)臺灣開港通商(戊)牡丹社事件。有關上述臺灣歷史大事，若按照先後順序排列，下列何者正確？ (A)甲乙丙丁戊 (B)乙丁丙甲戊 (C)乙丁戊丙甲 (D)乙甲丁戊丙。
46. ( ) 同治末年，清帝國因不熟悉國際法而失去琉球這個藩屬。當時清國政府在對外交涉時犯下什麼錯誤？ (A)同意撤離駐守琉球多年的清國軍隊 (B)以巨款收買敵國首相而激怒對方 (C)清廷一邊與敵國談判，一邊調集軍隊攻擊敵國 (D)承認敵國出兵行動是「保民義舉」。
47. ( ) 歷史老師在上課時，放了一張如附圖的漫畫，請學生們判斷這張漫畫所描述的宗族組織是屬於下列哪一類型？ (A)開山祖 (B)唐山祖 (C)開臺祖 (D)阿立祖。



48. ( ) 清領時期，臺灣發生三大民變，(甲)林爽文事件 (乙)朱一貴事件(丙)戴潮春事件。若依其發生時間的先後順序排列，下列何者正確？ (A)甲乙丙 (B)甲丙乙 (C)乙甲丙 (D)乙丙甲。
49. ( ) 陳有土是生活在 19 世紀末期的臺北人，請問下列哪一項是他可能不會遇到的狀況？ (A)在家裡聽廣播做體操 (B)坐火車去基隆探親 (C)到郵局去寄信 (D)打電報給住在福州的親戚。
50. ( ) 劉銘傳將臺灣的行政區域調整為三府一直隸州，其中的三府不包括哪一府？ (A)臺灣府 (B)臺北府 (C)臺南府 (D)臺中府