

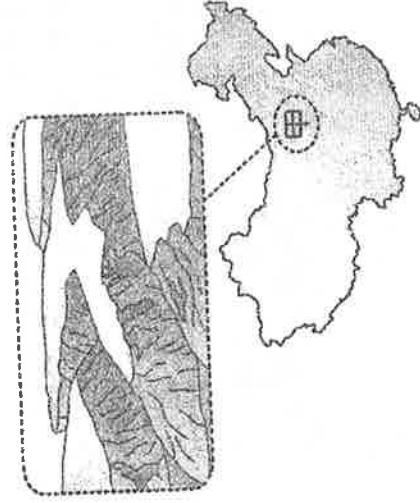
嘉義市立北興國民中學106學年度第一學期2年級地理科期末考試卷

一、單一選擇題：每題2分，共46分

1. () 中國的自然環境影響境內各地牧業活動的發展。附圖為中國地勢三級階梯圖，請問：甲所在的地勢階梯主要以何種牧業活動為主？(A)欄牧(B)放牧(C)水平移動的游牧(D)垂直移動的游牧。



2. () 附圖中的甲區常見到頂部地勢平坦，周圍邊坡陡峭的地形，如圖中照片所示。該區邊坡陡峭的崎嶇地形，其成因應為下列何者？(A)板塊擠壓 (B)流水切割 (C)強風吹蝕 (D)斷層陷落。

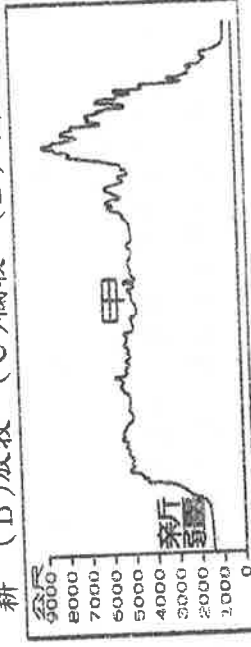


3. () 附圖為中國三大經濟帶的位置圖，圖中甲區域利於經濟發展的條件中包含下列何者？(A)工資最低 (B)礦產豐富 (C)鄰國眾多 (D)技術進步。



4. () 「每年農曆春節前後，中國有數億離鄉工作的人口，藉由鐵、公路往返於家鄉與工作地點間，龐大人潮常造成運輸系統的壅塞，也使得政府運輸部門如臨大敵，此即為『春運現象』。」根據上文所述，若以中國三大經濟地帶區分，在春節後，返回工作地點人潮最多的移動方向應為下列何者？(A)西部→中部 (B)中部→西部 (C)東部→中部 (D)中部→東部。

5. () 附圖為中國某地區的自然環境特色，在圖中甲區最容易見到下列哪一種第一級產業活動？(A)農耕 (B)放牧 (C)欄牧 (D)游牧。



6. () 聯合國環境與發展大會中曾針對荒漠化問題加以討論，請問：在中國境內造成的嚴重荒漠化問題，其原因不包括下列何者？(A)商業化畜牧 (B)牲畜數量減少 (C)農業過度灌溉 (D)地表植被缺乏。

7. () 為因應資訊化時代的來臨，中國東北地區的工業生產正積極加強自動化，希望使產量大幅提高，品質提升，並降低生產成本。這種科技的發展大幅減低下列哪一種區位因素的重要性？(A)原料 (B)動力 (C)市場 (D)勞工。

8. () 中國各地的地理環境不同，影響其農牧業活動的發展。請問：老羅到附圖中的丁處旅遊，見到其農業活動的進行，這和當地具備何種條件有關？(A)年降雨量豐富 (B)沖積土壤肥沃 (C)高山融雪灌溉 (D)農業勞力充足。



9. () 近年來，中國隨著經濟的發展，對於自然資源的需求日益增加。附圖中哪一個地區受到「人為因素」的影響，出現缺水的現象，因此中國計畫由其他地區輸水以補其不足？(A)甲 (B)乙 (C)丙 (D)丁。



10. () 近年來，北京多次遭遇嚴重的霧霾天氣，空氣能見度低，空氣品質下降，對人們生產、生活及身體帶來危害。下列行為中，何者不能降低或緩解北京霧霾天氣發生？(A)減少城市綠地 (B)節能減排，宣導低碳經濟 (C)大力宣導步行或乘公車上下班 (D)減少家庭小汽車的使用。

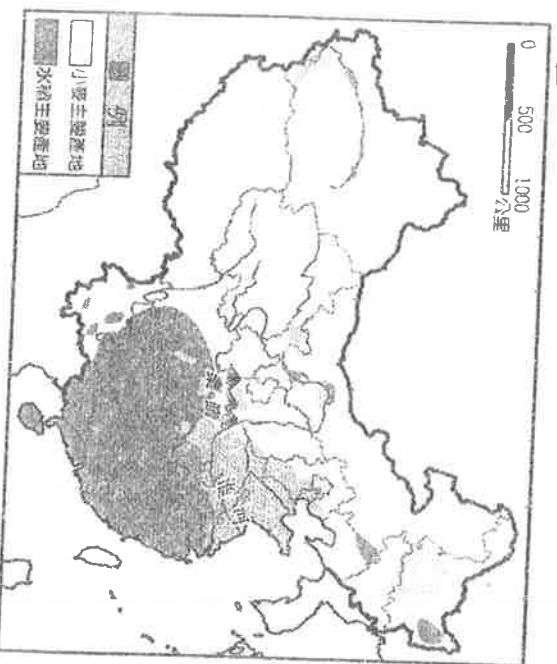
11. () 中國自實施新的勞工法規後，企業的勞力成本大幅增加。此時中國境內哪一個地區因為工資相對低廉，又處於東西交通的中樞位置，且資源豐富，成為今日外資積極投資的新興地區？(A)哈爾濱 (B)北京 (C)武漢 (D)廣州。

12. () 中國改革開放初期的工業發展受到政策影響相當明顯，當時主要是以何種工業類型為發展重心？(A)資訊工業 (B)紡織工業 (C)重工業 (D)加工出口業。

13. () 小熊欲前往中國投資，下列有關各項產業區位的評估中，何者正確？ (A) 沿海地區礦產豐富，利於興建大鋼鐵廠 (B) 北部河運便捷，適合開設商業銀行 (C) 西部內陸工資低廉，有利加工生產出口 (D) 南部僑資眾多，資金募集較為有利。
14. () 臺灣這幾年在中國投資設廠，以電子裝配、紡織等工業為大宗。就上述產業而言，臺商投資設廠最主要的考量因素是什麼？ (A) 勞工 (B) 資金 (C) 技術 (D) 市場。
15. () 中國因環境條件不同，各地區的土地利用也不盡相同，因此面臨的環境問題與保育對策也不同。其中哪一地形區採取低密度開發，環境保育重於土地資源開發？ (A) 東北平原 (B) 青藏高原 (C) 長江三角洲 (D) 東南丘陵。
16. () 2015 年年初在臺灣爆發了嚴重的禽流感疫情，至少上百萬隻的雞、鴨、鵝等禽類面臨被撲殺的命運。無獨有偶，在中國也曾經歷過禽流感病毒甚至傳人造成死亡。請問：依據中國各地畜牧類型的特徵來判斷，疫情最嚴重的會是附圖中的哪個地區？(A) 甲 (B) 乙 (C) 丙 (D) 丁。



17. () 中國近年來所施行的「南水北調」工程，可協助解決黃河流域的哪一項環境問題？ (A) 泥沙淤積 (B) 乾季斷流 (C) 河水氾濫 (D) 水土流失。
18. () 中國的年雨量豐沛，水資源豐富，但每人平均水資源量不多。這現象和下列哪一個人口特色關係最大？ (A) 人口分布 (B) 人口成長率 (C) 人口組成 (D) 人口密度。
19. () 附圖為中國糧食作物的分布圖，主要受到何種因素的影響，因而南北作物大不相同？(A) 距海遠近 (B) 地勢起伏 (C) 雨量多寡 (D) 土壤類型。



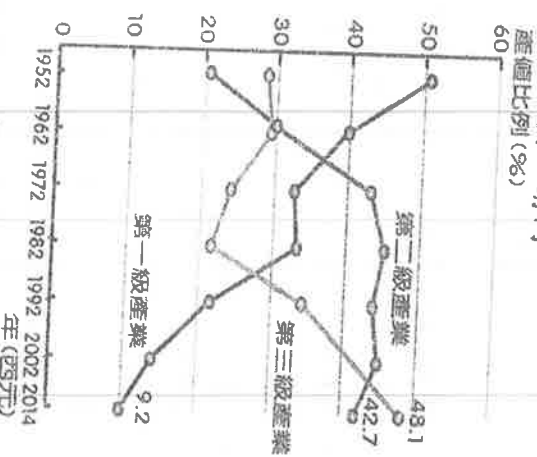
20. () 土地資源的多寡受到氣候及地形起伏等相關因素的影響，附圖為中國分區簡圖，圖中哪一個地區受到降水稀少的影響，耕地面積極小？(A) 甲 (B) 乙 (C) 丙 (D) 丁。



21. () 中國面積廣大，地形複雜多樣，下列有關其特色的敘述中，何者正確？ (A) 平原面積最大 (B) 荒漠化面積極小於耕地面積 (C) 地勢東低西高 (D) 疆域面積世界第一。
22. () 附圖是中國政府曾在長江實施過的三項措施，這些措施分別會導致各種不同的效益與問題。下列何者是三者的共同效益？(A) 提高生物的多樣性 (B) 增加可耕地的面積 (C) 降低洪水氾濫機率 (D) 有效利用水力資源。



23. () 根據中國境內的經濟發展狀況判斷，下列哪一個行政區內的每人平均 GDP 最高？ (A) 貴州省 (B) 北京市 (C) 西藏自治區 (D) 西安市。
- 二、題組：每格 2 分，共 54 分
- (1) 中國自 1980 年代開始實施經濟上的改革開放，發展至今已約 37 年，改變了中國的經濟面貌。附圖為中國三級產業變化圖，請問：



- () 24. 中國在經濟改革開放之前，受到政策的影響，當時主要的工業活動為下列何者？ (A) 民生工業 (B) 資訊產業 (C) 國防工業 (D) 食品工業。
- () 25. 近年來工商業發展後，連農業活動的類別亦由傳統的稻麥改為蔬果、花卉等作物為主。最主要的影響因素為何？ (A) 市場需求

(B)技術進步 (C)人口減少 (D)大量出口。

- () 26. 中國在 1980 年代經濟發展之初，首先成立經濟特區，依據當地的人文特色，發展以勞力密集的加工出口業為主。請問：上述的經濟特區主要分布於哪一個經濟帶？ (A) 上海經濟帶 (B) 西部經濟帶 (C) 中部經濟帶 (D) 東部經濟帶。

(2) 中國面積相當廣大，人口眾多。附圖為該國境內的農牧業活動分布圖，根據圖中資料回答下列問題：

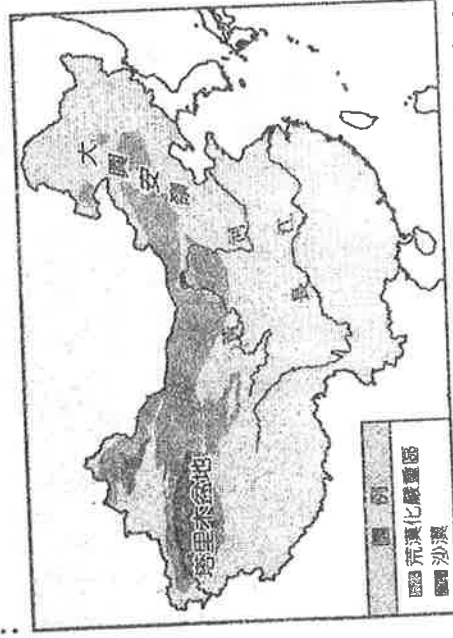


- () 27. 附圖中呈現了中國境內的農業及牧業活動的分布地區，根據其位置判斷，其分界線最主要為下列何者？ (A) 年雨量 500 毫米 (B) 等高線 500 公尺 (C) 年均溫 0°C 等溫線 (D) 一月月均溫 0°C 等溫線。

- () 28. 附圖中呈現了水田區及旱田區，通常在旱田區所種植的主要糧食作物為下列何者？ (A) 冬麥 (B) 玉米 (C) 大豆 (D) 稻米。

- () 29. 畫分水田區和旱田區的界線有：(甲)等高線 500 公尺 (乙)年溫差 20°C (丙)一月月均溫 0°C 等溫線 (丁)年雨量 750 毫米等雨量線。正確的是哪兩項？ (A) 甲乙 (B) 丙丁 (C) 甲丁 (D) 乙丙。

- (3) 第 49 屆聯合國大會將每年的 6 月 17 日定為「世界防治荒漠化和乾旱日」，旨在進一步提高世界各國人民對防治荒漠化重要性的認識，喚起人們防治荒漠化的責任心和緊迫感。中國近年來由於人為活動的影響，土地過度使用，導致荒漠化的面積不斷擴大，甚至已經超過了耕地面積，其分布範圍如附圖所示。請問：



- () 30. 黃土高原為中國荒漠化的過程中，水土流失最嚴重的地區。請問：當地在冬季及夏季時，分別受到何種侵蝕力量影響？

	甲	乙	丙	丁
夏季	水力	水力	風力	風力

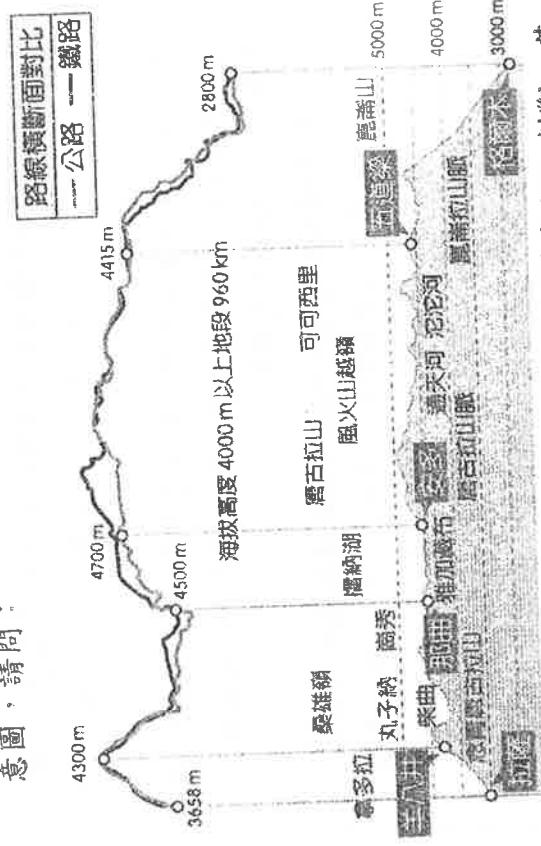
冬季 風力 水力 風力

(A) 甲 (B) 乙 (C) 丙 (D) 丁。

- () 31. 內蒙古高原亦是荒漠化相當嚴重的地區，並且在下列何種季風的吹拂下，會造成北京嚴重的沙塵暴污染？ (A) 東北季風 (B) 東南季風 (C) 西北季風 (D) 西南季風。

- () 32. 承第(31)題，中國為解決相關問題，因此進行一連串的相關工程。請問：目前所實施的生態環境工程中，不包括下列何者？ (A) 植草 (B) 梯田 (C) 造林 (D) 防風。

(4) 中國近年來為均衡區域發展，陸續強化各地的交通運輸發展。但在各地的交通建設工程中，卻也遇到許多無法避免的自然環境問題，迎向大自然的挑戰成為這些工程師必要的課題。附圖為青藏鐵路縱斷面的示意圖，請問：



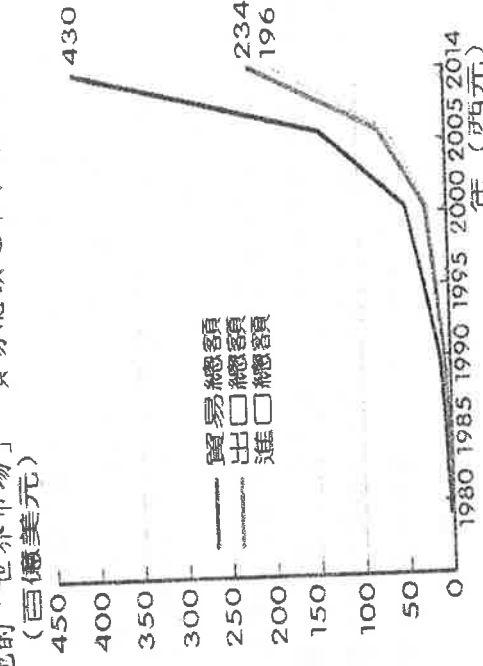
- () 33. 請由青藏鐵路所經過的地形特色加以判斷，其興建地點主要位於中國地勢的哪一級階梯？

(A) 第一級階梯 (B) 第二級階梯 (C) 第三級階梯 (D) 第四級階梯。

- () 34. 興建青藏鐵路的過程中，工程師所要面臨的大自然挑戰為何？ (A) 水旱災多 (B) 凍土融解 (C) 溶蝕旺盛 (D) 黃土流失。

- () 35. 青藏鐵路所經之地農業並不發達，但在附圖中拉薩附近氣候較暖溼，可種植青稞。請問：拉薩的氣候較為暖溼是受到哪一海洋水氣影響？ (A) 太平洋 (B) 北極海 (C) 印度洋 (D) 大西洋。

(5) 附圖為中國的進出口貿易總額統計圖，中國在經濟改革開放後，逐漸成為世界主要生產基地後，進而帶動全國的經濟發展，30 年後中國成為各國兵家必爭之地的「世界市場」，貿易總額逐年攀升。請問：



- () 36. 附圖中，中國從 1980 年開始，成為主要生產基地的「世界工廠」，而使貿易總額大幅增加。請問：當時中國經濟發展的有利條件中不包含下列何者？(A) 設立經濟特區 (B) 國內資金少 (C) 豐富的天然資源 (D) 高價的勞工。

- () 37. 若依附圖中的貿易數據變化加以判斷，中國經濟改革開放後主要的貿易狀況為何？(A) 貿易出超 (B) 外匯流失 (C) 貿易逆差 (D) 進口為主。

- () 38. 中國為了擴大區域間的經濟合作，推出「一帶一路」的新政策，根據中國商務部資料顯示僅 2015 年，中國與一帶一路沿線國家進出口貿易總額就達到了 9,950 億美元。請問：一帶一路沿線國家所歸屬的區域中不包括下列何者？(A) 歐洲 (B) 中美 (C) 南亞 (D) 非洲。

- (6) 中國近年來水資源的問題日趨重要，對聚落的分布及產業活動的發展影響甚大。請就目前中國的相關水資源特色，回答下列問題：

- () 39. 中國近年已被列入水資源嚴重缺乏的國家之一，其缺水的主要原因為何？(A) 降雨量變率大 (B) 地形分布影響 (C) 河川含沙量大 (D) 人口總數眾多。

- () 40. 目前中國的水資源使用情形，以附圖中哪一個地區的不足情況最為嚴重？



(A) 甲 (B) 乙 (C) 丙 (D) 丁。

- () 41. 承第(40)題，該地區水資源缺乏最主要的原因為下列何者？(甲) 降雨量最多 (乙) 乾季長

(丙) 人口眾多 (丁) 河川含沙量少 (A) 甲 (B) 乙 (C) 丙 (D) 丁。

- () 42. 中國各地區的水資源分布並不平均，附圖中哪一個地方的水資源量最多？(A) 甲 (B) 乙 (C) 丙 (D) 丁。

- () 43. 中國的各項水利工程中，下列哪一項對調節水資源空間分配不均的幫助最大？(A) 長江三峽大壩 (B) 都江堰 (C) 南水北調 (D) 截彎取直。

- (7) 中國的人口接近十四億，為世界人口最多的國家，因此對於農業產品的需求甚大。然而農業活動的發展卻受到地形及氣候條件的影響，各地區種植不同類型的作物，形成當地農業活動特色。附圖為中國疆域中四個不同端點的地理位置，請回答下列問題：



- () 44. 農業發展受到自然環境的影響相當大，附圖中哪一處因終年低溫，不利於農業活動的發展？(A) 甲 (B) 乙 (C) 丙 (D) 丁。

- () 45. 中國農業目前多轉為栽種經濟價值較高的經濟作物，附圖中甲處的經濟作物最可能為下列何者？(A) 甜菜 (B) 甘蔗 (C) 小麥 (D) 棉花。

- () 46. 中國傳統第一級產業活動以農、牧為主，這兩種產業的分布區域，主要以下列何項條件來加以區分？(A) 年均溫 (B) 全年降雨量 (C) 年溫差 (D) 平均高度。

- (8) 中國的幅員廣大，各地自然環境不同，交通方式也各不相同，影響各地的經濟發展。請就附圖中各地區的交通特色，回答相關問題：



- () 47. 河運的發展受限於環境的影響最大。附圖中的哪一個地區河運最為發達？(A) 甲 (B) 乙 (C) 丙 (D) 丁。

- () 48. 老王的家鄉夏季時大河滾滾，許多林木皆利用河運運輸；冬季時河面卻結成了冰，成了陸運的大道。老王的故鄉最可能位於附圖中何處？(A) 甲 (B) 乙 (C) 丙 (D) 丁。

- () 49. 在前往附圖中丁處的途中，最容易在丁處見到下列哪一種的獸類？(A) 馬匹 (B) 犛牛 (C) 駱馬 (D) 駱駝。

- () 50. 附圖中丙地區為早期東西間絲路往來的必經路線。若想要經過丙處，所使用的獸類以下列何者最為適合？(A) 馬匹 (B) 犛牛 (C) 駱馬 (D) 駱駝。