

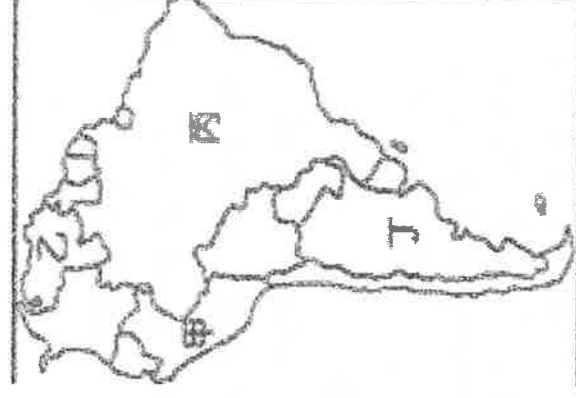
◎單一選擇題：每題 2 分，共 50 題

- 下列關於美洲的敘述，何者正確？(A)美洲依文化可畫分為日耳曼美洲及拉丁美洲。
(B)南美洲以熱帶、溫帶氣候為主，沒有進入寒帶氣候的範圍。(C)赤道經過中美洲地區。
(D)美國、加拿大、墨西哥位於北美洲，組成北美自由貿易區。
- 北美洲五大湖區中的安大略湖，有一條河流經加拿大注入大西洋，此河流的流域為加拿大精華區。請問此條河流的名稱？(A)科羅拉多河 (B)密蘇里河 (C)密西西比河 (D)聖羅倫斯河
- 美國黃石國家公園內的老忠實地熱噴泉；大峽谷國家公園內的天空步道，皆為美國著名的旅遊勝地。請問上述國家公園位於美國哪一個地形區？
(A)阿帕拉契山脈 (B)安地斯山脈 (C)落磯山脈 (D)拉布拉多高原
- 下表有關美國境內溫帶海洋性氣候、溫帶大陸性氣候的比較，何者「錯誤」？

北美氣候類型	(A)分布地區	(B)形成原因	(C)氣候特色	(D)分布城市
溫帶海洋性氣候	大陸西岸 40~60°N	墨西哥灣暖流 經過	全年有雨	美國西雅圖
溫帶大陸性氣候	落磯山脈以東	背信風	夏熱冬寒	美國芝加哥



- 西雅圖位居美國西岸，氣候宜人，環境優良，航空、資訊業鼎盛，為西元 2016 年美國房價升幅最高的城市。右圖為西雅圖的位置，其氣候類型最可能為下列何者？ (A)溫帶海洋性氣候 (B)溫帶地中海型氣候 (C)溫帶大陸性氣候 (D)溫帶季風氣候
- 巴西的森巴舞可說是南美洲多元文化的結晶，此種舞步在當地的嘉年華會中，成為觀光的賣點。請問：南美洲多元文化與下列哪一族群比較「沒有」關係？ (A)拉丁人 (B)印地安人 (C)非洲黑人 (D)阿拉伯人
- 南美洲的國家數眾多，受到各種外來文化的影響，形成多元文化特色。右圖中哪一個國家受到葡萄牙的影響最大，普遍盛行葡萄牙語？
(A)甲 (B)乙 (C)丙 (D)丁



- 西印度群島之名來自於 1492 年哥倫布為了尋找通往亞洲的新航線，橫渡大西洋後抵達美洲，他誤以為這裡是印度，故得名。請問「西印度群島」位於哪個海域？(A)加勒比海 (B)波羅的海 (C)地中海 (D)黑海
- 這裡是陸地上最長山脈的所在，也是離地心最遙遠的地方，全球最高的活火山及休火山亦分布於此，也擁有世界最大的地下銅礦採礦場。請問：這座山脈是？
(A)阿帕拉契山 (B)落磯山脈 (C)安地斯山 (D)喜馬拉雅山

- 「2010 年 10 月智利的 33 名礦工被困在該國北部的聖荷西金銅礦場，這些礦工在地下生活 69 天後，自第 13 日起陸續脫困。他們永不放棄的堅韌生命力，令世人為之動容。」請問：事件發生的地點最有可能為下列何種氣候？
(A)溫帶大陸性氣候 (B)溫帶沙漠氣候 (C)熱帶沙漠氣候 (D)夏雨型暖溫帶氣候
- 加拿大的溫哥華，由於冬季受到哪條洋流的影響，容易造成海面起霧？
(A)北大西洋暖流 (B)墨西哥灣流 (C)阿拉斯加暖流 (D)加利福尼亞涼流
- 美國西岸的洛杉磯是全美第二大城，該城主要降水季節為何？
(A)春 (B)夏 (C)秋 (D)冬

13. 全球有超過八成的龍捲風發生在北美洲，尤其是美國境內德州、俄克拉荷馬州、堪薩斯州等，更有「龍捲風走廊」之稱。請問：其發生的季節大多在下列哪個時段？

- (A)春夏交替 (B)夏秋交替 (C)秋冬交替 (D)冬春交替

14. 下圖是北美洲沿 35°N 的地形剖面圖。圖中甲、乙、丙、丁何處的年降水量最少？

- (A)甲 (B)乙 (C)丙 (D)丁

15. 承上題，『甲』地區是屬於何種降雨類型？(A)溫帶海洋性氣候 (B)溫帶地中海型氣候 (C)溫帶大陸性氣候 (D)溫帶季風氣候

16. 美國在出兵至伊拉克前，為了增加軍隊的戰鬥力，欲在國內尋找最相似的氣候環境加以模擬，則右圖中何處最適合做為美軍訓練之地？ (A)甲 (B)乙 (C)丙 (D)丁

17. 在拉丁美洲，因為某種天然植被遭受過度砍伐與破壞，導致全球最大的生態物種基因庫受到破壞。該天然植被最有可能是指下列何者？ (A)草原 (B)闊葉林 (C)混合林 (D)雨林

18. 以下是三位同學進行南美洲各種氣候類型的報告。請問這三種地區依序為右圖中的何處？

小雨	此區有世界最大的熱帶雨林，高溫多雨
小星	此區位於雨林兩側，乾溼季節分明，有野生動物棲息著
小中	此區主要受祕魯涼流及副熱帶高壓籠罩影響，全年乾燥少雨

- (A)甲-乙-己 (B)甲-乙-庚
(C)乙-丙-甲 (D)乙-丙-己

19. 自十六世紀歐洲人殖民中南美洲，使得中南美洲又稱為「拉丁美洲」。請問：巴西主要語言為何？

- (A)葡萄牙語 (B)法語 (C)西班牙語 (D)英語

20. 古代印第安人所建立的馬雅金字塔，不但是馬雅文明的重要精神象徵，同時紀錄著三千年前的神祕傳說。請問：哪個國家可以看到馬雅文明遺跡？

- (A)祕魯 (B)墨西哥 (C)古巴 (D)阿根廷

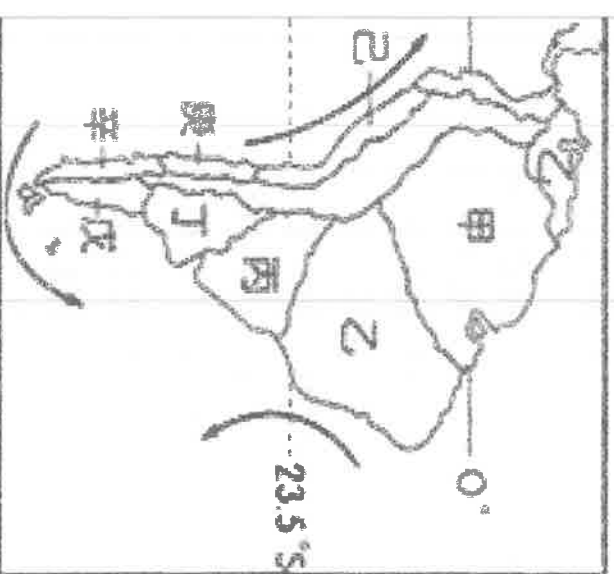

21. 美國拉斯維加斯為世界著名的賭城，當地附近是一片荒漠及遍布的仙人掌。請問：造成此地呈現荒漠的景觀的成因為何？ (A)地勢高聳 (B)寒流經過 (C)暖流經過 (D)居背風側

22. 下列哪些是中南美洲熱帶栽培業的生產特色？ (甲)栽種單一作物 (乙)集約方式經營 (丙)農產以糧食作物為主 (丁)高度機械化耕作

- (A)甲乙 (B)乙丙 (C)乙丁 (D)甲丁

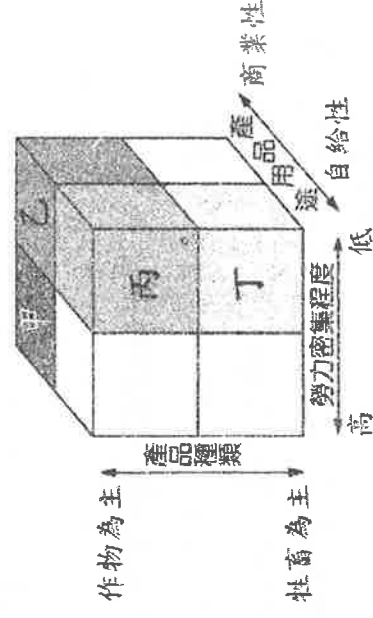
23. 美國的州名中，有的是印第安人以當地自然特色命名，如「明尼蘇達」即指天藍色的水、「密西根」為廣闊的湖泊之意。根據這兩州的位置判斷，其湖泊成因最可能為何？ (A)冰蝕作用 (B)風化作用 (C)堆積作用 (D)火山作用

24. 若依「位置分布」劃分美洲，中美洲與南美洲主要以何國作為分界線？ (A)美國 (B)墨西哥 (C)巴拿馬 (D)加拿大



25. 在西元 1992 年成立「北美自由貿易區」，其主要的成立目的為何？ (A)擴大亞洲市場 (B)增加關稅收入 (C)減少區域內貿易障礙 (D)減少族群紛爭

26. 美國某一農作帶以生產小麥為主，由於耕地面積廣大，農民利用機械耕作、收割，小麥大量運銷國外。從右圖中的三種指標加以分類，上述農作帶最可能屬於圖中甲、乙、丙、丁哪一種農業類型？(A)甲 (B)乙 (C)丙 (D)丁



27. 巴拿馬運河為世界上唯一的聯洋運河，請問：主要貫穿的地形區及連結的兩個海域分別為何？(A)貫穿墨西哥高原；連結太平洋、大西洋 (B)貫穿安地斯山脈；連結太平洋、印度洋

(C)貫穿亞馬孫盆地；連結太平洋、大西洋 (D)貫穿中美地峽；連結太平洋、大西洋


28. 以下是旅遊網站上關於中南美洲各國的特色說明：

甲國國土狹長、氣候從熱帶涵蓋到溫帶地區；乙國盛產銀，有白銀王國之稱；丙國為南美洲的主要石油生產國。請問以上甲、乙、丙三國依序是：


(A)智利—墨西哥—委內瑞拉 (B)秘魯—巴西—阿根廷
(C)秘魯—墨西哥—委內瑞拉 (D)智利—墨西哥—阿根廷

29. 亞太經濟合作會議(APEC)是環太平洋沿岸的 21 個國家，為了促進經濟合作而成立的跨國組織，臺灣、中國、日本等國都有加入。請問：就地緣位置看來，下列哪個國家最『不可能』加入亞太經濟合作會議？ (A)智利 (B)秘魯 (C)巴西 (D)墨西哥。

30. 附圖為世界各地都市化程度的變化示意圖。由圖中可看出，中南美洲在西元 1950~2007 年間，都市人口從 42% 暴增至 76%，推測至西元 2030 年時，都市化程度將攀升至 84%，僅次於北美洲。請問：造成中南美洲都市化程度成長快速的原因為何？ (A)都市與鄉村貧富差距大 (B)種族融合呈現多元文化 (C)城市集中於沿海地區 (D)經濟依賴歐美先進國家



31. 西元 2017 年 3 月正值乾季末期，智利中部驚傳森林大火，火勢從首都聖地牙哥的林區開始延燒，摧毀逾十餘間住宅，迫使 6,000 人撤離當地。請問：下列哪張氣候圖最能呈現當地的氣候特色？



32. 巴西政府將首都從東南沿海里約熱內盧遷移到內陸的巴西利亞，最主要的原因為下列何者？

(A)開採內陸礦產 (B)高原氣候涼爽 (C)內陸交通便利 (D)促進內陸開發

33. 右圖為四個地區的人口及能源消耗比例圖，請問：哪一個地區的平均每人消耗能源量最多？

(A)北美 (B)日本 (C)西歐 (D)獨立國協

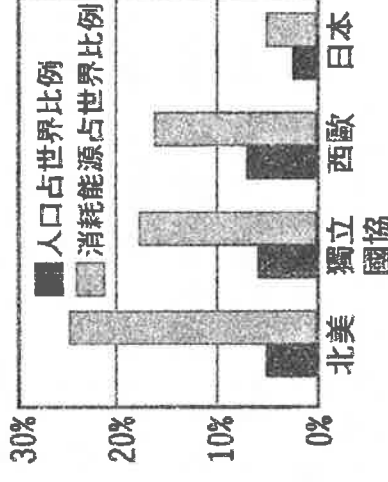
◎中南美洲人口分布並不均勻，請回答以下相關問題：

34. 哥倫比亞首都波哥大人口密集。請問此地人口多的原因是？

(A)礦藏豐富 (B)低緯高山氣候涼爽
(C)平原地形農業發達 (D)歷史因素開發較早

35. 巴西亞馬孫盆地人口稀少。請問此地人口少的原因是？

(A)內陸盆地乾燥少雨 (B)交通不便 (C)雨林溼熱不宜人居 (D)高緯地區氣候乾寒



◎右圖為美國的工業區分布圖，請回答下列相關問題：

36. 全球高科技重鎮「矽谷」，主要位於圖中哪個地區？

(A)甲 (B)乙 (C)丁 (D)戊

37. 美國近來透過新技術生產頁岩油，可望在西元 2020 年躍居為全球最大的原油生產國。請問：美國主要的石油和天然氣產地，主要分布在圖中哪個地區？(A)甲 (B)乙 (C)丙 (D)戊

38. 美國、加拿大工業集中於五大湖到大西洋一帶，以下哪一個是主要原因？

(A)地形平坦 (B)氣候涼爽 (C)蘊藏石油 (D)交通便利

◎請依據北美洲的農業分布圖，回答下列問題：

39. 北美洲的農業經營方式有別於亞洲。請問：下列何者為北美洲平原地區農業經營的主要特色？

(甲)呈現帶狀分布 (乙)單位面積產量高 (丙)大規模單一作物種植 (丁)高度機械化 (戊)以自給自足為主。(A)甲乙丙 (B)乙丙丁 (C)甲丙丁 (D)甲丁戊

40. 某廠商為標示自己的產品原料來源，特別強調是來自美國的百分百天然棉，其產地應為上圖中的哪個農業帶？(A)C (B)F (C)G (D)H

41. 『氣候乾燥、地形崎嶇，以粗放的放牧牛、羊牧場為主，由牛仔負責看管照顧。』上述所指的牧區分布於上圖何處？

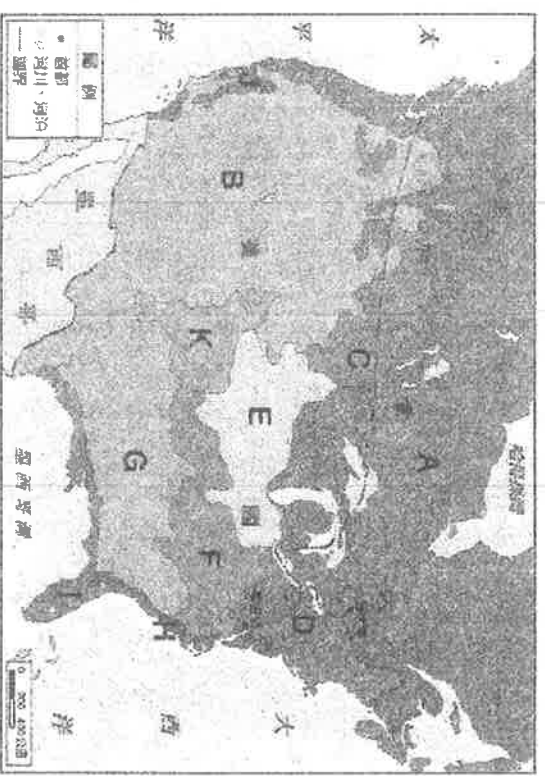
(A)A (B)B (C)C (D)I

42. 上圖中 D 區溼度大，利於牧草生長，再加上鄰近大都市。請問：這裡最適合發展何種農業？

(A)林業 (B)酪農業 (C)小麥帶 (D)地中海農業帶

43. 美國被稱為「世界麵包籃」，請問：麵包的主要原料小麥，其產區分布於圖中哪些地區？

(A)C、K (B)E、F (C)K、G (D)C、F



◎右圖是中南美洲國家簡圖，請依此圖回答下列各題：

44. 請問：哪一個國家為「北美自由貿易區」的會員國之一？

(A)甲 (B)乙 (C)丙 (D)丁

45. 早年曾為葡萄牙所殖民，曾被譽為「金磚四國」之一，發展潛力雄厚，此國為圖中何者？(A)戊 (B)丙 (C)丁 (D)庚

46. 溝通大西洋與太平洋的重要交通孔道—巴拿馬運河，位於哪個國家？(A)甲 (B)乙 (C)丙 (D)丁

◎南美洲氣候複雜多樣，請回答下列相關問題：

47. 下列哪一個國家境內，並『沒有』熱帶沙漠氣候？

(A)祕魯 (B)墨西哥 (C)智利 (D)阿根廷

48. 下列哪一個國家的降雨，主要是來自西風帶來的水氣？(A)智利 (B)巴西 (C)古巴 (D)委內瑞拉

49. 下列哪一種氣候類型有受到巴西暖流的影響，氣候較溫暖？

(A)溫帶草原 (B)高地 (C)溫帶海洋性 (D)夏雨型暖溫帶氣候

50. 古印加文明所在地，位於現今祕魯境內的安地斯山區。請問：屬於哪一氣候類型？

(A)熱帶莽原 (B)高地 (C)溫帶沙漠 (D)夏雨型暖溫帶氣候

