

北興國中107學年度第一學期第二次段考歷史科一年級\_\_\_\_班\_\_\_\_號 姓名：\_\_\_\_\_

一、題組（一題2分，共24題48分）

現在到臺南遊玩有幾種特殊的伴手禮可以選購，設計者為突顯鄭成功與臺灣海洋文明的鮮明印象，「成功洋芋片」在包裝設計上以波浪作為背景，搭配文物館經典鎮館之寶—鄭成功肖像，而更逗趣地把代言人人像創意加上俏皮「LOVE」手勢，瞬間嚴肅感都沒了啦～☺



1. ( ) 如果你是製作洋芋片包裝的設計者，你覺得可以在包裝旁邊加上哪一句標語增加商品吸引力，又符合商品主角形象？  
(A) 延平郡王誠懇推薦 (B) 平西王打包票好吃  
(C) 鄭家諸葛拍胸脯保證 (D) 南明唐王對天發誓真的好吃。
  2. ( ) 包裝的背面印有一篇新聞報導：「西元2000年，兩位漁民在福建省冬古灣退潮後，無意間發現兩處堆積物，經專家初步挖掘出鐵炮、彈丸、陶瓷器等文物。而打撈上來的銅銃上均鑄有『國姓爺』的『國』字，鑄有『永曆通寶』字樣的銅錢則是當時東南沿海流通的貨幣……。」依報導內容推斷，此項挖掘工作將有助於我們了解下列哪一時期的歷史？（註：銃：一種舊式的槍械火器。）  
(A) 元末明初 (B) 宋末元初 (C) 清末民初 (D) 明末清初。
  3. ( ) 如果要與書商結合舉辦買相關書籍就贈送洋芋片的活動，下面那一本書最速配？  
(A) 臺灣佛教的傳入與發展 (B) 基督教在臺灣落地生根  
(C) 臺灣第一個漢人政權 (D) 臺灣錢淹腳目的時代。
  4. ( ) 鄭成功的海洋形像可從其父鄭芝龍開始探討，鄭芝龍早期在閩、粵沿海一帶極有勢力，因而有何稱呼？ (A) 倭寇 (B) 流寇 (C) 海商 (D) 國姓爺。
- 北興國中要舉辦一年級臺灣歷史考察之旅，行程將由學生安排具有歷史意義的地點參訪，學生代表正積極討論中…
5. ( ) 哲睿提議到臺中市「土牛國小」作參訪，根據校名你覺得哲睿提議此地點的原因為何？  
(A) 荷治時期引進黃牛開墾的首要地區 (B) 清領時期漢番交界處之一 (C) 是鄭氏時期政府規劃之放牧區 (D) 清領時期政府發給農具、牛隻，鼓勵開墾之處。
  6. ( ) 品潔想要往南部走，規劃去林鳳營一地探究，博皓取笑她是想去牧場餵牛嗎？請問林鳳營有何歷史意義？ (A) 漢番界線的代表 (B) 普羅民遮城舊址 (C) 鄭氏時期的官墾 (D) 寓兵於農的歷史意義。
  7. ( ) 承上題，以下地名何者與林鳳營的開墾代表的歷史意義不同？ (A) 柳營 (B) 左鎮 (C) 上營 (D) 官田。
  8. ( ) 郁恩想要探究清代臺灣灌溉水圳的歷史，你覺得她應該去哪一個縣市才能探究清代臺灣規模最大的水利設施？ (A) 台北市 (B) 嘉義縣 (C) 高雄市 (D) 彰化縣。
  9. ( ) 這些清領時期以來，在臺灣常見到民間或官方大規模修築水圳、埤塘等的痕跡，其主要目的為何？ (A) 解決人民飲用水的問題 (B) 工業用水不足，提供穩定水源 (C) 水道運輸增進商業發展 (D) 擴大灌溉面積增加農產。
  10. ( ) 貓霧揀圳是由哪兩個族群通力合作，共同修築而成的？ (A) 漢人和荷蘭人 (B) 荷蘭人和平埔族 (C) 荷蘭人和西班牙人 (D) 漢人和平埔族。
  11. ( ) 郁恩想要探究官方興建的水圳，她應該選擇下列何者？  
(A) 曹公圳 (B) 八堡圳 (C) 瑠公圳 (D) 貓霧揀圳。
  12. ( ) 「……當時郭錫瑠父子在臺灣北部進行土地開墾的工作，為了農耕灌溉，其開始投資興

建水圳。然而在興建的過程中，除了遭受生番破壞水源，還必須克服橫越溪流的困難…  
…。水圳完成後，灌溉地區的農墾迅速發展，成為臺北盆地最重要的灌溉渠道。」請問：  
這條水圳引用哪條河流？ (A)新店溪 (B)基隆河 (C)淡水河 (D)濁水溪。

佳恩一有空就喜歡往圖書館跑，他近日讀到一本關於臺灣的歷史著作《台灣通史》，此書作者為連橫，並由其創辦的雅堂書局（台灣通史社）出版…

13. ( )書中有段文字這樣寫著：「夫臺灣固海上之荒島耳，華路藍縷以啓山林，至於今是賴。顧自海通以來，西力東漸，運會之趨，莫可阻遏。」其中寫到西力東漸，表示外國對臺灣的影響越來越大，請問下列哪個外國未曾統治過臺灣？  
(A)荷蘭 (B)日本 (C)西班牙 (D)葡萄牙。
14. ( )書中又記載：「某人乃籌長治之策，盡心經畫，建保里之方，布屯田之制，開魚鹽之利，伐林木之材；內課農桑，外興貿易，十數年來，移民大至，多至數十萬人，拓地遠及兩鄙，臺灣之人以是大集。」這是形容哪一個人物？  
(A)鄭經 (B)鄭克塽 (C)鄭克臧 (D)鄭成功。
15. ( )佳恩讀到連橫在《台灣通史》中，曾稱讚兩人對臺灣的貢獻最多，一為劉銘傳；另一則是在鄭氏治臺時期受鄭成功父子重用的謀士，被形容為「開務成物，體仁長人」，此人應是指下列何人？ (A)施琅 (B)沈光文 (C)郭懷一 (D)陳永華。
16. ( )書中另有一段文字評論某一位歷史人物，說：「為鄭氏部將，得罪歸清，遂藉滿人以復明社，忍矣！某人有伍員之怨，而為滅楚之謀，吾又何誅？」文中提及得罪鄭氏而投降於清朝，並且結束鄭氏在臺政權的為下列何人？  
(A)顏思齊 (B)施琅 (C)吳三桂 (D)郭懷一。

智偉是生活在清領前期的臺南商人，並加入了「布郊」的組織，同時也是「南郊」的一員，經常於會館中與同業互通有無，請問：

17. ( )在當時，臺灣商業興盛的地方，多有「郊」的存在。請問：「北郊」和「南郊」是依據下列何者來區分？ (A)進口稱北郊，出口稱南郊 (B)位在臺灣北部稱北郊，南部稱南郊 (C)依照中國南北貿易區域的區分 (D)貿易貨品的種類不同。
18. ( )以下關於智偉的敘述何者正確？ (A)主要的貿易對象為英國 (B)智偉從事的應該是織品買賣的工作 (C)智偉買賣皆於中國上海進行 (D)智偉經常在會館祭祀祖先。
19. ( )在智偉所生活的時代，臺灣主要是將哪一產品運至中國大陸以交換所需之日常用品？  
(A)茶葉 (B)蔗糖 (C)日用品 (D)樟腦。
20. ( )當時智偉所參加「郊」的型態多以何者來加以區分？ (A)商人的性別 (B)商人在社會的地位 (C)貿易區域或商品 (D)商人財富的多寡。
21. ( )宗浩是清領前期往來中國大陸漳州貿易的米商，他詢問智偉：「我若想結識同業、了解商品價格，考量貿易區域與商品，應加入哪個組織」，智偉會如何建議他呢？ (A)南郊、糖郊 (B)北郊、糖郊 (C)南郊、米郊 (D)北郊、米郊。

金龍從小就希望可以搭乘著哆啦A夢的時光機，現在終於可以一圓童年的夢想，由他設定時間，任他遨遊各個時空中，正當他穿梭時空玩的正開心時，睜開眼睛才發現是夢一場…

22. ( )當時間設定在1678年的臺灣，你覺得金龍可能會看到什麼景象？  
(A)吳沙開墾屏東的狀況 (B)原住民摘取檳榔及果樹上的果實 (C)採茶婦女拼命工作 (D)臺灣出口稻米賺取利潤。
23. ( )當時間設定在1691年（清康熙30年）的臺灣，你覺得金龍可能會看到什麼景象？

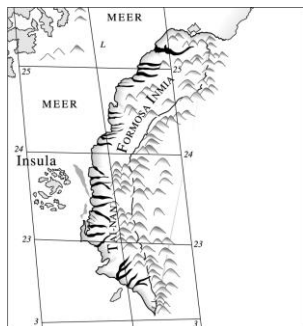
- (A)政府許可進入花蓮地區進行拓墾 (B)跟著朱一貴前往蛤仔難地區開墾  
(C)到府城會看到許多金髮碧眼的外國人 (D)與同鄉合資向地方官府申請墾照。
24. ( )當時時間設定在1812年(清嘉慶17年)的臺灣，你覺得金龍可能會看到什麼景象？  
(A)發生林爽文事件 (B)發生郭懷一事件 (C)嘉義一帶當時取名為諸羅縣 (D)臺灣當時行政區劃為一府四縣三廳。

二、單一選擇題(一題2分，共26題52分)

25. ( )清領時期有一種人被稱為「羅漢腳」，請問「羅漢腳」的定義到底是甚麼呢？ (A)當時駐臺的士兵 (B)冒險渡台的海商 (C)無妻兒、無田產的單身男子 (D)從事廟宇工作的人民。
26. ( )附圖中的句子，是學生報告的段落標題。此份報告的題目，最可能是下列何者？

一、盤據東南謀復明  
二、東征攻臺驅紅毛  
三、漢人社會始紮根  
四、兵敗薙髮終降清

- (A)荷蘭人被明朝趕出澎湖 (B)朱一貴反清事件的始末  
(C)荷西爭奪臺灣北部 (D)首次臺灣漢人政權的建立。
27. ( )郁永河《臺灣竹枝詞》記載：「鐵板沙連到七鯤，鯤鯨激浪海天昏；任教巨舶難輕犯，天險生成鹿耳門。」請問：這段詩的內容，是指今日臺灣何處？ (A)嘉義市 (B)高雄市 (C)台中市 (D)台南市。
28. ( )清廷治理臺灣初期採消極態度，頒行「渡臺禁令」，其內容為何？ (A)嚴禁沿海漢人渡臺 (B)與海禁的內容相同 (C)只允許單身男子渡臺 (D)嚴禁渡臺漢人與原住民接觸。
29. ( )北興國中畢業旅行到宜蘭的羅東運動公園觀光，當地風景優美，景色如畫。請問：此地清嘉慶年間曾設立下列哪一行政區？ (A)淡水廳 (B)諸羅縣 (C)澎湖廳 (D)噶瑪蘭廳。
30. ( )康熙征服臺灣後，官員對於棄留臺灣問題爭論不一，當時率軍攻取臺灣的\_\_甲\_\_上奏康熙皇帝，強調臺灣\_\_乙\_\_，不可輕言放棄，結果促使朝廷將臺灣納入版圖。請問甲、乙應該分別填入什麼？  
(A)施琅；文教發達貿易興盛 (B)施琅；戰略地位重要  
(C)沈葆楨；戰略地位重要 (D)沈光文；文教發達貿易興盛。
31. ( )附圖是清康熙年間由西洋傳教士繪製的臺灣地圖。此圖只繪製臺灣西半部，反映出當時清廷治臺的何種政策？



- (A)開港通商，西半部為對外貿易據點 (B)加強建設西半部，使其成為海防重鎮  
(C)禁漢人渡臺，防止臺灣成為反清基地 (D)畫界封山，禁止漢人入侵原住民區。

32. ( )下列何者「不是」發生在清朝康熙皇帝年間？ (A)把臺灣納入中國版圖 (B)平定三藩之亂 (C)發生林爽文事件 (D)在臺灣設立一府三縣。
33. ( )清代流傳的俗諺：「一府二鹿三艋舺」，這句話反映了下列臺灣的何種狀態？  
(A)承天府是當時最重要的行政單位 (B)臺灣行政單位設立的先後  
(C)臺灣原住民的最大部落 (D)臺灣的海路交通要點。
34. ( )成上題，清領前期俗稱的「一府二鹿三艋舺」，代表早期臺灣開發的方向為何？  
(A)由南向北 (B)由東向西 (C)東西並進 (D)由北而南。
35. ( )北興國中圖書館清出了一份文件：「從北路諸羅以上，直到山後長達一千餘里的地方，漢族婦女不到數百人；南路由鳳山到琅璦以下長達四、五百里的地方，漢族婦女也不過數人而已。」請問：形成引文中現象的原因為何？ (A)社會風氣重男輕女，導致男女比例失衡 (B)漢族婦女多纏足，不適合墾殖的活動 (C)清廷頒布渡臺政策，禁止攜眷渡臺 (D)民變、械鬥頻繁，造成婦女傷亡慘重。
36. ( )附圖是臺灣與中國大陸對渡港口示意圖。請問：圖中甲港口應該是下列何者？



- (A)鹿耳門 (B)廈門 (C)鹿港 (D)八里坌。
37. ( )臺北市長候選人在爭辯臺灣歷史漢文化的發展，以凸顯自己對臺灣的了解——丁丁：「一直到清朝，漢人文化才在臺灣建立基礎。」柯P：「不！早在鄭氏時期，漢人文化已在臺灣奠下根基。」請問：柯P該舉下列哪一史實為證才足以支持自己的觀點？  
(A)鄭成功逐退荷蘭人 (B)鄭成功據臺反清  
(C)鄭克塽恢復對外貿易 (D)鄭經建孔廟設學校。
38. ( )清領前期，清廷調整臺灣行政區的方針與下列哪一件事關係最密切？ (A)皇帝隨興決定 (B)外商貿易範圍拓展 (C)各地治安好壞 (D)政府財政稅收多寡。
39. ( )清領前期，中國大陸商人若要來臺進行合法的貿易，最初只能經由哪一個通商口岸？  
(A)鹿港 (B)艋舺 (C)打狗 (D)鹿耳門。
40. ( )鄭成功曾宣諭：「東都明京，開國立家，可為萬世不拔基業。本藩已手闢草昧，與爾文武各官及各鎮大小將領……，總必創建田宅等項，以遺子孫計。」請問：上文中的「東都明京」所指為何？ (A)澎湖 (B)南京 (C)廈門 (D)臺灣。
41. ( )秀梅在收集臺灣史料時，發現一幅清代臺灣的古地圖，從圖中看到臺灣府及四縣二廳的建置，由此可知這應該是屬於下列哪一個時期的地圖？ (A)康熙年間 (B)雍正年間 (C)乾隆年間 (D)嘉慶年間。
42. ( )電影「艋舺」在臺灣掀起一股懷舊風潮，電影中的台詞「我只知道義氣！」也成為青少年模仿的語詞，更帶動了艋舺觀光發整，重現艋舺剝皮寮的往日風華。請問：艋舺的崛起是在哪階段？ (A)國際競爭時期 (B)清領時期 (C)鄭氏時期 (D)日治時期。
43. ( )以下是某書對臺灣的描述：「此時期臺灣居民不得與外國往來，而且統治者為了管制移民、稽查海盜，還限定臺灣與中國大陸的對渡港口。當時臺灣所輸出的稻米幾乎全部銷往福建及其附近地區，糖則主要運銷華中、華北和東北。」此時期由負責上述貨物運銷的商人所自行組成的組織，最可能是下列何者？

(A)海商 (B)郊 (C)倭寇 (D)海關。

44. ( )這個歷史人物被譽為「開臺文化祖師」，他因為行船遭遇颱風而定居臺灣，他在民間從事文教活動，至今臺南市善化區依然有許多他的紀念碑或相關紀念路名。上述歷史人物為下列何人？ (A)孔子 (B)郭懷一 (C)陳永華 (D)沈光文。

45. ( )自古以來與外國的貿易交流，一直是臺灣的經濟命脈，請問以下各時代自臺灣外銷的物品，何者配對錯誤？

(A)荷治：鹿皮 (B)鄭氏：稻米 (C)清領：蔗糖 (D)鄭氏：蔗糖。

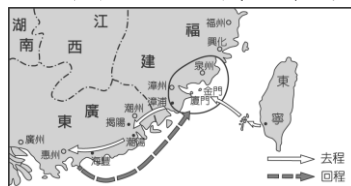
46. ( )清朝統治時期，臺灣曾出現一種稱為「郊」的組織，依其性質推斷，這種組織主要分布在附圖中何處？



(A)丁 (B)丙 (C)乙 (D)甲。

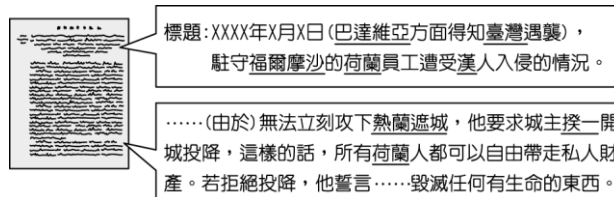
47. ( )今日高雄、屏東一帶，如果在鄭經時代，應該是隸屬下列哪一個地方行政機關？ (A)天興縣 (B)萬年縣 (C)天興州 (D)萬年州。

48. ( )允立在寫歷史研究報告時，描繪了一張征戰路線圖，他應該是研究哪一個歷史事件？



(A)施琅攻臺灣 (B)鄭經反清路線 (C)荷蘭人登臺 (D)鄭成功攻臺。

49. ( )從下圖中的訊息，有助於我們了解下列哪一主題？



(A)荷蘭驅逐西班牙在臺勢力 (B)熱蘭遮城的建立背景

(C)沈有容諭退韋麻郎的過程 (D)鄭氏政權的建立過程。

50. ( )為方便研究，我們常依不同特色或性質將歷史分為若干階段或時期，下列有關臺灣歷史分期的發展順序，何者正確？

(A)史前時代→清朝統治→明鄭統治→荷蘭統治 (B)荷蘭統治→清朝統治→明鄭統治→日本統治 (C)史前時代→清朝統治→荷蘭統治→日本統治 (D)荷蘭統治→明鄭統治→清朝統治→日本統治。