

## 一、選擇題 (60%)

1. 中國歷史上第一位被異族擄走的皇帝是？ (A) 周幽王 (B) 漢獻帝 (C) 晉懷帝 (D) 隋煬帝。
2. 電視劇《蘭陵王》以魏晉南北朝為歷史背景，驍勇善戰的貴族高長恭因長相俊美，出兵應戰時都要戴上鬼面具來威嚇敵軍，他的王朝不敵北周而滅亡，請問蘭陵王代表哪一政權？ (A) 陳朝 (B) 北魏 (C) 北齊 (D) 西魏。



3. 台灣長時間處於低薪高物價環境，但總是有政府官員不知民間疾苦，屢屢宣稱目前是台灣最繁榮幸福的年代，我們不得不給他一個“現代○○○”的頭銜，請問○○○指的是歷史上哪一位皇帝？ (A) 秦始皇 (B) 漢獻帝 (C) 北魏孝文帝 (D) 晉惠帝。
4. 熊大在《三國遊戲攻略》中看到建國者戰力介紹(如下圖)。根據介紹來看，這位人物應該是？ (A) 曹操 (B) 劉備 (C) 孫權 (D) 司馬炎。

	勢力範圍	長江中下游
	國力	其次
	滅國者	西晉
	亡國順序	最晚

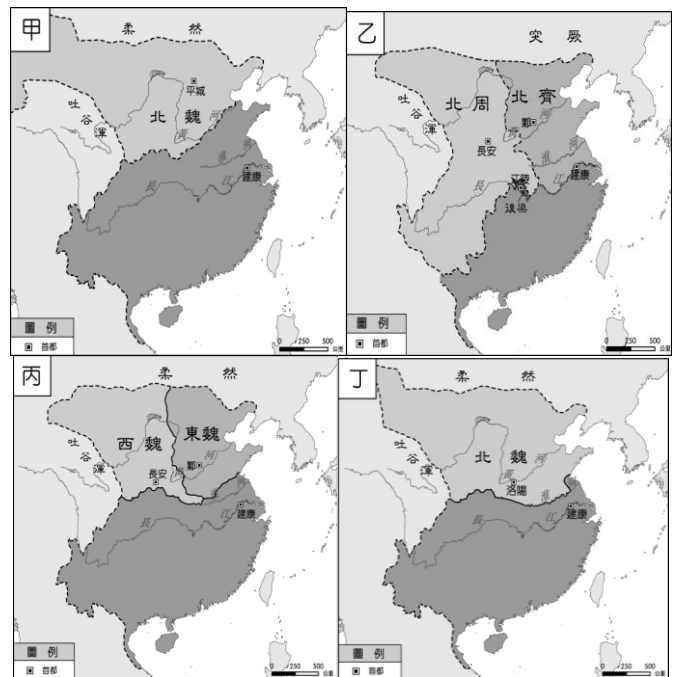
5. 盛唐詩人杜甫名作〈春望〉：「國破山河在，城春草木深，感時花濺淚，恨別鳥驚心，烽火連三月，家書抵萬金…」，杜甫所遭逢的亂事應該是？ (A) 安史之亂 (B) 八王之亂 (C) 黃巢之亂 (D) 黃巾之亂。
6. 「魏晉南北朝」時代的「魏」，以時序而言是指？ (A) 東魏 (B) 西魏 (C) 曹魏 (D) 北魏。
7. 曾因篤信佛教而三度出家，被稱之為菩薩皇帝的是哪一位？ (A) 東漢明帝 (B) 晉惠帝 (C) 梁武帝 (D) 武則天。
8. 詩人白居易《長恨歌》中的「在天願作比翼鳥，

在地願作連理枝」是在感歎哪一對歷史怨偶？

- (A) 吳三桂與陳圓圓 (B) 周幽王與褒姒 (C) 呂布與貂蟬 (D) 唐玄宗與楊貴妃。
9. 中國歷史發展有關“秦漢”與“隋唐”常被拿來比對一番，有關秦朝與隋朝的比較，以下圖表哪位同學的敘述全對？ (A) 萱萱 (B) 成瑋 (C) 小琪 (D) 勇慶。

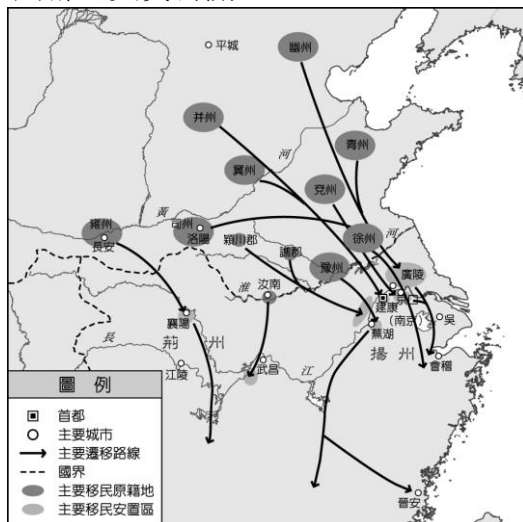
	項目	秦	隋
萱萱	建國者	秦始皇	隋煬帝
成瑋	重要性	統一六國，結束戰國時代	南下滅梁，結束南北朝分裂
小琪	重要工程	馳道、長城	新都、運河
勇慶	繼起政權	東漢	唐

10. 超愛看課外讀物的依玄特別崇拜武則天，特別在歷史課介紹武則天的生平，請問以下哪一段敘述有錯誤？ (A) 是唐高宗的皇后 (B) 稱帝改國號為周 (C) 重用世族維持盛世狀況 (D) 是中國歷史上唯一女皇帝。
11. 安琦參加美術社立志要成為畫家，特別對中國唐朝畫作有興趣，請問安琦該學習誰的作品？ (A) 杜甫 (B) 顏真卿 (C) 吳道子 (D) 王羲之。
12. 歷史課正介紹中國歷史上最紛亂的時代，貼了四幅地圖(如下圖)在黑板上，請同學上臺將地圖依時間順序排列，正確應為何？



- (A) 甲乙丙丁 (B) 甲丙丁乙 (C) 甲丁丙乙 (D) 丙甲丁乙。

- 13.有關唐朝中後期的衰敗，下列敘述何者錯誤？  
 (A)武則天稱帝造成中國分裂 (B)安史之亂造成藩鎮割據 (C)牛李黨爭使宦官坐大 (D)朱溫平定黃巢之亂後篡唐建梁。
- 14.唐朝海上經濟活動十分興盛，商人們集中於廣州進行貿易，而這些從事貿易的外國商人，主要以哪類人居多？ (A)日本商人 (B)歐洲商人 (C)阿拉伯商人 (D)台灣原住民。
- 15.三國演義開頭：「天下大勢，合久必分，分久必合」，請問中國歷史的發展歷程，請選出正確敘述？ (A)秦始皇結束西周統一天下 (B)劉秀結束楚漢相爭建立漢朝 (C)楊堅結束春秋戰國時代建立隋朝 (D)司馬炎結束三國時建立晉朝。
- 16.下圖是中國某一時期北方世家大族大舉南遷。請問：根據圖中的路線來判斷，這應該是下列哪一史實有關？



- (A)安史之亂 (B)黃巢之亂 (C)黃巾之亂 (D)永嘉之禍。
- 17.魏晉南北朝流行玄學，請問三玄是指哪三本書？ (A)《論語》、《孟子》、《大學》 (B)《老子》、《莊子》、《荀子》 (C)《莊子》、《孟子》、《易經》 (D)《易經》、《莊子》、《老子》。
- 18.享譽中外的佛教藝術寶窟，請問是興建於哪個時期？ (A)東漢 (B)魏晉南北朝 (C)隋朝 (D)唐朝。



- 19.故宮曾展出的「天可汗的世界」透過虛擬實境，參觀者可進入當年全世界最大最繁華的國際都市，了解當代生活制度、行旅、宗教等方面。請問此都市是？ (A)建康 (B)長安 (C)洛陽 (D)廣州。
- 20.承上題，將唐朝國勢推向高峰，這位皇帝對外有天可汗頭銜，對內也開創了哪一盛世？ (A)開元之治 (B)開皇之治 (C)文景之治 (D)貞觀之治。
- 21.寶雲在研究中國朝代的興衰史(如下圖)，請問她研究的朝代有可能是？ (A)秦代 (B)漢代 (C)隋代 (D)唐代。



- 22.歷代中央用人選才的制度，常影響人民對政府向心力的程度，試就以下制度依時間順序排列：甲.科舉制度 乙.九品官人法 丙.禪讓制度 丁.察舉制度 (A)丙丁甲乙 (B)丙乙丁甲 (C)丙丁乙甲 (D)甲乙丙丁。
- 23.唐朝國際貿易繁榮發達，首先在廣州設置哪一單位專責海關事務？ (A)巡檢司 (B)市舶司 (C)安撫司 (D)海巡署。
- 24.傑哥製作表格比較有關安史之亂與黃巢之亂的差異，請問下列何者正確？


選項	安史之亂	黃巢之亂
(甲)發生時間	唐太宗	唐玄宗
(乙)為亂區域	黃河南北一帶	長江流域以南
(丙)亂事性質	人民造反	將領叛亂
(丁)影響	唐國勢由盛而衰	破壞江南經濟

- (A)甲 (B)乙 (C)丙 (D)丁
- 25.中國歷史發展有所謂的「六朝」，請問下列敘述何者「錯誤」？ (A)皆定都在今天的南京 (B)皆位於南方 (C)皆著重胡漢的融合 (D)皆有助於江南的經濟開發。
- 26.唐太宗曰：「夫以銅為鏡，可以正衣冠；以古為鏡，可以知興替；以人為鏡，可以明得失。朕常保此三鏡，以防己過。今 \_\_\_\_ 殂逝，逐

亡一鏡矣。」請問唐太宗的這段話在感慨何人的去世？(A)楊貴妃 (B)玄奘 (C)唐高宗(D)魏徵。

27.中國宗教研討會邀約許多外國宗教專家學者前來與會，請問下列哪一教是中國本土宗教？(A)佛教 (B)道教 (C)回教 (D)景教。

28.請問歷史上哪位皇帝實行下圖的諸多改革？(A)唐太宗 (B)漢武帝 (C)隋文帝 (D)北魏孝文帝。

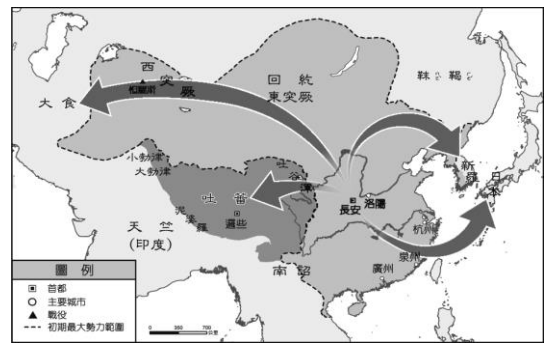


29.下圖為日本文字與中國漢字的關係示意圖。請問：日本文字的「片假名」是採取漢字哪一種字體的偏旁而來？

ハ	奈	多	加	阿	片假名
ハ	ナ	タ	カ	ア	
利	比	仁	千	伊	平假名
リ	ヒ	ニ	チ	イ	
波	奈	太	加	安	
ハ	ナ	タ	カ	ア	
利	比	仁	知	以	
リ	ヒ	ニ	チ	イ	

(A)楷書 (B)隸書 (C)篆書 (D)草書。

30.唐朝是中世紀東亞最強盛的國家，唐朝的盛世，統治者正確排序何者正確？(A)太宗→高宗→武后→玄宗 (B)太宗→玄宗→武后→高宗(C)太宗→武后→高宗→玄宗 (D)武后→高宗→太宗→玄宗。



- 31.「謙謙君子，溫潤如玉」這個國家致力於學習唐朝文化，唐朝稱之為「君子國」，請問這個國家是？(A)日本 (B)新羅 (C)吐蕃 (D)大食。
- 32.藏傳佛教信徒眾多，請問佛教傳入西藏，與下列哪位歷史人物有關？(A)張騫 (B)班超 (C)楊貴妃 (D)文成公主。
- 33.唐玄宗時期對外戰爭怛羅斯之役，請問此戰役造成哪一項技術西傳？(A)造紙術 (B)印刷術 (C)醫術 (D)指南針。
- 34.怛羅斯之役是唐朝與大食帝國的戰爭，請問「大食」指的是？(A)羅馬帝國 (B)阿拉伯帝國 (C)亞歷山大帝國 (D)波斯帝國。
- 35.唐朝文化兼容並蓄，請問下列哪一宗教不是在唐朝傳進中國？(A)佛教 (B)伊斯蘭教 (C)景教 (D)摩尼教。

(二) 附圖為三國鼎立形勢圖，請問：  
(36 至 40 題)



- 36.三國立國的先後順序為何？(A)甲→乙→丙 (B)乙→丙→甲 (C)甲→丙→乙 (D)丙→甲→乙。
- 37.魏、蜀、吳三國鼎立的局面，是在哪一事件後正式形成？(A)黃巾之亂 (B)赤壁之戰 (C)八王之亂 (D)玄武門之變。
- 38.三國亡國的先後順序為何？(A)甲→乙→丙 (B)乙→丙→甲 (C)甲→丙→乙 (D)丙→甲→乙。

## 二、整合題 (40%)

(一) 唐朝在中國歷史上是相當國際化的政權，除了國際貿易發達外，對於外來文化包容性高，也能將大唐文化廣傳四方。請依下圖回答問題 (31 至 35 題)

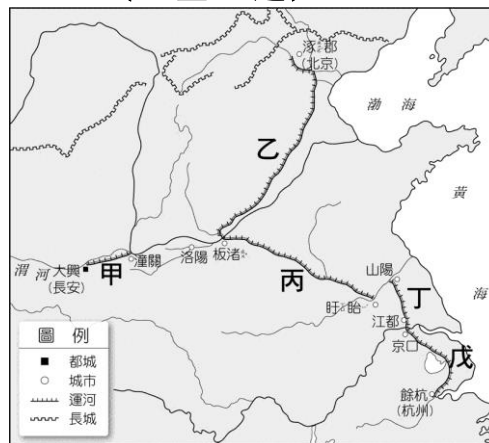
39. 哪位帝王結束了三國以來的分裂局面？ (A) 司馬炎 (B) 司馬睿 (C) 劉裕 (D) 楊堅。  
 40. 東漢的正式滅亡，哪件史實是關鍵？ (A) 曹操挾天子令諸侯 (B) 曹丕稱帝建魏 (C) 劉備稱帝建漢 (D) 黃巾之亂群雄割據。

(三) 佳恩十分崇拜魏晉之際的風流人物「竹林七賢」，立志效法他們的言行舉止。請回答下列問題 (41 至 45 題)



41. 依據史書記載，竹林七賢崇尚自然，反禮教且行為荒誕頹廢。下列哪句話最能反映當時他們的行事風格？ (A) 倡導經學，經世致用 (B) 超脫現實，高談哲理 (C) 文以載道，獨尊儒術 (D) 重視名譽，謹守禮法。  
 42. 造成竹林七賢行為舉止不受拘束的主要原因為何？ (A) 各國國君提倡清靜無為的黃老治術 (B) 世族家教頗為自由，放任子弟追求自我 (C) 政治社會情況混亂，士人選擇逃避現實 (D) 佛、道教傳播迅速，出家風氣盛行。  
 43. 他們聚集在一起談論道理時，最可能參考下列哪部書籍？ (A) 孟子 (B) 莊子 (C) 史記 (D) 論語。  
 44. 養尊處優的書香世家、經學世家，形成期是在哪個朝代？ (A) 東周 (B) 東漢 (C) 西晉 (D) 隋朝。  
 45. 世族的凋零沒落，請問是與哪個制度的實施有關？ (A) 九品官人法 (B) 科舉制度 (C) 察舉制度 (D) 禪讓制度。

(四) 下圖為隋朝運河圖，請回答下列問題：  
 (46 至 50 題)



46. 運河乙通往北方，作為遠征高麗具有軍事功能的運河是？ (A) 通濟渠 (B) 永濟渠 (C) 廣通渠 (D) 江南河。  
 47. 運河甲具有首都與黃河運輸補給功能，請問是哪條運河？ (A) 通濟渠 (B) 邗溝 (C) 永濟渠 (D) 廣通渠。  
 48. 哪幾條運河是隋煬帝為了想要巡遊江南而修建的？ (A) 甲乙丙 (B) 甲丙丁 (C) 乙丙丁 (D) 丙丁戊。  
 49. 運河的開鑿與使用，對於隋唐朝貢獻最大的是在哪方面？ (A) 政治 (B) 經濟 (C) 國防 (D) 社會秩序。  
 50. 目前仍在使用的京杭大運河(北京~杭州)，主要是連接哪幾條運河？ (A) 甲乙丙丁 (B) 甲丙丁戊 (C) 乙丙丁戊 (D) 丙丁戊。