

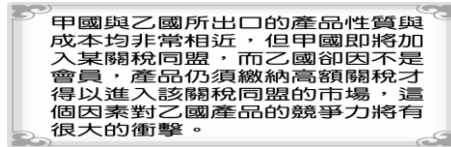
一、單一選擇題：每題2分

1. ()兩大連鎖通路業者，近期分別推出會員招待會和破盤特賣，降價搶客互相較勁意味濃厚。當降價活動開始之後，消費者便瘋狂搶購。從經濟學角度來看，價格是由何者決定的？ (A)生產者 (B)消費者 (C)市場機能 (D)政府。
2. ()王先生打算賣有機蔬菜，朋友建議他可以在各種通路鋪貨，哪一個朋友建議的通路是「無形市場」？ (A)小芬：百貨公司的超級市場很適合這種商品 (B)小珊：在捷運出入口開專賣店，可吸引上班族目光 (C)小文：可在傳統市場擺攤，試試消費者的接受程度 (D)小蕙：利用網路販售，可以節省租金成本。
3. ()阿峰擺攤賣水蜜桃，廣告看板上標明「一斤200元」，結果乏人問津。據此判斷，均衡價格可能是多少元？ (A)180元 (B)200元 (C)210元 (D)220元。
4. ()陳師傅在麵包大賽奪得冠軍後自行開店，許多民眾因媒體報導而指名訂購冠軍麵包。雖然冠軍麵包的製作過程並不費時，不過陳師傅堅持麵包必須由他親手製作，因此顧客們常要等候數天才能拿到。下列關於上文的敘述何者正確？ (A)市場上冠軍麵包的供給量小於需求量 (B)陳師傅開的麵包店屬於生產要素市場 (C)冠軍麵包的價格將會因產量增加而下降 (D)民眾搶購冠軍麵包的現象符合需求法則。
5. ()希研到美妝店購物，最後拿出信用卡刷卡付費。以下對信用卡的認知，何者正確？ (A)由中央銀行發行 (B)只是延遲支付的工具 (C)屬於法定貨幣 (D)被稱為商品貨幣。
6. ()李安導演於國內取景拍攝的電影獲得國外大獎，國內民眾不僅與有榮焉，也以進電影院看電影的實際行動來支持他。請問：若從經濟活動循環運作情形分析，下列敘述何者正確？ (A)電影的票房稱為銷貨收入 (B)演員所領取的酬勞稱為生產成本 (C)租借拍攝場地的費用稱為消費支出 (D)民眾購買電影周邊商品支付的錢稱為所得。
7. ()當甲、乙兩人使用同樣資源生產同一件產品時，甲的產量比乙多，代表甲符合下列何項概念？ (A)比較利益 (B)絕對利益 (C)需求法則 (D)供給法則。
8. ()臺灣在民國91年正式成為世界貿易組織(WTO)的成員後，消費者所面對的應是下列哪一種情況？ (A)消費者在購買電器時，可選擇的品牌變少 (B)消費者覺得臺灣什麼都買得到，不必遠赴國外購物 (C)消費者必須以較高的價格購買進口商品 (D)外國商品大量進口，消費者將難以買到本國的商品。
9. ()以下是兩夫妻的對話，夫：「不管做任何家事，我的效率都比妳好。」妻：「這麼說來，家事應該都留給你做，我在旁休息就好。」根據以上的對話，妻子的說法合理嗎？理由為何？ (A)合理，符合絕對利益的分工 (B)合理，符合比較利益的分工 (C)不合理，不符合絕對利益的分工 (D)不合理，不符合比較利益的分工。
10. ()小岩、小太與小冬三人，以同時段由其中二人工作的方式輪班生產饅頭與包子，且每人一次只負責生產一項產品，附表為他們的產能狀況。若小太與小岩搭檔生產時，小岩在生產饅頭上具有比較利益；而小太與小冬搭檔生產時，小冬在生產包子上具有比較利益，根據表中資料判斷，甲最可能為下列何者？

	饅頭	包子
小岩	50	40
小太	40	甲
小冬	25	25

(A)25 (B)30 (C)35 (D)40。

11. ()附圖是甲、乙二國在國際貿易競爭現況的分析。根據內容判斷，文中所指不利乙國產品競爭力的原因，最可能是下列何者？



- (A)生產要素不足 (B)商品售價較高 (C)區域統合瓦解 (D)勞動所得增加。
12. ()附表為四個國家一年來的進、出口資料。根據內容判斷，哪一個國家該年出現「貿易逆差」？

	甲國	乙國	丙國	丁國
出口項目(種)	288	760	450	899
進口項目(種)	355	1,000	300	763
出口總值(億美元)	263	650	163	798
進口總值(億美元)	440	612	140	687

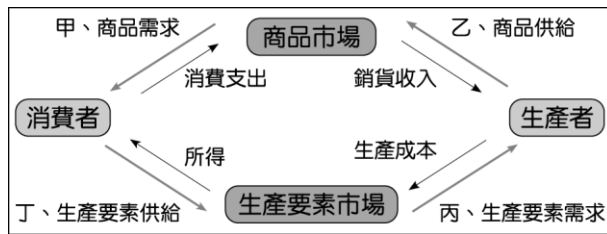
- (A)甲國 (B)乙國 (C)丙國 (D)丁國。
13. ()陳爸爸看完新聞後，有感而發地說到：「新臺幣愈來愈不值錢了！」根據此說法，下列哪項敘述為事實？ (A)有利於我國出口業者 (B)有利於我國民眾出國旅遊消費 (C)新臺幣呈現升值趨勢 (D)持相同金額的新臺幣可以兌換更多外幣。
14. ()所謂「行行出狀元」或「天生我才必有用」，是符合哪一種經濟學的觀念？ (A)資源有限 (B)機會成本 (C)比較利益 (D)供給法則。
15. ()明仁是一家電腦公司的老闆，憲雄是公司員工，月薪4萬元，憲雄近日推銷一部電腦給其好友阿亮，以5萬元成交。下列敘述何者正確？ (A)明仁是公司老闆：生產要素市場供給者 (B)憲雄是公司員工：生產要素市場需求者 (C)月薪4萬元：憲雄的消費支出 (D)阿亮付5萬元買電腦：明仁的銷貨收入。
16. ()下列為四位同學對比較利益法則的理解，何者觀念正確？ (A)小芬：每個國家只進口本國具比較利益的產品 (B)小珊：價格低多買即是符合比較利益法則 (C)小文：比較利益法則是分工的基礎 (D)小蕙：比較利益法則運用的是絕對優勢。
17. ()小新和媽媽逛夜市時看到動感超人模型，就吵著要買，媽媽看到價錢不貴，200元有找，於是拿出500元給老闆支付所購買的東西。請問：媽媽此一支付行為屬於貨幣的哪一項功能？ (A)價值衡量 (B)交易媒介 (C)債務清償 (D)價值儲存。
18. ()今年柑橘大豐收，市場上柑橘供過於求。阿雲利用假日去探視種柑橘的爺爺，她在街上不會看到下列何種情形？ (A)沿路好多柑橘攤販 (B)果園旁的告示牌寫著「歡迎觀光採果，敬請內洽」 (C)柑橘掉落一地無人採收 (D)到處張貼應徵採柑橘的臨時工人。
19. ()臺灣的3C電子產品、瑞士的勞力士手錶、德國的雙B高級轎車，在國際市場上都受到消費者的肯定。這是將何項經濟學原理充分發揮的結果？ (A)絕對利益 (B)受益原則 (C)比較利益 (D)供需法則。
20. ()某官員在接受質詢時說：「近來因國際投資客將大筆資金投入我國金融市場，使得新臺幣相對美元大幅升值，為避免過度升值對我國出口貿易產生不利影響，我們將會適時介入影響新臺幣的匯率、控制貨幣數量，以維持物價的穩定。」下列何者最有可能是上述官員任職的政府機關？ (A)財政部 (B)經濟部 (C)臺灣銀行 (D)中央銀行。
21. ()每逢情人節，玫瑰花的價格總是飆漲，造成此種情況的原因為何？ (A)通貨膨脹 (B)考驗消費者經濟能力 (C)商人故意提高售價，以降低需求量 (D)玫瑰花的需求暴增。
22. ()某國受風災影響，有些種類的蔬菜產量減少導致價格飆漲，故該國政府採取下列措施以調節菜價

，其中何者最可能是為了直接影響需求層面而提出的對策？(A)增加國外進口蔬菜的數量 (B)相關單位釋出庫存的蔬菜 (C)呼籲民眾改吃其他蔬菜 (D)獎勵農民儘速復耕農作。

23. ()在經濟活動循環過程中，生產者支付的生產成本，就是下列哪一項？(A)消費者的消費支出 (B)消費者的所得 (C)生產者的銷貨收入 (D)消費者的利潤。
24. ()面對買氣的低迷，國內各大電器品牌祭出折扣戰，各家業者紛紛將價格殺到最低點，消費者儼然成了大贏家。請問：關於上述現象，下列說明何者正確？(A)市場需求量與市場供給量相等 (B)市場供給量大於市場需求量 (C)市場需求量大於市場供給量 (D)此時消費者會考慮減少消費數量。
25. ()目前我國由哪一個金融機構負責發行貨幣？(A)中央信託局 (B)臺灣銀行 (C)中央銀行 (D)合作金庫。
26. ()外電報導：「日本首相採貨幣寬鬆政策，造成日圓不斷貶值。」根據以上內容判斷，下列敘述何者正確？(A)日圓貶值，有利於日本進口外國商品 (B)日圓貶值，有利於他國出口商品至日本 (C)日圓貶值，有利於日本人至他國觀光 (D)日圓貶值，有利於外國人至日本觀光。
27. ()下列何者是「統制經濟制度」的特徵？(A)經濟活動由看不見的手主導 (B)政府不干預經濟活動 (C)資源可以有效率地被運用 (D)財產大多為公有。
28. ()當一國的出口總額大於進口總額時，則該國的貿易收支將呈現何種情況？(A)貿易平衡 (B)貿易逆差 (C)貿易入超 (D)貿易出超。
29. ()「網路人力銀行」近年來成為個人求職與廠商徵才的重要管道。請問：在經濟活動循環圖中，「人力銀行」扮演何種角色？(A)生產者 (B)消費者 (C)生產要素市場 (D)商品市場。
30. ()通貨膨脹發生時，會出現哪些狀況？(甲)老闆惜售商品(乙)儲蓄意願降低(丙)民眾搶購、囤積物資(丁)人民對本國貨幣的信心增加(戊)對領固定薪水的人來說，實質所得降低 (A)甲乙丙丁 (B)甲乙丙戊 (C)乙丙丁戊 (D)甲丙丁戊。
31. ()由一個地區或國家專門生產某類商品或提供某種服務，然後再進行地區與地區或國家與國家之間的商品交易活動，稱為什麼？(A)國際公約 (B)產業分工 (C)國際合作 (D)國際貿易。
32. ()關於我國經濟發展現況的敘述，下列何者錯誤？(A)勞力密集產業具有比較利益 (B)資本及技術密集產業具有比較利益 (C)經濟發展以高科技產業為重心 (D)不少國內業者積極轉型，自創品牌，以提升國際競爭力
33. ()在一個國家中，貨幣價值的高低，是以哪一項標準來衡量的？(A)國民所得的高低 (B)貨幣的製作成本 (C)國民存款金額的多寡 (D)貨幣所能購買的商品數量。
34. ()下列何者因其本身就是商品，具有價值，所以被視為「商品貨幣」？(A)儲值卡 (B)黃金 (C)紙鈔 (D)信用卡。
35. ()依依在網路商店上看到一件標價 500 元的洋裝，有些心動。上述顯現出貨幣的哪一項功能？(A)交易媒介 (B)價值儲存 (C)價值衡量 (D)債務清償。
36. ()關於外匯的敘述，下列何者正確？(A)可以作為國際支付工具的外國貨幣 (B)指國與國之間貨幣的兌換比率 (C)代表不同國家之間的商品交易活動 (D)指該年度某商品之進出口總額。
37. ()阿彰每天放學到飲料店買珍珠奶茶，若依市場形體的有無區分，則飲料店是屬於哪一種市場？(A)商品市場 (B)有形市場 (C)生產要素市場 (D)無形市場。

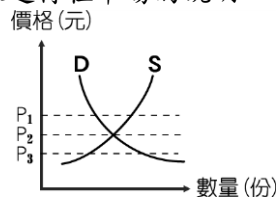
二、題組：每格 2 分

1. 請根據附圖中甲、乙、丙、丁的代號，回答下列問題：



- () (38) 欣欣大學畢業後，參加就業博覽會，想要找工作。上述內容代表圖中何者？ (A) 甲 (B) 乙 (C) 丙 (D) 丁。
- () (39) 花媽到便利商店買鮮奶與麵包，作為家人的早餐。上述內容代表圖中何者？ (A) 甲 (B) 乙 (C) 丙 (D) 丁。
- () (40) 洗髮店在店門口刊登徵人啟事，誠徵設計師及助理數名。上述內容代表圖中何者？ (A) 甲 (B) 乙 (C) 丙 (D) 丁。
- () (41) 天使餐廳推出無菜單料理，搶攻消費市場。上述內容代表圖中何者？ (A) 甲 (B) 乙 (C) 丙 (D) 丁。
2. 福氣國今年國內旅遊行程價格居高不下，乏人問津，但國外旅遊行程由於廉價航空興起，價格降低許多，以致一位難求。請問：

- () (42) 根據上文，對於福氣國國內旅遊行程市場的敘述，下列何者正確？ (A) 處於市場均衡狀態 (B) 供給量與需求量相等 (C) 生產者應調高價格 (D) 呈現供過於求的狀況。
- () (43) 根據附圖，對於福氣國國外旅遊行程市場的說明，下列何者正確？



- (A) 處於市場均衡狀態 (B) 價格應為圖中 P_1 (C) 價格應為圖中 P_3 (D) 市場現已達到均衡價格 P_2 。
3. 附表是阿文和阿峰每天製作饅頭和包子的情形。請問：

	饅頭	包子
阿文	2 個	4 個
阿峰	3 個	8 個

- () (44) 誰製作「饅頭」享有絕對利益？ (A) 阿峰 (B) 阿文 (C) 兩人同時具有 (D) 無法判斷。
- () (45) 誰製作「包子」享有絕對利益？ (A) 阿峰 (B) 阿文 (C) 兩人同時具有 (D) 無法判斷。
- () (46) 阿文製作一個「饅頭」的機會成本為何？ (A) $\frac{2}{3}$ 個包子 (B) $\frac{1}{2}$ 個包子 (C) 2 個包子 (D) $\frac{8}{3}$ 個包子。
- () (47) 誰製作「包子」享有比較利益？ (A) 阿峰 (B) 阿文 (C) 兩人同時具有 (D) 無法判斷。
- () (48) 阿峰與阿文該如何分工，對兩人最有利？ (A) 兩種都由阿峰做 (B) 兩種都由阿文做 (C) 阿文做饅頭 (D) 阿峰做饅頭。
4. 臺灣的經濟倚賴國際貿易的程度很深，假設某年 1 美金可兌換新臺幣 33 元，請問：
- () (49) 若我國出口一臺售價新臺幣 33,000 元的筆記型電腦到美國，則一臺筆記型電腦在美國的售價為多少美金？ (A) 1,000 美金 (B) 1,100 美金 (C) 10,000 美金 (D) 11,000 美金。
- () (50) 假使 1 臺定價 1,000 美金的自行車，我國廠商需出貨 1,000 臺，而當新臺幣升值為 1 美金可兌換新臺幣 30 元時，將比之前 1 美金兌換新臺幣 33 元時多賺或少賺多少新臺幣？ (A) 多賺 3,000 元 (B) 少賺 3,000 元 (C) 多賺 3,000,000 元 (D) 少賺 3,000,000 元。