

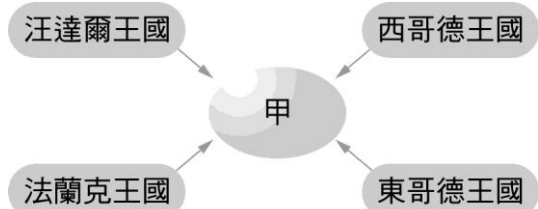
嘉義市立北興國民中學107學年度第一學期第二次段考歷史科三年級\_\_班\_\_號 姓名：\_\_\_\_\_

一、選擇題 每題3分 共90分

1、( )「西元 989 年，俄羅斯的基輔大公弗拉基米爾將與安娜公主聯姻，大公不僅自己接受希臘正教信仰，也強迫俄國人跳下河受洗。」上述的「安娜公主」可能是哪一帝國的公主？ (A)波斯帝國 (B)查理曼帝國 (C)神聖羅馬帝國 (D)拜占庭帝國。

2、( )十字軍東征主要是下列哪兩者之間的戰爭？ (A)波斯帝國與阿拉伯帝國的戰爭 (B)神聖羅馬帝國與東羅馬帝國的戰爭 (C)基督教教徒與伊斯蘭教教徒的戰爭 (D)羅馬公教與希臘正教的戰爭。

3、( )如附圖所示為中古各國家概況，而「甲」是某民族。請問：「甲」應是下列何者？

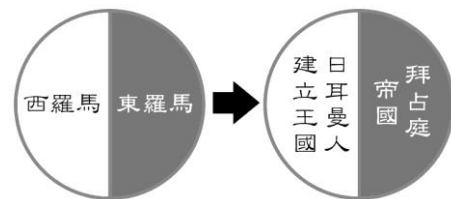


(A)匈奴人 (B)日耳曼人 (C)阿利安人 (D)拉丁人

4、( )中國西周時期和中古西歐都有施行封建，請問有關兩者的敘述有何錯誤？

(A)皆以土地為分封基礎 (B)皆是以集體耕種的方式為經濟基礎 (C)權力集中君王手上 (D)附庸皆須對領主盡義務

5、( )由附圖的演變內容判斷，這與下列何事件有關？



(A)斯拉夫入侵 (B)匈奴入侵 (C)土耳其入侵 (D)阿拉伯入侵

6、( )下列法蘭克王國與拜占庭帝國的比較，何者有誤？

國 家	法蘭克王國	拜占庭帝國
(甲)著名君王	查理曼	查士丁尼
(乙)最大疆域	今日西歐大部分地區	跨歐、亞、非三洲
(丙)通行文字	希臘文	拉丁文
(丁)宗教領袖	羅馬教宗	拜占庭皇帝

(A)甲 (B)乙 (C)丙 (D)丁

7、( )國三生堂堂對於研究世界宗教非常有興

趣，一次發現伊斯蘭教與基督教、佛教有一些共同點請問以下何者為其共同點。(A)經典都是聖經 (B)創立者都來自阿拉伯 (C)發源地都位於亞洲 (D)飲食上都有限制食用豬肉

8、( )十六世紀以後，歐洲出現許多大型城市，城市中哪一階層的人成為日後歐洲變革的主要動力？

(A)地主階級 (B)貴族階級 (C)市民階級 (D)農民階級

9、( )拜占庭帝國屹立於東方千年之久，拜占庭文化對四周的民族有深遠的影響，最重要的影響是下列何者？ (A)教化了日耳曼民族 (B)將基督教傳入中國 (C)影響斯拉夫民族文化 (D)將伊斯蘭教傳入西方。

10、( )辰辰參加一個土耳其旅遊團，導遊介紹附圖的建築，並說明它原本是基督教教堂，因為被伊斯蘭教教徒占據而被改成清真寺，現在則成為博物館。請問：這建築物被什麼人改成清真寺？



(A)法蘭克王國 (B)塞爾柱土耳其 (C)波斯帝國 (D)鄂圖曼土耳其。

11、( )在中世紀後期，歐洲最重要的社會變化為何？ (A)封建制度盛行 (B)市民階級的興起 (C)莊園經濟發達 (D)工業革命的興起。

12、( )十三世紀的某場重大戰役不僅造成政治上的劇變，對東西的文化交流有很大的影響，此後許多中國的科技陸續傳入歐洲。請問：這應該是以下哪一場戰爭？

(A)十字軍東征 (B)亞歷山大東征 (C)蒙古西征 (D)怛羅斯之役

13、( )下列何者不屬於文藝復興時期的方言文學？

(A)但丁的《神曲》 (B)莎士比亞的《羅密歐與茱麗葉》 (C)塞凡提斯的《唐吉訶德》 (D)馬丁路德的《九十五條論綱》

14、( )阿拉伯人靠著伊斯蘭教凝聚勢力，建

立了地跨歐、亞、非三洲的大帝國，其亞洲東部疆域，部分與中國為鄰，伊斯蘭教因而傳入中國。請問：此時相當於中國的哪一個朝代？（A）唐朝（B）漢朝（C）明朝（D）清朝

■ 阿邦和阿恩參觀奇美博物館舉辦的《甦醒的讚嘆》展覽，發現展覽中的藝術品其實有共同主題，附圖是阿邦特別感興趣的展覽品。請問：15,16,17



圖一

圖二

圖三

15、（ ）根據阿邦有興趣的展覽品判斷，此展覽副標題最可能為何？

(A)中世紀的基督教畫作 (B)拜占庭的藝術之美 (C)地理大發現的稀世珍寶 (D)文藝復興運動的不朽藝術。

16、（ ）阿邦的同學阿恩好奇的問著圖一中女子好像課本中的圖片，請同學幫忙找出作者是？(A)米開朗基羅 (B)喬叟 (C)拉斐爾 (D)達文西

17、（ ）導覽員說明著這三幅圖表現出當時的某種精神表現，請同學想想看是哪一種精神？

(A)自由主義 (B)民主主義 (C)博愛精神 (D)人文主義

18、（ ）英法百年戰爭初期，法軍節節敗退。後來，某少女帶領法軍獲得數場勝利，而該少女被英軍俘虜且以巫女的身分活活燒死後，激起了法國人民的愛國心，終將英軍趕出法國境內。請問：該少女是誰？

(A)珍娜 (B)貞德 (C)莫妮卡 (D)貝瑞

19、（ ）地理大發現時代，歐洲的葡萄牙最初通往東方的航路是哪一條路線？(A)沿非洲西岸經好望角，到達印度 (B)由歐洲西航，橫渡大西洋，經美洲，抵達印度 (C)由大西洋，穿越美洲南端，入太平洋到中國 (D)沿地中海，經印度洋，抵達印度。

20、（ ）阿銳根據老師上課內容，將基督教的發展歷程整理為下列表格，但其中有哪一項寫錯

了？

	第一次基督教分裂	第二次基督教分裂
時間	1054 年	1517 年
原因	爭奪領導權	教會奢靡腐敗
形成	天主教、東正教	新教、舊教
傳布	東正教傳入東歐、俄羅斯	新教盛行於南歐地區

(A)時間 (B)原因 (C)形成 (D)傳布。

21、（ ）下列是伊比利半島十五世紀中葉的形勢圖，原本五個主要國家，在卡斯提爾與亞拉岡兩國聯姻，並驅逐伊斯蘭教勢力後，半島上僅剩下兩國。下列何者是其演變後的形勢圖？



(A)



(B)



(C)

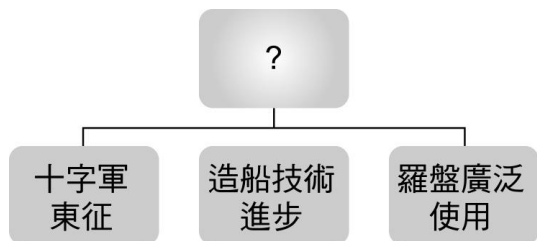


(D)

22、（ ）在新大陸被發現後，地中海已經不能滿足海上探險家。請問：這時候的西方文明發展重心已經從地中海轉換到哪裡？

(A)太平洋 (B)印度洋 (C)北海 (D)大西洋

23、（ ）為了幫助學生記憶，小毅老師辛苦製作以下輔助教學圖表，以便運用於課堂教學。請問：小毅老師所準備的課程為何？



(A)文藝復興運動 (B)科學革命 (C)海外拓殖  
(D)蒙古西征

24、( ) 十六世紀時，歐洲各地掀起宗教改革，最後宗教改革產生怎樣的結果？

(A)使基督教世界真正統一 (B)各國政府紛紛制訂嚴苛的宗教法，並確立國教 (C)發生了多次的宗教戰爭 (D)宗教改革阻礙了教育的發展

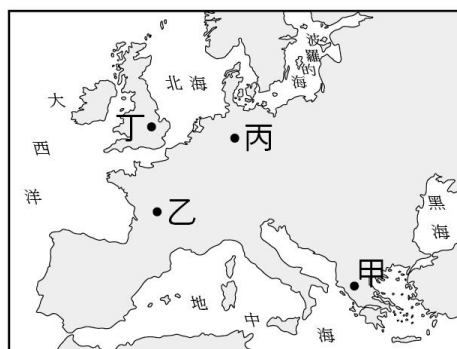
25、( ) 明末清初來華的教士，如利瑪竇、湯若望等人為哪一個教派的教士？

(A)羅馬公教 (B)路德教派 (C)喀爾文教派  
(D)英國國教派

26、( ) 小曼撰寫有關地理大發現的報告，蒐集的資料內容如下：(甲)抵達美洲新大陸(乙)首先繞航地球一周(丙)首先開始尋找新航線(丁)發現好望角。請問：上列哪些是西班牙海外拓殖的內容？ (A)丙丁 (B)甲丁 (C)甲乙 (D)甲丙。

27、( ) 在地理大發現時代，有位探險家認為自己發現通往印度的新航線，並將當地原住民稱為「印第安人」。請問：這位探險家應該是何者？  
(A)哥倫布 (B)麥哲倫 (C)亞美利哥 (D)達伽馬

28、( ) 神父：「大事不好了，有位教士竟在教堂大門公開張貼質疑教會的斂財作為。」教宗：「大膽！將此人帶回羅馬教廷接受責罰。」教宗應派人到附圖何地處理此事？



(A)甲 (B)乙 (C)丙 (D)丁

29、( ) 阿嘉把中外歷史的盛世時代作成附表，其中哪一項是正確的？

朝代	盛世代表
(甲)唐朝（中國）	貞觀之治、開皇之治
(乙)清朝（中國）	康熙嘉盛世
(丙)亞歷山大帝國	屋大維時代
(丁)東羅馬帝國	查士丁尼時代

(A)甲 (B)乙 (C)丙 (D)丁。

30、( ) 西元 1337~1453 年，歐洲進行了一場漫長的戰爭，是為「百年戰爭」，此戰役是因為什麼原因而爆發戰爭？(A)爭奪教會的領導權 (B)爭奪貿易的控制權 (C)爭奪王位的繼承權 (D)爭奪地中海的控制權

二、整合題 每題 1 分 共 10 分

(一)伊斯蘭是世界上的三大宗教之一。請問：

( ) (31)伊斯蘭教的創立者是誰？ (A)耶穌 (B)耶和華 (C)阿拉 (D)穆罕默德

( ) (32)伊斯蘭教最重要的經典是哪一部？

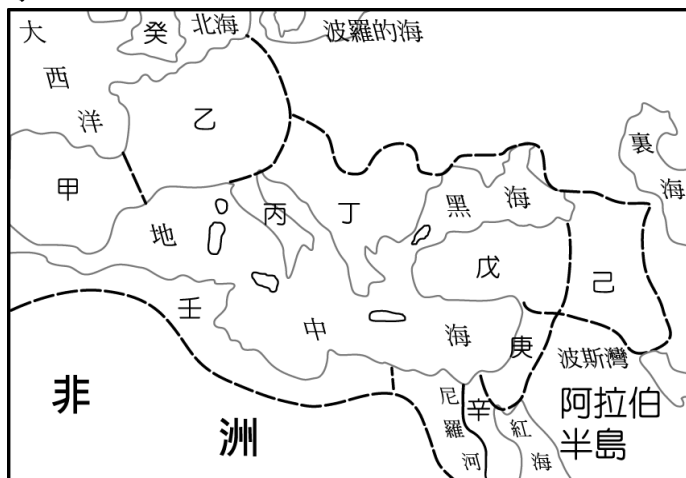
(A)《舊約聖經》 (B)《新約聖經》 (C)《古蘭經》 (D)《金剛經》

(二)附圖分為七個地區，用甲至庚表示，詳細觀察地圖，請回答下列問題：

( ) (33)基督教與伊斯蘭教為了圖中哪一地區，而爆發十字軍戰役？ (A)甲 (B)乙 (C)己 (D)庚

( ) (34)阿拉伯帝國最強盛的時候，曾經占領歐洲哪一個地區？ (A)甲 (B)己 (C)丙 (D)丁

( ) (35)鄂圖曼帝國最強盛的時候，曾經占領歐洲哪一個地區？ (A)甲 (B)乙 (C)丙 (D)丁



(三)宗教改革在宗教史上可以稱為宗教的大革命。請問：

- ( ) (36)宗教改革的首先發難者是誰？ (A)查理曼 (B)亨利八世 (C)喀爾文 (D)馬丁路德
- ( ) (37)承上題，其所創立的教派稱為什麼教派？ (A)路德教派 (B)英格蘭教派 (C)耶穌會 (D)喀爾文教派
- ( ) (38)哪一教派是因為國王的婚姻問題而與羅馬公教決裂？ (A)喀爾文教派 (B)英國國教派 (C)路德教派 (D)耶穌會

(四)附圖為唐朝與阿拉伯帝國大致的疆域範圍，在中國的史書中阿拉伯帝國被稱為「大食」，當時與中國唐朝各雄霸東、西方。請問：



- ( ) (39)此圖所顯示唐朝與阿拉伯帝國的世界情勢，可能發生於歷史上的哪一時期？ (A)西元 5~7 世紀 (B)西元 8~9 世紀 (C)西元 11~13 世紀 (D)西元 14~15 世紀。
- ( ) (40)當時世界局勢除了這東、西兩大政權之外，今日東歐、巴爾幹、小亞細亞地區，這時應該是屬於哪一政權？ (A)拜占庭帝國 (B)羅馬帝國 (C)神聖羅馬帝國 (D)查理曼帝國。