


一、單一選擇題：（每題2分）

1. 右圖為某本介紹臺灣歷史的書上出現的插圖，書上說明此圖為民國 38 年國共雙方在金門所發生的戰爭。請問，此場戰爭造成了下列何種影響？(A)結束了兩岸分治的局面(B)美國第七艦隊協防臺灣(C)成功阻擋了共軍的進犯(D)此戰後，兩岸不再出現大規模的武力對抗。
2. 臺灣與中國大陸終止交流 40 年之後，政府終於開放臺灣人民至中國大陸探親，這是哪一位總統任內的措施？(A)蔣經國(B)李登輝(C)陳水扁(D)馬英九。
3. 同學們在討論「戰後臺灣的經濟發展」，下列何者說法正確？(A)阿美說：「民國 38 年至 42 年，在土地改革成效卓著下，配合美援挹注和中國人才移入，使得臺灣經濟逐漸復甦。」(B)阿源說：「民國 40 年代，政府採『出口導向』政策，除公布《獎勵投資條例》，隨後也設立高雄加工出口區，吸引外資。」(C)小俐說：「民國 60 年代初期，政府推動『十大建設』，是為了促進產業升級而推動的公共投資。」(D)大胖說：「民國 60 年代初期，政府將出口導向政策改為進口替代。」
4. 兩岸關係從過去的武力衝突到現在的頻繁交流，歷經了不同的階段；過去中共曾對臺灣提出「三通四流」的口號，而我國政府則堅持以「三不政策」回應。請問，下列有關此段歷史發展的敘述何者正確？(A)三通指的是通商、通航、通婚(B)中共提出一國兩制僅針對臺灣實施(C)三不政策指的是不接觸、不妥協、不統一(D)兩岸的民間接觸已在緩和的氣氛下逐漸發展。
5. 右圖是有關民國 68 年發生於臺灣的重大事件：「消息傳來，臺灣民情激昂，16 日起，全國各公私立大專院校分別在校內發起簽名捐獻活動，以表示支持政府譴責美國背信毀約的決心。27 日，美國代表抵達臺北，遭青年學生投擲雞蛋、石塊，以示抗議。」根據上述判斷，此事件的背景為何？(A)美國支持中共進入聯合國(B)美國宣布與中共建交(C)美國與中共簽訂《中美共同防禦條約》(D)美國第七艦隊協防臺灣。
6. 近年臺海兩岸都在積極開拓對外貿易，現今兩岸雙方都已是下列哪個全球性的國際經濟組織的成員，且兩岸也被其要求必須完全開放國內市場，以走向國際化、自由化？(A)亞太經合會（APEC）(B)世界衛生組織（WHO）(C)聯合國（UN）(D)世界貿易組織（WTO）。
7. 土地拓墾與土地改革建設是各時期財經建設的重點。政府遷臺後，實施土地改革的主要目的為何？(A)削弱地主階級的勢力(B)增加國家稅收(C)要讓農產品產量大增(D)改善農民生活，使土地合理分配。
8. 解嚴以後，動員戡亂體制下的教育制度開始鬆綁，政府也著手進行若干重要的教改措施。下列何者非解嚴後的教育施政重點？(A)推動鄉土教學(B)多元入學(C)實施九年國民義務教育(D)提倡重視母語。
9. 目前兩岸關係未有突破性進展的原因為何？(甲)中共不放棄武力統一(乙)我政府堅持與中共誓不兩立(丙)中共無視兩岸分裂分治的事實(丁)中共堅持一國兩制主張。(A)甲乙丙(B)甲乙丁(C)甲丙丁(D)乙丙丁。
10. (甲)我國開放民眾赴中國大陸探親(乙)八二三炮戰(丙)辜汪會談(丁)古寧頭戰役。上列有關兩岸關係的重大史事，若按照發生時間的先後順序排列，何者正確？(A)乙丁甲丙(B)乙丁丙甲(C)丁乙丙甲(D)丁乙甲丙。
11. 從 1960 年代到 1980 年代間，因應臺灣人口增加幅度迅速，當時政府提出的家庭計畫口號最有可能是下面何者？(A)增產報國(B)兩個孩子很幸福，三個孩子更熱鬧(C)兩個孩子恰恰好、女孩男孩一樣好(D)孩子是我們最好的傳家寶。
12. 《臺灣關係法》是為了協助維持西太平洋之和平、安全與穩定，並授權繼續維持美國人民與臺灣人民間之商業、文化及其他關係。請問：美國國會是在何種背景下通過《臺灣關係法》？(A)國共內戰時(B)臺灣退出聯合國後(C)臺美斷交後(D)韓戰爆發後。
13. 民國 50 年代，政府財政困難，外匯短缺、失業率高，亟待發展外銷產業。為了因應局勢，政府採取了下列哪一項經濟政策？(A)推動十大建設(B)設置加工出口區(C)設置新竹科學工業園區(D)產業國際化、自由化。
14. 我國在中華人民共和國「一個中國」的堅持與打壓下，在國際社會中處於尷尬的地位，為了突破這種外交封鎖，我國在民國 70 年代後期改變外交策略，開始推動務實外交。請問，有關務實外交的相關敘述，何者有誤？(A)蔣經國總統在解嚴後立即推動務實外交(B)不再堅持中華民國是代表中國的唯一合法政府(C)以經濟實力和政治民主化成就，突破中共的外交封鎖(D)積極參與國際組織與活動。

15. 阿昆在蒐集有關臺灣農業發展的資料時，找到有關臺灣自耕地與佃耕地比例變化的統計資料，如下附表所示。請問：根據表中內容顯示，導致此一變化的主要原因為何？(A)日本統治結束，土地歸還人民 (B)經濟快速成長後，帶動農業發展 (C)二二八事件後的土地賠償 (D)政府遷臺後的土地改革。

西元 土地	1948 年	1953 年	1956 年
自耕地	56%	83%	85%
佃耕地	44%	17%	15%

16. 周冰替國家從事情報工作，在民國 38 年成為中華民國少有的女性少將司令，後來在香港執行任務時發生意外被捕。出獄後，由於當時兩岸處在特殊的時空背景，臺灣方面不想因為這件事情引起國際糾紛，因此政府於民國 47 年接回周冰後，並不承認她的情報員身分。周冰雖然感到失望，卻也不爭不求。就這樣，周冰的愛國故事埋藏了一甲子，直到民國 100 年離開人世後，才被媒體公開。請問：上文中提及「出獄後，由於當時兩岸處在特殊的時空背景下……」，所指的為下列何者？(A)臺灣退出聯合國 (B)中共與美國建交 (C)兩岸處於武力對抗時期 (D)兩岸處於政治對峙時期。
17. 臺灣為因應國際局勢及兩岸關係的轉變，在政治、外交上都推動了許多政策。請問：附表是中共和臺灣邦交國家數目的統計表。造成下表中臺灣邦交國數目變化的主要原因為何？(A)朝鮮半島發生戰爭 (B)美國與中共正式建立邦交 (C)中共猛烈炮擊金門，爆發臺海戰爭 (D)我國失去聯合國的中國代表權。

年分 (西元)	中華人民共和國 (中共) (個)	中華民國 (臺灣) (個)
1969	44	67
1970	49	66
1971	65	55
1972	87	39
1973	89	37

18. 臺灣光復初期財政紊亂，但從民國 38 年起，政府開始實施一連串經濟改革，穩定臺灣經濟。請問：民國 40 年代，政府提出「進口替代」的策略，其目的為何？(A)促進產業升級 (B)促進國內經濟發展，協助本地民生工業 (C)鼓勵外商投資 (D)研發新的農產品。
19. 洪通是活躍於民國 60 年代本土素人畫家，畫作主題多是廟會、神明等有關本地人民生活的素材，畫作被美國藝評家說：「欣賞洪通的畫，不需要高深的美術理論，只要帶著開放的心就可以了。」但國內的藝評家反應兩極。有一些人認為，洪通只是正好趕上對西方文化反動的思潮，並沒有其藝術價值。有些人認為，洪通的作品帶有兒童的純真，正好對比大人世界過多的裝飾與謊言。請問：臺灣當時興起這股文化思潮的主要原因為何？(A)經濟發展使城鄉差距加大 (B)清除日本殖民文化的影響 (C)美國的流行文化大舉入侵 (D)社會已轉型為開放多元文化。
20. 附表是臺灣某一時期各項產品所占的出口比例表。請根據表中的數據來判斷，這應該是下列哪一時期的出口比例？(A)1930 年代 (B)1950 年代 (C)1970 年代 (D)1990 年代。

產品	糖	米	罐頭食品、茶、香蕉等其他農產品	工業產品 (含化學品、紡織品等)
比例	58.9%	15.3%	17.7%	8.1%

21. 民國 68 年以後，中共在兩岸關係上對臺高唱三通。下列關於「三通」的敘述，何者正確？(A)此時期中共改採和平統戰策略 (B)三通的提出，使兩岸關係進入兩岸交流時期 (C)中華民國政府同意立刻開放部份地區與中國大陸三通 (D)三通的提出，使得兩岸間的軍事緊張大幅提高。

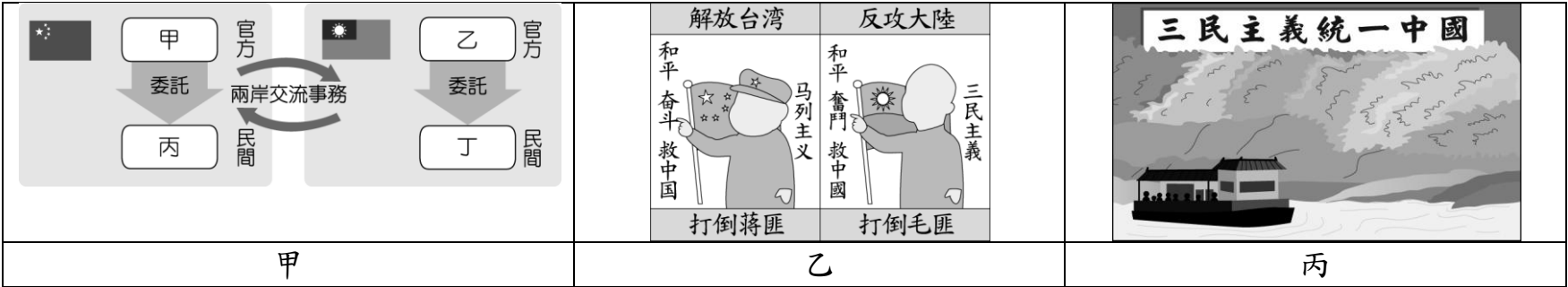
※ 聯合國大會第 2758 號決議內容如下：「大會回顧《聯合國憲章》的原則，考慮到恢復中華人民共和國的合法權利，……承認中華人民共和國政府的代表是中國在聯合國組織的唯一合法代表，……決定恢復中華人民共和國的一切權利，承認它的政府代表為中國在聯合國組織的唯一合法代表。」請根據史實回答 22~23 題：

22. 這份決議案提出時，我國是由何人擔任總統？(A)陳水扁 (B)李登輝 (C)蔣中正 (D)蔣經國。
23. 此一決議案通過後，使我國外交政策出現什麼樣的轉變？(A)在國際上全面封鎖中國大陸 (B)斷絕所有與友邦的外交關係 (C)與美國的外交關係更加密切 (D)改採彈性外交政策，重視發展實質關係。
24. 這場戰爭改變了美國的東亞戰略，讓撤退到臺灣不久的國民黨政權獲得喘息的機會，戰後美國正式將臺灣納入東亞反共防衛體系的一環，使臺海局勢漸趨穩定。請問：有關這場戰爭的敘述何者有誤？(A)此戰始於北韓進攻南韓 (B)戰爭爆發後，美國派遣第七艦隊協防臺灣海峽 (C)聯合國派軍隊援助南韓 (D)戰後美國與我國簽訂臺灣關係法。

25. 「兩會於本年 4 月 27 日至 29 日進行會談，是兩岸政權長期對峙以來，所舉行的第一次正式會談。本次會談為民間性、經濟性、事務性與功能性，雙方同意加強經濟交流、文教科技交流、能源資源開發與交流。會談的舉行地為「亞洲四小龍」之一。」請問：有關以上會談的敘述何者正確？(A)此次會談於香港舉行(B)在會談舉行前兩岸已正式展開小三通(C)參加會談的中華民國代表為海協會董事長辜振甫(D)當時中華民國總統為李登輝。
26. 歷史老師希望同學們蒐集關於臺灣人口變遷的資料來做報告，同學們將蒐集到的資訊整理成附表。請問：臺灣的人口從民國 34 年的 600 萬人大量增加至民國 39 年的 750 萬人，其原因為何？(A)第二次世界大戰結束導致人口死亡率下降(B)國共內戰導致政府遷臺(C)外國籍移民因婚姻關係而大量增加(D)臺灣醫療技術改進。

年代	民國 34 年	民國 39 年	民國 60 年	今日
人口數	約 600 萬人	約 750 萬人	約 1,500 萬人	約 2,300 萬人

- ※《輾轉紅蓮》是作家廖輝英從女性視角所寫的一本小說，描寫女主角蓮花從日治後期到民國的一生。其中有一段是蓮花在街上聽到政府新公布的政策後氣急敗壞就病倒了，新政策是說超過水田三甲或旱田六甲的土地擁有者，必須將多餘土地所有權以耕地正產物（稻穀甘藷）全年收穫總量 2 倍半（分十年均等攤還）賤賣給政府，再由政府統籌分配。蓮花一家原本可以靠著地租過活，但將土地賣給政府後，收回的地租就不夠一家人開銷了。請根據臺灣歷史發展回答 27~29 題：
27. 上文中所提及的「政府新公布的政策」應該是哪一政策？(A)耕者有其田(B)三七五減租(C)土地國有(D)公地放領。
28. 承上題，蓮花聽到政府新政策公布的年代，當時的臺灣經濟狀況為何？(A)遭逢能源危機衝擊(B)美國提供經濟援助(C)開始轉以發展外銷為主(D)產業西進中國設廠。
29. 根據上文中的敘述可推測，蓮花在當時的身分應該為何？(A)老闆(B)佃農(C)地主(D)保正。
30. 小恩回憶道：「民國 60 年代的兩次能源危機使許多中小企業倒閉，幸賴政府推動某項經濟建設，協助產業界度過災難」。請問：當時政府所推動的「某項經濟建設」所偏重的項目為何？(A)金融(B)交通(C)農業(D)教育。
31. 請根據兩岸關係的發展，將下方三張圖按照時間先後順序排列，正確為何？(A)甲→乙→丙(B)乙→甲→丙(C)乙→丙→甲(D)丙→乙→甲。




32. 承上題，甲圖是兩岸交流事務處理機構的示意圖，根據圖中的內容判斷，圖中的「丁」應該是下列何者？(A)國務院臺灣事務辦公室(B)海峽兩岸關係協會(C)海峽交流基金會(D)行政院大陸委員會。
33. 臺積電、聯電等知名半導體業者，進駐新竹科學工業園區，享受政府各項租稅、研究費之優待，這種吸引資金投入科技工業，是屬於臺灣經濟發展的哪一階段？(A)經濟自由化、國際化時期(B)進口替代期(C)出口導向期(D)經濟重整期。
34. 臺灣歌謠《媽媽請你也保重》：「若想起故鄉，目屎就流落來，免掛意，請妳放心，我的阿母。雖然是孤單一個，雖然是孤單一個，我也來到他鄉的這個省都，不過我是真勇健的，媽媽請妳也保重。」上述歌詞描述，農村青年因大城市工作機會多而離鄉背井的心情。請問：此歌詞內容的時代背景最有可能為下列何時？(A)國共內戰，政府準備遷臺(B)臺灣農業社會轉型工業社會(C)臺灣青年被日軍徵調到南洋作戰(D)清鄉運動。
35. 近年來我國政府採取務實外交政策，其主要理念與目標有哪些？(甲)強調兩岸是分裂分治的兩個對等政治實體(乙)與美、日等國建立正式邦交關係(丙)加強與友邦的實質關係(丁)與美國簽訂《中美共同防禦條約》(戊)派遣農技團協助友邦。(A)甲乙戊(B)甲丙戊(C)乙丙丁(D)乙丙戊。
36. 某位退休將領的回憶錄上記錄著民國 47 年的一場戰事：「……遠在十餘海里之外的美國軍艦，急遽向我發出疑問：『你們還活著嗎？』未及回答，他們又來電報：『不必回答，我已見到你們的反擊炮彈，長虹破空，落到彼岸……。』」請問：有關上述戰事的敘述，何項正確？(A)這場衝突發生在鞏固外交時期(B)聯合國派出以美軍為首的盟軍參戰(C)這場戰爭直接波及臺灣本島(D)最後交戰雙方簽訂互不侵犯條約。

37. 臺灣由於對美貿易連年順差，累積龐大外匯存底，不僅引起美國施壓要求我方開放市場，同時，也有新臺幣升值與通貨膨脹的壓力。於是，政府在民國 70 年代後，提出何種經貿政策以因應此問題？

(A)設置加工出口區，輸出輕工業產品(B)改行保護國內產業的進口替代政策(C)提出自由化、國際化的經貿政策(D)推動多項重大公共投資，發展重工業。

38. 附圖是臺灣某一時期的政令宣導海報，從圖中的內容來看，這可能是哪一時期的文宣？(A)民國 30 年代前期(B)民國 40 年代後期(C)民國 80 年代前期

(D)民國 90 年代後期。



39. 有一篇新聞報導寫道：「1980 年代後期開始，許多早年從中國大陸來臺的老兵，終於能夠再度踏上屬於他們的故鄉。但是，童年時的故鄉早已面目全非，親人甚至早已不在，這些老人家們不禁老淚縱橫、泣不成聲。」此一場景最早應是發生在何事之後？

(A)終止動員戡亂(B)我國退出聯合國(C)兩岸正式展開小三通(D)宣布解嚴。

40. 臺灣近五十年來的經濟發展與建設成就，享譽全球，曾被喻為「亞洲四小龍」之一。回顧五十年來，臺灣曾經歷一些階段，並採取若干措施，如：(甲)扶植發展輕工業(乙)調整產業結構，加強高附加價值產業(丙)實施土地改革(丁)獎勵投資，拓展輸出。若按實施先後順序，正確為何？(A)甲丙丁乙

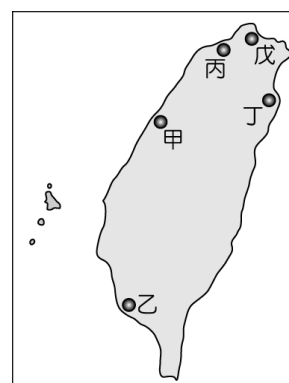
(B)甲丁丙乙(C)丙丁甲乙(D)丙甲丁乙。

41. 這項教育政策是由日治時期開始推動，臺灣光復後仍繼續實施，有效提升了臺灣的人口素質。請問：此一政策為何？(A)十二年國民基本教育(B)九年國民義務教育(C)九年一貫課程

(D)六年國民義務教育。

42. 十大建設對臺灣的經濟起飛發揮了不可抹滅的貢獻。請依據右圖回答下列問題：

乙地未包括哪一項經濟建設成果？(A)核能發電廠(B)大煉鋼廠(C)中國造船廠（臺灣國際造船公司）(D)石油化學工業。



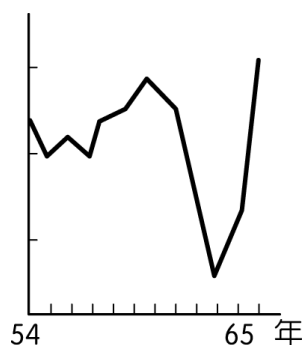
43. 承上題，政府推動「十大建設」的目的為何？(A)吸引外資投資刺激景氣復甦

(B)利用大型公共工程建設刺激景氣復甦(C)引發通貨膨脹以減低消費欲望(D)避免中國資金進入臺灣。

44. 小章爺爺收藏數件印有中美合作標誌（如右圖）的物品，爺爺說這個標誌代表著當年美國對中華民國政府伸出援手，給予大量的物資還有金錢援助，甚至派遣美軍顧問團來臺。請問：當時美國願意對臺灣伸出援手，其主要目的為何？(A)美國與中華人民共和國建交(B)為援助我國退出聯合國後的困境(C)防止共產勢力擴張(D)要求日本無條件投降。



45. 下方附圖為民國 54 年至 65 年，臺灣經濟成長率的曲線圖。請問：造成民國 63 年經濟成長曲線陡降的客觀因素為何？(A)韓戰爆發(B)臺灣退出聯合國(C)發生能源危機(D)八二三炮戰爆發。



※ 下列是有關臺灣社會變遷的重要事件，請將其與發生的時代加以配合。

※ (A)民國 60 年代 (B)民國 70 年代 (C)民國 80 年代 (D)民國 90 年代

46. 制定《原住民族基本法》。

47. 積極推行家庭計畫。

48. 政府解嚴。

49. 實施全民健保。

50. 我國加入「亞太經濟合作會議」。