

◎單一選擇題：每題 2 分，共 50 題

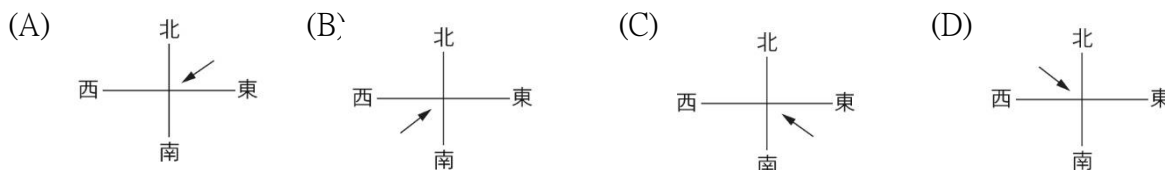
1. 南、北韓在經濟發展的落差很大，南韓經濟已蓬勃發展並擠身 G20 之列，北韓卻還在「全球飢餓指數」排名中掙扎。請問：造成北韓糧產不足，與下列何項自然因素關係較為密切？

(A)降雨稀少 (B)地震頻繁 (C)生長季短 (D)洪患不斷

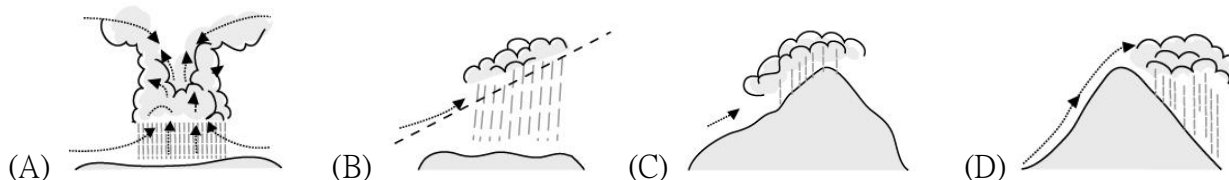
2. 下表中關於南、北韓的比較，何者「正確」？

地區	(A)收穫次數	(B)地形	(C)政治體制	(D)經濟發展
北韓	一穫	平原廣大	民主政治	高科技工業發達
南韓	兩穫	山地高原為主	共產專制	重視國防工業

3. 「札幌雪祭」是北海道最大規模的活動，每年吸引著全世界各地的旅人，在冬天飛往北海道參加這場盛會。請問：日本冬季的降雪，與哪道季風經過日本海並夾帶大量水氣有關？

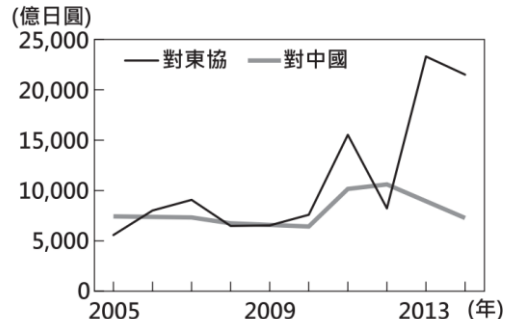


4. 承上題，請問此時的降水類型主要是哪種？



5. 右圖為日本近年來對於中國和東協國家的投資金額統計，對兩者投資金額差距擴大與下列何者關係最為密切？

(A)東南亞天災日益頻繁  
(B)東協的生產成本較低  
(C)中國實施全面開放二胎  
(D)東協反日意識漸趨高漲



6. 泰國、越南為世界重要稻米出口國，泰國香米及越南河粉、米線皆為居民主食。請問兩國盛產稻米的原因與下列哪些條件有關？甲：受佛教文化影響 乙：高溫多雨的季風氣候 丙：河口三角洲平坦肥沃 丁：受殖民統治的歷史

(A)甲乙 (B)甲丙 (C)乙丙 (D)乙丁

7. 東南亞在歐洲殖民時期，發展熱帶栽培業，下列何者並「非」熱帶栽培業的特徵？

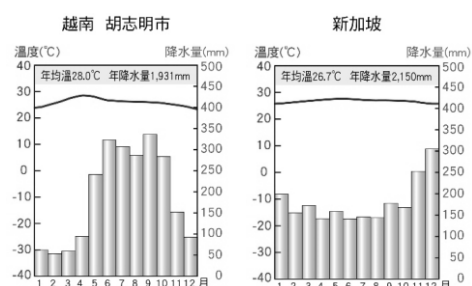
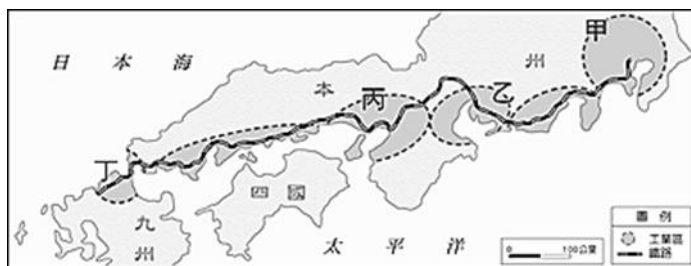
(A)為自給式農業 (B)需投入大量人力 (C)屬集約式的農業 (D)以經濟作物為主

8. 小雨在寒假的時候出國旅遊，並沿途記錄當地風情。其中有一段描述如下：「原以為寒假出來玩，氣候應該很涼爽，來到這個國家，卻是天天豔陽高照，汗流浹背。不過，走在街上的感覺很親切，處處可見黃皮膚、黑眼睛的華人，到商店買東西還可以用閩南語和廣東話交談呢。」請由文中推斷，小雨最可能是到下列哪一個國家？ (A)印度 (B)日本 (C)菲律賓 (D)新加坡

9. 近年來，有愈來愈多來自東南亞地區的國際移工到臺灣工作，其中部分移工經常聚集在臺北市的清真寺作禮拜。請問：這些在清真寺作禮拜的移工，最可能來自下列哪個東南亞國家？

(A)泰國 (B)印尼 (C)越南 (D)寮國

10. 中國大陸籌畫在雲南縱谷區湄公河上游興建多座水庫，這些水庫興建完成後，將影響到下游的用水和生態。請問：哪一會受到影響？  
 (A)印度半島 (B)中南半島 (C)朝鮮半島 (D)阿拉伯半島
11. 韓國有句俗話說：「泡菜是半個糧食」。傳統上每家大約要醃 100~150 顆白菜。請問：這種習俗主要是配合韓國何項環境特色而形成？ (A)梅雨季長，蔬菜收成不穩 (B)冬季嚴寒，缺少新鮮蔬菜 (C)地形崎嶇，蔬菜產量有限 (D)雨水不足，蔬菜不易種植
12. 朝鮮半島的人口集中在黃海沿岸，日本人口則主要集中在太平洋岸，兩地人口分布的差異與下列哪個因素的關係最密切？ (A)緯度高低 (B)平原位置 (C)降水多寡 (D)盛行風向
13. 「這個城市舊名漢城，位於漢江畔，昔日為朝鮮李氏王朝的首都，今日為南韓的首都，為朝鮮半島上最大的都市，也是全國交通和經濟中心。」上文所描述的是下列哪個城市？  
 (A)首爾 (B)釜山 (C)平壤 (D)東京
14. 右圖為日本工業區分布圖，請問：日本工業區主要位於沿海地區的原因為何？  
 (甲)缺乏天然資源，原料大多仰賴進口  
 (乙)工業區為嫌惡設施，遠離住宅區  
 (丙)海外為重要市場，便於出口 (丁)勞力不足，大量從國外引進 (戊)國際貿易為日本的經濟命脈  
 (A)(甲)(乙)(丙) (B)(乙)(丙)(丁) (C)(甲)(丙)(戊) (D)(丙)(丁)(戊)
15. 承上題，日本的第一大城位於上圖中哪個工業區內？ (A)甲 (B)乙 (C)丙 (D)丁
16. 承上題，台灣虎航推出[桃園-日本大阪]優惠機票促銷，限時特價只要 2999 元，吸引旅客暢遊日本京阪神地區。請問旅客抵達的都市位於上圖中何地？ (A)甲 (B)乙 (C)丙 (D)丁
17. 日本地區降水量較同緯度的中國多，氣溫也較暖和，主要原因為何？  
 (A)多島嶼 (B)地形高聳 (C)日照較長 (D)四周有海洋調節
18. 為了慶祝孩子的成長，日本有男孩節。男孩節的時間在夏季，此時許多人家會在門前掛起鯉魚旗，期望自己家的男孩可以鯉躍龍門，一躍成龍。依據日本夏季的盛行風向判斷，此時旗幟多朝哪個方向飄去？ (A)東北 (B)東南 (C)西南 (D)西北
19. 下列為日本的重要都市與所在平原的配對，請問：何者正確？  
 (A)京都：關東平原 (B)大阪：近畿平原 (C)神戶：濃尾平原 (D)名古屋：關東平原
20. 小雨想到印度半島旅遊，下列哪個月份是較舒適的時節？(A)1 月 (B)5 月 (C)7 月 (D)9 月
21. 南亞恆河平原和中國鄱陽盆地的緯度相近，但一月的月均溫，恆河平原卻比鄱陽盆地高 10℃ 左右。形成上述差異的原因，主要是因為恆河平原具備下列何項特性所致？  
 (A)境內湖泊眾多 (B)太陽直射 (C)冬天多梅雨 (D)北有高山屏障
22. 印度半島的地形可分為北、中、南三區。請問：若由南向北走，依序會經過何種地形？  
 (A)高原-山地-平原 (B)高原-平原-山地 (C)山地-平原-高原 (D)山地-高原-平原
23. 中南半島在種族和文化方面深具過渡性色彩，形成此一現象的主要影響因素為何？  
 (A)地形 (B)位置 (C)氣候 (D)水文
24. 吳哥窟是吳哥古蹟中，保存最完好的廟宇，以建築宏偉與浮雕細緻聞名於世，也是世界上最大的廟宇。請問：吳哥窟的造型，已成為哪個國家的標誌，展現在該國的國旗上？  
 (A)寮國 (B)印度 (C)柬埔寨 (D)尼泊爾
25. 右圖為東南亞胡志明市與新加坡當地的氣候圖。可發現兩地終年高溫，但新加坡的降雨較平均，造成此現象的主要原因為何？(A)緯度 (B)經度 (C)地形 (D)距海遠近

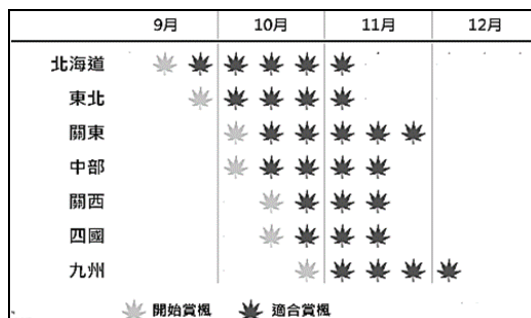


26. 「位於中南半島最西邊的仰光，佛塔林立，如此景觀訴說著佛教在此地的盛行」根據上文判斷，所描述的應該是下列哪個國家？ (A)緬甸 (B)印尼 (C)越南 (D)菲律賓
27. 每年春季時，朝鮮半島深受中國沙塵暴影響，導致空氣混濁、能見度降低。此時當地應吹哪個方向的季風？ (A)↘ (B)↗ (C)↙ (D)↖。

28. 朝鮮半島屬於季風亞洲的一部分，因此冬、夏季會吹不同風向的風。請問：此區冬、夏季所盛行的風向與中國哪個地區相同？ (A)青藏地區 (B)華南地區 (C)華中地區 (D)華北地區。

29. 秋天是日本賞楓的季節，各地陸續有火紅的楓葉綻放。右圖為各地楓紅時序表。請問影響日本各地賞楓時間不同的原因為何？

- (A)距海遠近 (B)雨量多寡  
(C)緯度高低 (D)乾季長短



30. 右圖為日本在西元 2011 年發生震驚世界的「311 地震」示意圖。請問日本「311 地震」的發生，其主要成因與日本哪項自然環境的特徵有關？ (A)屬於古老的陸塊 (B)四面環海 (C)位在板塊交界帶 (D)寒暖洋流交會。



31. 根據右圖，「311 地震」是發生在哪個海洋上的淺層地震，因為引發海嘯而造成嚴重的傷亡？

- (A)日本海 (B)黃海 (C)東海 (D)太平洋。

32. 東南亞「某國家」，一年之中，每天的天氣預報幾乎都一模一樣：「上午晴，下午雨，之後再晴。」請問：上述所稱的「雨」，其降雨類型應為下列何者？

- (A) (B) (C) (D)



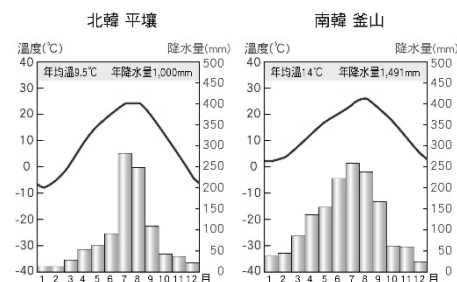
◎右圖為朝鮮半島的示意圖，請回答下列相關問題：

33. 日本海位於何區？ (A)甲 (B)乙 (C)丙 (D)丁
34. 乙所代表的是哪個海域？ (A)南海 (B)黃海 (C)日本海 (D)對馬海峽
35. ㄅ是南韓、北韓約定的停戰線，約為幾度？  
(A)東經 38 度 (B)西經 38 度 (C)北緯 38 度 (D)南緯 38 度

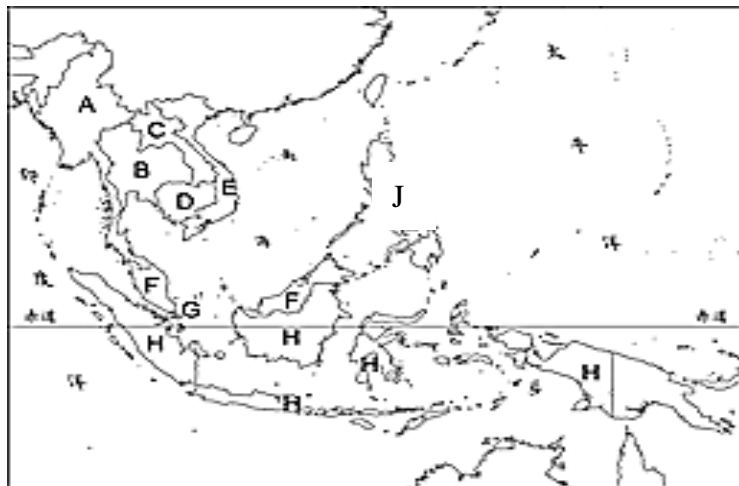


◎右圖為朝鮮半島的都市平壤與釜山的氣候圖。其中平壤位居北韓西部，釜山位居南韓東南部，請回答下列相關問題：

36. 從平壤氣候圖中可發現，平壤的氣候屬於下列何者？  
(A)副熱帶季風氣候 (B)溫帶地中海型氣候 (C)溫帶季風氣候 (D)草原氣候
37. 由圖中可知，釜山一月月均溫高過平壤一月月均溫，其主因為何？ (A)緯度 (B)經度 (C)地形 (D)距海遠近
38. 釜山夏季降水量超出平壤許多，此現象主要是何種因素所導致？ (A)緯度 (B)經度 (C)洋流 (D)距海遠近



◎右圖東南亞國家示意圖，英文字母為國家代號，請回答下列問題：



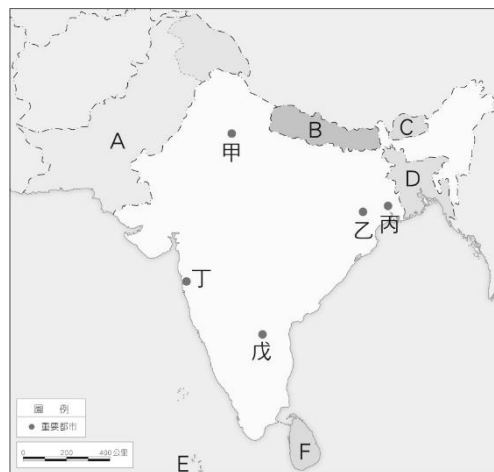
39. 「受中國文化影響很深，也曾經被法國殖民，二次大戰後更分裂成南北兩部分。在這個國家可以體驗到不同文化的融合，也可品嚐到特殊風味的咖啡。」上述是指圖中哪個國家？ (A)C (B)D (C)E (D)F

40. 來自 J 國的小雨說：「我的家鄉就在臺灣的正南方，當地人都像我一樣會用英文來溝通！」小雨家鄉的人普遍會說流利的英語，其原因為下列何者？ (A)曾受美國勢力影響 (B)曾為西班牙的殖民地 (C)曾受英國占領 (D)經濟發達的大都市眾多

41. 「整潔乾淨的獅城，位居東南亞交通要道，國土不大。」請問：上文描述的應該是圖中哪個國家？ (A)D (B)F (C)G (D)H

42. 「想知道深受印度史詩、神話影響所形成的建築景觀嗎？來一趟吳哥窟，你就能摘下它神祕的面紗。」請問：上文描述的應該是圖中哪個國家？ (A)A (B)D (C)E (D)F

◎右圖為印度半島示意圖，A~F 為國家代號，甲~戊為都市代號，請回答下列問題：



43. 這裡是印度半島上人口最為稠密的地區，水稻與黃麻是這裡常見的作物，雨季來臨時，高漲的恆河河水總使這裡變成一片汪洋。請問：這個國家位於圖中何處？ (A)A (B)B (C)C (D)D

44. 小雨閱讀由印度裔記者執筆的書《不可忽視的印度》，帶領他深入這個重拾科學文明的古國，見識到印度在一群人的努力下，已經在太空科技、資訊產業等，展現驚人成就。因此小雨想參觀有「印度矽谷」之稱的都市，請問位於圖中何處？ (A)甲 (B)丙 (C)丁 (D)戊

45. 孟加拉與巴基斯坦兩國也位於印度半島，請問以下關於兩國的比較，何者有「錯誤」？

國家	(A)宗教	(B)位置	(C)經濟作物	(D)自然災害
孟加拉	印度教	圖中 D 國	黃麻	水災
巴基斯坦	伊斯蘭教	圖中 A 國	棉花	旱災

46. 若要參觀印度著名的寶萊塢製片廠，應前往圖中哪個城市？ (A)甲 (B)丙 (C)丁 (D)戊

◎右圖為板塊分布示意圖，請根據此圖回答下列問題：

圖例 — 板塊邊界 ▲ 活火山 • 震央



47. 造成西元 2004 年南亞大海嘯的主要成因，與哪兩個板塊的擠壓運動有關？

(A)甲乙 (B)甲丁 (C)甲丙 (D)丙丁

48. 哪個國家常有地震，且與臺灣位處相同的板塊接觸帶？

(A)印尼 (B)菲律賓 (C)東帝汶 (D)馬來西亞

49. 南亞主要位於哪個板塊上？(A)甲 (B)乙 (C)丙 (D)丁

50. 關於板塊名稱與代號的配對，下列何者正確？

(A)甲——歐亞板塊 (B)乙——太平洋板塊

(C)丙——印澳板塊 (D)丁——菲律賓海板塊