

班級： 姓名： 座號：

1. 在計算人口扶養比時，會把下列哪一個人視為當地的主要工作人口？
(A) 72歲的賣菜郎 (B) 12歲的國小學生 (C) 60歲的中年男子 (D) 68歲的退休阿伯。
2. 阿瑜希望開設一間蔬果店，達成「貨出的去，人進的來，嘉義發大財」的目標，在人潮聚集愈多的地方愈容易賺錢，選項中何處開設最易達成目標？
- ●●●●●


●●●●●

●●●●●

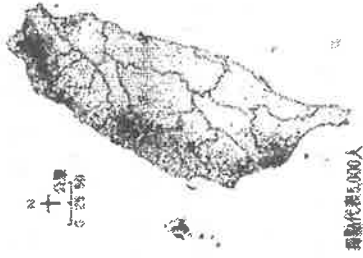
●●●●●

●●●●●
- (A) 1:2500 (B) 1:10000 (C) 1:5000 (D) 1:20000
3. 根據統計，澳洲與台灣人口數相仿，都是2300多萬人，但澳洲人口密度卻不及台灣的1/200。請問造成兩地人口密度懸殊的主要原因是什麼？
(A) 長台灣平均壽命較 (B) 台灣人口分布不均
(C) 澳洲生育率較低 (D) 澳洲國土面積較大。
4. 右圖為臺灣的人口成長趨勢圖，根據圖中資料，下列何項最正確？
(A) 人口總數正在逐年增加，但近年來增加緩慢
(B) 自然增加率幾乎為零
(C) 人口成長率主要受社會增加率影響
(D) 人口成長率為負數。
5. 簡老師在上課時播放歌曲「台北台北」介紹臺灣的人口特色，歌詞如下：

台北 台北 永遠攏不知咱莊腳困仔心聲
咱為著啥 是為著啥 是為著厝內有等咱轉
去 爸爸媽媽
攏有阿公阿嬤 老朋友老親戚
請恁就耐心等待 阮成功那一天



- 請問：歌詞內容可用來說明哪一個人口課題？
(A) 臺北人口的自然增加 (B) 臺灣的國內人口遷移
(C) 少子化對人口的負面影響 (D) 新住民適應臺灣生活的努力。
6. 右圖是2016年的臺灣人口分布圖。造成臺灣人口如此分布的因素，與下列那一項最「沒有」關聯？
(A) 氣候條件 (B) 地形起伏
(C) 開發時間早晚 (D) 產業活動類型。
7. 台灣農家有一句諺語：「嫁乎做田旭，沒法度梳頭髻」，由此可看出農家生活的忙碌，也可看出台灣農業經營的哪一項特色？
(A) 農產品商品化 (B) 耕地面積狹小 (C) 生產技術先進 (D) 經營高度集約。



8. 產業活動的發展經常反映出該國的經濟程度。右表分別為四個國家的三級產業就業人口比例，其中哪一個國家的經濟發展程度可能相對較好？

國家 \ 產業	第一級產業	第二級產業	第三級產業
伯伯國	31%	38%	31%
仲仲國	12%	38%	50%
叔叔國	42%	30%	28%
季季國	29%	22%	49%

- (A) 伯伯國 (B) 仲仲國 (C) 叔叔國 (D) 季季國。

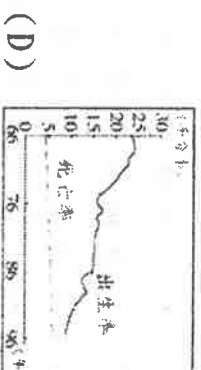
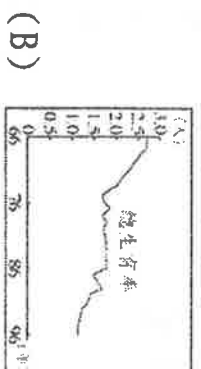
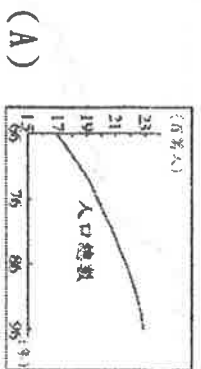
9. 「花甲看著阿嬤還是沒有改變彌留狀態已經要一個禮拜了，決定去找消失十年的姊姊花慧，來完成阿嬤的心願。透過花亮網路的搜索，找到花慧工作的婚紗店，卻發現花慧和男友阿輝，已經不是臉書上看到的那個樣子了。追到花花慧家，希望可以拉她回家，沒想到撞上多年未見的媽媽靜雲，多年心結未解，母子關係是一道巨大的裂痕。」這是劇場的情片『花甲男孩轉大人』。一部關於隔代教養的故事，台灣各處偏遠地區的角落皆有如花甲般隔代教養的縮影存在，由於壯年人口外流至他鄉工作，因此出現隔代教養的現象，請問：這最可能出現在右圖中何處？



10. 博魯多國公布其性別比是 105，其所顯示的意義為何？
 (A) 男少女多 (B) 男：女=105:100
 (C) 男：女=100:105 (D) 男嬰比女嬰多。

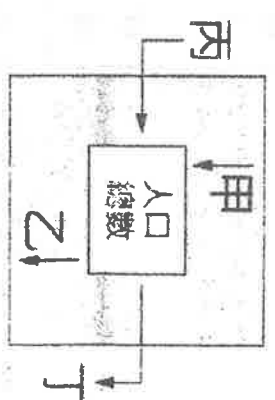
11. 甲地的自然增加率為千分之12，人口增加率為千分之9。請問甲地的人口概況分析，下列敘述何者正確？
 (A) 甲地的人口為負成長 (B) 甲地的人口總數在增加當中
 (C) 甲地的移入人口數多於移出人口 (D) 甲地的人口出生數較死亡人數來的少。

12. 若想正確掌握近年來臺灣的扶養比變化趨勢，由下列哪一張圖來判斷最恰當？



13. 人口的多寡受到自然與社會因素的影響，請問下列哪項因素，最可能是造成區域人口移出的推力？
 (A) 治安惡化 (B) 就業機會多 (C) 政治自由 (D) 醫療品質佳。

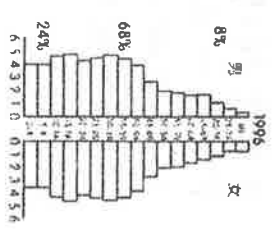
14. 右圖為影響人口成長要素的說明圖，其中甲乙為人口自然增加的因素，丙丁為人口社會增加的因素，請問有關台灣人口成長歷程的敘述，哪一項錯誤？



- (A) 台灣民間習俗生肖屬虎諸多不便，因此會使甲減少。
 (B) 中華民國政府遷台使丙增加。
 (C) 日治時期的醫療衛生的進步改善，使乙減少。
 (D) 目前台灣人口成長主因為丙>丁。

15. 2018年時，紫苑市的人口數約為300萬人，其面積約為300km²，則其人口密度應為多少人/km²？
 (A) 10,000 (B) 3,000 (C) 300 (D) 270。

16. 某地區的人口金字塔如右圖所示。請問有關該區的人口結構特色中，何者敘述最為正確？



- (A) 低金字塔型的人口結構 (B) 勞動人口所占比例最少
 (C) 壯年男子人口外移明顯 (D) 受扶養人口約為32%。
 17. 某國的女性人口為360萬人，男性人口為400萬人，則該國的性別比約為多少？
 (A) 90 (B) 103 (C) 111 (D) 125。

18. 「以全臺22縣市老化指數來看，全臺「最老縣市」前五名，分別是嘉義縣(177)、雲林縣(141.87)、南投縣(139.48)、屏東縣(137.38)及澎湖縣(136.71)。而「最年輕縣市」則集中在北部，前三名分別是新竹市(63.87)、桃園市(67.62)及新竹縣(70.59)。嘉義市的老化指數幾乎是新竹市的3倍，這也看出臺灣目前不只老化問題加劇、人口年齡結構不均也是一大隱憂。」請問由上文判斷，造成前三名城市老化指數較低的主要原因最可能是下列何者？

- (A) 就業機會多，年輕家庭大量移入 (B) 產業造成環境汙染，死亡率較高
 (C) 經濟發達，多晚婚或不族出生率低 (D) 為老舊發展區域，福利較差遷出者多。

19. 台灣著名小說家張曼娟的短篇小說《桃么》，是在描寫中國實施計畫生育政策，父母親被逼以殘酷手段執行一胎化政策，達到控制人口成長的目標。請問這將使得人口結構出現哪種現象？

- (A) 多子化與扶養比上升 (B) 少子化與高齡化
 (C) 低齡化與都市化 (D) 自然增加率上升與幼年人口性別比超過100

20. 為了因應老化指數不斷上升所引發的衝擊，下列哪一個方案最不可能被提出？

- (A) 重視社會福利，推動老人長期照護政策 (B) 輔導企業引進外籍勞工，補充勞力需求
(C) 推動計畫生育，宣導「兩個恰好」節制觀念 (D) 延長退休年齡，鼓勵「退而不休」貢獻己力。

21. 北興帶學生進行「☐☐☐☐養殖漁業」的參觀，第一站到了虱目魚主題館參觀，瞭解到虱目魚的生長不能在太冷的環境，第二站到了當地潟湖觀察牡蠣的生長。☐☐☐☐最有可能是下列哪一個選項？

- (A) 台南市 (B) 嘉義市 (C) 台北市 (D) 南投縣

22. 下列有關臺灣漁業特色的敘述何者「誤」？

- (A) 在領海域範圍內發展沿岸漁業
(B) 大陸棚指的是距離臺灣海岸 200 公尺的海域範圍
(C) 黑鮪魚隨著黑潮北上至臺灣
(D) 以遠洋漁業產值最高，但容易有漁事糾紛

23. 右圖為臺灣某種作物的分布圖，此種作物最有可能是下列何者？

- (A) 茶 (B) 甘蔗 (C) 水稻 (D) 香蕉

24. 台灣是個水果天堂，有令人垂涎的愛文芒果、鳳梨釋迦、黑金剛連霧等特產，這些水果是農業專家為了提升競爭力不斷品種改良的產品，上述這些產品和哪種趨勢有關？

- (A) 農業集約化 (B) 農村勞力老化 (C) 休閒農業興起 (D) 發展精緻農業。

25. 臺灣農業活動的特色中，農民的耕作方式集約度相當高，此種耕作特色與哪一個環境因素最為相關？

- (A) 土壤貧瘠 (B) 技術不佳 (C) 雨量太多 (D) 耕地狹小。


26. 目前中部地區為臺灣重要的蔬菜、花卉等園藝作物生產重鎮。請問：當地有利發展的條件為何？

- (A) 降水量最多 (B) 地形崎嶇 (C) 人口眾多 (D) 交通便利。

27. 台灣加入世界貿易組織後，享有低關稅的貿易優惠，同時也必須對會員國開放市場。加入組織後雖有利於台灣產品的外銷，但也對台灣多項產業產生衝擊。請問下列哪項產業的農民受到的衝擊可能最大？

- (A) 稻米業 (B) 酪農業 (C) 精緻農業 (D) 休閒農業。

◎右圖是臺灣三級產業就業人口百分比的變遷圖，甲、乙、丙分別代表三級產業，根據右圖回答28~29題：



28. 有一段廣告歌詞是這樣唱的：「啊！勞動兄弟，經濟要靠你；啊！無名英雄，建設要靠你……」臺灣早期經濟發展的主力「加工與製造業」，應是圖中哪一條折線所代表的產業？

- (A) 丙，第二級產業 (B) 甲，第三級產業
(C) 丙，第一級產業 (D) 乙，第二級產業

29. 從圖中資料判斷，下列有關臺灣產業發展的敘述，何者正確？

- (A) 目前第二級產業占半數以上
(B) 丙產業呈現下降的趨勢是因缺乏天然資源
(C) 約從民國65年起，產業重心轉為工商業
(D) 從產業結構的變遷來看，臺灣的經濟發展程度是落後的。

30. 臺灣加入世界貿易組織(WTO)之後，為何許多農產品無法和外國競爭？

- (A) 農地規模小，生產成本過高 (B) 外交困境，受到各國打壓
(C) 臺灣農產品的品質不佳 (D) 工業化導致高度汙染。

31. 台灣近年來稻田面積逐漸縮減，農民改種高經濟價值的蔬菜、花卉、水果等作物，下列何項不是轉變的原因？

- (A) 市場需求增加 (B) 餐飲趨向多元化，米飯容易被取代
(C) 獲得利潤較高 (D) 氣候變化大，多水旱災

◎人口金字塔是包含一地性別及年齡組成的圖示，可依不同年齡階段的比例高低，區分如右圖的3個類型，各代表一地經濟發展的概況，請問：

32. 比較右圖3類人口金字塔的幼年人口比例，可發現「乙類型」的幼年人口比重最高、老年人口比重最低。代表下列哪一項人口特徵？

- (A) 乙類型的出生率高、死亡率低
- (B) 乙類型的出生率高、死亡率高
- (C) 乙類型的出生率低、死亡率高
- (D) 乙類型的出生率低、死亡率低。

33. 言老師介紹「丙」類型的人口金字塔通常出現在經濟開發程度最高的地方，請問：原因包括下列哪一項？

- (A) 丙的老年人口比例偏高，代表治安不佳、社會落後，死亡率高低
- (B) 丙的老年人口比例偏高，代表醫療進步、福利完善，死亡率低
- (C) 丙幼年人口比例偏高，代表勞力充足，經濟加速成長
- (D) 丙幼年人口比例偏高，代表新生兒眾多，社會充滿活力。

34. 某地歷經數十年的奮鬥，由貧窮而富裕、由農業轉為工商業為主的經濟。請問：某地的人口金字塔類型，出現的正確順序是什麼？

- (A) 甲 乙 丙
- (B) 乙 丙 甲
- (C) 乙 甲 丙
- (D) 丙 甲 乙

35. 下列有關臺灣林業的發展的敘述，何者錯誤？

- (A) 山地面積廣大，降水量充沛，森林資源豐富
- (B) 早期木材的外銷曾為臺灣賺取巨額的外匯收入
- (C) 近期因過度砍伐，全面禁伐天然林，加強造林與保育林地
- (D) 現今推廣紙漿工業，促使產業升級，增加經濟效益

36. 右圖為台灣人口分布圖，請問甲、乙、丙、丁四大都市的人口分布，主要集中於下列哪兩種地形？

- (A) 平原、台地
- (B) 盆地、平原
- (C) 山地、盆地
- (D) 丘陵、台地。

37. 臺灣的現代化畜牧多屬欄牧，將牲畜圈養並餵以飼料。這種畜牧方式和下列何種環境因素的限制最為相關？

- (A) 雨量太多
- (B) 工資昂貴
- (C) 地狹人稠
- (D) 技術限制。

38. 「臺灣由於降雨時間、空間分布不均，再加上河川坡度陡流急，興建水利設施成為主要的水資源開發利用方式。嘉南大圳的水源主要來自曾文溪和濁水溪，可供應雲林、嘉義、臺南地區十餘萬甲土地農作的水，由於此項灌溉工程的完成，提供了較為充足的灌溉水源，使得原本為了穩定收成的作物產量因而大增。」請問：下列哪些物產在上述設施完工後，因為有了更穩定的生產條件而產量大增？

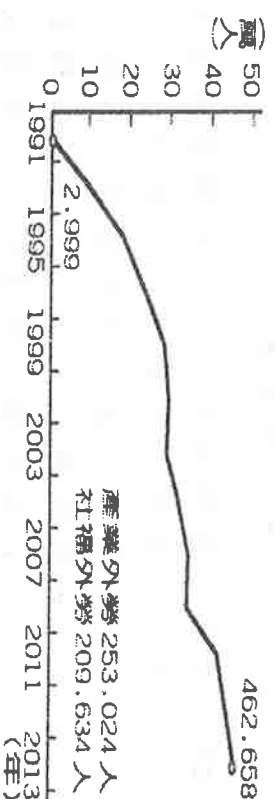
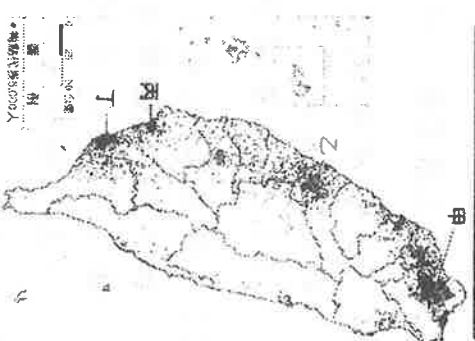
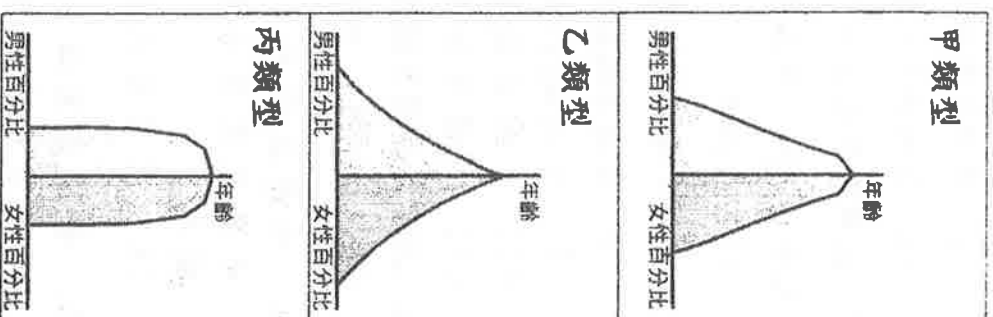
- (A) 甘蔗、小麥
- (B) 樟腦、花卉
- (C) 茶葉、稻米
- (D) 稻米、甘蔗

39. 右圖為臺灣外籍勞工人數統計圖，由圖可看出近年來臺灣外籍勞工逐年增加，這些勞工應是屬於哪一性質的人口遷移？

- (A) 永久性的國際遷移
- (B) 暫時性的國際遷移
- (C) 永久性的國內遷移
- (D) 暫時性的國內遷移。

40. 老楊開的方塊酥專賣店，生意好到嚇嚇叫；小林在眼鏡行工作，幫顧客配戴最美觀又清晰的眼鏡；小李在刀工具工廠上班，製作鋒利又好用的刀具；老王種的西瓜又大又甜，曾吃過的人都讚不絕口。請問：如果將以上這幾位的工作性質加以分析，那麼總共有幾位是屬於第三級產業呢？

- (A) 1位
- (B) 2位
- (C) 3位
- (D) 4位。



41. 一般而言，經濟落後國家的出生率與死亡率為何？

- (A) 兩者皆高 (B) 兩者皆低 (C) 前者高，後者低 (D) 前者低，後者高。

42. 黑鮪魚是屏東著名的魚類特產，業者從海上捕撈最新鮮的黑鮪魚，做出最美味料理。請問：這些來自於何種漁業活動類型？

- (A) 沿岸漁業 (B) 近海漁業 (C) 養殖漁業 (D) 遠洋漁業。

43. 鰻苗捕撈漁期於106年2月28日結束，依「鰻苗捕撈漁期管制規定」，除花蓮縣及臺東縣外，其他縣市轄屬之距岸三海浬內海域、潮間帶及河口水域，自106年3月1起至10月31日止禁止捕撈鰻苗。從以上敘述來判斷，捕鰻苗的活動屬於何種漁業類型？

- (A) 養殖漁業 (B) 沿岸漁業 (C) 近海漁業 (D) 遠洋漁業。

44. 臺灣在面臨人口轉型的過程，遇到勞動力不足的問題。因此由其他國家輸入外籍勞工，請問下列四個國家中，最有可能成為台灣外籍勞工的來源大宗為何？

- (A) 南韓 (B) 日本 (C) 印尼 (D) 中國。

45. 右圖為史萊姆市2008年到2016年的出生率及死亡率資料，請幫市長判斷，讓他能及時制定適當的人口政策；如果不考慮社會增加率的話，這段期間史萊姆市的人口數量會發生什麼樣的變化？

- (A) 先增後減 (B) 先減後增 (C) 逐年遞減 (D) 逐年增加。

46. 獨角仙牧場是嘉義縣休閒農業的代表，園區內飼養的乳牛生產牛乳，自製遠近馳名的奶油、新鮮牛奶。請問：這種飼養乳牛生產牛乳的行業如何稱呼？

- (A) 酪農業 (B) 園藝業 (C) 精緻農業 (D) 混合農業。

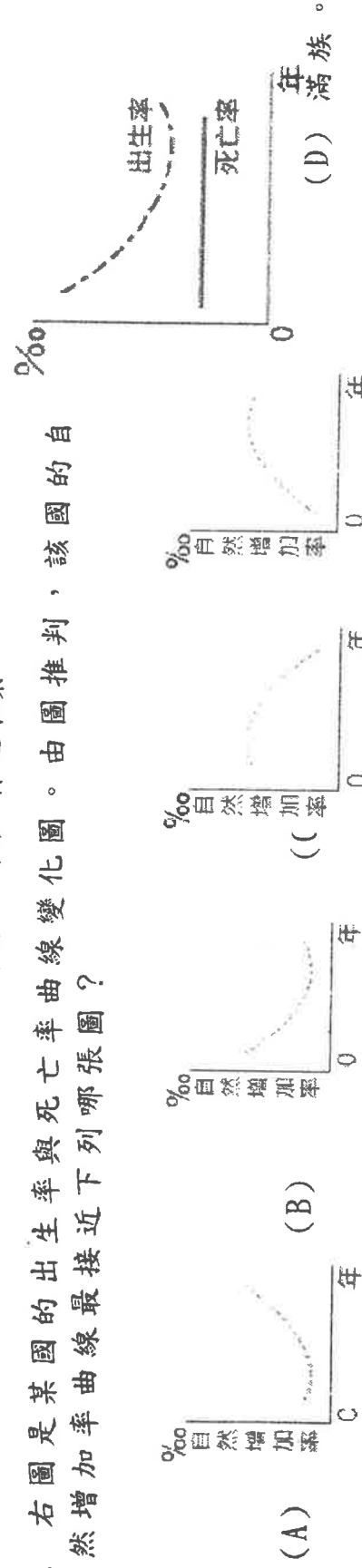
47. 要了解一地的人口分布是稀疏還是稠密，需要用到下列哪兩項資料？

- (A) 自然增加率、社會增加率 (B) 男性人數、女性人數
(C) 壯年人數、老年人數 (D) 人口總數、土地面積。

48. 「一二三到臺灣，台灣有個阿里山。」阿里山在政府開放中國遊客來後，成為最受歡迎的景點之一。請問阿里山鐵路的興建，最早是為了配合下列哪一項產業發展所需？

- (A) 梯田稻作 (B) 溫帶水果 (C) 高山茶葉 (D) 林地木業。

49. 右圖是某國的出生率與死亡率曲線變化圖。由圖推判，該國的自然增加率曲線最接近下列哪張圖？



50. 「根據主計處統計，臺灣民國106年二月臺灣人口數約2354萬人，全國性別比為99，但新生兒性別比卻達108，嬰兒性別失衡情況相當嚴重」，依據上文，下列敘述何者正確？

- (A) 全國的男性人數多於女性人數
(B) 新生兒性別比失衡與傳統重男輕女觀念有關
(C) 新生兒比例約為100男生對應到108個女生
(D) 全國男性人口數為99萬人。

