

◎單一選擇題：每題 2 分，共 50 題

- 農作物收穫次數的多寡和該地區緯度的分布有關。依此判斷，下列哪個中國地理區的作物收穫次數可能最多？ (A)華北平原 (B)東北平原 (C)珠江三角洲 (D)長江三角洲
- 雲南省成為中國少數民族族系最多的地區，最主要是受下列哪項因素的影響？

(A)地形阻隔，交通往來不便 (B)氣候多樣，生活方式不同
(C)經濟發達，外來移民者多 (D)位於國界，外族往來頻繁

- 右圖為「谷灣式海岸」，是中國東南沿海特殊的海岸地形，由於灣澳眾多，天然良港方便出海，是促成華南地區形成僑鄉的重要自然因素之一。請問：谷灣式海岸的成因為何？

(A)陸地上升，海面上升 (B)陸地下沉，海面下降
(C)陸地下沉，海面上升 (D)陸地上升，海面下降

- 承上題，其海岸類型與臺灣何處海岸較為相同？

(A)東部海岸 (B)西部海岸 (C)南部海岸 (D)北部海岸

- 右圖是中國北部區域某一都市的氣候圖。依據圖中資料判斷，此都市屬於下列哪種氣候類型？

(A)副熱帶季風 (B)溫帶季風 (C)溫帶沙漠 (D)高地氣候

- 東北地區採取機械化耕作，為中國重要的糧食產區。該地適合機械化耕作的主因為何？

(A)土壤肥沃 (B)氣候溼潤 (C)礦產豐富 (D)地廣人稀

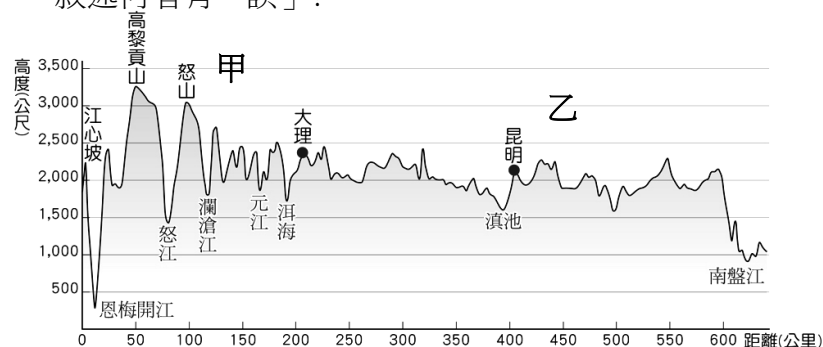
- 「此都市有四季不凍的天然良港，又有鐵路與東北平原相聯結，因而成為東北的門戶，被稱為『北方香港』。」此都市為何？

(A)青島 (B)瀋陽 (C)大連 (D)天津

- 中國東北地區鐵路密集，其中 T 字型鐵路網是最主要的幹線，而 T 字型鐵路的交會點，同時也是中國大型冰雕展的舉辦城市，應是下列哪個都市？ (A)瀋陽 (B)長春 (C)哈爾濱 (D)大連

- 北部地區以重工業為主，鋼鐵、汽車工業發達。請問：表示北部地區具有下列哪一發展重工業的優勢？(A)礦產豐富 (B)位置優越 (C)勞力充足 (D)海運便利

- 小雨參加遊中國旅行團，有一景點位於下圖中的甲區，山高谷深，景觀壯麗，下列關於甲區的敘述何者有「誤」？



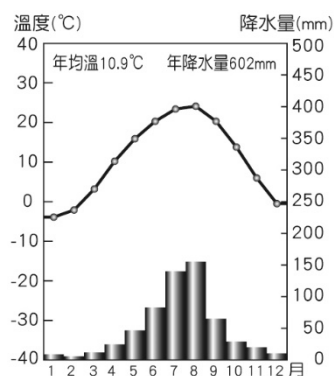
(A)位於海南省，熱帶植物種類豐富 (B)屬於縱谷地形，河川為中南半島河川之上游
(C)居民以溜索為當地傳統交通工具 (D)「一山有四季，十里不同天」可形容當地氣候特色

- 承上題，小雨見到乙區的景觀，更是讚嘆不已！也了解古詩詞中所提「江作青羅帶，山如碧玉簪」的景緻。請問：乙區的地形景觀及其作用為何？

(A)珊瑚礁地形，堆積作用 (B)石灰岩地形，溶蝕作用
(C)峽灣地形，冰河作用 (D)火山地形，板塊擠壓

- 下列哪個都市為珠三角的經濟核心，不但是進入珠江流域的門戶，亦是廣東省的行政中心？

(A)澳門 (B)廈門 (C)廣州 (D)深圳



13. 中國華南地區的五個經濟特區：廈門、汕頭、深圳、珠海、海南；以及東北地區的五個工業城市：哈爾濱、長春、瀋陽、鞍山、大連，在經濟發展上都有優質的區位條件——交通區位；請問兩地區城市經濟發展所主要仰賴的交通運輸方式分別為何？

(A) 公路；鐵路 (B) 鐵路；河運 (C) 海運；鐵路 (D) 空運；鐵路

14. 1980 年代起中國東南沿海的廈門、深圳等地，設置經濟特區，成為經濟改革開放的火車頭，與下列哪些因素有關？(甲) 僑鄉背景 (乙) 工資低廉 (丙) 交通便利 (丁) 礦產豐富 (戊) 技術進步

(A) (甲)(乙)(丙) (B) (甲)(丙)(丁) (C) (乙)(丙)(丁) (D) (甲)(丙)(戊)


15. 承上題，當初設立的五個經濟特區，也各自有發展優勢，請問：其中距離台灣最近，有利於台商投資的是哪一個都市？(A) 汕頭 (B) 珠海 (C) 廈門 (D) 深圳

16. 承 14 題，哪個都市鄰近香港與廣州，亦是五大經濟特區中經濟產值最高？

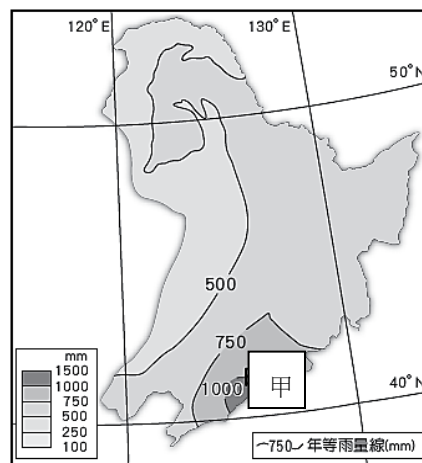
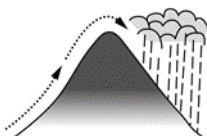
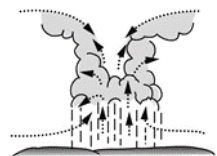
(A) 汕頭 (B) 珠海 (C) 廈門 (D) 深圳

17. 右圖為東北地區年降水量分布圖。請問：圖中甲區降水量較多，其降水類型應為下列何者？

(A) (B)



(C) (D)



18. 下列關於中國兩個高原的比較，何者並「不」正確？

	(A) 地表營力	(B) 地表景觀	(C) 氣候特徵	(D) 特殊民居
黃土高原	流水侵蝕	千溝萬壑	雨量較少	窯洞
雲貴高原	雨水溶蝕	崎嶇不平	涼爽不熱	土樓

19. 下列關於中國各地生活方式的特徵，何者正確？

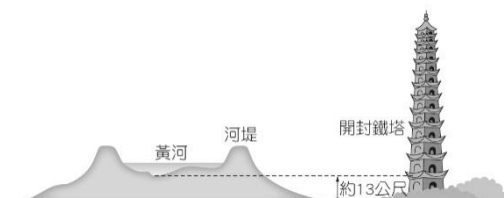
(A) 長江三角洲	(B) 雲貴高原	(C) 橫斷山脈	(D) 華北平原

20. 右表為長江沿岸三個主要都市的一月月均溫資料。從表中可以發現重慶的氣溫比其他的二個都市高，造成此現象的主要因素為何？

(A) 距海遙遠，乾燥炎熱 (B) 北方高山阻擋冷風南下
(C) 地勢較低，較為溫暖 (D) 綠地較多，調節氣溫

都市	一月均溫(°C)
重慶	7.6°C
武漢	4.3°C
上海	3.7°C

21. 長江黃金水道與中國東部海岸線形成「T」字型發展軸線，受到長三角的影響，長江沿岸都市近年發展迅速。長江上游有一大都市，由於優越的位置，加上三峽大壩工程完工，已經升格為直轄市。請問該都市為何？ (A)成都 (B)上海 (C)武漢 (D)重慶
22. 中國上海市從清末開放對外通商後，吸引許多商人在此投資，逐漸發展成中國最大的工商業都市。這和該地具備哪項條件最有關係？ (A)歷史悠久，自古為重要商港 (B)礦產充足，為工業大城 (C)位置優越，腹地廣大 (D)人口眾多，勞力充足
23. 下圖為黃河流域某河段的示意圖。請問：其主要發生於黃河的哪個河段？
(A)發源地 (B)河套平原 (C)黃土高原 (D)華北平原



24. 承上題，圖中黃河的河床明顯高於堤防外地區。請問：產生這種特性的主要原因為何？
(A)板塊擠壓抬升 (B)堆積作用造成 (C)侵蝕下切作用 (D)圍湖造田影響
25. 「君不見，黃河之水天上來，奔流到海不復回。」是李白的詩作，然而今日黃河中下游地區的缺水問題是中國急需解決的。請問造成華北地區缺水嚴重的主要原因有哪些？
(甲)黃河中上游興建水庫 (乙)工商業發達、人口眾多 (丙)年雨量變率小 (丁)降雨季節分布不均
(A)甲乙丙 (B)乙丙丁 (C)甲丙丁 (D)甲乙丁。
26. 承上題，華北地區缺水問題恐影響華北經濟發展，因此，中國政府採取何種方式解決水荒？
(A)清除河道淤沙 (B)南水北調 (C)限縮農、工業用水 (D)上游供應下游所需
27. 下列關於華北地區的兩個地理區比較，何者並「不」正確？

地理區	(A)主要省分	(B)成因	(C)泥沙來源地	(D)地表景觀
黃土高原	山西	風力堆積	內蒙古高原	崎嶇不平
華北平原	河北	河流堆積	雲貴高原	平坦遼闊

28. 長江流域內的各大盆地，素有「火爐」之稱，意指在夏季溫度相當的高。請問：形成此稱呼的主要原因為何？ (A)盆地底部時常發生洪患 (B)緯度較其他地區低
(C)地勢崎嶇不平 (D)盆地地形散熱不易
29. 華中地區整體的氣候特徵，以下何者正確？ (甲)夏季氣溫涼爽不熱 (乙)夏季為主要雨季
(丙)冬季高於 0°C (丁) 6、7 月會有梅雨。 (A)甲乙丙 (B)甲丙丁 (C)甲乙丁 (D)乙丙丁
30. 下列關於南部區域各地理區的農業景觀及稱號描述，何者正確？
(A)長江三角洲：「水鄉澤國」 (B)兩湖盆地：「魚米之鄉」
(C)珠江三角洲：「天府之國」 (D)鄱陽盆地：「湖廣熟，天下足」
31. 右圖為「土樓」，是中國某地理區居民為了防禦盜匪，所建造出的獨有建築形態，已被聯合國教科文組織列為世界遺產。請問：此種建築景觀，最可能出現在下列哪個地理區？
(A)珠江三角洲 (B)橫斷山脈 (C)雲貴高原 (D)東南丘陵

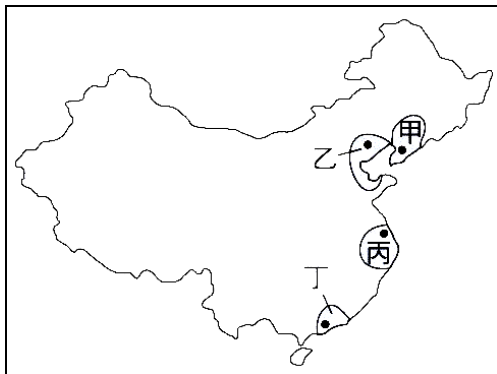


32. 右圖為「大三巴牌坊」，是中國某地過去受葡萄牙殖民影響，存留至今的指標性歷史建築，請問：大三巴牌坊位於下列何處？

(A)廣州市 (B)上海市 (C)香港特別行政區 (D)澳門特別行政區



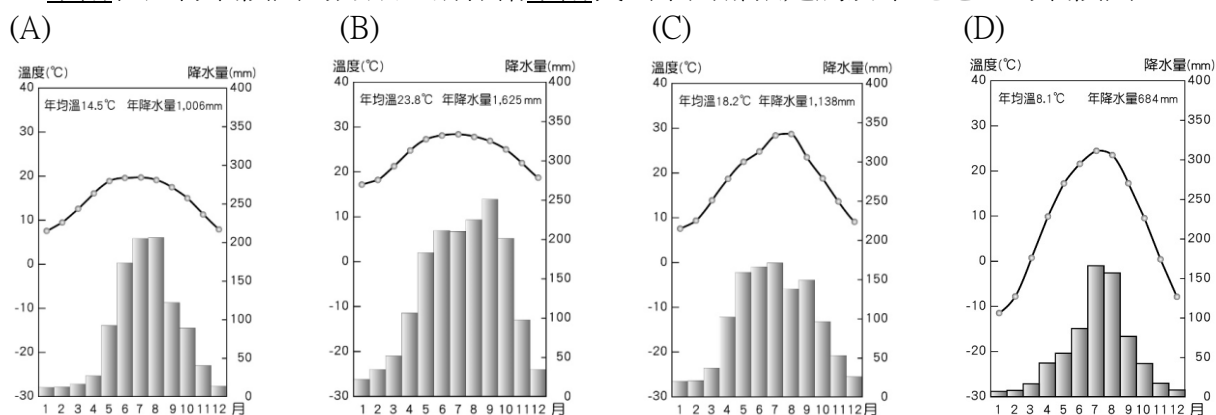
◎中國的經濟改革開放後，經濟發展程度自沿海向內陸逐漸拉大差距，依經濟發展水準可分為東、中、西三大經濟地帶。東部經濟帶內又包含了不同的經濟圈。下圖為中國東部主要經濟圈分布圖。甲～丁代表不同的經濟圈。請回答下列相關問題：



33. 中國的政治核心位在圖中哪個圈帶？ (A)甲 (B)乙 (C)丙 (D)丁

34. 圖中哪一個經濟圈帶為中國現在經濟產值最高的地區？ (A)甲 (B)乙 (C)丙 (D)丁

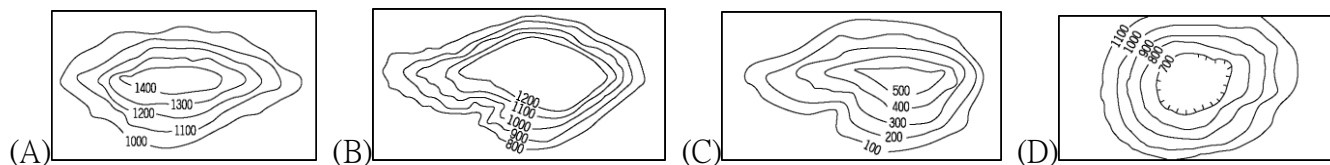
35. 小雨在進行氣候圖的分類，請你幫小雨找出下列哪張是屬於東北地區的氣候圖？



36. 中國的福建、廣東一帶，早期有大批居民移向海外謀生，因此被稱為「僑鄉」。造成這個地區人口大量向外移動的原因，並「不」包括下列哪項？

(A)山多田少 (B)地狹人稠 (C)政府政策 (D)出海便利

37. 在雲貴高原上，「壩子」是當地重要的農業區，也是人口集中的精華區，請問：「壩子」所在的地形最接近下列何者？



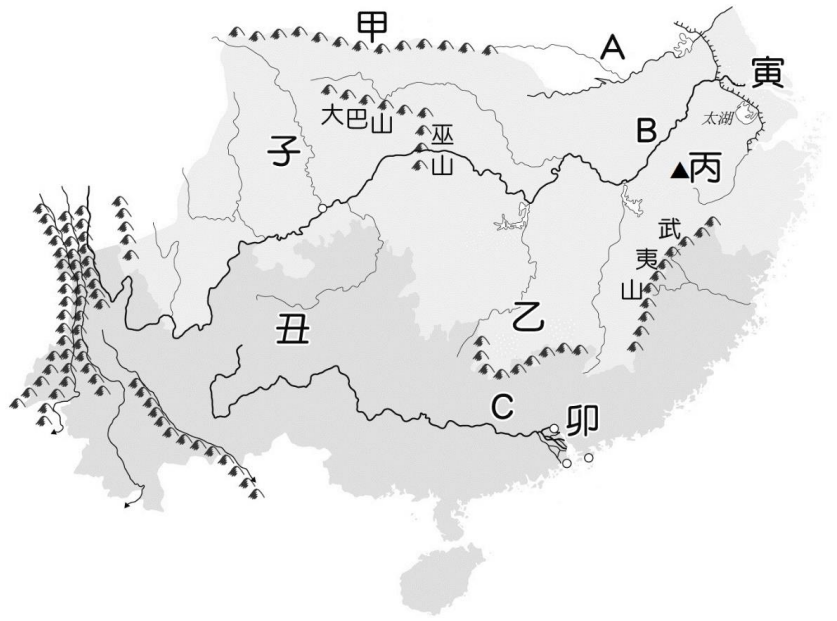
38. 洋山港位於杭州灣口，為上海新建的外港。上海為中國第一大港，然而在其外海興建洋山港的主要因素為何？ (A)上海舊港泥沙淤積嚴重 (B)上海舊港海浪過大

(C)上海舊港冬季結冰 (D)上海舊港港口腹地不足

39. 四川人愛吃辣，主要是為了防止在溼熱的環境下產生的風溼及熱病。請問：四川氣候溼熱，與下列哪項因素的關係最大？ (A)盆地地形 (B)雨量充沛 (C)季風風向 (D)距海遙遠

◎右圖為中國南部區域圖，
請依序回答下列問題：

40. 甲為劃分中國南、北區域的分界，請問此山脈名稱為何？(A)南嶺 (B)怒山 (C)秦嶺 (D)隴山
41. 「某地理區」自古有「魚米之鄉」之稱，物產豐饒，現在則為工商業發達的區域。請問：「某地理區」指的是圖中何處？
(A)子 (B)丑 (C)寅 (D)卯
42. 「某地理區」有「天府之國」的美稱，且形勢封閉，易守難攻。請問：「某地理區」指的是圖中何處？(A)子 (B)丑 (C)寅 (D)卯
43. B 為南部地區主要河流，也是水運便利的航道，請問：下列何者並「非」此河岸的重要都市？
(A)武漢 (B)上海 (C)天津 (D)重慶



◎右圖為中國北部區域圖，請依序回答下列問題：

44. 「某地理區」主要由黃河、海河及淮河共同沖積而成，土壤肥沃，是中國北方的糧倉。「某地理區」應位於圖中何地？
(A)甲 (B)乙 (C)丁 (D)戊
45. 「某地理區」為丘陵地形，突出的半島有重要港口青島，港闊水深。「某地理區」指的是圖中何地？
(A)甲 (B)乙 (C)丙 (D)戊
46. 此平原的農業發展特色為有肥沃黑土，為重要的大豆、甜菜產區，請問此平原位於？
(A)甲 (B)乙 (C)丙 (D)丁
47. 黃河因泥沙淤積河道，造成中國北部地區水患頻仍。請問：要減少黃河的水患，應在圖中的哪個區域植樹造林，才可達到水土保持的功能？(A)甲 (B)乙 (C)丙 (D)丁
48. ㄅ山脈是東、西部的分界，請問：ㄅ山脈以西的地形主體為何？
(A)平原 (B)盆地 (C)高原 (D) 丘陵
49. ㄈ為重要地理分界，請問ㄈ的名稱為何？
(A)崑崙山 (B)長白山 (C)秦嶺 (D)太行山
50. ㄎ為東北地區雨量最多的地區，請問ㄎ的名稱為何？
(A)崑崙山 (B)長白山 (C)秦嶺 (D)太行山



試題結束