

一、選擇題:70%

- 1.十九世紀以後帝國主義國家大多是由海路侵犯中國，哪一個國家以「蠶食鯨吞」的方式，從陸路侵犯中國？ (A)朝鮮 (B)印度 (C)日本 (D)俄國。
- 2.凡是中國讓與任何一國的權利，只要是訂有最惠國待遇的國家，均得援例享有，影響因之更加擴大。請問：如此不公之條文是在哪個條約中簽訂的？ (A)天津條約 (B)南京條約 (C)北京條約 (D)馬關條約。
- 3.繁華的香港於1997年回歸中國，但你可知道香港原是一個破舊的漁村，曾被清廷因哪場戰役失敗而割讓給英國？ (A)英法聯軍之役(B)中法戰爭(C)甲午戰爭(D)鴉片戰爭。
- 4.國曆六月三號是「禁煙節」，請問其由來與下列何者無關？ (A)清宣宗 (B)英商 (C)林則徐 (D)曾國藩。
- 5.目前正在台中花博展出的故宮超高人氣國寶「翠玉白菜」，專家考證是清宮瑾妃嫁妝，而瑾妃的皇上命運多舛，企圖變法改革卻遭軟禁阻擾有志難伸，請問這位皇帝是？ (A)清文宗 (B)清德宗 (C)清宣宗 (D)清遜帝。



- 6.在南京條約及其續約之中，哪一項嚴重損及中國司法的獨立與完整？ (A)五口通商 (B)賠款 (C)領事裁判權 (D)官方文書平等往來。
- 7.清末所設立的總理衙門，它的功能類似現在哪一個政府單位？ (A)內政部 (B)交通部 (C)外交部 (D)經濟部。
- 8.康有為、梁啟超等舉人上書皇帝，要救國唯有徹底改革變法，經過審慎評估策畫，終於展開哪一項改革？ (A)百日維新 (B)戊戌政變 (C)自強運動 (D)明治維新。

- 9.太平天國的統治之，下列哪一件事是合法可行的？ (A)祖先忌日時準備鮮花素果祭拜祖先 (B)解放纏足，男女平等 (C)喜歡的女人就買回家(D)將田地租給窮人，收取田租過日子。
- 10.中國對外的連續挫敗，導致有識之士提出改革，其中魏源主張「師夷之長技以制夷」。他所提出的主張著重於哪方面？(A)社會經濟 (B)民主政治 (C)軍事國防 (D)外交經貿。
- 11.清末列強劃定勢力範圍，哪一國因腳步太慢，未來得及分一杯羹，於是提出「門戶開放」政策？ (A)美國 (B)日本 (C)俄國 (D)義大利。
- 12.附圖是中國歷史某一位「天子」的玉璽，這位「天子」最有可能是哪一位？ (A)洪秀全 (B)朱元璋 (C)李自成 (D)秦始皇。



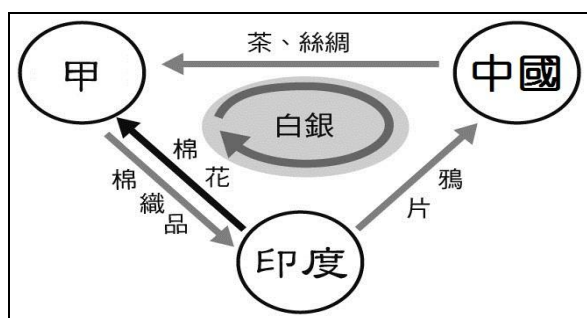
- 13.清帝國首都北京第一次淪陷是在何時？ (A)鴉片戰爭 (B)英法聯軍 (C)太平天國 (D)甲午戰爭。
- 14.港星成龍主演的「十二生肖」，是以搶救圓明園報時噴泉的銅製獸首為劇情題材。這些國寶淪為外國古董商人之手請問與下列哪一次戰爭有關？ (A)鴉片戰爭 (B)英法聯軍 (C)八國聯軍 (D)甲午戰爭。



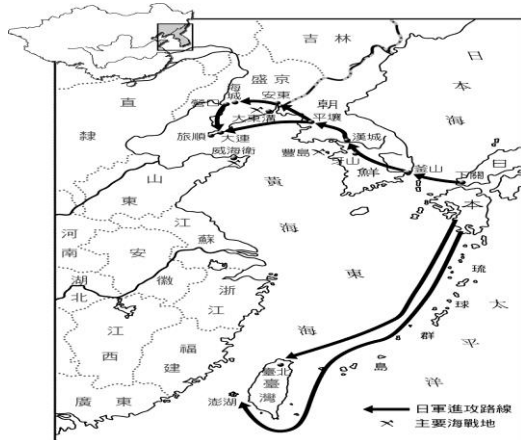
- 15.自強運動歷經三十多年的改革，但最後仍是失敗；下列何者不是其失敗的原因？ (A)偏重軍事技術與器械的改革 (B)未體認制度思想

必須同步革新 (C)缺乏通盤計畫 (D)因守舊派發動政變而終止。

16. 下列推動自強運動的重要人物中，何人是在中央負責主持？ (A)曾國藩 (B)李鴻章(C)左宗棠(D)奕訢。
17. 如圖是西元19世紀前期某國與中國的三角貿易關係，箭頭所示代表輸出的商品，圖中的甲國應是？ (A)法國 (B)英國 (C)荷蘭 (D)西班牙。



18. 俄國強逼清廷割讓黑龍江以北之地，成為中國史上喪失土地面積最大的條約是？ (A)北京條約 (B)南京條約 (C)璦琿條約 (D)天津條約。
19. 鴉片戰爭，中國失敗的原因是下列何者？ (A)人民不支持政府 (B)外國軍隊確實很厲害，中國軍隊不戰而降 (C)清廷各方面腐敗落伍 (D)各國組成聯合陣線，共同對付中國。
20. 歷史老師在上課時，掛了一張戰爭路徑圖（如下圖）。請問：這一堂課的主題是什麼？ (A)鴉片戰爭 (B)牡丹社事件 (C)英法聯軍 (D)甲午戰爭。



21. 有關戊戌變法內容，請選出正確敘述：(甲)改革已達制度層面 (乙)現存遺跡為北京大學 (丙)廢除八股文 (丁)慈禧太后主導變法改革 (戊)廢除科舉制度 (A)甲乙戊 (B)乙丙丁

(C)甲乙丙 (D)丙丁戊。

22. 鴉片戰爭開啟中國的門戶。請問：清朝實施閉關自守(只開放廣州)政策，閉關的「開始」到「結束」各是哪一位皇帝？ (A)聖祖、文宗 (B)高宗、宣宗 (C)聖祖、德宗 (D)世宗、文宗。
23. 清朝的藩屬與領土在十九世紀後半葉，不斷被列強侵略而喪失，其喪失順序應為(A) 臺灣→琉球→朝鮮(B)緬甸→朝鮮→臺灣 (C)琉球→越南→臺灣(D)朝鮮→越南→臺灣。
24. 附表為外國在華設廠數量和資本額情況表。請問：1894-1913 年間，數字大幅成長的原因為何？ (A)自強運動開放列強投資 (B)列強向中國租借港灣，發展經濟 (C)馬關條約允許日本和列強在通商口岸設廠 (D)接受「門戶開放」政策，歡迎外商投資。

西元	設立工廠數	設立時的資本額(千元)
1840-1870	7	2,802
1870-1894	16	4,829
1894-1913	136	103,153

25. 他在《乾隆英使觀見記》一書中，這樣寫著：「清帝國好比是一艘破爛不堪的頭等戰艦，它之所以在過去一百五十年中沒有沉沒，僅僅是由於一班非常幸運的、能幹而機警的軍官們的支持，而它勝過其鄰船的地方，只在它的體積和外表。」請問：本書的作者是何人？ (A)馬加爾尼 (B)阿美士德 (C)明治天皇 (D)馬可波羅。
26. 國父 孫中山先生曾自命為「洪秀全第二」，請問 國父是要學習洪秀全的那項作為？ (A)以宗教解救人民 (B)建立新王朝 (C)實行共產思想 (D)民族革命精神。
27. 「太平天國」就興起建國的背景，與中國歷史上哪一事件的性質類似？ (A)黃巾之亂 (B)黃巢之亂 (C)安史之亂 (D)靖難之變。
28. 中日馬關條約簽訂後，哪三個國家積極干涉，要求日本歸還遼東半島？ (A)俄、德、法 (B)英、法、義 (C)法、俄、美 (D)俄、英、法。
29. 下列哪一朝代之首都並非建都於南京？ (A)南朝 (B)南宋 (C)東晉 (D)太平天國。
30. 歷史課時同學討論清朝推行自強運動的概況，下列敘述，哪一項不正確？ (A)鴉片戰爭後，清廷開始推展自強運動 (B)自強運動使中國開始展開西化運動 (C)自強運動期間，中國才派出駐外使節 (D)自強運動期間開使

官方外派留學生。

31. 英國在清朝哪兩個皇帝在位時曾派特使來華請求改善中英之間的貿易問題？ (A) 聖祖、高宗 (B) 高宗、仁宗 (C) 世宗、仁宗 (D) 世宗、高宗。
32. 中國在明清時期白銀是主要的貨幣單位，請問白銀大量流入與流出中國，各與哪國有關？ (A) 英國、法國 (B) 西班牙、日本 (C) 英國、美國 (D) 西班牙、英國。
33. 自強運動以戰爭開始，也以戰爭終止，其「始」、「終」各為哪一場戰爭？ (A) 鴉片戰爭、英法聯軍 (B) 鴉片戰爭、甲午戰爭 (C) 英法聯軍、甲午戰爭 (D) 甲午戰爭、八國聯軍。
34. 清末外患中，向來以併吞土地為首要目標的俄國，利用清朝內憂外患之際，趁機掠奪中國領土，請問地圖上甲區土地，是根據哪一項條約獲得的？ (A) 伊犁條約 (B) 中俄北京條約 (C) 中俄璦琿條約 (D) 南京條約。



35. 承上題，地圖上乙區是俄國利用哪一個戰爭趁火打劫勒索得來的土地？ (A) 第一次英法聯軍 (B) 第二次英法聯軍 (C) 甲午戰爭 (D) 中法戰爭。

二、整合測驗題：30%

(一) 十九世紀中晚期正逢中國多事之秋，除了面對外力衝擊挑戰，更有大規模的民變內亂，試回答以下問題：

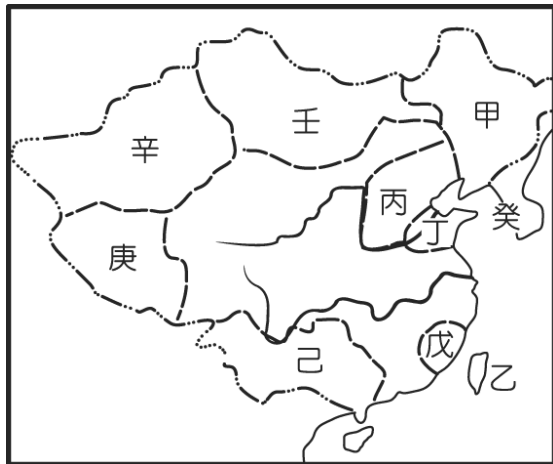
36. 太平天國從興起到結束長達十餘年之久，使清朝元氣大傷，請問期間依序經歷了那幾位皇帝？ (A) 嘉慶、咸豐、道光 (B) 道光、同治、咸豐 (C) 道光、咸豐、同治 (D) 咸豐、同治、光緒。
37. 太平天國的崛起，對清廷造成極大的震撼，竄擾之處更造成哪一地區經濟飽受摧殘？ (A) 長江中下游 (B) 黃河中下游 (C) 華北平原 (D) 東北地區
38. 太平天國可說是一個政教合一的組織，創辦人洪秀全是利用哪個宗教的教義成立的？ (A) 回教 (B) 佛教 (C) 基督教 (D) 道教
39. 湘軍在太平天國之亂中，以維護道統為號召，因而有突出的表現，並在歷史上留名。請問：下列何者領導湘軍贏得最後勝利，並順利成為當時清廷軍隊的核心？ (A) 李鴻章 (B) 曾國藩 (C) 林則徐 (D) 左宗棠。
40. 清朝在太平天國動亂期間，還有那一件「外患」？ (A) 鴉片戰爭 (B) 英法聯軍 (C) 牡丹社事件 (D) 中法戰爭。

(二) 清朝晚期積弱不振，也牽動影響臺灣政治局勢的發展，試回答以下問題：

41. 清朝因哪一件事失敗，被迫簽約允許臺灣開港通商，使外國勢力進入淡水、安平……等地？ (A) 牡丹社事件 (B) 英法聯軍 (C) 甲午戰爭 (D) 中法戰爭。
42. 承上題，此舉對臺灣的經濟產生的衝擊為何？ (A) 洋行取代公行 (B) 公行取代郊 (C) 洋行取代郊 (D) 公行取代商幫、會館。
43. 下列哪一項的發生，使清朝深感臺灣地位重要，決定將臺灣設為行省？ (A) 甲午戰爭 (B) 英法聯軍 (C) 牡丹社事件 (D) 中法戰爭。
44. 承上題，首任巡撫大人劉銘傳將臺灣建設為當時全中國最現代化的一省，此舉可視為下列何事之一環？ (A) 自強運動 (B) 戊戌變法 (C) 清末新政 (D) 立憲運動。
45. 「臺灣民主國」的成立與下列哪一條約有關？ (A) 南京條約 (B) 天津條約 (C) 馬關條約

(D)辛丑和約。

(三) 清朝晚期積弱不振，也牽動影響臺灣政治局勢的發展，試回答以下問題：



46. 中國向來為亞洲強權大國，卻在晚清幾乎慘遭列強瓜分，請問這樣的局面是在哪一戰爭之後？ (A)八國聯軍 (B)甲午戰爭 (C)中法戰爭 (D)第二次英法聯軍。
47. 清末列強劃定勢力範圍之際，聲稱「長江流域」為其勢力範圍的是哪一國？ (A)俄國 (B)英國 (C)法國 (D)日本。
48. 請問戊區為哪國勢力範圍？ (A)俄國 (B)德國 (C)法國 (D)日本。
49. 請問丁區為哪國勢力範圍？ (A)英國 (B)德國 (C)俄國 (D)日本。
50. 請問壬區為哪國勢力範圍？ (A)俄國 (B)英國 (C)法國 (D)美國。