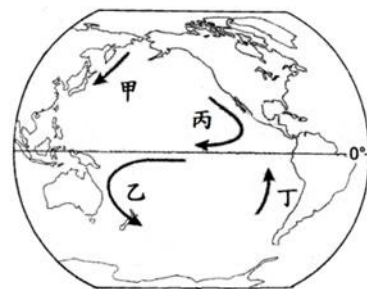
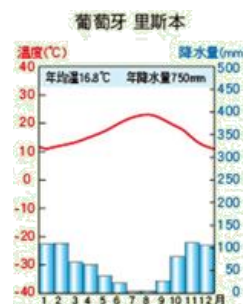


## 嘉義市立北興國中 107 學年度第二學期第二次定期評量二年級地理科試題

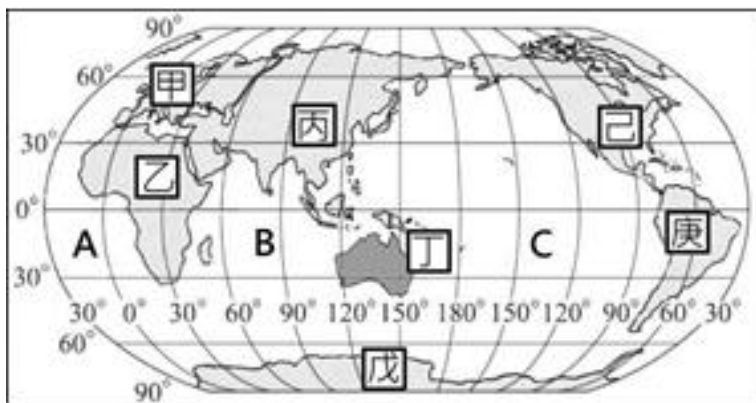
1. 青藏鐵路是世界海拔最高的鐵路，也是中國境內各省區中最晚完工的地方。請問：在興建鐵路的過程中，工程師們最不可能面臨下列何種困境？(A)凍土層的脆弱 (B)氣壓的偏低 (C)氣候的嚴寒 (D)流沙的移動。
2. 新疆是位在中國西部，氣候十分乾燥的行政區，此地以下列哪個方式取得水源，用於種植棉花、葡萄、哈密瓜等農作物，有瓜果之鄉的美名？(A)興建南水北調工程 (B)引用黃河河水灌溉 (C)修築坎兒井，收集融化雪水 (D)修建大型水庫收集地面雨水。
3. 天山、崑崙山地勢高聳，氣溫與植被呈垂直分佈，當地居民採取「垂直移動」的山牧季移，適應當地特殊的環境。請問：天山、崑崙山屬於何種氣候類型？(A)溫帶季風氣候 (B)溫帶大陸性氣候 (C)極地氣候 (D)高地氣候。
4. 柴達木盆地原是羌族的牧地，自 20 世紀□□□□以來，漢人不斷湧入此地尋求發展，在 1984 年青藏鐵路北段通車後，更利於客貨的運輸，聚寶盆地的稱號日漸流傳。請問：上述的空格填入下列哪一項最正確？(A)開採礦物 (B)興建坎井 (C)南水北調 (D)種植水稻。
5. 熱帶莽原氣候和溫帶地中海型氣候，具有下列哪一項共同的氣候特徵？(A)乾溼季節分明 (B)降水集中夏季 (C)終年高溫 (D)冬季乾燥少雨。
6. 「西部大開發」是希望透過區域間資源的開發及調配，以提高西部區域的經濟和社會發展水準。請問：要加速西部開發的首要工作為何？(A)開發礦產資源 (B)加強農作生產 (C)推動畜牧轉型 (D)基礎交通建設。
7. 世界人口較稠密的地區集中於季風亞洲地帶，其最主要的原因為何？(A)稻作農業養活眾多人口 (B)工業發達促使經濟繁榮 (C)夏乾冬雨的降雨特性適合作物生長 (D)政局穩定吸引人口移入。
8. 近年內蒙古地區的畜牧活動漸由游牧轉為定居放牧，生產目的從自給式轉為商業化；因此，牲畜數量不斷增加，這會對自然環境產生何種衝擊？(A)土石流頻率增加 (B)年雨量變率增大 (C)草場退化成沙漠 (D)土地鹽鹼化嚴重。
9. 青藏鐵路的通車為西藏的發展帶來新的契機，但也為西藏帶來一些潛在的危機，下列哪項危機是當前最顯而易見的？(A)使得板塊活動更加活躍。(B)中國與中亞國家的國防關係更敏感 (C)造成全球暖化嚴重 (D)自然生態與藏族文化保存不易
10. 1959 年時，中國出動軍方鎮壓西藏，這場血腥衝突迫使第 14 世達賴喇嘛展開了流亡生活，當年他和其他數萬名藏人為了逃離中國的統治，不畏艱難地翻越喜馬拉雅山，到鄰國他鄉求生存，他們最有可能來到下列哪個國家？(A)越南 (B)印度 (C)哈薩克 (D)俄羅斯。
11. 洋流對近海區域的氣候有明顯的影響。如：非洲西南部的那米比沙漠，沿海有【甲洋流】流經，空氣穩定、對流不盛，乾燥少雨。位於歐洲高緯度地區的挪威，因【乙洋流】經過，氣候較溫暖多雨，部分港口終年不凍。請問：上述的甲、乙洋流各是什麼性質的洋流？(A)暖流、寒流 (B)寒流、涼流 (C)涼流、暖流 (D)暖流、涼流。
12. KID 的部落格寫道：「待在新疆最不適應的，就是早上才 10：00 左右，已經像中午一樣炎熱，不管是羊，還是人，都躲在葡萄架下，…；傍晚才覺得比較涼爽，待日落後，就開始有寒意，不得不穿上外套，…。」文中描述的氣候特徵與新疆的哪一項地理特色最有關係？(A)是絲路必經之地，東西交通要道 (B)地形分布特徵：「三山夾兩盆」 (C)「黑金」(石油)與「白金」(棉花)資源豐富 (D)瓜果特別香甜，有「瓜果之鄉」的美稱。
13. 從外太空觀測時，地球是一個美麗的藍色星球。請問：這種現象代表了地球的何種特性？(A)植被豐富 (B)氣候溼潤 (C)海洋面積廣大 (D)陸域面積遼闊。

14. 台北市國際牛肉節的冠軍得主，接受訪問時說：「我希望到世界各地設立分店，讓全世界的人都可以分享這美食。」，請問這夢想無法在哪個國家實現？(A)沙烏地阿拉伯 (B)印度 (C)菲律賓 (D)墨西哥
15. 河套平原所在地是乾燥氣候但農業卻發展得很好，這與下列哪一條河川提供灌溉用水有關？(A)長江 (B)黃河 (C)雅魯藏布江 (D)珠江。
16. 青藏高原牧場上，有著黑色□□點綴，這幅景象正是藏民的生活舞臺，也孕育了藏人的文化特色。請問：□□最可能是哪種牲畜？(A)馬 (B)羊 (C)駱駝 (D)犛牛。
17. 在教義當中，規定信徒不能食用不聖潔的食物如豬肉、酒類，並要依時刻朝聖地跪拜的宗教為何？(A)佛教 (B)基督教 (C)印度教 (D)伊斯蘭教。
18. 北興國中為了加強國際交流，想與中南美洲的學校締結為姊妹學校，校長在前往接洽之前，若要練習幾句問候語，應該學習哪一種當地使用的語言？(A)西班牙語 (B)法語 (C)德語 (D)英語。
19. 漢武帝時為了經營西域與匈奴，派軍出征陽關以西的「交通要道」，設立了武威、張掖、酒泉、敦煌等四郡，分隔了內蒙古高原與祁連山的往來。上述的交通要道指的是下列何處？(A)河套平原 (B)河西走廊 (C)準噶爾盆地 (D)天山山脈。
20. 右圖是葡萄牙首都里斯本的氣候圖，請由右圖判斷里斯本屬於下列哪一個氣候類型？(A)北半球的溫帶地中海型氣候 (B)南半球的溫帶地中海型氣候 (C)溫帶大陸性氣候 (D)副極地氣候。
21. 位於藏北高原的納木錯在藏語中是「天湖」，它同時也是世界上海拔最高的鹹水湖。藏北高原上湖泊眾多，與下列哪一作用關係最密切？(A)雨水溶蝕(B)火山噴發(C)風力侵蝕(D)冰河侵蝕。
22. 志安上網尋找中國少數民族的資料，他打的關鍵字有「糌粑、轉經輪、高原之舟」，他了解的是哪一少數民族？(A)藏族 (B)蒙古族 (C)維吾爾族 (D)哈薩克族。
23. 「稀土」是現代工業生產的重要原料，目前被廣泛運用在石油、化工、航太、電子、雷射等領域，工業大國無不將稀土金屬視為戰略資源。請問：下列何處是中國稀土礦物蘊藏最多之處？(A)柴達木盆地 (B)塔里木盆地 (C)青藏高原 (D)內蒙古高原。
24. 右圖為世界洋流簡圖，圖中甲、乙、丙、丁為四股著名洋流。根據洋流流向判斷，下列敘述何者正確？(A)甲為寒流 (B)乙為涼流 (C)丙為暖流 (D)丁為暖流。
25. 「口岸」是國家指定對外往來的門戶，是國際貨物運輸的樞紐，吉木乃口岸是中國某地區與哈薩克邊境小額貿易和旅遊購物貿易的地方，該地向哈薩克進口石油、天然氣、及金屬礦產，出口日用消費品到哈薩克，請問，某地區最可能是下列何者？(A)寧夏回族自治區 (B)新疆維吾爾族自治區 (C)內蒙古族自治區 (D)西藏自治區。
26. 內蒙古東部為茂盛的草原，西部轉為乾旱的礫漠或沙丘，東西部景觀的差異，與下列哪一項因素最有關係？(A)年日溫差大 (B)地形起伏的不同 (C)季風的強度 (D)距海遠近。
27. 全球氣候大致可分為熱帶、溫帶及寒帶三大氣候區，其分類的指標為何？(A)地勢高低 (B)緯度高低 (C)洋流有無經過 (D)距海遠近差異。
28. 自15世紀的大航海時代以來，「這個語言」隨著海上強權國家的興盛而流傳，至今成為流傳最廣的全球通用語言，印度、新加坡、香港等亞洲區域定為官方語言。請問：上述的語言是什麼？(A)英語 (B)荷蘭語 (C)西班牙語 (D)華語。



■右圖為世界簡圖，請問：

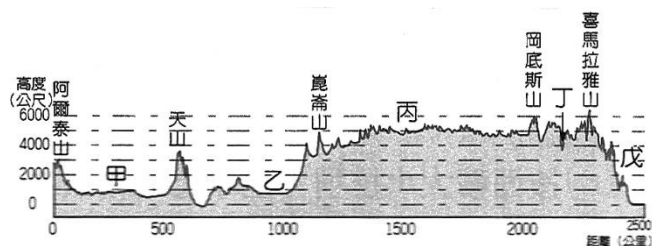
29. 撒哈拉沙漠是世界上第一大沙漠，而我們對於沙漠的印象應該是一片無盡的荒漠景象，其實裡頭包含的現象可豐富了，諸如岩漠、沙漠、沙漠風暴等，日夜溫差極大。請問：撒哈拉沙漠位於圖中哪一地理區？(A)己 (B)丁 (C)丙 (D)乙。
30. 新聞報導：「南美洲的亞他加馬沙漠，是地球上最乾燥的地方。年平均降雨量小於0.1毫米，有統計更指，1570年至1998年長達400多年時間幾乎未曾下雨。」新聞中提到的地方應該位於圖中何處？(A)己 (B)庚 (C)丙 (D)乙。



31. 上圖各洲中，面積最大和面積最小的洲分別是？(A)甲、庚 (B)乙、己 (C)丙、丁 (D)丙、戊。
32. 陸半球及水半球的中心分別位於哪兩個洲？(A)丁、戊 (B)甲、丁 (C)丙、乙 (D)乙、庚。
33. 「C」的海域名稱是什麼？(A)大西洋 (B)印度洋 (C)太平洋 (D)北極海。
34. 沿著哪一條緯線飛行經過地陸地最少？(A)0° (B)60° N (C)60° S (D)40° N。

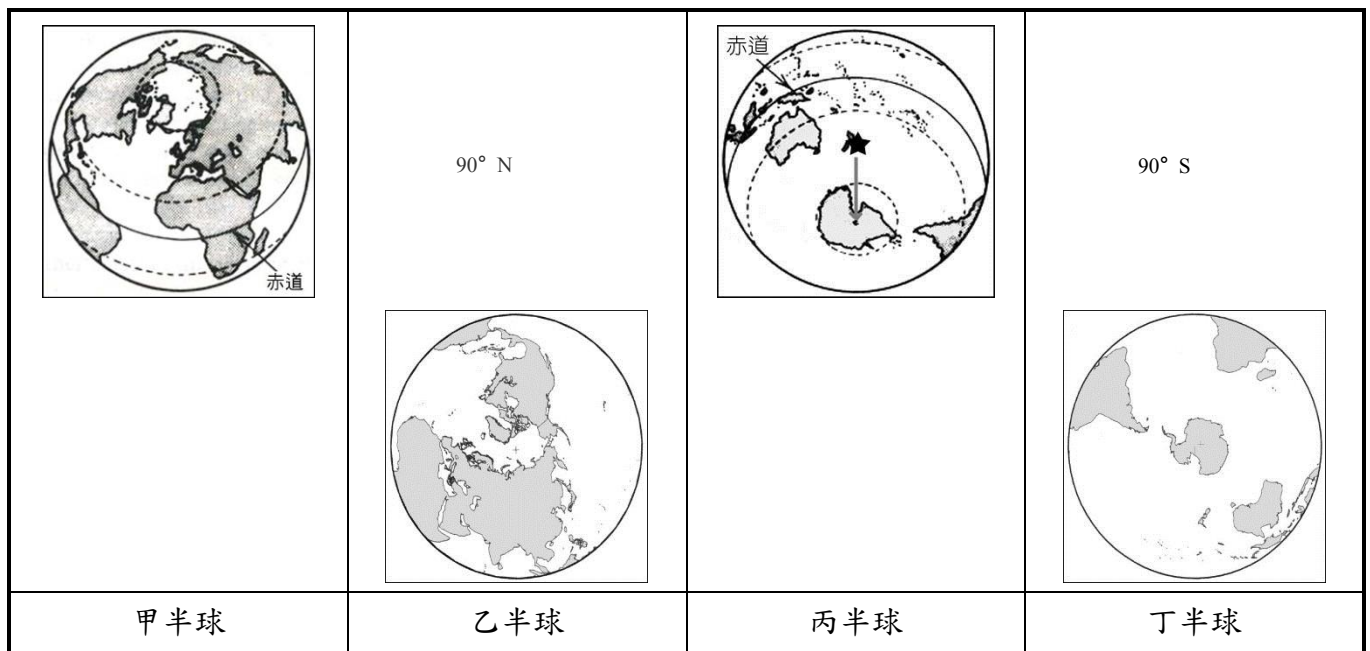
■右圖為中國西部區域的地形剖面圖，請問：

35. 乙區年雨量<100 mm，比甲區(年雨量100~250 mm)還乾燥，為何農業比較發達？(A)四周山勢較高 (B)農業科技較發達 (C)人口較多 (D)氣溫較高。
36. 「丙」點地勢高聳，是一片寒漠景觀，行走於高原面，可能遭遇的困難，下列何者有「誤」？(A)空氣稀薄 (B)氣壓高，風勢小 (C)氣溫低，水氣少 (D)日夜溫差大。



37. 此張地形剖面圖的方向標應如何表示？(A) (B) (C) (D) (A) 甲 (B) 乙 (C) 丙 (D) 丁。

■依據不同的畫分方式，地球可用下列4種「半球」顯示，請配合敘述做正確的回答：



39. 上列4種半球地圖，哪一個圖示以「北極海」作為中心？(A)甲半球 (B)乙半球 (C)丙半球 (D)丁半球。
40. 「海洋面積佔此半球的55%，陸地範圍佔此半球的45%，是擁有最大比例陸地的半球。」上述的是哪個圖示的半球？(A)甲半球 (B)乙半球 (C)丙半球 (D)丁半球。
41. 甲半球的中心點，是下列何處？(A)歐洲的法國 (B)大洋洲的紐西蘭 (C)北緯90度 (D)南極點。
42. 丁半球的名稱是什麼？(A)南半球 (B)北半球 (C)水半球 (D)陸半球。

■下圖為中國西部地區簡圖，請依圖回答第42~50題：

43. 「此盆地原本為海洋，後來受到地殼構造運動影響而隆起，海水被蒸發而留下許多鹽類資源，且盛產煤、石油，也被稱為『聚寶盆』。」請問：此盆地是位於圖中的何處？  
(A) 辛 (B) 庚 (C) 丁 (D) 丙。

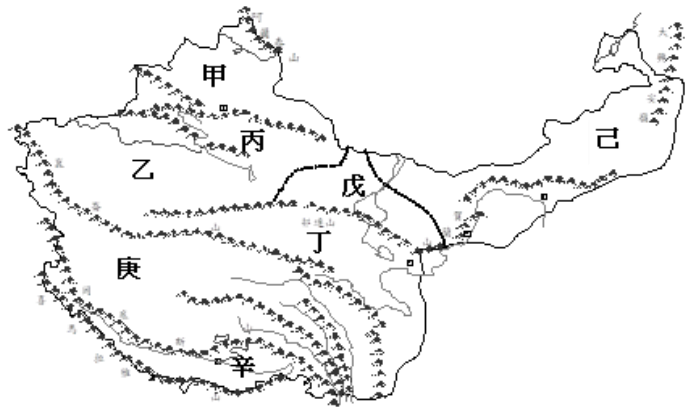
44. 某旅行社近日推出大陸暑假促銷行程：有一個廣告寫道：「那達慕大會的摔跤、射箭、賽馬為「男子三藝」，傳統的技藝比賽必讓你大開眼界，遼闊的草原景觀必讓你不虛此行……。」試問：這行程，應該是在圖中的何處 (A) 戊 (B) 己 (C) 庚 (D) 辛。

45. 圖中甲、乙兩大盆地的分界線，指的是下列哪一座山脈？(A)賀蘭山 (B)陰山 (C)天山 (D)巴顏喀喇山。

46. 古人為了前往西域與歐洲通商，因此積極尋找可通行之路線，最後決定經過戊的路線最佳，試問其考量因素為何？(A)水源充足 (B)牧業發達 (C)政治安定 (D)河運便利。

47. 「可可西里」是蒙語中「美麗的少女」之意，此地 區位於青海省西北部，由於位處高寒缺氧地帶，常年大風，人煙稀少，被稱做「生命的禁區」。請問：「可可西里」最可能位於下列哪個地理區內？  
(A) 甲 (B) 戊 (C) 庚 (D) 乙。

48. 圖中的乙盆地是中國最乾燥的區域，年降水量低於100 毫米。除了「四周高山包圍，水氣不易進入」的地形因素外，還有哪個原因使此地降水缺乏？



(A)氣溫低，水氣不易凝結 (B)距海遙遠 (C)位在盛行李風的迎風坡 (D)寒流經過，不易成雲致雨。

49. 「西元 2014 年 8 月 11 日，西藏發生遊覽車墜落山崖的車禍，多人死亡，地點距離拉薩約 100 多公里處，峽谷河水湍急，救援困難」文中所敘述的地方是指圖中的哪一個地區？(A)乙 (B)丁 (C)庚 (D)辛。

50. 圖中的世界第一高山是位於下列哪兩個板塊間的接觸地帶？

(A)歐亞⇌菲律賓 (B)北美⇌太平洋 (C)非洲⇌阿拉伯 (D)印澳⇌歐亞 板塊。

恭喜你完成所有題目的作答