

請考生依指示

填寫准考證末兩碼

107 九年級第四次國中教育會考模擬測驗

社會科題本

第1～6冊

社會

請不要翻到次頁！

讀完本頁的說明，聽從監試委員的指示才開始作答！

※請先確認你的答案卡、准考證與座位號碼是否一致無誤。

請閱讀以下測驗作答說明：

測驗說明：

這是國中教育會考模擬測驗社會科題本，題本採雙面印刷，共15頁，有63題選擇題，每題都只有一個正確或最佳的答案。測驗時間從08:30到09:40，共70分鐘。作答開始與結束請聽從監試委員的指示。

注意事項：

1. 所有試題均為四選一的選擇題，答錯不倒扣。
2. 試題中所附圖形，如有附上比例尺，以比例尺為依據作答；若無比例尺，則該圖僅作為參考，不代表實際大小。
3. 可利用題本中空白部分計算，切勿在答案卡上計算。
4. 依試場規則規定，答案卡上不得書寫姓名座號，也不得做任何標記。故意汙損答案卡、損壞試題本，或在答案卡上顯示自己身分者，該科考試不予計列等級。

作答方式：

請依照題意從四個選項中選出一個正確或最佳的答案，並用**2B**鉛筆在答案卡上相應的位置畫記，請務必將選項塗黑、塗滿。如果需要修改答案，請使用橡皮擦擦拭乾淨，重新塗黑答案。例如答案為**B**，則將**Ⓐ**選項塗黑、塗滿，即：**Ⓐ** ● **Ⓑ** ● **Ⓒ** ● **Ⓓ**

以下為錯誤的畫記方式，可能導致電腦無法正確判讀。如：

Ⓐ ● **Ⓑ** **Ⓒ** **Ⓓ** — 未將選項塗滿

Ⓐ **Ⓑ** **Ⓒ** **Ⓓ** — 未將選項塗黑

Ⓐ ● **Ⓑ** **Ⓒ** **Ⓓ** — 未擦拭乾淨

Ⓐ ● **Ⓑ** **Ⓒ** **Ⓓ** — 塗出選項外

Ⓐ ● **Ⓑ** ● **Ⓒ** **Ⓓ** — 同時塗兩個選項

1. 九年甲班的公民課程報告主題是「社會福利政策」，佑佑跟他的組員找了三份資料進行討論如圖(一)，根據圖中內容判斷，該組所要報告的「社會福利」項目，最可能是下列何者？

- (A) 福利服務
- (B) 社會救助
- (C) 社會津貼
- (D) 就業安全

2. 阿惠看到一篇時事評論的部分內容如圖(二)，根據圖中內容，下列何者最符合其所要表達的意涵？

- (A) 社會變遷與文化傳承的衝突
- (B) 企業倫理與永續發展的推展
- (C) 文化創新與傳播媒體的影響
- (D) 社會福利與社會正義的實踐

3. 龍龍在網路上查詢某團體資料後，整理部分內容如圖(三)。根據圖中內容判斷，下列針對該團體的說明何者正確？

- (A) 此團體是依據《民法》向內政部登記立案
- (B) 該協會的功能應為關係取向大於工作取向
- (C) 組成義務律師團，目的是為維護無辜者的平等權
- (D) 此協會是利益團體，可能會影響公共政策的制定

4. 圖(四)是南一社區大學李老師與張老師的對話。根據圖中內容判斷，兩人的對話內容最能彰顯出下列何項概念？

- (A) 媒體接近使用權與媒體識讀的思辨
- (B) 智慧財產的保障與合理使用的範圍
- (C) 多元文化的尊重與終身學習的落實
- (D) 強勢文化的傳播與文化衝突的產生

5. 阿翔因為體育方面表現優異，有四所高中願意提供入學獎學金如表(一)，他跟家人討論時提到「所有選擇的機會成本都是相同的」；請問：在其他條件不變的情況下，阿翔所說的機會成本是多少？

- (A) 2萬元
- (B) 4萬元
- (C) 5萬元
- (D) 6萬元

新移民的生活適應輔導課程介紹

受虐婦女的緊急庇護管道

身心障礙者的輔助工具申請方式

圖(一)

為了減少空氣汙染，部分的大型廟宇開始「封金爐禁止焚香燒紙錢」，或者減少焚香的金爐設置；但也有人憂慮，若往後廟宇都沒有焚香祭拜的儀式，下一代就不知道「香火」的信仰價值了！

圖(二)

2002年登記立案為社會團體

主要目標為救援冤案無辜者，為其辯護

多次召開國際論壇與記者會，呼籲政府進行司法改革

台灣冤獄平反協會

圖(三)

李老師，你的上課簡報使用我的文章呢？

是啊！但我使用是為了教學，用一小段內容，而且來源喔！

張老師

李老師

圖(四)

表(一)

選擇項目	獎學金
甲 無敵高中	2萬元
乙 閃亮高中	4萬元
丙 陽光高中	5萬元
丁 星星高中	5萬元

6. 文化團體籌辦「魅力南島就在臺灣」營火晚會，強調臺灣原住民文化是南島語族文化的重要成分，呼籲大家要保存日益消失的原住民文化。請問：下列有關臺灣原住民文化的敘述何者正確？

- (A) 最早原住民文化遺址是十三行文化 (B) 昔日原住民多以游耕方式種植小米
(C) 臺灣高山族原住民均屬於父系社會 (D) 魯凱族的矮靈祭文化最具祭祀特色

7. 西元1600年（明萬曆28年）中國人口約略1億5千萬，至西元1790年（清乾隆55年）增至3億人口。探究其因，除了清朝初年太平盛世外，更重要的是15世紀大航海時代開啟後，從海外傳入番薯、馬鈴薯、玉米等糧食作物養活眾多百姓。請問：上述三項農作物的原產地，最有可能位於圖(五)中的何處？



圖(五)

- (A) 甲 (B) 乙 (C) 丙 (D) 丁

8. 臺中市石岡的土牛國小校園內保存了一塊乾隆26年（1761年）的土牛碑，碑文如下：「勘定朴子籬處，南北計長貳佰捌拾伍丈伍尺，共堆土牛壹拾玖個。每土牛長貳丈，底闊壹丈，高捌尺，頂闊陸尺。每溝長壹拾伍丈，闊壹丈貳尺，深陸尺。永禁民人逾越私墾。」請問：「永禁民人逾越私墾」和當時政府實施下列哪一政策有關？

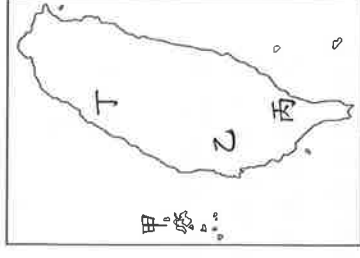
- (A) 開山撫番 (B) 渡臺禁令 (C) 劃界封山 (D) 鎮國政策

9. 電影公司籌拍歷史宮廷劇，以下是部分劇情的對白：

皇帝：朕計畫將首都從平城遷至洛陽、三十歲以下禁說胡語、改胡姓為漢姓。
大臣：啟稟皇上，這些政策可能會引起鮮卑族人不滿，請皇上三思。
請問：下列選項何者與這部宮廷劇的主題有關？

- (A) 東漢末年爆發黃巾之亂 (B) 北魏孝文帝的漢化政策
(C) 唐玄宗時爆發安史之亂 (D) 宋朝與遼國簽訂《澶淵之盟》

10. 荷蘭人Meijenstein所寫的《梅氏日記》中，提到關於鄭成功軍隊攻打熱蘭遮城的艱辛。梅氏說，鄭成功軍隊嚴重欠缺米糧，使他的軍隊無法繼續駐守大員，軍隊分南北二路被派出去屯田，整個赤崁一帶只剩下鄭成功的親兵二百多人。請問：當時軍隊屯田，最主要的是自圖(六)哪一區分為南北二路？



圖(六)

- (A) 甲 (B) 乙
(C) 丙 (D) 丁

11. 某位歷史人物曾主張：「贖罪罰應與自恨、即真正的內心懺悔同步進行，直到進入天國。……推銷贖罪券的教士們鼓吹『教皇的贖罪券能使人免除一切懲罰，並且得救』，便陷入了謬誤。因此，教皇事實上並沒有赦免煉獄中靈魂的任何處罰。」請問：這位歷史人物可能為下列何者？

- (A) 耶穌 (B) 哥白尼 (C) 馬丁路德 (D) 狄奧多西

療資源匱乏，沿線居民若發生疾病或意外，救護單位只能將病患送至臺東市、屏東市甚至高雄市，由於路途遙遠，不少病患因來不及送醫而往生。2018年5月，南迴路段緊急醫療照護中心終於在臺東縣 大武鄉動工，預計2020年開始提供緊急醫療服務。」上文中的緊急醫療照護中心緊鄰下列哪座山脈？

- (A) 雪山山脈
- (B) 中央山脈
- (C) 玉山山脈
- (D) 海岸山脈

13. 「登革熱」主要是由病媒蚊傳播病毒，感染人體後會造成不適甚至危及生命。圖(七)是2013年全球登革熱案例分布圖，甲、乙兩線為昔日登革熱疫區的邊界。在「全球氣候變遷會改變病媒蚊活動範圍」的假設下，預測這兩條線未來最可能產生下列何種變化？

- (A) 甲、乙皆往南移動
- (B) 甲、乙皆往北移動
- (C) 甲往北移動，乙往南移動
- (D) 甲往南移動，乙往北移動



圖(七)

14. 日本位於環太平洋火山地震帶，地震頻仍，因此該國在國內各地建立地震監測點，並利用通訊系統即時發布地震警報，為人們爭取緊急應變的時間。圖(八)為南海周遭國家分布簡圖，圖中哪個地區可能最需要仿效上述日本建立監測點與災害通報系統的做法？

- (A) 甲
- (B) 乙
- (C) 丙
- (D) 丁



圖(八)

- 15 表(二)是2016年經濟部工業局調查的臺灣前十大國際品牌及其主要產品。表中的企業大多具有下列哪項產業特色？

- (A) 資金與技術需求高
- (B) 廠房鄰近原料產地
- (C) 需要大量廉價勞力
- (D) 多屬於第三級產業

排名	公司名稱	主要產品
1	華碩(ASUS)	電腦、行動裝置
2	趨勢科技	電腦防毒軟體
3	旺旺控股	金融控股
4	中信金	金融控股
5	巨大機械	腳踏車
6	研華科技	工業用電腦
7	宏基(Acer)	電腦、行動裝置
8	美利達工業	腳踏車
9	聯發科技	半導體、系統晶片
10	宏達電(HTC)	手機、虛擬實境

16. 臺灣總督府在西元1935年辦理第一屆市會及街庄協議會選舉，其選舉規定如圖(九)說明。結果當時全臺400多萬的人口，合格的選民只有28,000人。若從我國目前人民基本權利與選舉的相關法律規定來看圖中內容，下列分析何者正確？

- (A) 此規定限制女性「自由權」的行使
- (B) 性別與財產限制違反「普通」原則
- (C) 擁有投票權的年齡與現在規定相同
- (D) 投票權的居住時間比現在的規定短

圖(九)

選舉人必須為日本帝國之臣民、年滿25歲和住滿6個月的規定外，並限制只有男性和年繳稅金五圓以上的人才能投票。

17. 葉教授演講時，引用一則電視劇情內容如圖(十)。根據圖中內容判斷，下列有關家庭與法律適用的分析何者正確？



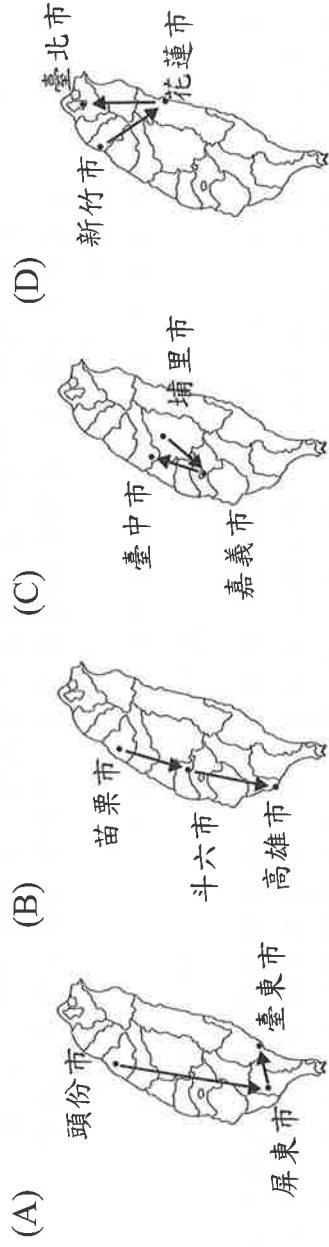
- (A) 劇情中的家庭型態屬於聯合家庭
- (B) 簡介內容反映家務分工發生衝突
- (C) 劇中勝華請假的行為適用《性別工作平等法》
- (D) 媒體揭露贊助來源已違反《個人資料保護法》

電視劇「吳家女婿」簡介：
勝華與太太、兩個小孩與岳父母同住，太太努力工作賺錢，他則是請育嬰假在家照顧小孩、料理家務，面對這樣的人生，他該如何成為岳父母心目中的吳家好女婿？
*本節目經費由「鑽石集團」贊助

圖(十)

18. 阿吉參加一場「益智送信大賽」，他必須依照圖(十一)中的闖關提示，將送信的順序排列成與提示中的三個地方層級相同，才能獲勝。請問：他應選擇下列哪張圖中的順序，才能贏得比賽？

圖(十一)



19. 張老師在研討會進行報告時，引用了相關的資料如圖(十二)所示。根據圖中內容，他最有可能是在介紹下列何項主題？

- (A) 政府提供公共財與解決外部成本
- (B) 中央政府職權與地方自治的衝突
- (C) 地方行政與立法機關的分權制衡
- (D) 地方政府的公共造產與收入運用

◎臺北市議會審議通過市府提案的《臺北市大型群眾活動安全管理自治條例》
◎宜蘭縣頭城鎮民代表會表決通過鎮公所提出的行政區用地售出案

圖(十二)

明選擇扮演西漢開國皇帝角色。請問：小明於遊戲中設定角色身分資料時，應點選下列哪一資料才符合史實？

- (A) 焚書坑儒的殘暴皇帝 (B) 罷黜百家獨尊儒術的皇帝
(C) 統一中國文字的皇帝 (D) 中國歷史第一位平民皇帝

21. 圖(十三)為史上最年長的護照持有人——法老王拉美西斯二世。1974年，博物館發現拉美西斯二世的木乃伊身上長有真菌，因此館方決定將木乃伊送至法國修復。為了「出國」，法老母國政府特別製發一本護照給他，並在職業欄上註明「國王」，而法國也對這位貴客予以元首般的待遇，包含軍機護送、專用通道等。請問：上述護照應為下列何國所製發？

- (A) 印度 (B) 伊朗 (C) 希臘 (D) 埃及



圖(十三)

22. 2018年10月底，武俠小說泰斗金庸辭世，令眾多小說迷感到不捨。金庸的作品享譽華人世界，但在臺灣卻有一段時期被列為禁書，有一說是因其著作《射鵰英雄傳》一書，其中「射鵰」兩字，跟毛澤東作品《沁園春》中字句「成吉思汗，只識彎弓射大鵬」重合，有「為匪宣傳」嫌疑，金庸因此被視為「附匪文人」。直到1985年後，臺灣政治風氣逐漸轉變才解禁。請問：當時金庸小說之所以被禁，和下列何者最有關聯？

- (A) 頒布《戒嚴令》 (B) 推動三不政策
(C) 中共宣布一國兩制 (D) 金馬小三通

23. 1896年大日本帝國議會為了如何管理新獲得的殖民地，議員們熱烈討論發言：議員甲：「這是大日本帝國統治的第一個海外殖民地，要思考如何有效管理？」議員乙：「該地距日本遙遠，建議初期授權總督，使其發布的命令等同法律，才能有效管理。」

請問：日本帝國議會正討論哪一個殖民地的管理對策？

- (A) 臺澎地區 (B) 朝鮮半島 (C) 珍珠港 (D) 新加坡

24. 某一歷史文件內容包括：廢止祕密外交、裁減軍備、設立國際和平機構、民族自決和主權獨立原則……等主張。其中民族自決最受重視，是指各民族有權按照自己的意願來處理自己的事情。這份文件發表於1918年，作為交戰國間議和的基礎，希望能公平合理的解決戰後問題。請問：這份歷史文件最有可能為下列何者？

- (A) 《開羅宣言》 (B) 《凡爾賽條約》 (C) 《門羅宣言》 (D) 《十四點和平原則》

25. 1949年底，國民政府因內戰失利遷臺。1950年1月5日，美國總統杜魯門在記者會上說，美國不會幫助「臺灣進行防禦或向該處的部隊提供軍事援助來干預中國的內戰」。但時隔數月後，杜魯門發表「6·27」聲明，命令美軍第七艦隊協防臺灣海峽。請問：當時杜魯門總統對臺灣政策的改變，和下列哪一事件的發生有關？

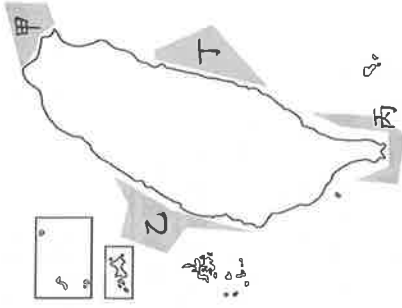
- (A) 北韓進攻南韓 (B) 八二三炮戰
(C) 古寧頭戰役 (D) 二二八事件

26. 離岸風電是指在海上興建風力發電機，通常會設在海床較為平淺的大陸棚。相對於陸地，海上強風頻率高，更具發電效益，此外風力發電機產生的噪音也不容易影響到人類生活。臺灣近年來也積極發展離岸風電，在考量離岸風電設立的場址條件與表(三)臺灣各地的平均風速資料，圖(十四)中的哪處海域，較適合進行離岸風力發電機的設置？

表(三)

	一月平均風速 (公尺/秒)	七月平均風速 (公尺/秒)
蘭嶼	8.1	8.4
蘇澳港	3.0	2.9
基隆港	3.5	2.6
臺中港	6.9	3.7
高雄港	2.5	2.6

(A) 甲 (B) 乙 (C) 丙 (D) 丁



圖(十四)

27. 表(四)是臺灣4個傳統農業鄉鎮某年的人口資料。表中哪個鄉鎮的人口外流情況可能最為嚴重？

表(四)

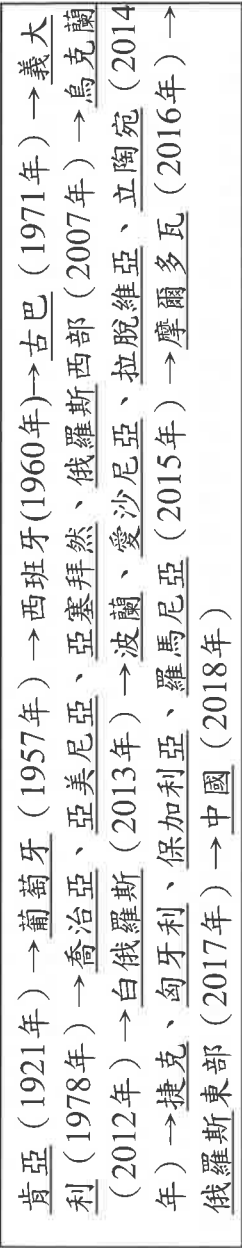
	新竹 橫山	彰化 埤頭	臺南 麻豆	花蓮 玉里
出生率(‰)	20.6	20.4	16.6	17.4
死亡率(‰)	4.4	4.9	5.8	7.7
人口增加率(‰)	4.7	9.5	8.5	1.8

(A) 新竹 橫山 (B) 彰化 埤頭 (C) 臺南 麻豆 (D) 花蓮 玉里

28. 臺灣島位居歐亞大陸板塊與菲律賓海板塊的交接處，此兩大板塊擠壓時，使臺灣大部分地區的地殼逐漸上升。下列哪種地形演育「最適合」作為此一事實的證據？

(A) 金門大陸島的形成 (B) 外傘頂洲面積的縮減
(C) 基隆岬灣海岸的構成 (D) 墾丁珊瑚礁台地的生成

29. 非洲豬瘟 (ASF) 自1921年於肯亞爆發病例之後，開始透過豬肉產品的國際貿易向各國傳播，傳播路線整理如圖(十五)。根據傳播路線與年代，其傳播過程最可能具有下列哪項特性？



圖(十五)

(A) 1920年以後，傳播範圍僅限於非、歐、亞三個大洲
(B) 1950年以後，傳播範圍由乾燥氣候擴展到溼潤氣候
(C) 2000年以後，傳播速度因貿易關係往來密切而加快
(D) 2015年以後，傳播速度受高山阻隔影響而變得緩慢


如表(五)，根據前述及表中內容判斷，下列敘述何者正確？

表(五)

法規內容	罰則修正前	罰則修正後
大量排放空氣汙染物，因而致人於死者。	處無期徒刑或七年以上有期徒刑，得併科新臺幣五百萬元以下罰金。	處無期徒刑或七年以上有期徒刑，得併科新臺幣三千萬元以下罰金

- (A) 表中所列罰則內容在修正前後皆屬主刑
 (B) 該法規內容修正後將行政責任罰則提高
 (C) 該法規修正通過後須經過行政院長公布才會生效
 (D) 若立法院認為法案窒礙難行可以向行政院提出覆議

31. 圖(十六)是一則關於國際組織的介紹。依據圖中內容判斷，下列對該組織的說明何者正確？



圖(十六)

32. 曾有學者在探討羅馬帝國滅亡的眾多原因時，發現其中之一提到約於西元150年後，政府鑄造的錢幣數量愈來愈多，以支付大量的戰爭費用，加上戰爭導致生產停滯，使小麥等糧食價格飛漲，須不斷鑄造更多的錢幣，衝擊整個帝國經濟逐漸走向衰敗之路。請問：依據前文所述，當時的羅馬帝國最可能出現下列何種現象？

- (A) 市場通貨膨脹而且貨幣持續貶值
 (B) 國家發行紙鈔逐漸取代金屬貨幣
 (C) 商品貨幣大增造成國際貿易盛行
 (D) 糧食的供給量增加因此價格上升

33. 老師在課堂進行「法律對對碰」活動，請同學將表(六)中的事件與對應的法律責任進行配對，根據表中內容判斷，下列各項配對組合，何者完全正確？

表(六)

法律責任	事件
(甲) 民事責任	(丙) 深夜縱火毀其屋舍(己) 深夜在家狂歡喧鬧(壬) 無照駕駛蛇行超速
(乙) 刑事責任	(丁) 酒醉駕車肇事傷人(庚) 租用汽車拒付租金(癸) 收售贓物轉賣他人
	(戊) 拒絕償還友人債務(辛) 選前賄選妨礙投票

- (A) 甲—丙、戊、庚、辛
 (B) 甲—戊、己、庚、癸
 (C) 乙—丁、己、辛、壬
 (D) 乙—丙、丁、辛、癸

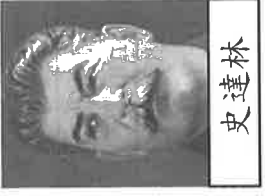
34. 1936年，某國的政治宣傳海報上，描繪了代表其國家主要思想的幾位偉大領袖如圖(十七)。請問：這些偉大的領袖，他們共同的主要理念為何？



馬克思



列寧



史達林

圖(十七)

- (A) 帝國主義 (B) 社會達爾文主義 (C) 共產主義 (D) 資本主義

35. 以下是20世紀前期某個國家的政策：「對於敵國侵略東北方的領土，採取不抵抗策略，將其侵略行為訴諸國際聯盟仲裁，而國家則集結大軍對境內的共產黨部隊進行圍剿。」請問：上述國家政策最有可能為下列何者？

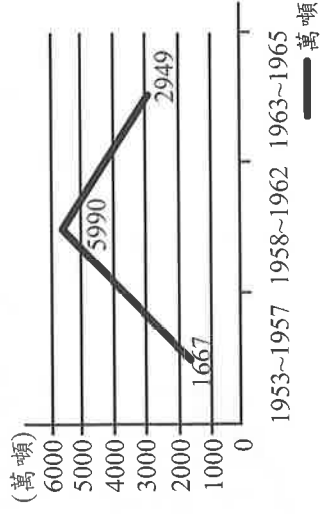
- (A) 1928年美國的孤立主義政策 (B) 1931年中國的攘外必先安內政策
(C) 1935年義大利恢復古羅馬光榮政策 (D) 1938年英國的姑息主義政策

36. 漢朝選拔人才有從社會基層選用的作法，如漢文帝時的名臣鼂錯，便是以「賢良文學」入選，又經過帝王親自策試，得以升遷為中大夫；至漢武帝即位之初，就詔令中央和地方主要的行政長官「舉賢良方正直言極諫之士」、六年後又下詔「初令郡國舉孝廉各一人」。依據上段敘述選出漢朝選用人才的方式為下列何者？

- (A) 察舉制度 (B) 科舉制度 (C) 郡縣制度 (D) 九品官人法

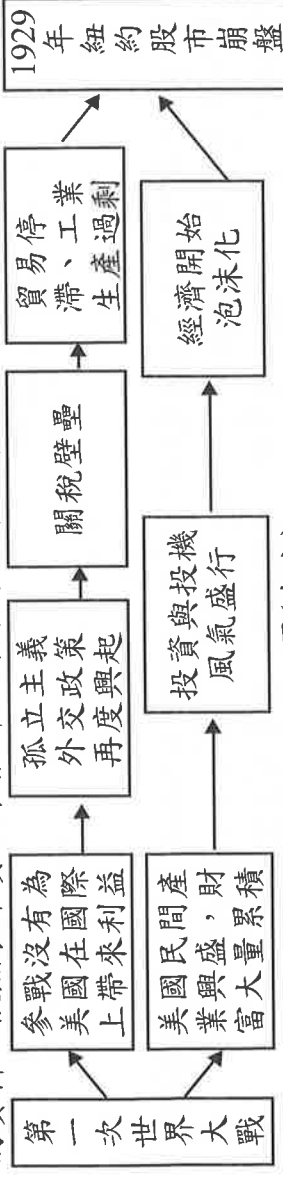
37. 圖(十八)為某國於1953~1965年間的鋼鐵產量變化情形，由圖中1958~1962年鋼鐵產量的變化情形判斷，請問：圖(十八)最有可能為下列哪一國家所出現的現象？

- (A) 日本進行明治維新
(B) 臺灣推動十大建設
(C) 美國面臨反越戰風潮
(D) 中國展開大躍進運動



圖(十八)

38. 圖(十九)為第一次世界大戰後，美國國內產業與社會的發展，進而影響其外交政策的資料。依照表中資訊來推斷，對當時社會影響最劇烈的問題為下列何者？



圖(十九)

- (A) 戰後種族歧視問題嚴重
(B) 世界經濟大恐慌的衝擊
(C) 無法成立世界和平組織
(D) 恐怖主義威脅甚囂塵上

水量。表中何者最可能為臺灣？

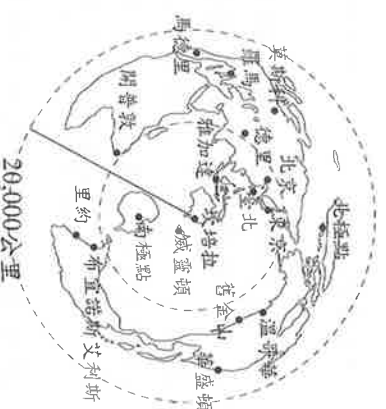
表(七)

國家	世界	甲	乙	丙	丁
平均年降水量 (mm/年)	973	760	1,170	460	2,467
每人平均分配降水量 (m ³ /人/年)	21,796	25,565	3,795	188,550	4,074

- (A) 甲 (B) 乙 (C) 丙 (D) 丁

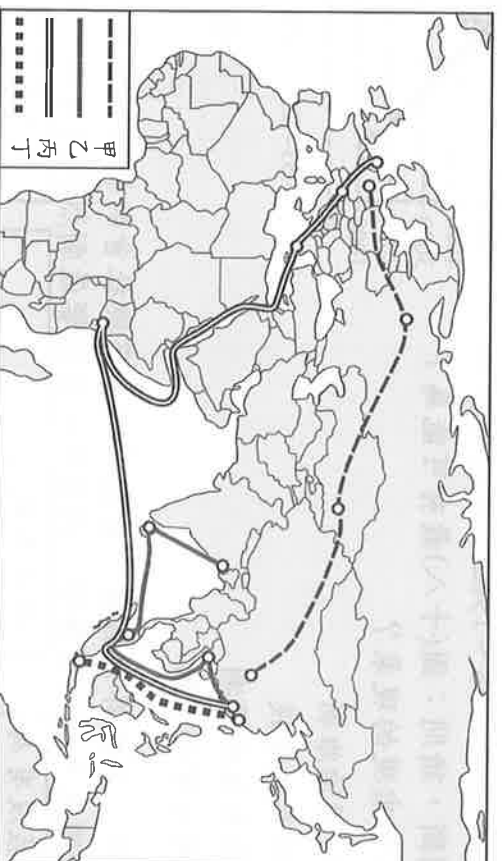
40. 圖(二十)為以澳大利亞坎培拉為中心與全球各大都市的距離圖。根據此圖判斷，距離坎培拉最遠的都市，其所在地區最可能見到下列哪種農業景觀？

- (A) 高山河流旁的冷風吹拂的青稞
(B) 丘陵山腳旁的葡萄與橄欖園
(C) 沙漠中引河水灌溉的小麥田
(D) 大平原上一望無際的甘蔗園



圖(二十)

41. 中國在2013年倡議一帶一路計畫之前，即開始積極推動國內各都市與國外聯繫的交通建設，以利貨物的運輸，圖(二十一)即為陸續規畫的四條交通路線。2011年華碩筆電即看中此交通建設規劃藍圖，至重慶設立中國第二營業總部，希冀透過其中一條交通路線，將產品外銷至海外，表(八)即為該交通路線的基本資料，該交通路線最可能是圖(二十一)中的何者？



圖(二十一)

表(八)

里程	全長11,179公里，貨物運送約13~15天，較過往30~40天，縮減不少運輸時間。
運費	每兩個標準貨櫃每公里0.4美元。整體而言，僅約為空運的五分之一。
路線	經過 <u>中國</u> 、 <u>哈薩克</u> 、 <u>俄羅斯</u> 、 <u>白俄羅斯</u> 、 <u>波蘭</u> 及 <u>德國</u> 等國。
經營	2012年 <u>中</u> 、 <u>德</u> 、 <u>俄</u> 、 <u>哈薩克</u> 等國跨國合資成立「 <u>渝新歐物流公司</u> 」。
商品	主攻 <u>歐洲</u> 市場，產品運輸以 <u>筆電</u> 、 <u>紅酒</u> 、 <u>汽車</u> 等為主。

- (A) 甲 (B) 乙 (C) 丙 (D) 丁


42. 阿文在查詢歷史資料時，看到一段人物軼事介紹如圖(二十二)所示。請問：依據我國現行《民法》規定，下列敘述何者正確？

- (A) 蔣中正首次結婚未經過父母同意仍屬有效
- (B) 毛福梅當時已可訂婚但未達法定結婚年齡
- (C) 離婚後毛福梅與蔣經國之間已無親屬關係
- (D) 宋美齡在結婚後與蔣經國屬於姻親的關係

……蔣中正（介石）先生在14歲時與19歲的毛福梅女士結婚，後來生下兒子蔣經國。蔣中正逐漸投入革命事業，為了跟宋美齡女士結婚，與毛福梅辦理離婚，當時蔣經國17歲。兩人結婚後，宋美齡也未收養蔣經國……

圖(二十二)

43. 文文在撰寫公民作業時，對於「殺人案是否適用圖(二十三)的刑事訴訟程序」產生疑惑，他與四位朋友進行討論，請問：下列何人的說法最正確？



圖(二十三)

- (A) 晴晴：「適用，原告可直接委任律師向法院提起訴訟」
- (B) 庭庭：「適用，只要被告經法院告發後就可適用此程序」
- (C) 小政：「不適用，此案屬非告訴乃論罪無法自行提起訴訟」
- (D) 小佑：「不適用，此案須經檢察官提起公訴後才能夠審判」

44. 替代役構想源自歐洲的社會役，在我國多年前曾有一群役男因信仰而拒絕服役，依據(甲)《兵役法》遭判刑引起(乙)爭議，直到2000年政府實施「替代役」，才讓因宗教信仰無法入營服役的問題獲得解決。國防部指出，只要是宗教問題，如(丙)信仰伊斯蘭教因每天須膜拜而影響正常官兵操課，得依(丁)《替代役實施條例》申請轉服替代役，以落實人權保障。根據上文敘述，下列說明何者正確？

- (A) 依甲判刑符合責任政治精神
- (B) 乙指憲法受益權保障的爭議
- (C) 丙行為呈現出文化的普遍性
- (D) 甲與丁兩者的法律位階相同

45. 圖(二十四)是一則社會新聞的報導內容。根據圖中畫線內容以及我國相關法規判斷，下列敘述何者正確？

- (A) 【甲】屬限制行為能力人因此租約無效
- (B) 【乙】小芳的行為屬於債務不履行類別
- (C) 【丙】可透過調解或訴願進行權利救濟
- (D) 【丁】小芳可適用《少年事件處理法》

【甲】19歲已婚的小芳承租了阿東的房子，半年後【乙】小芳連續數個月沒有繳房租，阿東最後只好在警方的陪同下進到租屋處查看，發現小芳大量破壞房屋內的牆壁與地板；【丙】阿東認為小芳是蓄意破壞房屋，除了報警處理外，也準備【丁】對她提起刑事訴訟。

圖(二十四)

在開啟此App軟體後，會根據使用者所在的位置進行經緯度定位，並以羅盤圖形顯示麥加方位，以利辨識朝拜方向。圖(二十五)是這位穆斯林在某地使用該App呈現的結果，這個地方最可能位於下列哪個國家？



圖(二十五)

- (A) 土耳其
(C) 哈薩克

- (B) 伊拉克
(D) 新加坡

47. 甲、乙、丙三個位於同區域的國家，曾簽署三國間的貿易協定。2018年11月30日，三國重新簽署新的協定，讓彼此間的商品、零件運輸更自由化，以符合三國的利益。表(九)是這三個國家對於新協議的看法，表中甲、乙、丙三國依序為下列何者？

表(九)

國家	2017年平均每人GDP	對新協議的看法
甲	59,800美元	新的貿易協定將支持國內高收入的製造業工作，並促進農業、製造業和服務業等各項產品的出口。
乙	48,400美元	新協議消除了過往部分貿易過程的不確定性，以確保國內70%以上的出口產品免關稅。
丙	19,900美元	原先的協議有助於引入外資投資，並增加國內就業機會。新協議仍延續以往做法，以確保國內經濟的持續成長。

- (A) 日本、南韓、中國
(C) 紐西蘭、澳洲、印尼

- (B) 德國、法國、義大利
(D) 美國、加拿大、墨西哥

48. 圖(二十六)為某人前往北歐旅遊時拍攝的地形景觀照片。此地形最可能帶來下列哪些產業發展效益？

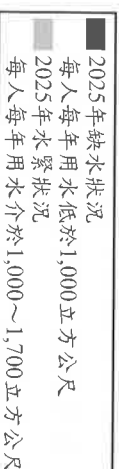
- (A) 促進牧業與紡織業發展
(B) 推動鋼鐵業與汽車工業
(C) 有利於航運與造船工業
(D) 開發石油和天然氣資源



圖(二十六)

49. 圖(二十七)為非洲各國於2025年的水資源匱乏預測圖，其中北部、東部及南部非洲皆有相當嚴重的用水危機。奈及利亞海岸往東南至盧安達以西之間的地區，較無缺水或水緊的現象，其原因最可能包括下列何者？

- (A) 境內多蓄水量較大的斷層湖
(B) 游牧發達，用水需求量較低
(C) 尼羅河流經，沿岸取水便利
(D) 降水量豐穩，可用水資源多



圖(二十七)

50. 阿良是個熱愛自助旅行的背包客，某日他和其他三位旅伴討論用新臺幣訂機票與換美金旅費的心得如表(十)，他說：「還好我是在這個月訂的機票，當時匯率還不錯，我也換了1,000美金作為旅費，所以我的花費是四人當中最底的。」假設這四人的花費皆只有機票錢以及旅費；在其他條件不變的情況下，阿良訂機票與換旅費應是在哪一月份？

表(十)

	機票費用/一人 (新臺幣)	匯率	
		美：臺	
9月	13,000元	1：29.5	
10月	12,800元	1：29.6	
11月	12,500元	1：30.8	
12月	12,300元	1：31.2	

- (A) 9月 (B) 10月 (C) 11月 (D) 12月

51. 圖(二十八)為兩江總督劉坤一、湖廣總督張之洞、兩廣總督李鴻章、山東巡撫袁世凱、浙江巡撫劉樹棠共同簽署的一份文件內容。請問：根據內容判斷，當時中國正面臨下列哪一件事件？

- (A) 英法聯軍
(B) 太平天國
(C) 八國聯軍
(D) 辛亥革命

二、題組：(52~63題)

請閱讀下文，並回答52~54題：

歐洲某一時期的局勢敘述如下：「繼承其父親皇位的威廉二世，除了提出大日耳曼主義威脅俄國主張的大斯拉夫主義外，其大海軍主義以及世界殖民的政策也衝擊英國的利益。這使得英國放棄光榮孤立政策，轉與法國、俄國結盟，使前首相俾斯麥長期布建的外交體系趨於崩解。」請問：

52. 文中倡議大海軍主義的國家，此時其國家元首產生的方式，最可能屬於下列何種形式？

- (A) 透過全民普選產生
(C) 主要採取世襲制度
(B) 係由國會黨魁擔任
(D) 實由獨裁政黨決定

53. 上述歐洲局勢最有可能發生於下列哪一時期？

- (A) 1789年法國大革命前
(C) 1871年普法戰爭前
(B) 1814年維也納會議前
(D) 1914年第一次世界大戰前

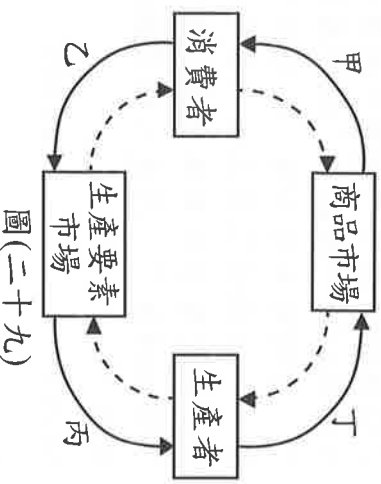
54. 文中倡議大海軍主義的國家，欲從本土擴展其鄰近海上勢力時，最可能需要考量下列哪項戰略？

- (A) 突破英國對北海的封鎖
(C) 突破法國對地中海的封鎖
(B) 突破土耳其對黑海的封鎖
(D) 突破俄國對波羅的海的封鎖

一、上海租界歸各國共同保護，長江及蘇杭內地均歸各督撫保護，兩不相擾，以保全中外商民人命產業為主。
二、長江及蘇杭內地各國商民教士產業，均歸南洋大臣劉坤一、兩湖總督張之洞切實保護，並移知各省督撫及嚴飭各該文武官員一律認真保證。現已出示禁止謠言，嚴拿匪徒。

圖(二十八)

某電子公司過去以生產筆記型電腦聞名，負責人發現近年來公司的財務每況愈下，因此轉型生產各式機器人，機器人的價格連續數年翻倍成長，因此該公司將此產品作為產品主力。經濟學者表示，雖然樂見企業投入新產業，也認為眾多廠商可透過機器人節省成本，但也憂慮未來人工智慧技術的發達，將會對市場的就業情形產生重大衝擊。

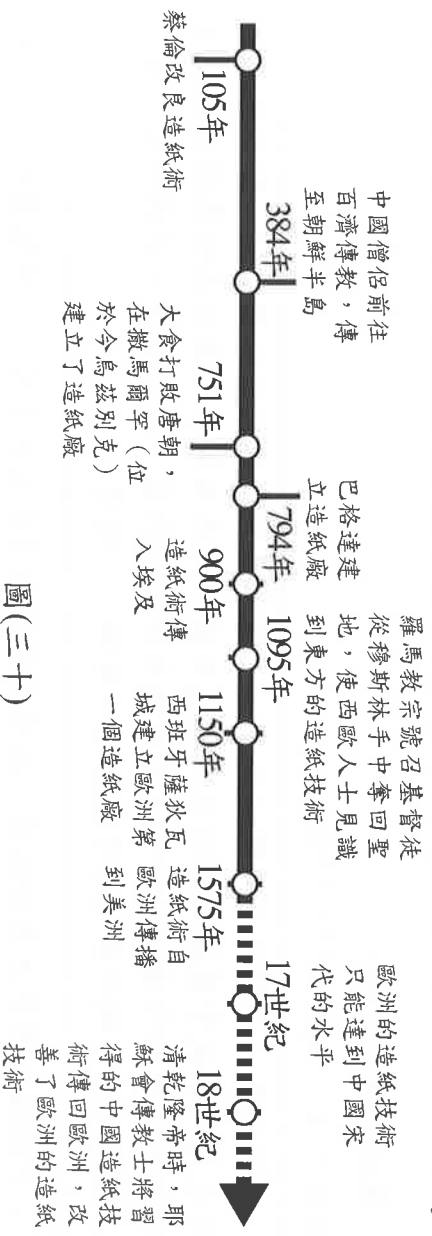


圖(二十九)

55. 根據文中劃線內容判斷，下列何者最適合用來說明該電子公司的生產行為？

- (A) 價格 S (B) 價格 S (C) 價格 D (D) 價格 D
- 數量 數量 數量 數量
56. 經濟學者的擔憂，主要是認為對於圖(二十九)中哪一環節會產生衝擊？
- (A) 甲 (B) 乙 (C) 丙 (D) 丁

下圖是有關造紙技術發展與傳播的歷史年代順序，請閱讀下列圖表，並回答57～58題：



圖(三十)

57. 根據上述圖(三十)，下列哪一敘述正確？

- (A) 造紙術在漢朝透過絲路傳入歐洲
- (B) 阿拉伯帝國的擴張有助於造紙術西傳
- (C) 十字軍東征的目的是收復聖地參加
- (D) 耶穌會傳教士東來主要目的是學習中國科技

58. 根據上述圖表推論，右列圖(三十一)史事發生的先後順序最可能為下列何者？

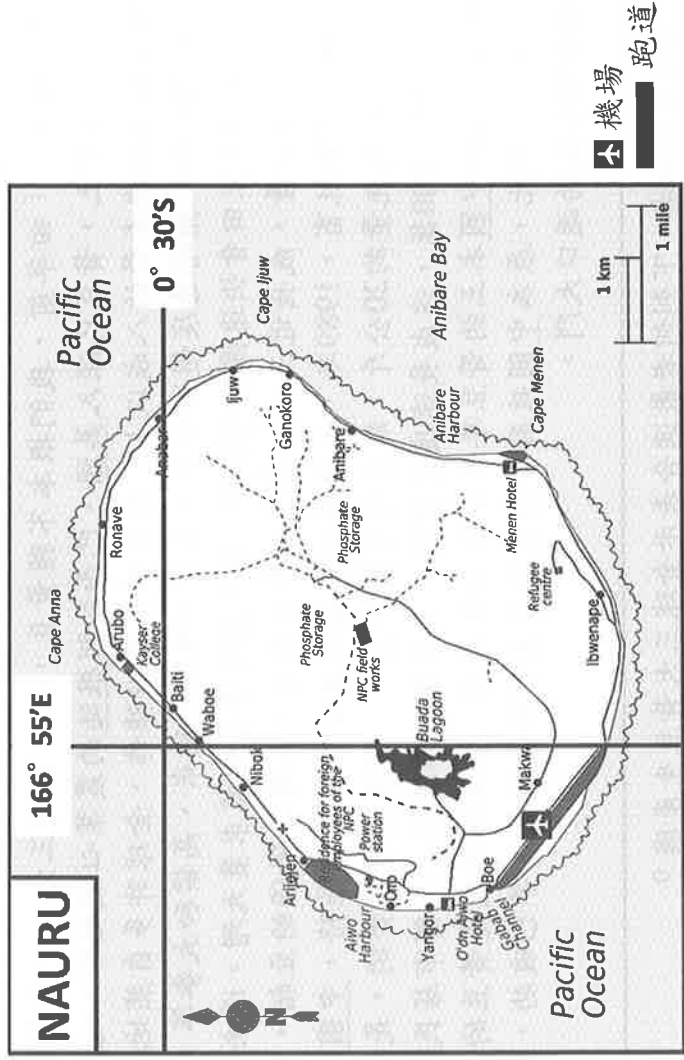
- (A) 甲→乙→丙→丁
- (B) 丙→甲→乙→丁
- (C) 乙→丙→甲→丁
- (D) 丙→乙→甲→丁

甲、哥倫布發現新大陸
乙、十字軍展開第一次東征
丙、怛羅斯之役的發生
丁、利瑪竇到中國傳教

圖(三十一)

請閱讀下列圖文，回答第59～60題：

圖(三十二)為位於南太平洋 密克羅尼西亞群島的臺灣邦交國——「諾魯共和國」簡圖，該國是世界最小的島國。請問：

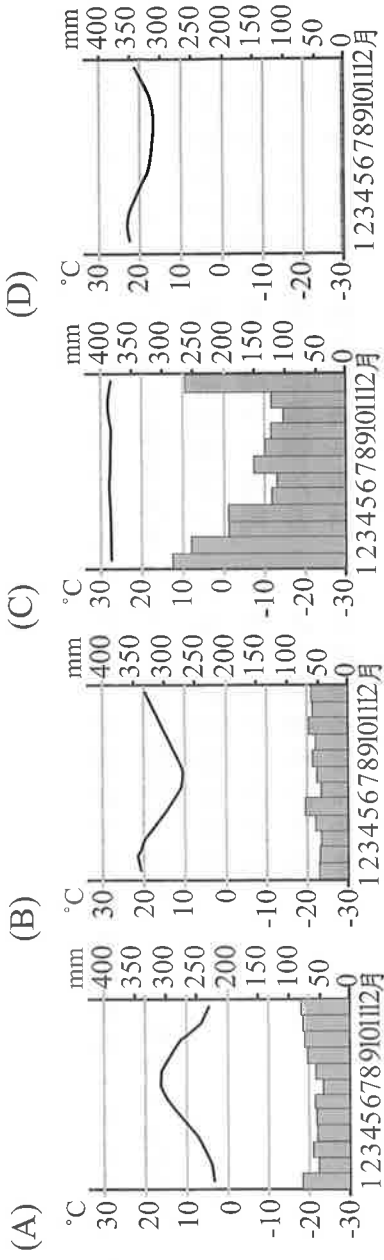


圖(三十二)

59. 諾魯國際機場跑道約多少公里？

- (A) 1.1公里 (B) 2.1公里 (C) 3.1公里 (D) 4.1 公里

60. 該地的氣候圖類型最可能為下列何者？



中國人的胃 改變全球農田景觀

美國 北達科他州的田野景觀，一向是由亞麻籽的藍、向日葵的黃，以及小麥的琥珀色交織而成的。但近年當地在夏季期間，放眼盡是黃豆苗的綠。當地的農戶提及：「四年前，我們根本不種黃豆，但目前近三分之一的農地都種了黃豆。」事實上，黃豆已深入美國、巴西和阿根廷的農業心臟地帶，這三個國家的產量占全球總產量的八成以上。而不僅是農田轉作，全球許多自然也開發成為新的黃豆田，擴增速度超過小麥、玉米、棉花、稻米、高粱和大麥等。

全球黃豆田會快速擴張的主因，是中國對黃豆的需求量大增。過去十年，中國的黃豆進口量，成長近三倍。黃豆這麼受歡迎，主要是碾碎的豆粕，可以快速養肥豬、雞等牲畜。1989年，上海第一家美式速食炸雞店開張時，中國每人每年平均的肉類消耗量約20公斤，現在則達到50公斤。催化這股趨勢的，是都市人口每年約增加2,000萬，這成長速度比中國的人口增加率還快，而都市居民攝取的肉量更多。由於中國本土的黃豆年產量僅1,500萬噸，並且國內生產黃豆的成本超過進口黃豆。因此，原本中國政府堅持自給自足的糧食政策，早已成功，特別是必須要開啟黃豆的進口大門。

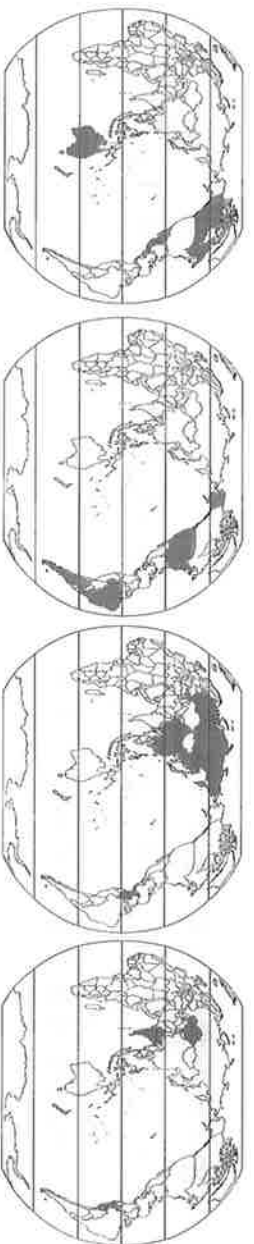
61. 根據文中所述，下列何者最適合表示全球三大黃豆生產國？

(A)

(B)

(C)

(D)



62. 文中提及中國必須敞開黃豆的進口大門，是因為相較於本土黃豆，進口黃豆成本較低。這些黃豆生產大國的成本可以比中國還低的原因，最可能是下列何者？

- (A) 黃豆生產大國堅持有機耕作，不使用基因改造技術
- (B) 黃豆生產大國相對人口稠密，從事農業人口比例高
- (C) 黃豆生產大國相對地廣人稀，採大規模專業化經營
- (D) 黃豆生產大國國內需求量大，政府對農家提供補助

63. 根據文中所述，全球黃豆田的擴張與中國需求提高有關，而黃豆田若過度擴張，恐將會對產地產生不良的影響。但下列哪項影響並非是三大產豆國皆面臨的問題？

- (A) 為了開闢新的耕地，莽原或雨林地遭受破壞
- (B) 對中國的貿易依賴增加，經濟互動彼此箝制
- (C) 畜牧用黃豆非法摻入食品中，引發食安問題
- (D) 過度墾殖造成環境衝擊，土壤惡化風險加劇