


嘉義市立北興國民中學103學年度第1學期第三次段考地理科2年級試卷

一、單一選擇題(共44分/每題2分)

- () 「天蒼蒼、野茫茫、風吹草低見牛羊」為傳統的中國西部景觀。請問：中國西部地區的少數民族多以畜牧為主要生活方式，主要是受到下列哪一項因素的影響？
(A)土壤特性 (B)降雨多寡 (C)氣溫高低 (D)地形起伏。
- () 中國近年來各項工業快速成長，國內生產毛額不斷增加，但卻產生區域發展不平衡的問題。請問：各區域的國內生產毛額中，以下列何處最為富裕？(A)高原地區(B)沿海地區(C)盆地地區(D)溫帶地區。

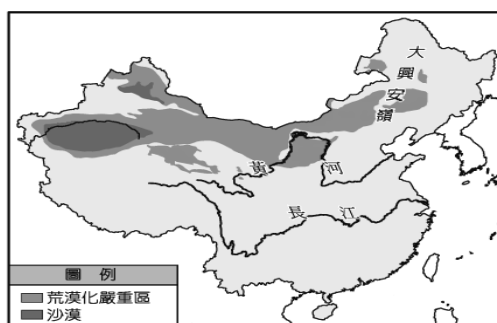


- () 中國的疆域面積廣大，高居世界第四。右圖為中國三級階梯圖，其中何處環境負載力最高？(A)甲 (B)乙 (C)丙 (D)以上均不佳。
- () 中國面積廣大，自然環境多樣，因此形成不同的作物分布帶。請問：其中甘蔗最適合生長在哪一種自然條件下？(A)熱帶平原 (B)副熱帶丘陵 (C)乾燥平原 (D)溫帶丘陵。
- () 中國近年來空氣汙染的環境問題快速增加，這和下列哪一項產業發展的關係最大？
(A)農業 (B)牧業 (C)工商業 (D)漁業。
- () 中國東部由於對外交通較為便利，因此經濟改革開放後，發展相當快速。請問：該地區主要的海運路線中不包括下列何者？(A)太平洋 (B)南海 (C)印度洋 (D)黃海。
- () 中國的哪一個行政區因為地勢高聳崎嶇，加上境內寒漠形成凍土分布的特色，使得當地交通建設相當的困難，因此開發較其他地區晚？(A)內蒙古自治區 (B)黑龍江省 (C)西藏自治區 (D)貴州省。
- () 中國經濟改革開放後，每人平均 GDP 仍偏低，最主要的原因為何？
(A)人口眾多 (B)區域發展不均 (C)原料缺乏 (D)經濟體制封閉。
- () 中國的經濟發展呈現相當明顯的區域差距，近年來由於右圖中哪一個地區發現大量的石油礦產，為當地經濟發展帶來生機？(A)甲 (B)乙 (C)丙 (D)丁
- () 小新老師在講解中國垂直移動游牧活動時，繪製一張簡單示意圖，如下圖所示。請問：圖中移動的動物應為下列何者？(A)駱駝 (B)乳牛 (C)馴鹿 (D)綿羊



- () 臺灣由於國內市場不大，因此相當依賴國際貿易。請問：受到國際經濟局勢的影響，目前臺灣最主要的貿易順差國為下列何者？(A)美國 (B)日本 (C)中國 (D)南韓。
- () 中國近年來以東部地區經濟最為發達，國民所得最高。該地區發展經濟最有利的因素為何？
(A)礦藏豐富 (B)氣候溫和 (C)位置優越 (D)糧食眾多。
- () 中國的荒漠化現象主要受到自然條件與人文活動的影響，如下列哪一種自然條件的環境中最容易形成沙漠化現象？(A)日照較短(B)氣溫偏低(C)風力強勁(D)雨量稀少。
- () 中國境內各地的地理環境差異甚大，影響農作物的發展。右圖為中國某作物的分布圖，依圖中作物分布範圍判斷，該作物最可能為下列何者？
(A)小麥 (B)棉花 (C)水稻 (D)甘蔗。
- () 台灣的台中港是中部重要港口，也是對大陸貿易主要港口之一。請問：台中港離中國哪一個經濟特區的距離最近？(A)深圳 (B)珠海 (C)廈門 (D)汕頭。
- () 中國因各地區的自然條件皆不相同，形成不同的農業活動；其中甜菜必須生長於溫帶、地勢低平且溼度適中的地區。下列哪一個地區最適合甜菜生長的條件？(A)珠江三角洲平原 (B)東北平原 (C)塔里木盆地 (D)長江中下游平原。
- () 右圖為中國農牧業活動的分布區域圖。請問：乙區域中從事農作的條件為下列何者？(A)土壤肥沃 (B)位置優越 (C)地勢平坦 (D)水源灌溉。
- () 中國的荒漠化分布地區如下頁附圖所示，若以圖中地理位置判斷，其荒漠化問題主要是發生於下列哪兩種地形區中？(A)盆地、高原 (B)盆地、平原 (C)高山、丘陵 (D)高山、高原。





19. () 1825 年，洞庭湖的面積達 6,000 平方公里以上，為當時中國第一大淡水湖，但到了 1980 年代，其面積大幅縮減，只剩約 2,600 平方公里。鹹海在 1960 年代面積達 68,000 平方公里，是當時世界第二大鹹水湖，但到了 1998 年，其面積已下降至 28,687 平方公里，並持續萎縮中。上述二個湖泊面積的變化，都與下列何項因素關係最為密切？(A) 全球氣候暖化 (B) 上游退牧還林 (C) 發展農業耕作 (D) 都市發展快速。
20. () 臺灣在經濟轉型的過程中，由於受到外在生產環境轉變的影響，因此何種產業前往海外投資的比例最高？(A) 資金密集型產業 (B) 技術密集型產業 (C) 原料密集型產業 (D) 勞力密集型產業。
21. () 中國的土地資源問題可依右圖中的區域畫分方式來作討論，這樣的畫分依據主要為何？(A) 地理區位 (B) 經濟發展 (C) 雨量多寡 (D) 地勢高低。
22. () 早期臺商到中國設廠，傳統產業占了相當大的比例；今日大陸工資大漲，轉而吸引許多精品、速食、咖啡和量販店等...進駐。請問：此時在中國最有利的條件為何？(A) 資金 (B) 勞工 (C) 市場 (D) 交通。



二、題組(共36分/每格2分)

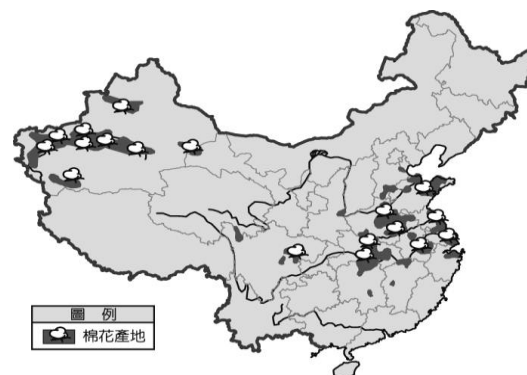
(一) 中國因為自然條件的差異，而有「南船北馬」的傳統交通特色，各地的工商業發展程度也各不相同。請問：

- () 23. 傳統的南船北馬交通分界線為下列何者？(A) 年雨量 750 毫米等雨量線 (B) 年均溫 18℃ 等溫線 (C) 七月月均溫 0℃ 等溫線 (D) 夏季季風止境。
- () 24. 南方發展水運最有利的條件為下列何者？(A) 地形平坦 (B) 面積廣大 (C) 降雨期長 (D) 氣候溫暖。
- () 25. 中國各主要地區的河川中，流量較為穩定的地區主要位於右圖中哪些區域？(A) 寅卯 (B) 卯辰 (C) 辰巳 (D) 巳寅。



(二) 棉花為高經濟價值的作物，種植地區廣布世界各地，包括中國、美國、印度等地區。然而由於其生長條件的特色，因此對於生產區的環境造成影響。請問：

- () 26. 棉花在中國境內主要的產地如右圖所示，請問：棉花產量較高的地形區為何？(A) 塔里木盆地、雲貴高原 (B) 雲貴高原、東北平原 (C) 東北平原、華北平原 (D) 華北平原、塔里木盆地。
- () 27. 若由棉花的分布區加以判斷，種植時最重要的農業工程為下列何者？(A) 機械化 (B) 開闢梯田 (C) 加強灌溉 (D) 溫室栽培。

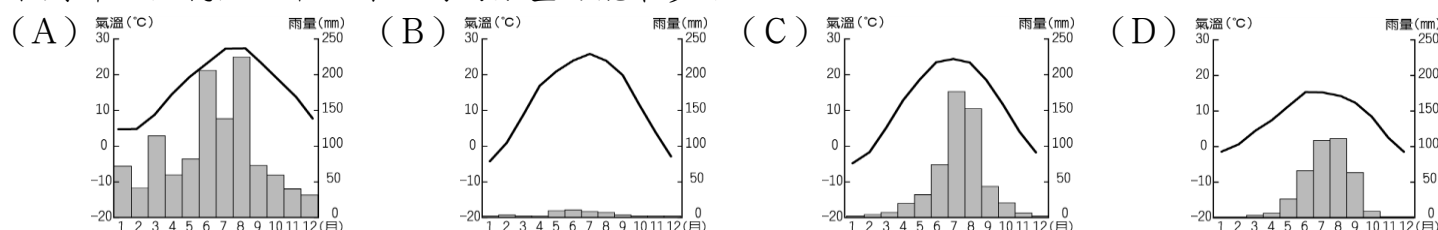


(三) 工業發展的情況受到各地的區位因素影響甚大，請就目前中國各地的經濟發展狀況，探討其區位特色：

- () 28. 中國經濟發展先驅可說是「經濟特區」的設立。請問：中國經濟特區最早設於南部地區和下列哪一項因素的關係較大？(A) 動力充足 (B) 氣候暖溼 (C) 僑資眾多 (D) 物產豐富。
- () 29. 中國西部經濟帶近年來經濟發展極快，下列哪一個都市濱臨長江，是西部經濟發展的龍頭城市？(A) 重慶市 (B) 武漢市 (C) 上海市 (D) 烏魯木齊市。
- () 30. 目前中國各地區當中，以哪一個地區發展重工業時，原料及動力等區位條件最為優越？(A) 珠江三角洲 (B) 長江中下游平原 (C) 青藏高原 (D) 東北平原。

(四) 近年來中國的產業活動興盛，帶動了經濟發展，卻也同樣的造成了環境問題，附圖為中國簡圖。請問：

- () 31. 下列哪一個氣候區中，外流河的數量可能最多？



- () 32. 植被消失為荒漠化的起源，下列哪一種活動容易造成土壤鹽鹼化，植物逐漸消失於地表？(A) 退牧還耕 (B) 抽地下水 (C) 河川斷流 (D) 挖掘礦產。

() 33. 目前中國的沙塵暴在北京所引起的霧霾相當嚴重，請問北京是右圖中哪一個地區？

(A)甲 (B)乙 (C)丙 (D)丁。

() 34. 每年冬春季交替之時，中國會出現沙塵暴的現象，其風力主要來源為附圖中何處？

(A)甲 (B)乙 (C)丙 (D)丁。

() 35. 造成中國的沙塵暴擴散方向，華南主要為下列哪一個風向？

(A)東北風 (B)東南風 (C)西北風 (D)西南風。

(五)中國的面積廣大，形成各區不同的河川特色，附圖為中國主要河川分布圖。請問：

() 36. 中國的各主要河川當中，以右圖中哪一條河川流域的沿岸地區，人口密集，形成重要的精華地區？

(A)乙 (B)丙 (C)戊 (D)己。

() 37. 中國的主要河川當中，以右圖中哪一條河川離北京市最近？(A)乙 (B)丙 (C)丁 (D)戊。

() 38. 右圖中哪一條河川流域內的水土流失最嚴重，導致河川的含沙量高居世界第一？

(A)甲 (B)丙 (C)丁 (D)己。


() 39. 右圖中哪一條河川由於流域內人口密集、工業發達，缺水情形最為嚴重？(A)甲(B)丙(C)戊(D)己

() 40. 承第39題，為解決該河川缺水的問題，中國政府利用工程，引用哪一條河川的水供當地使用？

(A)乙 (B)丙 (C)戊 (D)己。

三、進階題(共20分/每題2分)

41.右圖是位於長江三角洲上的經濟重鎮，高樓大廈聳立反映其產業活動相當發達，該地曾因開埠以後，隨著租界建立和歐美文化大舉進入，開始興建西式別墅和洋房，出現各種不同風格的建築，因而被譽為「萬國建築博覽會」。請問：上文中所提到的「經濟重鎮」為何？(A)武漢 (B)重慶 (C)北京 (D)上海。



42.中國自古以農立國，然而疆域的面積相當廣大，因此境內形成多種不同的氣候區。圖(一)為某農家的工作年曆，根據其農業活動的類型判斷，該農家最可能位於圖(二)中何處？(A)甲 (B)乙 (C)丙 (D)丁。

| 月分 | 1 | 2 | 3 | 4 | 5 | 6 | 7 | 8 | 9 | 10 | 11 | 12 |
|------|----|---|------|---|---|---|------|---|---|----|----|----|
| 農業活動 | 蔬菜 | | 一期稻作 | | | | 二期稻作 | | | | 蔬菜 | |

▲圖(一)

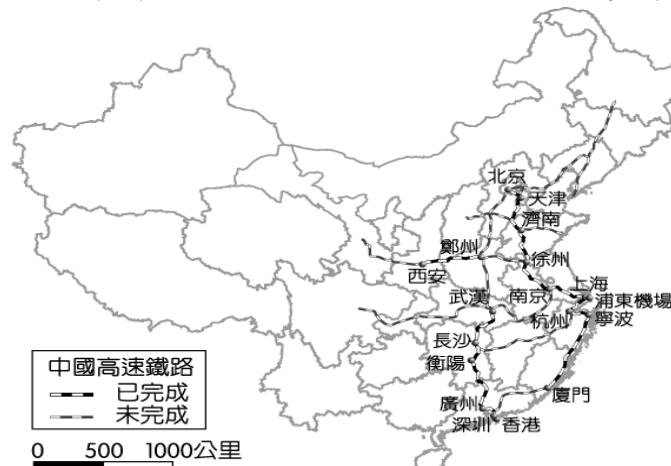


▲圖(二)

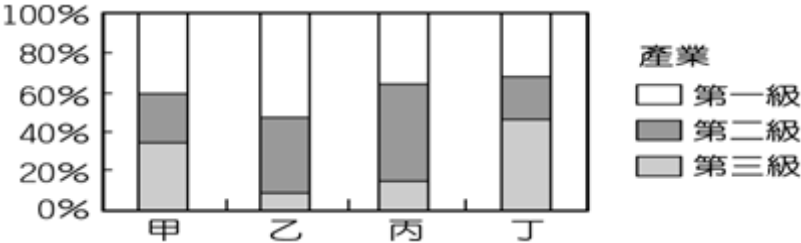
43.中國東部地區為世界上人口密度最高的地區之一，受到當地所盛行的農業活動影響甚大。下列為某地區主要的農業活動如右圖所示。這種農作特色最主要為下列何者？(A)單位面積產量低 (B)耕作粗放 (C)旱田耕作型態為主 (D)農產品自給為主。



44.中國逐漸步入高速鐵路運輸時代，附圖為目前中國主要高鐵路線的分布圖，圖中高速鐵路的分布情形和下列何者最有關？(A)技術發展 (B)雨量多寡 (C)人口疏密 (D)礦產分布。



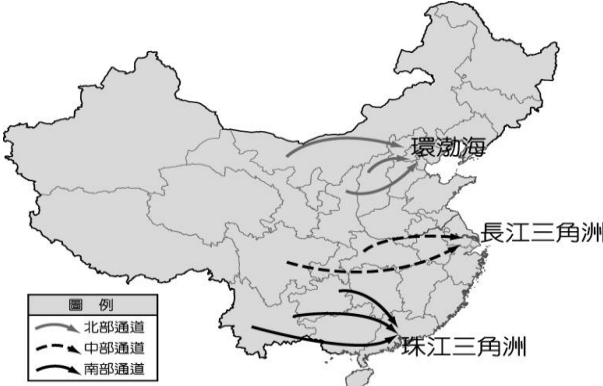
45.近年來土地過度使用已成為世界各地的主要自然資源問題。附圖中何者的產業結構會對土地造成超限使用最為嚴重？(A)甲 (B)乙 (C)丙 (D)丁。



46.中國某四個地區的氣候資料如附表所示。請問：哪一個地區最容易因為過度灌溉耕作，而造成土壤鹽鹼化的問題？

| 城市 | 一月月均溫 (°C) | 七月月均溫 (°C) | 年雨量 (mm) |
|-----|------------|------------|----------|
| (A) | －21.5 | 22.2 | 40.4 |
| (B) | 8.9 | 29.4 | 1,059 |
| (C) | 15.9 | 28.8 | 2,111 |
| (D) | －6.7 | 23.8 | 301 |

47.中國各地由於經濟發展出現差異，因此推動西電東送，其運輸路線如附圖所示。請問：提供電力的地區中不包括下列何者？(A)內蒙古自治區 (B)黑龍江省 (C)湖北省 (D)雲南省。



48.在中國規畫的水資源環境保育工程中，會針對各地區情況的不同而因地制宜。請問：附圖中哪一個地區對於汙下水道系統的需求最為迫切？(A)甲 (B)乙 (C)丙 (D)丁。



49.降雨不穩定的現象容易導致水災和旱災。請問：附圖中哪一個地區最容易造成此種的現象？(A)乙 (B)丙 (C)戊 (D)己。



50.中國北部地區水資源的分布特色為「夏豐冬枯」，這和下列哪一個降雨現象關係最大？

