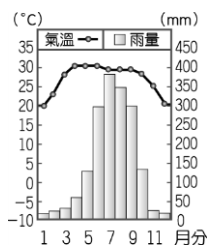


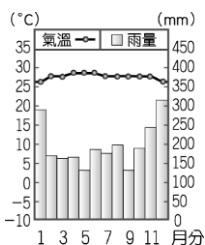
※單一選擇題：每題 2 分，共 50 題

- 西套平原因何種作物的種植，有「塞上江南」的稱號？(A)小米 (B)稻米 (C)小麥 (D)青稞
- 河西走廊的農業活動多分布於下列何地？
(A)黃河東側 (B)崑崙山北側 (C)塔里木河兩側 (D)祁連山北側
- 河西走廊的農業活動，其灌溉水源來自下列何者？(A)雨水 (B)雪水 (C)河水 (D)湖水
- 藏北高原地勢高聳，平均高度超過4000公尺，有一諺語形容此地的氣候特色「一年無四季，一日見四季」。請問：這代表當地氣候特色為下列何者？
(A)年溫差大、日溫差大 (B)年溫差大、日溫差小
(C)年溫差小、日溫差大 (D)年溫差小、日溫差小
- 藏北高原上因為自然條件的關係，以畜牧為主要的經濟活動。請問：當地的畜牧方式是以下列何種為主？(A)欄牧 (B)放牧 (C)游牧 (D)山牧季移
- 小雨的家位於南半球，而且當地冬季降雨比夏季多。下列哪一張圖最可能是小雨家的氣候圖？

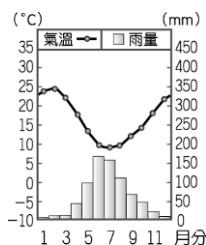
(A)



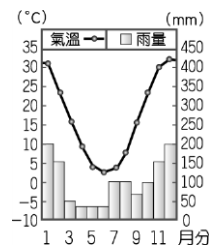
(B)



(C)




(D)



- 承上題，小雨的家應該是下列哪一種氣候類型？

(A)熱帶莽原 (B)溫帶地中海型 (C)溫帶大陸性 (D)熱帶季風

- 小雨到東南亞旅遊，看到當地的住屋多為右圖的高腳屋。請問：出現這種建築型式的主因為何？(A)氣候溼熱 (B)地勢低窪 (C)地狹人稠 (D)乾燥少雨



- 伊斯蘭教為世界主要宗教之一，請問伊斯蘭教教徒多分布於下列哪些地區？

(甲)西亞(乙)北美(丙)北非(丁)南美 (A)甲乙 (B)甲丙 (C)乙丙 (D)丙丁

- 世界七大洲中，陸地面積最小的是哪一洲？(A)歐洲 (B)非洲 (C)大洋洲 (D)南極洲

- 下列哪個宗教的教義規定每天必須面向聖地朝拜五次？

(A)伊斯蘭教 (B)印度教 (C)基督教 (D)猶太教

- 水半球中心位於哪個國家？(A)法國 (B)澳洲 (C)芬蘭 (D)紐西蘭

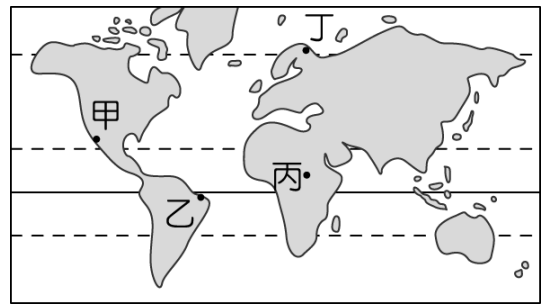
- 中國在雅魯藏布江上建設的首座大型水電站——藏木水電站，正式投產發電。官方表示此水電站可以解決缺電問題，但學者專家更擔心其對環境生態的影響。請問：西藏地區若不以水力發電，就其自然條件而言，也可以使用下列哪一種發電方式？

(A)核能發電 (B)太陽能發電 (C)火力發電 (D)生質能發電

- 承上題，位於雅魯藏布江下游的鄰近國家，也可能面臨水資源不足的問題。請問：下列哪一個國家受到的衝擊最大？(A)緬甸 (B)巴基斯坦 (C)印度 (D)哈薩克

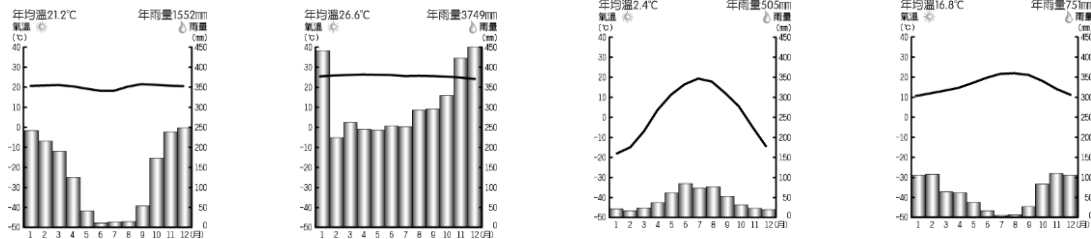
15. 林義傑可說是超級馬拉松選手中最為國人所熟知的人物，其中在南美洲亞馬孫盆地的雨林環境更是讓他吃盡苦頭。該賽事的地點應位於右圖中何處？

(A)甲 (B)乙 (C)丙 (D)丁



16. 承上題，該地的氣候圖應為下列何者？

(A) (B) (C) (D)



17. 承上題，下列何者「非」亞馬孫雨林的特色？

(A)樹種多樣茂密 (B)位於赤道附近 (C)氣候乾溼分明 (D)終年高溫多雨

18. 河西走廊自古為東西往來的交通要道。請問：其所具備的條件是什麼？(A)雨水充足，農業發達 (B)有綠洲城鎮，可供商旅停靠休息 (C)天候良好，較少天災 (D)平原地形，平坦遼闊

19. 「三山夾兩盆」指的是中國哪一個行政區的地形寫照？

(A)內蒙古自治區 (B)西藏自治區 (C)新疆維吾爾自治區 (D)寧夏回族自治區

20. 柴達木盆地有「聚寶盆」之稱，是形容當地具有下列哪種優勢？

(A)礦產豐富 (B)林業發達 (C)工業發達 (D)交通便利

21. 新疆素有「瓜果之鄉」的美稱，所產瓜果特別香甜的主要原因為何？

(A)年溫差大 (B)氣候乾燥 (C)盆地地形 (D)日夜溫差大

◎右圖為中國某地區的水利設施，請依序回答下列問題：

22. 坎兒井盛行於中國哪個地區？

(A)西藏自治區 (B)內蒙古自治區 (C)寧夏回族自治區 (D)新疆維吾爾自治區

23. 居民修建坎兒井主要的目的為何？

(A)避免水源蒸發 (B)防止水土流失 (C)方便居民取水 (D)保持水質純淨

24. 坎兒井的主要水源來自下列何者？(A)雨水 (B)湖水 (C)雪水 (D)河水

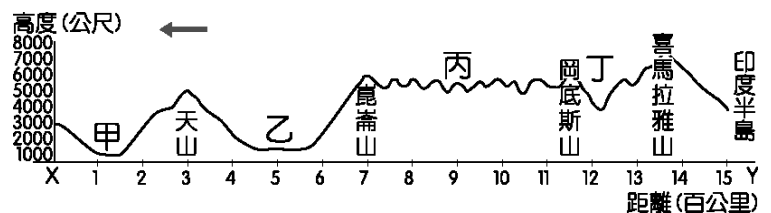
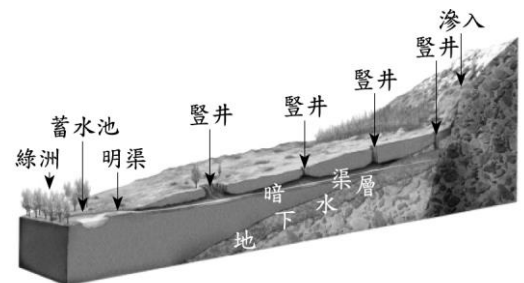
◎右圖為西部地區的地形剖面圖，請依序回答下列問題：

25. 何區呈現寒漠景觀，有「湖泊高原」之稱？

(A)甲 (B)乙 (C)丙 (D)丁

26. 何區農業發達，主要作物為青稞，是西藏自治區的精華區？(A)甲 (B)乙 (C)丙 (D)丁

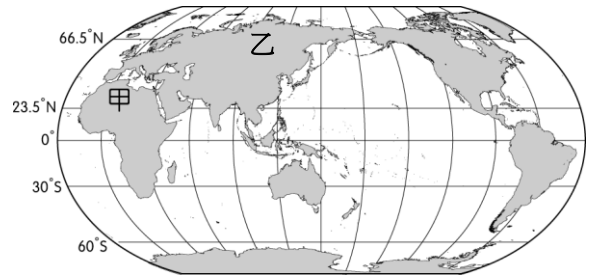
27. 何區境內的族群以哈薩克族為主，過著逐水草而居的游牧生活？(A)甲 (B)乙 (C)丙 (D)丁



28. 下列何者為溫帶大陸性氣候的特徵？

- (A)夏雨冬乾，年溫差大 (B)冬暖夏涼，年溫差小
(C)夏乾冬雨，年溫差小 (D)終年低溫，雨量稀少

29. 右圖中的『甲』地人口稀少，人口密度低。造成該地區人口密度低的主因為何？(A)氣候嚴寒 (B)地形崎嶇 (C)乾燥少雨 (D)高溫潮濕



30. 承上題，圖中的『乙』地也是世界人口稀疏區。請問：該地區人口稀少的原因為何？

- (A)氣候嚴寒 (B)地形崎嶇 (C)乾燥少雨 (D)高溫潮濕

31. 據報載，中國計畫在 5 年內將青藏鐵路從西藏的日喀則延伸到尼泊爾邊境的吉隆。西藏是中國向南亞等地區開放的通道，一旦與南亞鐵路互通，西藏的旅遊業和服務業將迎來可觀的發展。請問：青藏鐵路的延伸計畫，是一個浩大工程，必須建造一條隧道，穿越哪一座山脈？

- (A)喜馬拉雅山 (B)天山 (C)崑崙山 (D)阿爾泰山

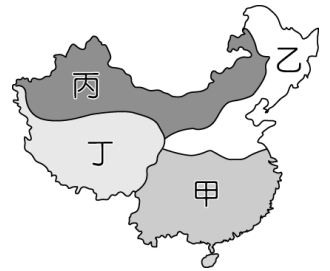
32. 「在山頭，終年一片白雪覆蓋；山腰之際，則有森林與草原交錯，翠綠的青稞與潺潺的河水，共舞著收成的前景。」請問：此景觀會出現在下列哪個地形區？

- (A)藏南縱谷 (B)塔里木盆地 (C)青海湖盆地 (D)河西走廊

33. 位於新疆維吾爾自治區的塔里木盆地，屬於下列哪種氣候類型？

- (A)高地氣候 (B)溫帶沙漠氣候 (C)熱帶沙漠氣候 (D)溫帶草原氣候

34. 從漢朝開啟的「絲路」，開通了亞洲至歐洲的貿易之路，帶來了經濟發展與文化交流，請問：古絲路的路線主要以右圖中哪一個地區為必經之路？



- (A)甲 (B)乙 (C)丙 (D)丁

35. 小雨的課堂筆記：『藏南縱谷地區因為有夏季的_____季風帶來_____洋的水氣，形成暖溼的氣候特色，有利於農業發展。』請問：上述兩個未完成的空格，依序應該填入什麼？

- (A)東南，太平 (B)西南，太平 (C)東南，印度 (D)西南，印度

36. 內蒙古高原東側的畜牧方式以「放牧」為主，西側以「游牧」為主。造成此差異的原因為何？

- (A)氣溫高低 (B)地勢高低 (C)雨量多寡 (D)民族不同

37. 中國境內的少數民族，以信仰藏傳佛教為主的是下列哪些民族？

- (A)蒙古族、藏族 (A)哈薩克族、藏族 (C)蒙古族、回族 (D)回族、哈薩克族

38. 小雨暑假要參加北興旅行社的行程：『動物大遷徙・維多利亞瀑布・東非壯遊15天』動物大遷徙在東非的大草原已存在數萬年，乾旱季節登場後，遷徙之路正要開始。每年大遷徙的尖峰時刻，便會湧入上百萬角馬羚、數十萬隻斑馬及上千隻獅子，在磅礴氣勢中，展現動物最原始豪邁的生命力。請問：動物遷徙的行為，是因為當地為何種氣候類型，乾溼分明，必須在乾季離鄉覓食？

- (A)熱帶莽原 (B)熱帶沙漠 (C)熱帶季風 (D)熱帶雨林

39. 喜馬拉雅山脈位於哪兩個板塊的交接處？(A)歐亞板塊、非洲板塊 (B)歐亞板塊、太平洋板塊 (C)印澳板塊、非洲板塊 (D)歐亞板塊、印澳板塊

40. 位於歐洲與北美洲之間的海洋為何？(A)太平洋 (B)大西洋 (C)印度洋 (D)北極海

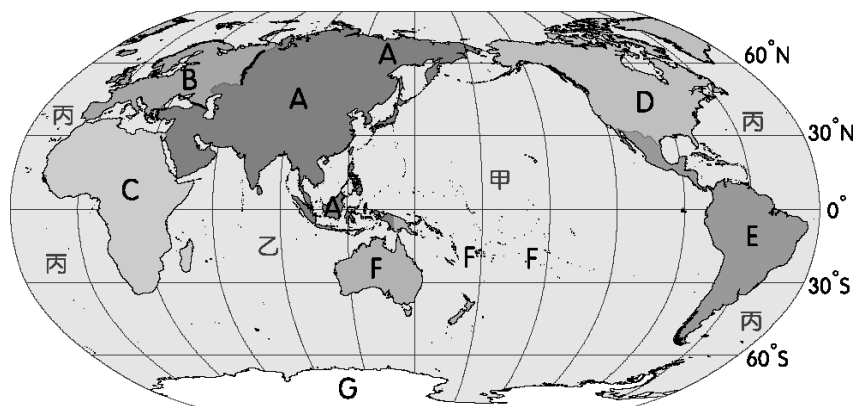
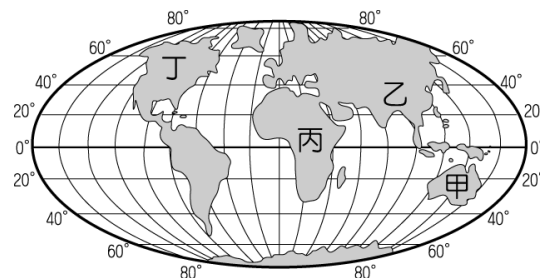
41. 近日因科技進步等原因，世界人口大增。請問以右圖哪兩個地區的人口成長速度最快？

(A)甲乙 (B)乙丙 (C)丙丁 (D)甲丁

◎依海陸分布，地球表面可以分為三大洋、七大洲。

下圖 A~G 為七大洲，甲~丙為三大洋。

請回答下列問題：



42. C 為哪一洲？(A)亞洲 (B)歐洲 (C)非洲 (D)北美洲

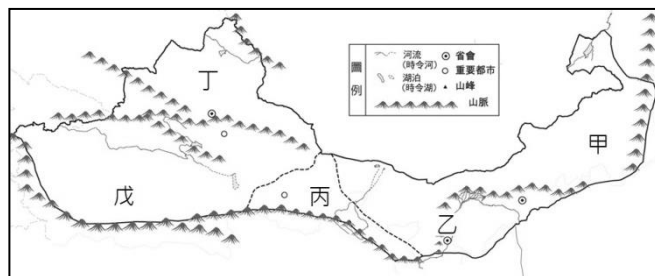
43. E 為哪一洲？(A)歐洲 (B)非洲 (C)北美洲 (D)中南美洲

44. G 為哪一洲？(A)亞洲 (B)非洲 (C)大洋洲 (D)南極洲

45. 甲是哪一海洋？(A)太平洋 (B)大西洋 (C)印度洋 (D)北極海

46. 乙是哪一海洋？(A)太平洋 (B)大西洋 (C)印度洋 (D)北極海

◎ 小雨參加「中國西北風情全覽」旅行團，右圖為西北地區簡圖，請參考圖中代號，回答下列相關問題：



47. 小雨行經哪一地區，可以欣賞到中國少數民族—回族的文化，當地農業發達，有「塞上江南」之稱？(A)甲 (B)乙 (C)丙 (D)丁

48. 小雨此行也見到了西北地區特有的「綠洲農業」，請問；綠洲農業有可能出現在那些地區？(A)甲乙 (B)乙丙 (C)丙丁 (D)丙戊

49. 小雨愛好寫作，把沿途回憶留存下來，請問：下列何者「不可能」是他的寫作主題？

(A)沙漠風情~遙想古絲路 (B)瓜果之鄉~品嚐超甜水果 (C)游牧生活~體驗蒙古包 (D)神秘西藏~探訪布達拉宮

50. 小雨旅行的最終站來到「戊」地區。請問在「戊」地區『無法』看到下列哪一個特殊景緻？

(A)中國最大的塔克拉瑪干沙漠 (B)藏北高原的寒漠景觀 (C)維吾爾族的習俗文化 (D)經濟特區—喀什 的邊境貿易