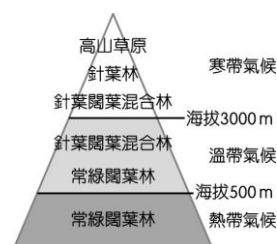



國二地理科試卷

一、 單選題（每題 2 分，共 50 題）

班 號 姓名


- 「民以食為天」為千古不變的道理，中國境內受到自然環境條件的影響，各地糧食作物不同，其中華南地區最主要的糧食作物為何？(A)玉米 (B)稻米 (C)小麥 (D)薯類。
- 東南亞的華人約為世界的 1 / 5，相當眾多。歷史上，海外的華人多由右圖中何處移出，因此在當地有「僑鄉」稱號？(A)甲 (B)乙 (C)丙 (D)丁
- 「我住長江頭，君住長江尾；日日思君不見君，共飲長江水。此水幾時休？此恨何時已？只願君心似我心，定不負相思意。」上文是宋代文學家李之儀所寫的《卜算子》。由內容推測，該文所描述的背景為中國的哪一個區域？(A)東北地區 (B)華北地區 (C)華中地區 (D)華南地區
- 黃河有「一碗水、半碗泥」之說，是因流經哪一地理區夾帶大量泥沙所致？(A)東北平原 (B)雲貴高原 (C)黃土高原 (D)華北平原。
- 近年來，黃河下游常發生斷流的現象，遇到強風還會引起塵土漫天，影響空氣品質。請問：下列何者「非」造成黃河下游斷流的原因為何？(A)降雨集中且乾季長 (B)游牧民族放牧 (C)上游興建水庫 (D)農民引水灌溉。
- 中國哪一個政策，無法改善黃河斷流的現象？(A)廣設工業區 (B)植樹造林 (C)節約用水 (D)南水北調。
- 許多大都市都緊鄰著河流兩岸發展，因此常可見到秀麗的河岸景觀。請問：下列有關各主要的都市及流經的河川分布情形，下列何者「錯誤」？(A)重慶— 長江 (B)廣州— 珠江 (C)天津— 海河 (D)北京— 黃河
- 中國 10 月國慶假期，旅遊局規畫一系列長江流域景點，提供大陸居民旅遊並開發國內消費市場，下列哪一個景點「不」可能出現在廣告文宣中？(A)江南水鄉悠遊行 (B)天府之國古蹟行 (C)澳門賭場體驗行 (D)上海外灘萬國建築行。
- 右圖是中國東南沿海「谷灣式海岸示意圖」。請問：形成此種海岸地形最主要原因為何？(A)板塊擠壓抬升 (B)河流強烈侵蝕 (C)溶蝕作用造成 (D)海平面相對上升。
- 承上題，有關右圖中這種海岸的敘述，何者正確？(A)缺少港灣 (B)港闊水深 (C)多火山島出現 (D)沙洲遍布。
- 「湖廣熟，天下足」皆是形容華中何項產業發達？(A)農業 (B)工業 (C)商業 (D)礦業
- 「中國某地區因年雨量變率及降雨強度均大，常有水、旱災，使農產收穫不穩定，因此民間有『大雨大災，無雨旱災』的諺語。」請問：此區最可能出現在下列何地？(A)珠江三角洲 (B)華北平原 (C)成都平原 (D)四川盆地。
- 廣西壯族自治區風景秀麗，桂林、陽朔一帶的灕江兩岸有「山水甲天下」之譽。上述「山」的特色，最可能是何種原因所形成的？(A)火山作用(B)冰蝕作用(C)風蝕作用(D)溶蝕作用。
- 「來這裡投資就對了，適宜的氣候，大規模栽種茶、甘蔗、咖啡等現金作物，五年後包你財源滾滾……。」以上最有可能是中國哪一地區的招商宣傳？(A)東北平原 (B)黃土高原 (C)華北平原 (D)嶺南丘陵。
- 小花全家搬到中國東北居住，下列是家人在當地找工作的期望。依據環境判斷，哪一位比較可能順利找到工作？(A)爸爸：「我希望到最大的水力發電廠工作。」(B)媽媽：「我要到鋼鐵工廠上班。」(C)哥哥：「我要在中關村的科技公司上班。」(D)姊姊：「我想在長白山地經營咖啡莊園。」
- 某一地區的天然植物分布如右圖所示。請問：這和當地哪一項因素關係最大？(A)開發早晚 (B)氣溫變化 (C)溫差大小 (D)土壤特性。
- 中國境內各地形區依其特色而有不同的諺語形容，請問：下列對於各區的描述何者正確？(A) 長江三角洲 -- 一山有四季，十里不同天 (B) 山東半島 -- 中國夏威夷 (C) 四川盆地 -- 蜀犬吠日 (D) 黃土高原 -- 水鄉澤國。
- 農作物收穫次數的多寡和該地區生長季的長短有關。依此判斷，下列哪一個中國地理區的作物收穫次數可能最少？(A)四川盆地 (B)東北平原 (C)珠江三角洲 (D)長江三角洲。



19. 對於下列都市的特色配對何者正確？

- (A) 天津--是東北鐵路的交會點，城市內有俄羅斯風格的建築物 (B) 上海--是中國的政治中心，近年來積極發展資訊產業 (C) 哈爾濱--控制海河出海的城市，夏季有水患且冬季港口會結冰 (D) 西安--位於中國內陸的古都，以秦始皇陵兵馬俑等古蹟著名。

※請根據右圖回答下列問題：



20. 小花利用暑假期間到中國旅遊，在某地區參觀時，看到了當地的傳統交通方式，如右圖所示。請問：小花此時正在右下圖中哪一個地區旅行？

- (A) 甲 (B) 乙 (C) 丙 (D) 丁。

21. 右圖中這種特殊的交通方式主要是受到該地區哪一種地形分布的影響？

- (A) 石灰岩地形 (B) 縱谷地形 (C) 三角洲地形 (D) 谷灣地形。

22. 右圖中甲、乙、丙、丁四地地形的配對，何者正確？(A) 甲—東南丘陵

- (B) 乙—兩湖盆地 (C) 丙—雲貴高原 (D) 丁—珠江三角洲

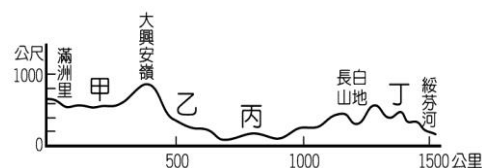


※右圖是「東北的地形剖面圖」，請回答下列問題：

23. 東北的降水量分布主要受夏季季風影響，以此判斷圖中哪一點附近的降水量最多？(A) 甲 (B) 乙 (C) 丙 (D) 丁。

24. 承上題，請問：附圖中的方向應如何指示？

- (A) (B) (C) (D)



25. 右上圖中的「丙」地，應該是哪一個地形區？

- (A) 兩湖盆地 (B) 松嫩平原 (C) 華北平原 (D) 四川盆地。

※請根據右圖回答下列問題：

26. 「這一條河流在歷史上以水患頻繁著稱，河水經常從中游搬運大量泥沙到下游堆積，在河堤愈修愈高的情況下，下游幾乎沒有支流匯入。」根據上文判斷，最有可能是在描述下列哪一條河流？(A) 甲 (B) 乙 (C) 丙 (D) 丁

27. 三峽大壩除提供工業發展所需動力外，還有防洪、發電、航運等功能，但也會造成一些後遺症。請問：下列哪項「不是」三峽大壩造成的問題？(A) 文物古蹟淹沒 (B) 環境生態危害 (C) 強迫壩區人口遷移 (D) 荒漠化面積增加。

28. 三峽大壩工程，其壩址位於右圖中哪一河川？(A) 甲 (B) 乙 (C) 丙 (D) 丁。

29. 河流自上游攜帶泥沙至中、下游，最後沉積在出海口附近。而三峽大壩完成後，在下列哪一城市附近，最有可能因為泥沙供應減少而發生海岸後退的現象？

- (A) 澳門 (B) 廣州 (C) 大連 (D) 上海。

30. 三峽大壩可提高水位，改善河運交通，造成大型貨輪可直達上游，提高該河川航運價值，請問：何地因三峽大壩而升格成直轄市？(A) 天津 (B) 重慶 (C) 北京 (D) 成都。

※請根據右圖回答下列問題：

31. 「這位唐朝的大將軍奉旨從首都領軍出發後，就音訊全無，他的妻子難以維生，只得居住在首都附近的破舊窯洞中……。」請問：文中的窯洞最可能是位於右圖中何地？

- (A) 甲 (B) 乙 (C) 丙 (D) 丁。

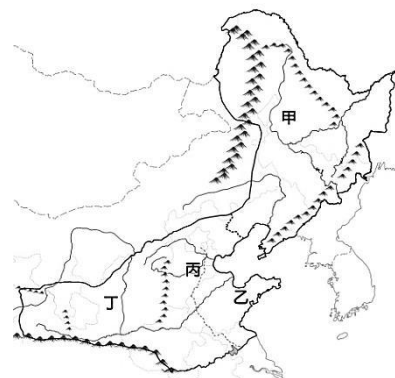
32. 某地自從排水問題獲得解決後，從一片沼澤地變成水稻農作區，昔日的「北大荒」變成今日的「北大倉」，這是形容下列哪一個地形區？(A) 黃土高原 (B) 山東半島 (C) 三江平原 (D) 華北平原

33. 承上題，「北大倉」最接近右圖中何處？(A) 甲 (B) 乙 (C) 丙 (D) 丁。

34. 由黃河、淮河與海河沖積而成，地勢平坦、土壤肥沃，這是形容下列哪一個地形區？

- (A) 雲貴高原 (B) 兩湖盆地 (C) 東北平原 (D) 華北平原。

35. 承上題，該地形區位於右圖何處？(A) 甲 (B) 乙 (C) 丙 (D) 丁。



※右圖為中國某地區的地形剖面圖，請問：

36. 圖中的箭頭方向應朝向何處？

(A)東方 (B)西方 (C)南方 (D)北方

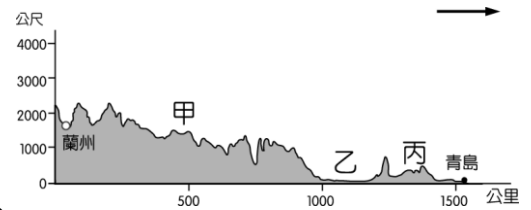
37. 承上題，若依地形特色及圖中都市分布加以判斷，右圖最可能位於下列何處？

(A)東北地區 (B)華北地區 (C)華中地區 (D)華南地區

38. 圖中的「甲」地地形相當特殊，除了地形比較高外，地表上亦出現有許多低窪凹槽。這種凹陷溝渠現象多為何種作用所構成？(A)斷層陷落 (B)風力吹蝕 (C)冰河磨蝕 (D)流水侵蝕

39. 右圖中的「乙」地應該是下列哪一個地形區？

(A)四川盆地 (B)松嫩平原 (C)華北平原 (D)山東丘陵。



※請根據右圖回答下列問題：

40. 「天壇、紫禁城、長城、頤和園非去不可，但鳥巢、水立方也不能錯過，這是一個充滿生命力飛躍成長的都市，但近年來深受空氣汙染之苦。」以上描述的是哪一個都市？

(A)瀋陽 (B)西安 (C)北京 (D)香港。

41. 承上題，該城市位於右圖中何處？(A)甲 (B)乙 (C)丙 (D)丁。

42. 小花拿到旅行社所發的傳單，上面寫著「您想看中國最進步的經濟中心？您想一窺中國最長河川入海口的浪濤江水？您想知道這個居於沿海航線中點的城市如何在這個世紀再出發？……」請問：這段敘述最可能是哪一個旅遊地點？(A)甲 (B)乙 (C)丙 (D)丁。

43. 承上題，該地成為中國最大經濟中心的最主要因素為何？

(A)位置優越 (B)氣候優良 (C)地形平坦 (D)農產豐富。

44. 承上題，小花到此地旅遊時，發現該城市建有一跨海大橋，可聯結到新港口--洋山港，可以供國際大型貨櫃輪作業，使得航運規模大幅提升，未來將對高雄港造成極為不利的影響。請問：中國興建洋山港的主要因素為何？(A)該城市波浪大不易停泊 (B)該城市冬季結冰無法通航 (C)該城市泥沙淤積水位太淺 (D)該城市港口腹地不足

45. 「此特別行政區位於珠江口東側，早期曾被英國殖民，因港口條件優越，且位於世界主要航線上，成為著名的轉口港。」請問：此特別行政區是指下列何者？

(A)香港 (B)上海 (C)澳門 (D)天津。

46. 承上題，該城市位於右上圖中何處？(A)甲 (B)乙 (C)丙 (D)丁。

※2015年2月28日上傳網路不到24小時，已有近4000萬人點閱，評論超過五萬條，人數還在快速激增。是什麼樣的調查紀錄片，引發如此熱烈的迴響？-----答案是中國霧霾紀錄片，《穹頂之下》。

影片中，播放作者在儲煤量最豐富的家鄉，和家鄉小女孩的對話：

作者：「妳見過真正的星星嗎？」

小女孩：「沒有？」

作者：「妳見過藍顏色的天嗎？」

小女孩：「見過一點點？」

作者：「見過白雲嗎？」

小女孩：「沒有。」

47. 作者的家鄉里地，最可能是下列何地？(A)四川盆地(B)黃土高原(C)東北平原(D)東南丘陵

48. 作者回想她調查的起心動念，來自「2013年某個月份的首都，那個月裡有25天霧霾，作者那時在出差，唯一有感覺的是喉嚨，但後來回頭看天空，才發現那是覆蓋了二十五個城市，六億人的大霧霾。」請問：中國近年來空氣汙染嚴重，與下列何者關係最「不」相關？(A)工廠廢氣排放過多 (B)汽車數量增加，石化能源消費增多 (C)荒漠化面積擴大 (D)發展綠色長城。

49. 根據上題中的資料判斷，該報導的時間最可能為何？

(A)一月(B)四月(C)七月(D)十月。

50. 受到季風的影響，中國東部霧霾中的污染物加速吹往台灣，台灣各地空氣汙染指數攀升，雲嘉南與高屏地區的汙染程度已接近「不良」等級。請問：將污染物吹到台灣的季風為下列何者？

(A)西北風 (B)東北風 (C)西南風 (D)東南風。

