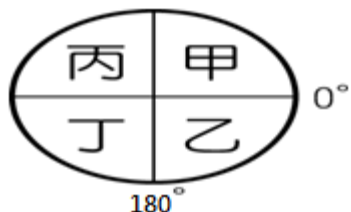


嘉義市立北興國民中學103學年度第2學期第一次段考3年級地理科

一、單一選擇題(共60分/每題2分)

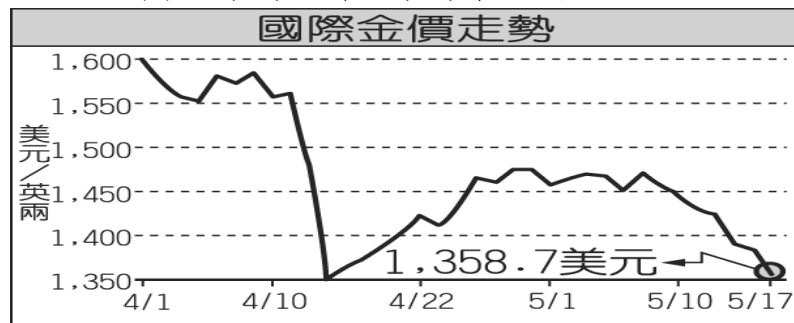
1. () 澳洲為可愛的無尾熊故鄉，而紐西蘭更為水半球的中心，這兩個地區主要位於附圖中的何處？(A)甲 (B)乙 (C)丙 (D)丁。



2. () 下列哪一個宗教在地理大發現後，隨著殖民者的腳步進入了非洲大陸，因此成為當地部分居民的宗教信仰？(A)伊斯蘭教 (B)猶太教 (C)佛教 (D)基督教。
3. () 大洋洲的吐瓦魯因為受到何種因素的影響，該國居民將被迫遠離家園，遷移至其他國家？(A)地震頻傳 (B)颱風侵襲 (C)板塊張裂 (D)溫室效應。
4. () 埃及境內的帶狀綠洲成為主要文化的發源地，這些帶狀綠洲的水源多來自於下列何者？(A)河水 (B)地下水 (C)鋒面雨 (D)高山雪水。
5. () 非洲受到下列哪一個地形的阻擋影響，因此南北間的族群及文化上形成極大的差異？(A)東非大裂谷 (B)地中海 (C)剛果雨林 (D)撒哈拉沙漠。
6. () 非洲人口最集中的地區，成為重要的聚落所在。其地點為下列何處？(A)剛果河三角洲(B)尼羅河三角洲(C)長江三角洲(D)萊茵河三角洲。
7. () 大洋洲依其地理位置分為三大區域，請問：該地區的島群中不包括下列何者？(A)玻里尼西亞 (B)密克羅尼西亞 (C)印度尼西亞 (D)美拉尼西亞。
8. () 「該地區的地形以高原為主，相對較為單調。且赤道兩側的氣候呈現對稱分布，因此影響當地的生活方式。」請問：文中所敘述的地區最可能為下列何處？(A)非洲 (B)亞洲 (C)歐洲 (D)美洲。
9. () 大洋洲的範圍相當廣大，若以廣義的大洋洲而言，除了位於太平洋當中的島國外，還包括下列何者？(A)臺灣(B)澳洲(C)印尼(D)日本
10. () 科學家在南極地區利用何種事項進行分析研究，希望找出氣候變遷的情況？(A)海水 (B)冰雪 (C)土壤 (D)企鵝。
11. () 溫室效應不斷加劇，對於大洋洲人類的生存環境影響相當大，其中哪一種島嶼因為地勢較低，故影響最為明顯？(A)大陸島 (B)珊瑚礁島 (C)火山島 (D)冰島
12. () 非洲大陸的疆域四面臨海，該地區的東、西兩岸分別面臨哪一個大洋，有利於今日對外的航運交通？(A)東—太平洋；西—印度洋 (B)東—印度洋；西—太平洋 (C)東—大西洋；西—印度洋 (D)東—印度洋；西—大西洋。
13. () 東非高原上受到斷層作用力而形成許多自然景

觀，地理學家在當地探勘時，主要觀察的地形景觀中不包括下列何者？

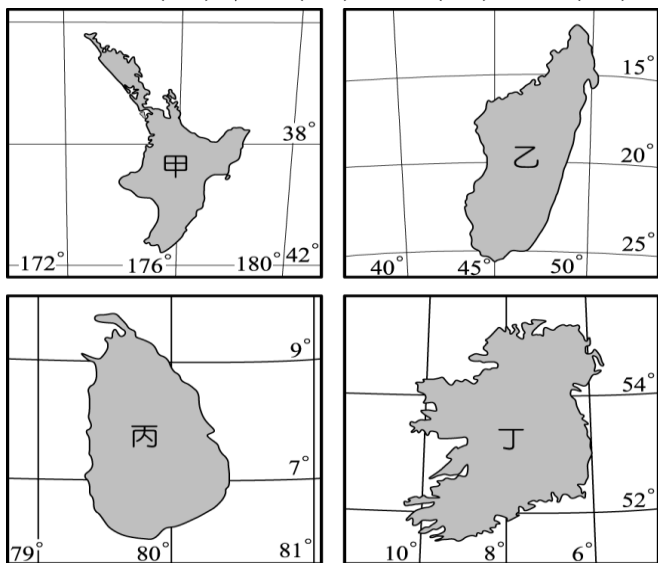
- (A)火山 (B)峽灣 (C)湖泊 (D)裂谷。
14. () 非洲的氣候環境受到地理位置的影響而有不同，由赤道往兩側移動時，年雨量及年均溫的變化分別為何？(A)年雨量漸多、年均溫漸高 (B)年雨量漸多、年均溫漸低 (C)年雨量漸少、年均溫漸高 (D)年雨量漸少、年均溫漸低。
15. () 2013 年的美國貨幣政策帶動了國際黃金的價格波動，如附圖所示。請問：這對非洲哪一個盛產黃金的國家經濟影響最大？(A)埃及 (B)剛果 (C)南非 (D)奈及利亞



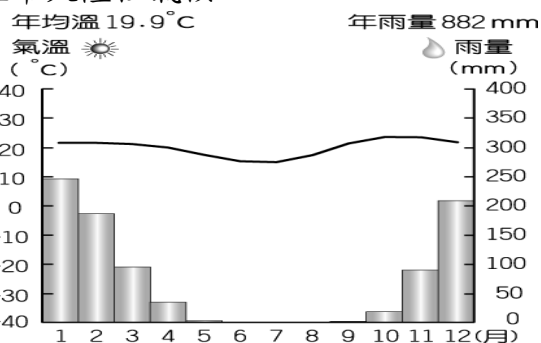
16. () 非洲盛行熱帶栽培業，成為當地重要的經濟來源之一。請問：其分布和下列何種自然條件的關係最大？(A)面積大小 (B)土壤性質 (C)氣候類型 (D)盛行風向。
17. () 金龍應邀到紐西蘭的首都參加太平洋高峰會議，他所要前往的都市為下列何者？(A)雪梨 (B)坎培拉 (C)奧克蘭 (D)威靈頓。
18. () 非洲雖然有歷史悠久的埃及古文明分布，然而內陸地區卻因為開發較晚，因此被稱之為「黑暗大陸」。若就該洲的地理位置加以判斷，形成外來文化難以進入的地形阻礙中，未包括下列何者？(A)平直海岸 (B)廣大漠地 (C)高聳山脈 (D)急流陡崖。
19. () 亞馬孫河及剛果河為世界流域面積最大的兩條河川，其共同的特色為下列何者？(A)皆位於非洲境內 (B)皆位於高原地形 (C)皆位於赤道附近 (D)皆位於熱帶沙漠氣候。
20. () 地球上約有 70 億左右的人口數，然而以下列哪些地區的人口分布最為稀疏，密度最低？(甲)亞洲(乙)非洲(丙)兩極地區(丁)大洋洲 (A)甲乙 (B)丙丁 (C)乙丙 (D)乙丁。
21. () 非洲為全球經濟發展最遲緩地區，因此境內民眾的貧窮問題相當嚴重。造成該地區人民生活困苦的主要原因中不包括下列何者？(A)嚴重乾旱(B)種族紛爭(C)人口急增(D)地形崎嶇。
22. () 非洲傳統的生活方式多為自給自足的農牧業，其種類不包括下列何者？(A)游耕 (B)採集 (C)放牧 (D)漁獵。
23. () 南極地區為世界氣溫最低的區域，請問：下列哪一個地點位於南極地區內？(A) 0°C (B) 90°N (C) 180°E (D) 80°S
24. () 以下為四位同學發表對紐西蘭的意見。請問：下列何者說法正確？(A)林至臨：「地廣人稀，畜牧業以游牧為主。」 (B)嚴城旭：「南

島因緯度較低，故人口集中。」(C)蔡伊凌：「東側雨量較西側多，是因為西風造成的。」(D)朱效天：「紐西蘭多冰河地形及火山地形，被稱為活的地形教室。」

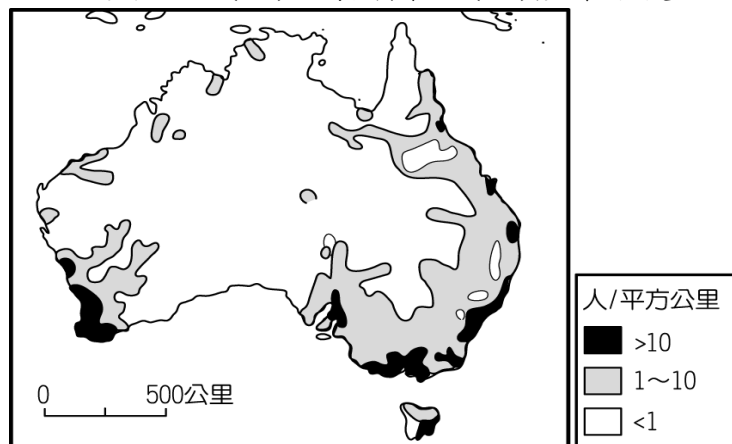
25. () 島嶼的產業活動通常受到自然環境的影響為主，如附圖為某 4 個島嶼的位置圖。哪一個島嶼因為水草豐美且環境純淨，因此綿羊畜牧和乳牛飼養均極興盛，使畜牧業成為該島嶼的經濟主體？(A)甲 (B)乙 (C)丙 (D)丁。



26. () 小泉將要從臺灣前往南非的橘河流域，得知該地區大部分的氣候特色如附圖所示。該地區的氣候類型應該為下列何者？(A)溫帶地中海型氣候(B)熱帶雨林氣候(C)熱帶莽原氣候(D)溫帶大陸性氣候



27. () 附圖為澳洲人口分布圖，其中澳洲中西部人口分布稀疏的原因為何？(A)氣候乾燥 (B)交通不便 (C)地震頻繁 (D)產業落後。

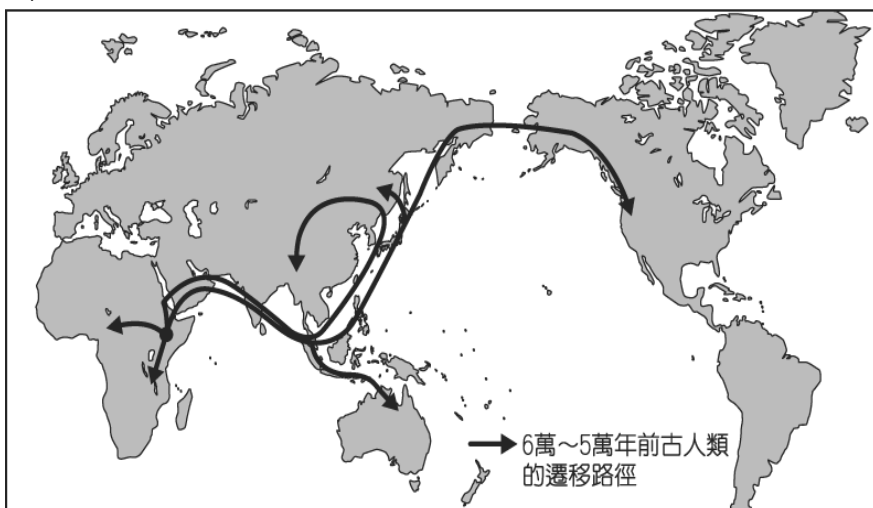


28. () 非洲的經濟活動主要受到早期外來勢力影響為主，因此該地區目前主要依賴下列何種產業活動為主？(A)勞力加工 (B)科技產業 (C)農礦生產 (D)金融貿易。
29. () 非洲的發展較其他地區遲緩，境內有許多問題亟待解決。目前非洲所面臨的主要問題中不包括下列何者？(A)生態環境破壞 (B)礦產資源不足 (C)缺糧饑荒問題 (D)疾病傳染嚴重。

30. () 電影《馬達加斯加》其名稱為非洲大陸東側的島嶼，請依其地理位置判斷，該島嶼位於哪一個海洋中？(A)地中海 (B)太平洋 (C)大西洋 (D)印度洋。

二、題組(共26分/每格2分)

- (1). 考古學家在非洲進行探索時，在當地發現 350 萬年前的人類遺骨，可說是目前發現最早的文明發源地。科學家更透過男性遺傳基因追尋古人類的遷移路徑，如附圖顯示即為 6 萬~5 萬年前古人類的遷移路徑。請問：



31. 由附圖中資料判斷，最早的古人類發源地位於非洲哪一個地區？(A)撒哈拉沙漠 (B)剛果雨林 (C)東非高原 (D)喀拉哈里盆地。
32. 根據科學家的研究顯示，6 萬~5 萬年前古人類的主要遷移路徑中通過哪一個海域？(A)印度洋 (B)北海 (C)地中海 (D)大西洋。
33. 科學家在研究人類演化的過程中，赫然發現高達 98% 的 DNA 和黑猩猩相同，然而由於該生物的生存環境終年高溫多雨，因此化石不易保存，故多藉由實驗室分析來加以驗證。請問：黑猩猩的生存環境應該為何種氣候類型？(A)熱帶莽原氣候(B)熱帶季風氣候(C)夏雨型暖溼氣候(D)熱帶雨林氣候。
- (2). 2010 年南非世界盃足球賽落幕，由西班牙奪下冠軍，成為西班牙史上第一個世界盃冠軍。南非也藉由此項全球最受歡迎體育賽事的舉辦向世界發聲。請問：
34. 當時森巴足球王國巴西遠渡重洋來到南非參賽，卻意外的輸給了荷蘭隊。巴西隊若欲直接返國，則需搭機飛越哪一個海洋？(A)大西洋 (B)太平洋 (C)印度洋 (D)北極海。
35. 南非世界盃賽事於 6 月中開幕，當時附圖中的哪一個比賽場地受到氣候類型的影響，可能正值雨季，容易因雨而延誤賽事進行？




- (A)甲 (B)乙 (C)丙 (D)丁。
36. 南非為非洲境內經濟狀況較佳的國家，但是曾經

實施隔離政策，對其國際形象大傷。過去南非的族群對立情形主要為何？(A)黑人 VS. 白人 (B)伊斯蘭教徒 VS. 猶太教徒 (C)非裔 VS. 亞裔 (D)美國後裔 VS. 德國後裔。

(3). 非洲一般被畫分成五大區域：(甲)北非(乙)中非(丙)西非(丁)東非(戊)南非。請問：

37. 附圖中的地形，大多分布於非洲何處？

(A)甲 (B)丙 (C)丁 (D)戊。



38. 下列哪一個地區是屬於伊斯蘭世界的一部分？

(A)甲 (B)乙 (C)丙 (D)丁。

(4). 來自臺南的小福利用春節期間到紐、澳地區旅行，並在課堂上將這趟行程的特色和大家分享。下列為其旅程的相關敘述，請問：

39. 小福第一站先到了澳洲，當時正處於何種的季節分布時期？(A)春季(B)夏季(C)秋季(D)冬季

40. 小福發現在澳洲當地有許多的工業區目前正逐步的興起，這和該地區何種工業發展區位條件優越關係最大？(A)原料充足 (B)交通便利 (C)地形平坦 (D)勞工眾多。

41. 小福到了紐西蘭的北島觀光，下列有關該地區的敘述，何者正確？(A)石灰岩地形為主 (B)緯度分布較高 (C)最大都市和首都所在 (D)熱帶氣候為主。

(5). 第一級產業產品的外銷為澳洲重要外匯來源之一，但曾因降水不足，而面臨「百年大旱」的危機。當時澳洲總理曾經警告說：「若近期內沒有足夠的雨水，即將停止大部分農地的灌溉。」請問：

42. 受到全球化的影響，澳洲農牧業由於長期乾旱而大受影響，這將對國際市場造成何種衝擊？(A)羊毛原料價格上漲 (B)市售咖啡價格變貴 (C)稻米價格波動 (D)棉紡工業缺乏原料。

43. 我國在進行農牧業轉型的過程中，曾參考澳洲的農業發展過程。下列有關澳洲農牧業發展條件的敘述，何者正確？(A)位於北回歸線經過地區，氣候乾燥，促成粗放的畜牧業 (B)降水的分布，明顯受到山脈和西風的影響 (C)鄰近亞洲主要市場，有利畜牧產品的輸出 (D)勞工充足且面積廣大，單位面積產量高。

三、特色題(共14分/每題2分)

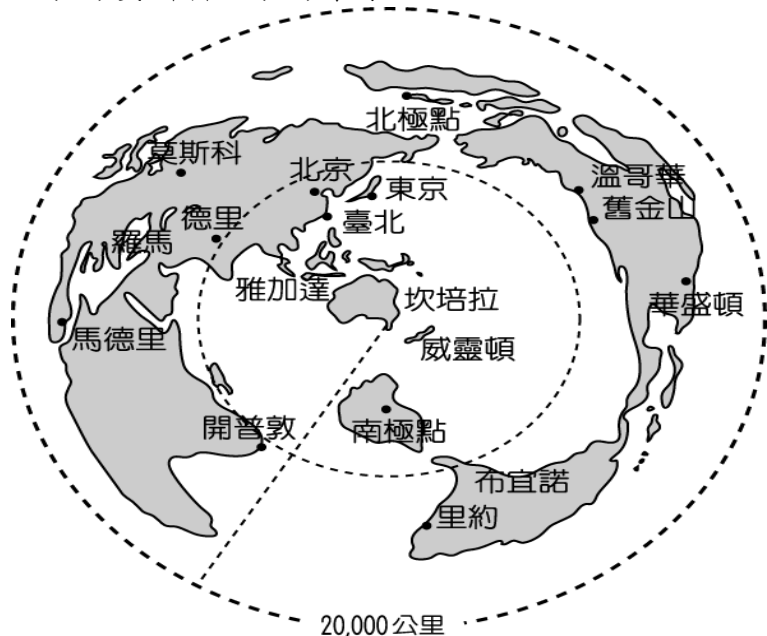
44. 東非各國是世界上最貧窮的地區之一，近年來部分國家為改善生活，正嘗試利用國家公園發展觀光事業，這些國家公園吸引遊客的最主要條件為何？(A)豐富的動物資源 (B)多樣的族群文化 (C)壯觀的黃土地形 (D)古代的人類文明遺址。

45. 大洋洲三大島群中的澳洲，與度假天堂關島。請問：這兩個島群之間主要以下列哪一條經緯線相隔？(A)本初經線 (B)180度經線 (C)赤道 (D)北回歸線。

46. 「來到這兒，雖然白天見得到陽光，但是氣溫卻冷得令人發抖；雖然遍地都是冰雪，但卻是世界降雨量最少的地區。」上文敘述中的地區最可能為下列何者？(A)赤道地區 (B)兩極地區 (C)非洲地區 (D)沙漠地區。

47. 「該地區的生長季長，且降雨量相當豐富。然而受到發展過程的影響，因此咖啡、可可等農產品皆以外銷為主，成為當地主要的經濟來源。」文中敘述的經濟活動最可能位於何處？(A)北美洲(B)非洲(C)歐洲(D)澳洲。

48. 附圖為澳洲與各大都市的距離，外圍半徑 20,000 公里，為地球圓周之半。若單就距離來考量，澳洲與哪一都市發展經貿關係最有利？(A)開普敦 (B)舊金山 (C)莫斯科 (D)東京。



49. 有一位商人旅行到埃及尼羅河下游的孟斐斯，他在這個城市中最可能看到下列何種景象？(A)人們多在棉花田中工作 (B)犛牛為當地主要馱獸 (C)到處可見到佛教寺廟 (D)熱帶雨林普遍布於各地。

50. 經濟的發展通常會反映在一國幣值的變化，附圖為部分國家在某一時間內的幣值變化情形，其中升值幅度最大的國家位於非洲。由於該國物產豐富、工業發達，因此吸引外資進入，經濟較為穩定。請問：上述非洲國家最可能為哪一國？(A)埃及 (B)南非 (C)剛果 (D)肯亞。

