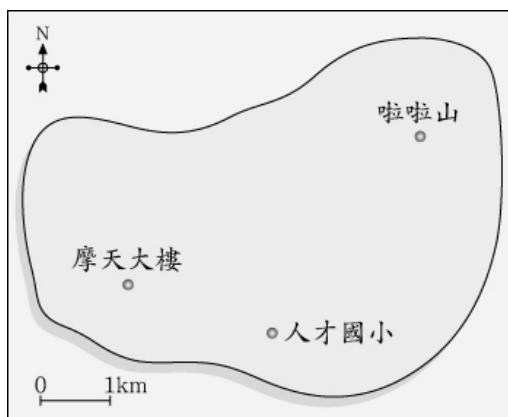


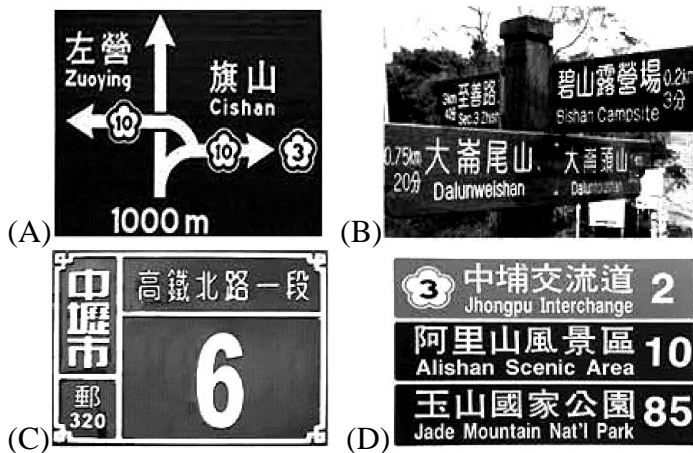
嘉義市立北興國中一 O 四學年度第 1 學期地理科一年級第 1 次段考

一、選擇：(每題 2 分，共 60 分)

- () 臺灣因為位於哪兩個板塊交界處，因此地震活動頻繁？ (A)歐亞板塊、太平洋板塊 (B)菲律賓海板塊、太平洋板塊 (C)歐亞板塊、菲律賓海板塊 (D)印澳板塊、歐亞板塊。
- () 臺北市北部的陽明山群噴氣口目前仍持續噴出高溫氣體與硫磺氣味，這可以證明此處曾經有過哪種營力活動？ (A)堆積 (B)褶曲 (C)火山 (D)侵蝕。
- () 哈比經測量得知，人才國小在他的南方，摩天大樓在他的西南方，若人才國小、摩天大樓和啦啦山的位置如圖所示，則對於哈比而言，啦啦山的相對位置約在何處？ (A)西北方 2 公里處 (B)西方 3 公里處 (C)東北方 4 公里處 (D)東方 2 公里處。



- () 下列四種生活中常見的路標，何者是採取絕對位置的標示方式？

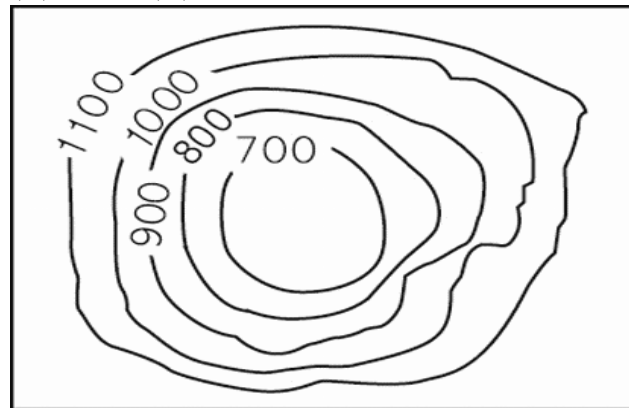


- () 下列哪個縣市位在臺灣本島中央？ (A)南投縣 (B)花蓮縣 (C)屏東縣 (D)澎湖縣。
- () 新學期換了新座位，隔壁班的小民要把課本還給大光，但是剛好他不在班上，同學只記得他坐在宜芳的東南方，宇歆的西南方，大倫的東北方。根據附圖的班級座位圖，小民應該要把課本放在哪個座位上？ (A)甲 (B)乙 (C)丙 (D)丁。

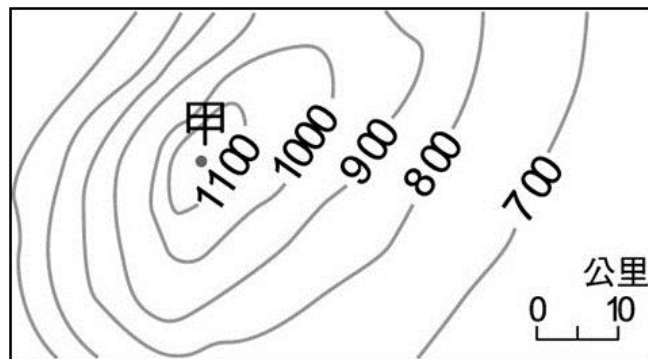
宜芳	甲	宇歆
	乙	
大倫	丙	
	丁	

- () 臺灣有三個火山群，其中臺灣本島的火山群主要分布在哪个地區？ (A)東部 (B)西部 (C)南部 (D)北部。
- () 地圖中的方向標若為「N ←」，則西方應位於地圖的哪側？ (A)上方 (B)下方 (C)左方 (D)右方。
- () 元吉在評量卷裡看到一張等高線地形圖(如附圖)，

這可能是下列哪種地形？ (A)山地 (B)丘陵 (C)臺地 (D)盆地。



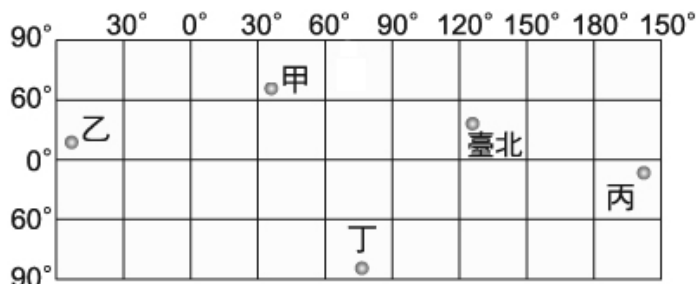
- () 形成平原的主要作用力為何？ (A)地殼抬升 (B)河流沖積 (C)板塊擠壓 (D)海面上升。
- () 關於臺灣島的描述，下列敘述何者錯誤？ (A)臺灣島內多山地 (B)屬於環太平洋火山地震帶 (C)由菲律賓海板塊與歐亞板塊碰撞擠壓 (D)板塊擠壓的方向略成東西向。
- () 在臺灣的行政區劃中，下列哪個縣市的層級較低？ (A)臺北市 (B)南投縣 (C)嘉義市 (D)彰化市。
- () 附圖是某一地區的等高線地形圖。根據資料判斷，若要爬山何處方位較容易？ (A)東方 (B)西方 (C)南方 (D)北方。



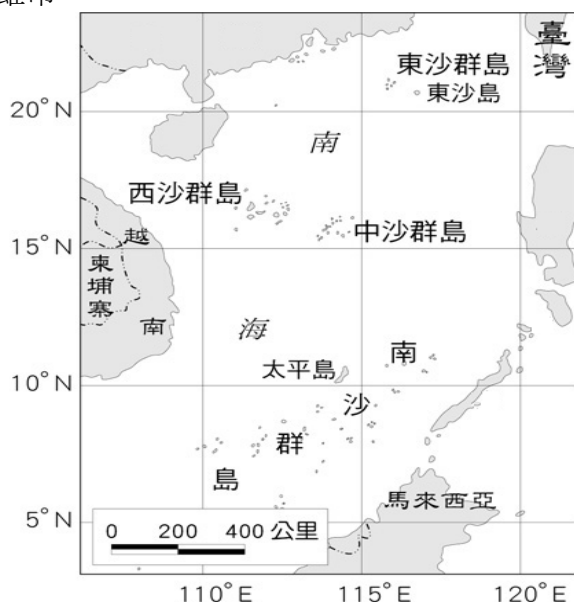
- () 臺灣最高峰位於下列哪座山脈之中？ (A)阿里山山脈 (B)中央山脈 (C)玉山山脈 (D)雪山山脈。
- () 「此回歸線是太陽直射地表的最北界，主要通過臺灣的嘉義縣及花蓮縣等。」文中的回歸線是指幾度？ (A)南緯 23.5 度 (B)北緯 23.5 度 (C)南緯 66.5 度 (D)北緯 66.5 度。
- () 下列何者並非電子地圖所具備的特色？ (A)更新速度快 (B)可進行衛星導航 (C)可量測距離 (D)地圖大小固定。
- () 「又塞車了！每到假日這條由臺北通往宜蘭的隧道總是塞滿了車潮……。」請問：這個隧道穿過哪座山脈？ (A)雪山山脈 (B)中央山脈 (C)海岸山脈 (D)玉山山脈。
- () 電影「海角七號」從西元 2008 年 8 月上映後，造成不小的迴響。美嘉想去電影拍攝場景國境之南的恆春鎮、墾丁一帶觀光，感受熱帶風情。請問：他應該前往哪個縣市？ (A)台東縣 (B)屏東縣 (C)高雄市 (D)臺南市。
- () 林老師請同學介紹臺灣的相對位置，下列哪位同學的敘述錯誤？ (A)小倩：「臺灣位於東經 120~122 度、北緯 22~25 度」 (B)麗晶：「臺灣位在菲律賓北方」 (C)宜靜：「臺灣位於中國大陸的東南方」 (D)小華：「臺灣位在日本的西南方」。
- () 金龍爺爺說：「大雄啊，臺灣早期物資缺乏，交通又不方便，日常物品都要靠著挑夫翻山越嶺從台東挑到屏東販售。要愛惜物品呀！」請問：上文挑夫需翻越的是哪座山脈？ (A)中央山脈 (B)玉山

山脈 (C)雪山山脈 (D)海岸山脈。

21. () 「當地雖然陸地範圍很大，但是因為緯度高、年均溫低，除了一些探險家或科學家之外，幾乎沒有什麼人居住。」上述地區最可能位於圖中的何處？ (A)甲 (B)乙 (C)丙 (D)丁。



22. () 上完地理課後，同學們對於臺灣的地形都有了初步的認識，幾位同學聚集在一起討論，誰的發言有誤？ (A)阿宏：我從小跟爸媽來臺居住，這裡因為地形種類複雜，東西部間交通不便 (B)小琪：我外婆住在臺灣東部，這裡有山地也有一些平原 (C)阿建：臺灣主要有五大地形 (D)小慧：我老家在臺灣西部，那裡山峰連綿，山地面積廣大。
23. () 「早上從花蓮市出發向南行，沿途可見鐵路與公路綿延在山與山之間的平原上。約一小時後車子左轉，直行五分鐘後到達的山區即為本次的旅遊景點，該地保存了許多原始生態。」上文所述的旅遊景點應是位於下列哪一座山脈？ (A)玉山山脈 (B)中央山脈 (C)雪山山脈 (D)海岸山脈。
24. () 「……有些學者依據這兩條山脈在地質年代上的連續性，推論甲山脈原本位於玉山山脈之上，後來因為板塊擠壓造成山脈岩層斷裂，在地殼隆升的過程中，上方較年輕的岩層往西滑動，形成今日的甲山脈，而下方較老的岩層，則成為玉山山脈。」上文中的甲山脈應是指下列何者？ (A)中央山脈 (B)海岸山脈 (C)雪山山脈 (D)阿里山山脈。
25. () 太陽直射範圍最北可達北緯幾度？ (A)90度 (B)66.5度 (C)23.5度 (D)0度。
26. () 根據聯合國《海洋法公約》規定，各國擁有在其經濟海域內資源的使用權。臺灣因四面環海，島嶼眾多，擁有廣大的經濟海域，但因與鄰近國家的經濟海域重疊，經常有漁業上的糾紛。上文所述的鄰近國家不包含下列何者？ (A)中國 (B)日本 (C)南韓 (D)菲律賓。
27. () 臺灣的離島眾多，除澎湖、金門及馬祖外，其餘都隸屬臺灣本島的行政區下管轄，且管轄權多屬鄰近該島嶼的行政區，附圖為東沙島、太平島與臺灣的相對位置圖。請問：其最可能隸屬哪個行政區管轄？ (A)臺北市 (B)新北市 (C)嘉義市 (D)高雄市。



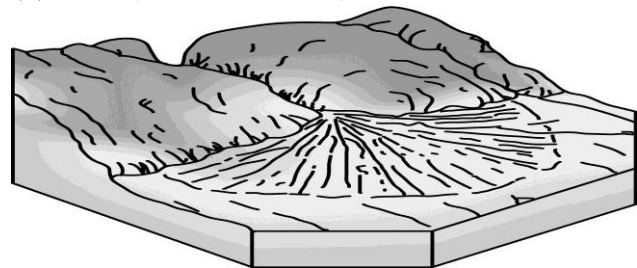
28. () 經濟海域範圍是 200 浬(1 浬=1.8532 公里)，故臺灣的經濟海域範圍最遠應該涵蓋附圖中何處？ (A)甲 (B)乙 (C)丙 (D)丁。



29. () (甲)中國大陸位於臺灣本島的東南方，所在經緯度位置，約為 (乙)東經 120~122 度，北緯 22~25 度，(丙)東面為太平洋，西面為臺灣海峽，(丁)玉山主峰高 3,952 公尺，為本島第一高峰。上列關於臺灣的敘述，何者錯誤？ (A)甲 (B)乙 (C)丙 (D)丁。
30. () 芒果電腦公司生產的手機在美國紐約(90°W)6 月 29 日下午 6 點開始販售，全球各地的新聞大肆報導。請問：臺灣最快可以在何時看到第一位買到手機幸運兒的報導？ (A)6 月 29 日早上 10 點 (B)6 月 30 日早上 8 點 (C)6 月 29 日凌晨 4 點 (D)6 月 30 日凌晨 2 點。

二、題組：(每個答案 2 分，共 40 分)

- (1). 附圖是一處河流地形。請問：

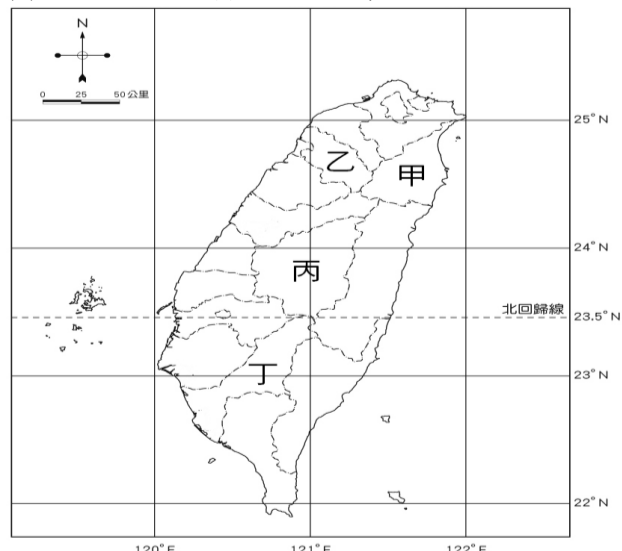


- () 31.附圖是指下列何種地形？ (A)瀑布 (B)曲流平原 (C)山麓沖積扇 (D)河口三角洲。
- () 32.附圖中的河流地形其主要形成作用力為何？ (A)火山活動 (B)地殼變動 (C)侵蝕作用 (D)堆積作用。

- (2). 地圖是生活上常用的工具，因使用目標不同而選用不同的地圖，為了使讀者能了解地圖的內容以便於判讀，以及達成使用的目標，因此，地圖上具備了幾種地圖的要素。請問：

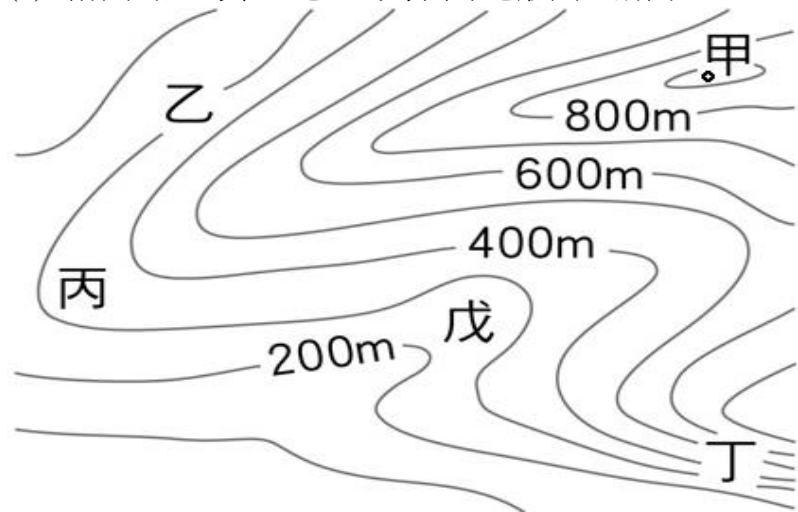
- () 33.「將地圖中的資料簡化成為地圖符號」，是指下列何種地圖要素？ (A)圖名 (B)圖例 (C)方位 (D)比例尺。
- () 34.小夫想了解一幅地圖的主要內容，最簡單的方法是觀看下列何項地圖要素？(A)圖名(B)圖例(C)方位(D)比例尺。

- (3). 附圖為臺灣行政區分布圖。請問：



- () 35.新竹縣位於圖中何處？ (A)甲 (B)乙 (C)丙 (D)丁。
- () 36.座標「東經 121 度、北緯 24 度」落於哪一行政區？ (A)臺中市 (B)臺南市 (C)南投縣 (D)臺東縣。
- () 37.東經 121 度、北緯 25 度的位置發生船隻擱淺事件，那麼應該由哪個行政區直接派員前往處理較快速？ (A)高雄市 (B)桃園市 (C)屏東縣 (D)雲林縣。
- () 38.國際童玩藝術節在宜蘭縣熱鬧展開，希望吸引暑假人潮前來宜蘭觀光。請問：宜蘭縣位於圖中何處？ (A)甲 (B)乙 (C)丙 (D)丁。
- () 39.臺灣高鐵在民國 96 年 2 月 1 日正式營運，沿線停靠站由北而南依序是臺北站、板橋站、桃園站、新竹站、臺中站、嘉義站、臺南站、左營站。請問：圖上哪個縣市有高鐵所設停靠站？ (A)甲乙 (B)甲丙 (C)乙丁 (D)丙丁。

(4). 附圖為臺灣某一地區的等高線地形圖。請問：

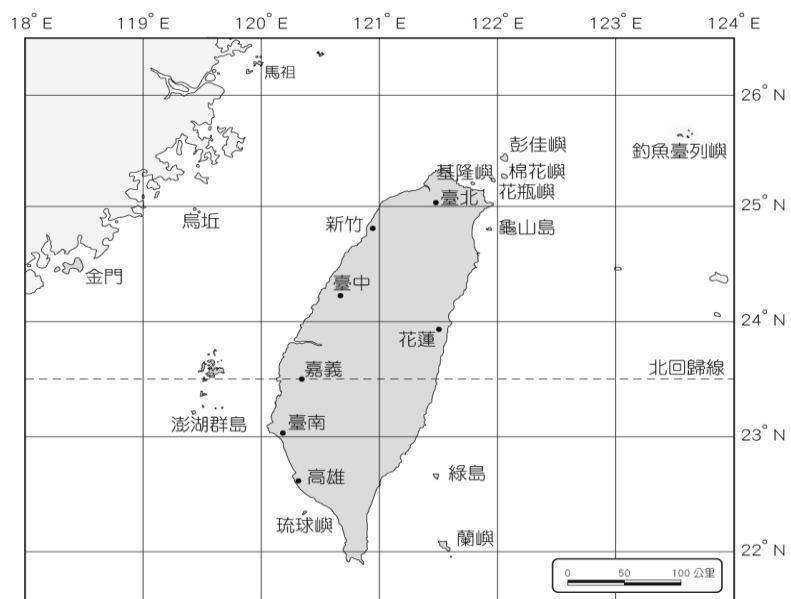


- () 40.由圖判斷，哪點所在的地方可能有河流經過？ (A)乙 (B)丙 (C)丁 (D)戊。
- () 41.由圖判斷，圖中何處的坡度最陡？ (A)甲 (B)乙 (C)丙 (D)丁。
- () 42.圖中乙地所在的地方高度應該為何？ (A)100 公尺 (B)200 公尺 (C)300 公尺 (D)400 公尺。
- () 43.圖中最高的地點「甲」，其高度可能為何？ (A)850 公尺 (B)900 公尺 (C)950 公尺 (D)1,000 公尺。
- () 44.由圖判斷，相鄰兩等高線差距為多少公尺？ (A)100 公尺 (B)200 公尺 (C)400 公尺 (D)800 公尺。

(5). 小國利用中秋節期間，與父親開車一起去旅行，他們由臺中市出發向東，隨即不久就進入山區，小國的爸爸跟他說：「這一條路就是風景優美的中橫公路，由這條公路走到底，我們就可以到達花蓮縣了。」請問：

- () 45.由小國爸爸的描述可以知道，中橫公路必須穿過下列哪座山脈的中段，才能從西部到達東部？ (A)中央山脈 (B)雪山山脈 (C)阿里山山脈 (D)海岸山脈。
- () 46.到了花蓮之後，他們行駛在平坦的道路上，繼續往台東的方向前進，沿途發現左右兩邊都有山脈，此時他們正走在哪個地形區上？ (A)臺地 (B)縱谷平原 (C)山地 (D)丘陵。
- () 47.承上題。此時左側是下列哪座山脈？ (A)中央山脈 (B)雪山山脈 (C)玉山山脈 (D)海岸山脈。

(6). 小馬想要了解臺灣各離島與本島間的關係，因此他找出了臺灣鄰近離島的位置分布圖，如附圖所示。請問：



- () 48.龜山島位於宜蘭縣的哪個方向？ (A)東方 (B)西方 (C)南方 (D)北方。
- () 49.若由臺北搭飛機飛往馬祖列島，則飛行的方向應朝向何方才正確？ (A)西北方 (B)西南方 (C)東北方 (D)東南方。
- () 50.關於臺灣本島與各離島間的「相對位置」敘述，下列何者錯誤？ (A)金門位於臺灣本島的西方 (B)綠島位於臺灣本島的東南方 (C)臺灣本島位於釣魚臺列嶼的東北方 (D)臺灣本島位於澎湖群島的東方。