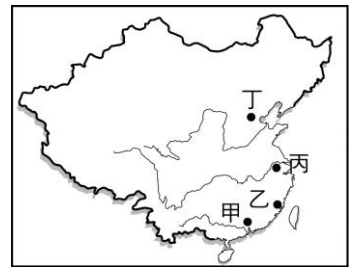


國二地理科試卷

一、 單選題（每題 2 分，共 50 題）

\_\_\_\_\_ 班 \_\_\_\_\_ 號 姓名 \_\_\_\_\_

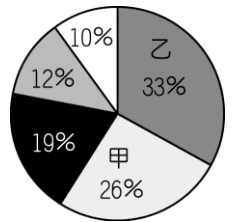
1. 『X 城市位於華北平原的西北邊緣，背靠燕山，有永定河流經老城西南，毗鄰天津市、河北省，是一座有八百五十餘年建都史的歷史文化名城，歷史上有數個政權建政於此，薈萃了自元明清以來的中華文化，擁有眾多歷史名勝古迹和人文景觀，如紫禁城、天安門……。』請問上述中的 X 城市最靠近右圖何處：



- (A)甲 (B)乙 (C)丙 (D)丁。
2. 『中國的國土位於 73°E~135°E 與 18°N~53°N 之間』依據上述，下列何者正確？(A) 中國緯度跨越 60 餘度 (B)根據全球時區的劃分，中國應該跨越 7 個時區 (C) 中國國土大部分位於寒帶氣候 (D) 中國位於東半球與北半球。

3. 中國從絕對位置來看，多數地區氣候宜人、適宜人居，請問中國大部分國土位於：(A)高緯度 (B)中緯度 (C)低緯度 (D)赤道。

4. 右圖為中國各種地形面積比例大小的圓餅圖，請問甲與乙分別代表哪一種地形？(A)高原、山地 (B)盆地、平原 (C)山地、丘陵 (D)平原、高原。



5. 行政區的劃分，會因為朝代或政權更迭而有所不同。請問行政區劃分的最主要目的為何？(A)有利於與國外聯繫 (B)方便行政管理 (C)傳承傳統習慣 (D)平均分配國家資源。

6. 下列哪一個國家『不是』中國的陸上鄰國？(A)越南 (B)印度 (C)日本 (D)俄羅斯。

7. 中國共有 33 個省級行政區，其中對於保障少數民族本身的政治、社會、經濟與文化體系，所設置的行政區，稱為：(A)省 (B)直轄市 (C)特別行政區 (D)自治區。

8. 中國「直轄市」的分布，主要位於右圖哪兩個地區？

(A)甲、乙 (B)乙、丁 (C)甲、丙 (D)丙、丁



9. 『2005 年中國某地登錄為世界遺產，其價值在於這片區域是昔日葡萄牙人為主的外國人居住區，建築群呈現港口城市和傳統中、葡聚居地的特色。對當地來說不僅是旅遊特效藥，背後更有著深刻的社會心理意涵，申遺成功讓民眾從內心擺脫昔日殖民地的臣民心態，開始用在地眼光、全球視野審視自己生活的存在意義，找回失落已久的自我認同感。』試問：以上描述位於右圖哪一個區域？(A)甲 (B)乙 (C)丙 (D)丁。

10. 呈上題，該行政區是指下列何地？(A)北京 (B)重慶 (C)澳門 (D)上海。

11. 中國東半部的山脈以東北－西南走向為主；西半部以東－西走向為主，造成東西半部地形走向不同的最主要原因是：(A)板塊擠壓方向不同 (B)火山爆發造成 (C)海嘯發生時間不同 (D)全球暖化，造成氣候變遷。

12. 『中國只有一個省份全部處於熱帶，是中國最具熱帶海洋氣候特色的地方，全年暖熱，雨量充沛，乾濕季節明顯。這裡農民的主要收入在冬季，當地在冬季比其他地區適合蔬菜、水果的栽培，加上這幾年臺商投資引進許多新品種，使得瓜果更具競爭力，大量的銷售到其他地區。』請問：上述最可能是哪一個地區？(A)西藏 (B)海南 (C)上海 (D)內蒙古。

13. 呈上題，上題敘述『這裡農民的主要收入在冬季，當地在冬季比其他地區適合蔬菜、水果的栽培』，請問與下列何者最有關？(A)緯度較低 (B)地勢較高 (C)多石灰岩地形 (D)黃土分布廣。

14. 『敕勒川，陰山下。天似穹廬，籠蓋四野，天蒼蒼；野茫茫，風吹草低見牛羊。』小馬哥從以前就一直很嚮往內蒙古的景致。上地理課時研究中國地形分布時，小馬哥終於發現他嚮往的天堂。請問：小馬哥嚮往的地區，位在右圖中的哪一個地區？(A)甲 (B)乙 (C)丙 (D)丁。



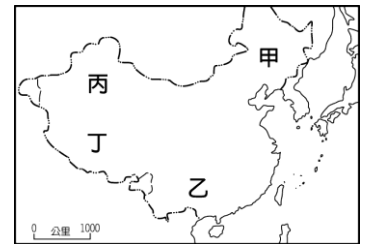
15. 2014 年 3 月初，在中國雲南省車站，有 5 名來自主張新疆獨立團體的成員在車站持刀濫砍，造成 31 人死亡、141 人受傷。根據調查，這個疆獨團體最有可能來自於右圖中的哪一個行政區？(A)甲 (B)乙 (C)丙 (D)丁

16. 如果要研究壯族的相關傳統文化，去右圖哪一個地區最適合？(A)甲 (B)乙 (C)丙 (D)丁。

17. 某地在珠江口東側，1997 年 7 月 1 日正式結束 156 年的殖民統治，成為中國首個特別行政區。但在接近主權移交前，有不少人才和資金外流，使不少人對當地經濟前景感到悲觀，當時因有「97 大限」的說法，請問：上述最可能是哪一個城市？(A)北京(B)澳門(C)香港(D)上海
18. 呈上題，在 1997 年主權回歸中國前，此地主要歸屬下列那一個國家管理？  
(A) 英國 (B)美國 (C)葡萄牙 (D)台灣。
19. 對於中國地形之『最』的描述，下列何者『錯誤』？(A)最高的山脈：天山 (B)最高的高原：青藏高原 (C)最大的盆地：塔里木盆地 (D)最大的平原：東北平原。
20. 中國海岸以杭州灣甬江口為界，南北特色大不同，請問下列表格中正確的有哪些？(A)甲乙 (B)乙丁 (C)丙丁 (D)甲丙。

分界	甲：海岸類別	乙：海岸線	丙：沿岸地形	丁：產業發展
杭州灣以北	多沙岸	曲折	多平原	航運、捕撈漁業
杭州灣以南	多岩岸	平直	多灣澳、島嶼	養殖漁業、鹽業

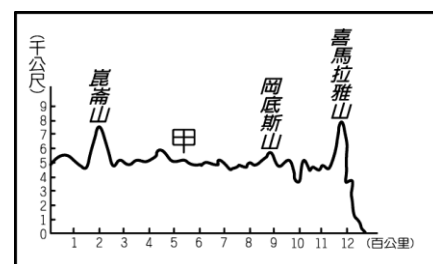
21. 雖然地形會限制人類的活動，但人類也會尋求各種方式克服自然環境的限制。請問下列對於人類利用土地的方式，何者較『丕』適宜？(A)高山與高原地區雖然地形崎嶇，但可利用河川坡陡流急的特色，發展水力發電 (B)山區雖然交通不便，現代經濟開發較晚，但可利用自然美景發展觀光 (C)平原地區的居民為增加耕地面積廣闢梯田 (D)岩岸地形，海岸曲折，港闊水深，適宜發展漁業。
22. 自隋唐以來，黃河流域在歷經戰亂後，中國就逐漸形成了經濟中心轉移，而政治中心留在華北地區的局面，為確保經濟中心的賦稅與物資能夠運往華北地區，開闢一條北京到杭州的人工運河，對於此運河的敘述下列何者『錯誤』？(A) 此運河為京杭大運河，是世界上最長的古代運河，分布於中國地勢第三階級 (B) 受中國地勢西高東低影響，此人工運河因而修築為東西向，以加強天然水運的功能 (C) 可連接海河、黃河、淮河、長江與錢塘江 5 個水系 (D) 今日為中國南水北調東線工程的重要通道。
23. 對於右圖的中國各行政區敘述，下列何者正確？(A)甲是海南省 (B)乙是內蒙古自治區(C)丙是寧夏回族自治區(D)丁是西藏自治區。
24. 右圖各區中，何者平均海拔高度最高？(A)甲(B)乙(C)丙(D)丁。
25. 那一個地區以『石灰岩地形』著稱？(A)甲 (B)乙 (C)丙 (D)丁
26. 隨著兩岸經濟合作的登場，台灣的小彬計畫順著潮流到中國沿海地區投資，請問小彬所投資的地區位於哪一個經濟地帶？(A)東部(B)中部(C)西部(D)塞北地帶。
27. 呈上題，小彬在中國沿海地區所投資的工廠，如果想選擇最短路徑，利用水運運送商品到美國，請問貨船會經過下列哪一個地區？(A)大西洋 (B)歐洲 (C)太平洋 (D)印度洋。
28. 英國倫敦位於本初子午線，而北京位於(116°28'E、39°54'N)，請問：倫敦時間比北京時間快或慢幾個小時？(A) 快 8 個小時 (B) 慢 8 個小時 (C) 快 9 個小時 (D) 慢 9 個小時。
29. 小彬要到上海出差，他計畫從台灣搭乘 10 月 19 日早上 9 點出發的飛機，飛行所需時間約 3 小時，請問小彬到達上海時，當地時間為何？(A) 10 月 19 日早上 9 點 (B) 10 月 19 日早上 10 點 (C) 10 月 19 日中午 12 點 (D) 10 月 19 日下午 14 點。
30. 2015 年 8 月 8 日下午 7 點整，在台灣的小彬利用電腦網路與中國網友在線上進行即時通訊，請問下列哪一位網友的敘述正確？(A)北京(116°24'E、39°55'N)網友：7 點了！準備去吃晚餐。(B)烏魯木齊(87°36'E、43°46'N)網友：7 點了！已經天黑一段時間。(C)重慶(106°33'E、29°33'N)網友：6 點了！太陽已經下山。(D)上海(116°24'E、31°11'N)網友：8 點了！藍天白雲，太陽還未下山。



31. 「從中國嫁到台灣的小蕨，是來自中國人口擁擠的沿海地區，當地氣候雖可讓稻米一年二穫，但因地形影響，即使努力的耕種仍不能提供充分的糧食，加上沿海有許多優良的港灣，所以海上事業在居民生活中占著重要的角色。」根據上文所述，小蕨最可能來自下列哪一地區？(A)青藏高原 (B)四川盆地 (C)內蒙古高原 (D)東南丘陵。
32. 小花利用暑假到中國第一大沙漠旅行，沿途雖然有許多當地美食，如：蟠桃、馬奶子葡萄和甜瓜，但即使備上了這些，也無法抵禦沙漠中的乾渴。風裏滿是沙子，從關不太起來的車窗縫隙侵襲臉頰，沒有任何抗爭的可能，小花所能做的便是望著窗外無盡的『死亡之海』。請問：造成該區沙漠廣布的最主要成因為何？(A)距海遙遠，四周高山屏障 (B)地勢太高，缺少對流作用 (C)多石灰岩，植物生長差 (D)沙塵暴吹來大量風沙。
33. 呈上題，小花最可能到中國哪一個地區旅遊？  
(A)青藏高原 (B)雲貴高原 (C)塔里木盆地 (D)四川盆地。

※小忠大學畢業後計劃利用5年時間，完成個人的單車環球計畫，其中一站來到右圖中的甲地區，請問：

34. 沿途小忠會與網友一起分享旅途所見，當時小忠在網誌上描述如下，請問小忠最有可能在哪一級地勢階梯騎單車？(A)第一級階梯 (B)第二級階梯 (C)第三級階梯 (D)第四級階梯。



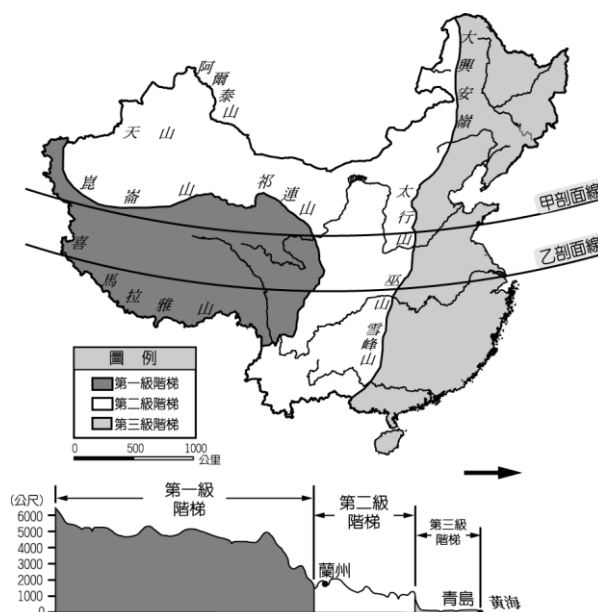
10/8~10/12 格爾木(2800m)→崑崙山口(4767m)→五道梁(4640m)。 里程 268Km

騎上公路自格爾木開始上坡，越過第一個山口-崑崙山口，今年依舊寒冷且飄大雪，爬升到四千公尺以上進入雪地世界。此段行程因為剛開始踏騎，高度節節升高，因此速度放慢以適應高度，調節體力與速度……。

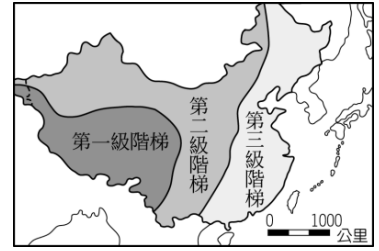
35. 呈上題，當時小忠最可能位在中國哪一個地形區？  
(A)青藏高原 (B)山東丘陵 (C)內蒙古高原 (D)黃土高原。
36. 呈上題，有關當地的特色敘述中，何者出現「錯誤」？  
(A)人口較為稀少 (B)交通較不方便 (C)河運較為發達 (D)產業較為落後。
37. 小忠在路上感到頭疼、噁心、呼吸困難的情形，最後只好帶上氧氣罩，才減輕這些不舒服的症狀。請問造成小忠不舒服的原因為何？(A)白天氣溫過高，造成熱浪來襲 (B)山區氣壓過高，造成體內血液循環不佳 (C)當地工廠林立，空氣品質不佳 (D)高山空氣稀薄，造成『高山症』現象。

※右圖為中國的地形剖面圖，請問：

38. 右下圖中的→所指方向為？  
(A)東 (B)西 (C)南 (D)北。
39. 右下圖是依照右上圖中的哪一條剖面線畫出？  
(A)甲 (B)乙。
40. 若依圖中入海口的位置加以判斷，此地形剖面圖中的第三級階梯應該為哪一個地形區？(A)四川盆地 (B)珠江三角洲 (C)長江中下游平原 (D)華北平原。



※右圖是中國的地勢三級階梯圖，請回答下列問題：



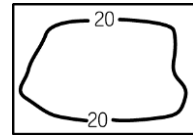
41. 對於中國地勢第一級階梯的敘述下列何者正確？

- (A)以黃土高原為主體 (B)由太平洋海板塊擠壓歐亞大陸板塊而成 (C)有『世界屋脊』之稱 (D)中國溶蝕地形最發達地區。

42. 甲：四川盆地，乙：柴達木盆地，丙：塔里木盆地，丁：準噶爾盆地，請問以上四個地區，哪一個地區的分布階梯與其他三個地區不同？(A)甲 (B)乙 (C)丙 (D)丁。

43. 右列等高線地形圖，大多位於中國地形的哪一階？

- (A)第一級階梯 (B)第二級階梯 (C)第三級階梯 (D)第四級階梯。



44. 班上四位同學收集中國三級階梯圖的相關資訊，請問哪位同學的資料與這三級階梯地勢的起伏較『無關』？(A)小明：『大江東去，浪淘盡。中國第一長河：長江，受地勢西高東低影響，由西向東流』(B) 小花：『由於第三級階梯的地勢最低，大西洋暖濕水氣較易流入，有利中國農作』 (C) 小強：為彌補天然河道的不足，修築南北向人工運河。 (D) 小夏：第一級階梯有許多高聳的山地，造成冰河地形發達。

※請根據右圖回答：



45. 甲地區是下列何者？(A)塔里木盆地 (B)柴達木盆地 (C)四川盆地 (D)準噶爾盆地。

46. 丙地區是下列何者？(A)雲貴高原 (B)塔里木盆地 (C)珠江三角洲 (D)四川盆地。

47. C地區是下列何者？(A)黃土高原 (B)柴達木盆地 (C)東北平原 (D)塔里木盆地。

48. D地區是下列何者？(A)華北平原 (B)雲貴高原 (C)內蒙古高原 (D)青藏高原。

49. ③地區是指下列何者？

- (A)四川盆地 (B)珠江三角洲 (C)長江中下游平原 (D)華北平原。

50. 下列配對何者正確？

- (A)最大盆地：① (B)沙漠廣布：乙 (C)冰河地形：③ (D)沖積地形：甲。