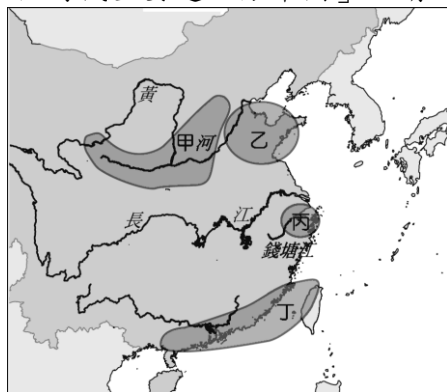


◎單一選擇題（一題2分，共100分）

1. 對於上古時期的歷史文化研究，除了可參考前人所留下的文獻資料外，考古遺址的出土也提供許多寶貴的資料。若我們要研究商代歷史，採用下列哪一考古遺址的資料最適當？(A)二里頭文化(B)仰韶文化(C)殷墟文化(D)十三行文化。
2. 夏代為何會被視為中國的第一個朝代？(A)統一各部落，發明文字、衣裳(B)開始了君位世襲制度(C)進入漁獵、農耕的生活型態(D)開始使用青銅器。
3. 西周末年因寵愛褒姒而以烽火戲諸侯，導致亡國的君主是何人？(A)武王(B)幽王(C)平王(D)成王。

☆ 下圖（一）是「中國新石器時代重要遺址分布圖」，請回答 4~7 題：



（圖一）


4. 臺灣北部原住民在新石器時代早期的代表文化，與圖（一）中哪一區關係最為密切？(A)甲(B)乙(C)丙(D)丁。



圖（二）



圖（三）



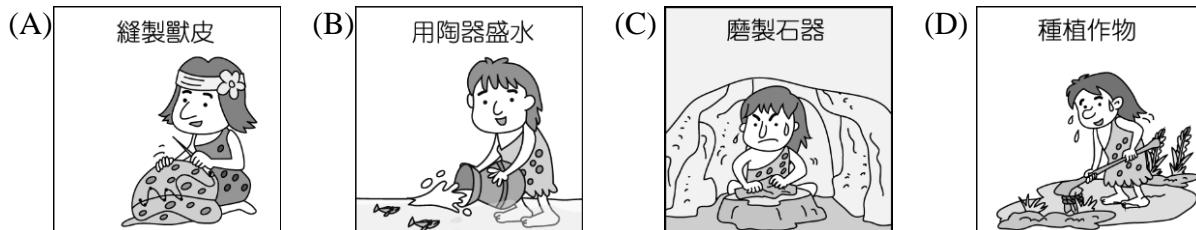
圖（四）

5. 圖（二）的陶器具有彩色的紋飾，最有可能出土於圖（一）中的哪一區？(A)甲(B)乙(C)丙(D)丁。
6. 圖（三）的陶器，顯示出該文化具有很進步的製陶技術，最有可能出土於圖（一）中的哪一區？(A)甲(B)乙(C)丙(D)丁。
7. 圖（一）中丙區，曾發現一種為了適應地理環境，所發展出的住屋型態（如圖（四））。請問：此住屋最大特色，在於具有下列哪一功用？(A)防潮避蟲(B)冬暖夏涼(C)防禦外敵(D)採光良好。
8. 下列哪一項文物的發現開啓了中國「信史」階段？(A)手工業作坊(B)用作貨幣的貝(C)青銅器(D)甲骨文。
9. 有關管蔡之亂的敘述，哪一項有誤？(A)當時在位的是周成王(B)因管叔、蔡叔不滿周公攝政而起(C)周公平亂後，營建東都雒邑(D)周公平亂後，周人勢力擴張到長江下游一帶。
10. 我們下象棋時，棋盤中間可以看見「楚河漢界」四個字，其中「楚」、「漢」兩個字分別代表歷史上的哪二人？(A)楚懷王、劉備(B)楚莊王、劉邦(C)項羽、劉邦(D)項羽、劉備。
11. 關於漢朝與匈奴之間的關係，下列敘述何者正確？(A)自漢遣使打通西域諸國之後，匈奴便不再與漢為敵(B)東漢時採行和親政策，減少雙方的衝突(C)漢武帝採主動出擊，派兵討伐匈奴(D)匈奴始終為漢的邊防大患，甚至導致東漢的直接滅亡。
12. 漢代哪一位皇帝，結束了動亂，中興漢室，定都洛陽？(A)漢武帝(B)漢光武帝(C)漢明帝(D)漢高祖。
13. 漢代國祚長達四百多年，分成西漢與東漢，請問：西漢與東漢在政治上有何共同的特色？(A)無為而治(B)群雄割據(C)外戚干政(D)焚書坑儒。
14. 歷史課時，曾力亥上臺報告關於西周的土地制度，其中哪一項敘述錯誤？(A)土地全部為貴族所有(B)田地分為八塊私田與一塊公田(C)私田收穫各歸農民所有，不必再向貴族納稅(D)公田

由農民合耕，收穫交給貴族。

15. 秦始皇與漢武帝都是中國歷史上赫赫有名的君主。他們在位時，曾有許多重要措施。下列哪些是他們「相同」的事蹟？(甲)創立年號(乙)北伐匈奴(丙)廢郡縣，行封建(丁)使用「皇帝」稱號(戊)鹽鐵酒專賣 (A)甲乙(B)乙丙(C)甲戊(D)乙丁。

16. 下列的漫畫中，何者最足以表現出舊石器時代的特色？



17. 在兩漢的經營下，西域成為中西商旅往來的交通要道，請問：兩漢時期曾經出使西域的使者為下列哪二人？(A)張騫、班超(B)張騫、班固(C)班超、張衡(D)班固、張機。

18. 他是西漢元帝皇后的姪子，也因此得以在政治上發跡，他為獲取政治上的聲譽，確能折節下士，身體力行，贏得了人們廣泛的稱讚，直至最後篡漢自立為帝。請問：上述中的「他」是指下列何人？(A)項羽(B)劉邦(C)劉秀(D)王莽。

19. 商人飲酒風氣盛行，由目前出土的各式各樣、極為精美的盛酒器具可見一斑。此一史實反映出商朝哪一現象？(A)商的禮樂活動隆重(B)商的農業發達(C)商人非常迷信(D)商人戰事頻繁。

20. 相傳中國遠古時代，教人製造農具，耕種田地，並嘗百草，製藥醫病的是何人？(A)有巢氏(B)燧人氏(C)伏羲氏(D)神農氏。

21. 下列插圖代表從秦代開始，經漢代初年，再到漢武帝時代，三個時期的國家統治者，施政理念變動的情形。若按照時間先後順序排列，下列何者正確？(A)甲—丙—乙(B)乙—甲—丙(C)丙—乙—甲(D)丙—甲—乙。



22. 曾子曾經說：「守喪盡禮，祭祀盡誠，以追念遠祖，民間的習俗就會趨於淳厚樸實。」請問：中國人這種「慎終追遠」的觀念，最早可以追溯自何時？(A)夏代(B)商代(C)周代(D)漢代。

23. 任用商鞅為相，使其國家成為當時強國的是下列哪一位諸侯？(A)齊桓公(B)秦穆公(C)秦孝公(D)楚莊王。

24. 下列敘述哪些是正確的？(甲)夏朝是中國歷史上的第一個王朝(乙)三代是使用青銅器的鼎盛時期(丙)周代是第一個大一統的帝國(丁)三代均立國於黃河流域 (A)甲乙丙(B)乙丙丁(C)甲乙丁(D)甲丙丁。

25. 東漢經歷了下列哪一場亂事，使得帝國陷入分崩離析，走向滅亡？(A)黃巾之亂(B)討伐匈奴(C)王莽篡漢(D)楚漢相爭。

26. 秦始皇的政治改革中，哪一項政策確立了中國中央集權的政治制度？(A)地方設郡縣(B)焚書坑儒(C)修築馳道(D)統一度量衡。


27. 周朝的歷史分成「西周」和「東周」，是以哪一件史事來區分？(A)周公東征(B)平王東遷(C)齊桓公稱霸(D)商鞅變法。

28. 郝欣仁研究儒家思想，整理了孔子的主張，其中何者需要修正？(A)主張人性本善(B)學說以「仁」為中心(C)首開私人講學風氣(D)秉持「有教無類」的教育原則。

29. 游杏興看電視時，聽不懂民意代表以閩南語、客語表達的意見，還好能從螢幕上的文字了解他們的發言內容。這種以文字彌補語言紛歧的障礙，應與哪一位歷史人物的措施有關？(A)黃帝(B)秦始皇(C)漢武帝(D)周公。

30. 歷史老師要高財聲排演關於戰國時代「秦國」的話劇。請問：下列何者不應該出現在話劇當


- 中？(A)秦穆公重用商鞅，厲行改革(B)秦國實行軍國主義(C)採用張儀提倡的連橫政策(D)秦王嬴政最後消滅六國，完成統一中國。
31. 韓嘯是東周時代從事工商業的平民百姓，他可能有何生活經驗？(A)各國重農抑商，商人社會地位低落(B)專為貴族服務，社會地位不如農民(C)政府實施專賣制度，限制商業發展(D)經營工商業因而致富，使商人地位提高。
32. 1959 年秋，古史學家徐旭生在偃師二里頭發現一個很大的古代遺址，此後隨著考古發掘工作的不斷深入，此遺址中的宮殿和各種作坊陸續被發現（如附圖）。請問：上述可能是下列何者的遺址？(A)夏(B)商(C)周(D)秦。



33. 劉義首是西漢晚期地方上的優秀青年，如果他想到朝廷當官，他應該經由下列哪一種方式最適當？(A)依靠長輩介紹(B)成為商人(C)由地方政府推薦(D)巴結宦官。

☆ 漢代的科技成就影響後世甚鉅。請回答 34～36 題：

34. 傳說以麻沸散為關羽刮骨療傷的外科名醫是何人？(A)張機(B)華佗(C)張衡(D)蔡倫。
35. 地震是造成人類傷亡慘重的天災之一，古人亦深受其害，最早研發儀器探測地震方位的是下列何人？(A)張機(B)華佗(C)張衡(D)蔡倫。
36. 某學者：「他用樹皮、破布、魚網等為原料造紙，使大家不再用笨重的竹簡書寫，加速了教育普及與文化傳播。」上文的「他」應是何人？(A)張機(B)華佗(C)張衡(D)蔡倫。
37. 歷史課時，老師將甲、乙、丙、丁四張圖放在黑板上，若要將四張圖按時間先後排列，哪一張圖應被放在第一位？(A)甲(B)乙(C)丙(D)丁。



38. 周朝實施過兩次封建，一次在建國之初用此鞏固勢力，另一次則是擴張周人勢力，使其能真正控制東方近海之地。請問：西周第二次大行封建是在何事之後？(A)周文王即位(B)周武王滅商(C)周武王設立三監(D)周公東征。
39. 「甲午戰爭」、「戊戌政變」、「辛亥革命」等歷史名詞記年的用法，主要是根據哪一朝代的發明？(A)夏(B)商(C)周(D)秦。
40. 附圖是東漢時代的《樂舞百戲圖》。圖中的表演有舞刀、倒立、耍球等，請問這些雜技的出現，與下列何者最有關連？(A)絲路(B)長城(C)運河(D)馳道。




41. (甲)可能具有宗教觀念 (乙)會埋葬死去的親屬 (丙)住在山洞 (丁)火的使用。上述選項中，中國史前時代北京人和山頂洞人相同的生活型態有哪些？(A)甲乙(B)乙丙(C)甲丙(D)丙丁。
42. 蔡適敞的歷史報告以商代為主題，其中的敘述哪一項不正確？(A)取代夏朝得天下(B)又稱為殷或殷商(C)今天的漢字是從商代的甲骨文發展而來的(D)經常遷都，到湯時才安定下來。
43. 荀子認為人性本惡，只有用什麼方法，才可以使人們克服天生的弱點，棄惡向善？(A)嚴刑峻

罰(B)透過教育(C)順應自然(D)用音樂陶冶人性。

44. 漢代史學的發展，以《史記》與《漢書》為代表。附表為《史記》與《漢書》的比較，請問：哪一項正確？(A)作者(B)內容(C)體例(D)成書年代。

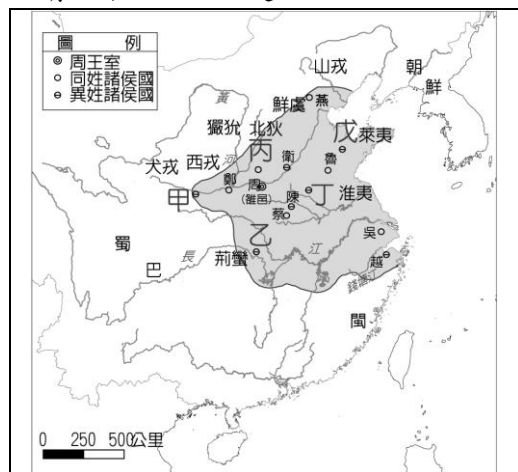
| 項目   | 史記    | 漢書     |
|------|-------|--------|
| 作者   | 司馬遷   | 班超     |
| 內容   | 西漢的史事 | 東漢的史事  |
| 體例   | 通史紀傳體 | 斷代史紀傳體 |
| 成書年代 | 西漢初年  | 西漢末年   |

45. 「以父系血緣關係為前提，以經濟利益和政治需要為基礎，將同姓的人民連結合為一個共同體。」、「這是一種以嫡長子繼承制為基礎，具有穩定內部、防止動亂功用的社會制度。」試問以上敘述，應為下列何種制度？(A)禮樂制度(B)禪讓制度(C)選舉制度(D)宗法制度。
46. 下列四幅漫畫中，按甲、乙、丙、丁的順序分別屬於哪些學派的思想？(A)儒、道、法、墨(B)儒、道、墨、法(C)墨、儒、法、道(D)墨、道、法、儒。



47. 樊仁經是漢朝的年輕人，他可以在哪個地方學習儒家經典？(A)鄉學(B)大學(C)太學(D)書院。

☆附圖為「春秋五霸形勢圖」。請回答 48~50 題：



48. 最早稱霸的是圖中哪一國諸侯？(A)甲(B)丙(C)丁(D)戊。
49. 承上題，此國霸主以下列何人為相？(A)商鞅(B)呂不韋(C)范雎(D)管仲。
50. 稱霸時以「王」自稱的是圖中哪一國諸侯？(A)甲(B)乙(C)丁(D)戊。