

◎單一選擇題：每題 2 分，共 50 題

1. 沙烏地阿拉伯為世界最大的能源生產及石油出口國，並加入產油國的重要組織——石油輸出國組織，該組織主要目的是維護產油國利益，控制石油價格。請問：該組織的英文簡稱為何？

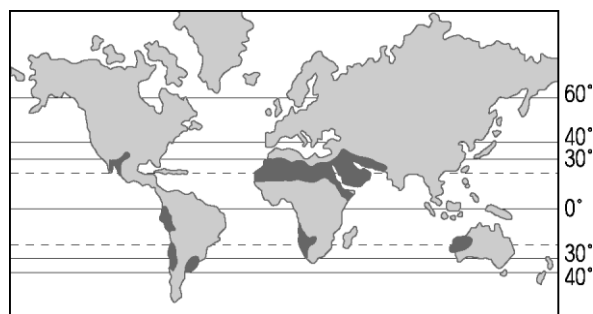
(A)APEC (B)EU (C)UN (D)OPEC

2. 烏茲別克利用河水發展農業，但因灌溉過度，以致河川流量銳減、鹹海面積極縮小，產生嚴重環境問題。請問：該地最重要的經濟作物為何？(A)葡萄 (B)椰棗 (C)棉花 (D)小米

3. 承上題，文中敘述「嚴重環境問題」所指的問題為下列何者？

(A)土壤鹽鹼化 (B)地層下陷 (C)水土流失 (D)泥沙淤積

4. 緯度的位置對各地區的氣候現象影響很深。附圖深灰色區塊為某氣候類型的全球分布圖，該區域的氣候類型最可能為下列何者？ (A)熱帶雨林氣候 (B)溫帶沙漠氣候 (C)溫帶地中海型氣候 (D)熱帶沙漠氣候



5. 長久以來以色列和巴勒斯坦不斷發生衝突。下列對當地衝突原因的敘述何者正確？

(A)以色列當地石油蘊藏豐富，巴勒斯坦想要爭奪

(B)巴勒斯坦面臨地中海，擁有重要港口，以色列覬覦 (C)雙方信仰不同，爭奪聖地及土地引發了許多仇恨 (D)兩者分屬伊斯蘭教不同教派，衝突一觸即發

6. 歐洲聯盟為世界重要的區域經濟組織，附圖即為該組織的會旗。請問：歐盟會員國中，「不」包括下列下列何國？ (A)瑞士 (B)義大利 (C)德國 (D)英國



7. 歐洲聯盟目前有 28 個會員國，為世界四大區域性組織之一。請問：下列何者並「非」歐盟的特色？

(A)視為共同市場 (B)管制國界 (C)減免關稅 (D)共同貨幣

8. 南歐與西歐之間以阿爾卑斯山為主要分界線，然而此山脈並未造成兩地間交通的阻隔，最主要是因為利用當地的那一項地形特色，可作為聯絡的管道？ (A)冰積高原，形勢和緩 (B)河流平穩，水運便利 (C)斷層地塹，地勢低平 (D)冰蝕谷地，平坦寬廣

9. 溫帶地區的降雨分布多來自於海上的西風吹拂，附圖為歐洲某地的氣溫雨量圖。請問：根據圖中資料判斷，該地區在下列哪一個季節受到西風的影響最為明顯？ (A)春季 (B)夏季 (C)秋季 (D)冬季

10. 承上題，此張圖最有可能為下列歐洲何地的氣候圖？

(A)法國巴黎 (B)德國柏林 (C)丹麥哥本哈根 (D)義大利羅馬

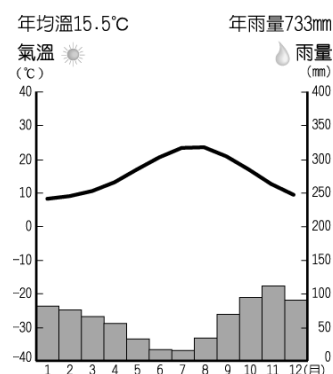
11. 歐洲大平原為當地主要的精華區，因為其地形平坦且面積廣大，因此有利於形成聚落。請問：該地形區分別位於哪兩個區域內？ (A)北歐、西歐 (B)西歐、南歐 (C)西歐、東歐 (D)南歐、東歐

12. 哪一座山為歐洲、亞洲分界？

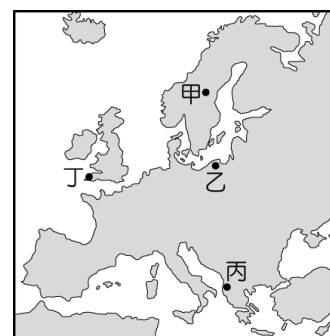
(A)阿爾卑斯山 (B)高加索山 (C)基阿連山 (D)庇里牛斯山

13. 《土耳其手繪旅行》一書中，作者利用暑假前往土耳其遊學，住在土耳其第一大城伊斯坦堡，也享受了出海坐渡輪的行程。請問：她在伊斯坦堡周邊可能有機會航行在那些海域上？

(甲)黑海 (乙)裏海 (丙)地中海 (丁)大西洋 (A)甲乙 (B)乙丙 (C)丙丁 (D)甲丙



14. 承上題，作者在暑假探訪土耳其，普遍是豔陽高照、乾燥少雨的天候型態，請問：造成此種氣候特色的原因為何？
 (A)盆地地形，熱氣不易散去 (B)副熱帶高氣壓籠罩 (C)位於背風側 (D)位於赤道附近
15. 承上題，作者也走訪了當地的溫泉勝地 Termal，但大地震之後已遭受很多破壞。土耳其有溫泉勝地、地震災害，表示其位於板塊接觸帶。請問：西亞地區除了土耳其之外，還有哪一個國家，也是位於板塊接觸帶？
 (A)沙烏地阿拉伯 (B)科威特 (C)伊朗 (D)以色列
16. 以下是西亞與中亞的比較表。請問：哪一個選項的內容是「錯誤」的？
- | 地區 | (A)主要地形 | (B)主要氣候 | (C)乾燥成因 | (D)經濟作物 |
|----|---------|---------|---------|---------|
| 西亞 | 高原 | 熱帶沙漠 | 距海遙遠 | 椰棗 |
| 中亞 | 盆地 | 溫帶沙漠 | 副熱帶高壓籠罩 | 棉花 |
17. 沙烏地阿拉伯是重要的宗教聖地，如下列哪一個國家每年均有大批信徒不遠千里而來此朝拜？
 (A)義大利 (B)泰國 (C)俄羅斯 (D)巴基斯坦
18. 西亞近年來利用當地所盛產的石油資源，帶來大量的經濟收入。請問：西亞主要的石油蘊藏地區「不」包括附圖中何者？
 (A)甲 (B)乙 (C)丙 (D)丁
19. 溫帶地中海型氣候的特色為夏乾冬雨，這對當地農業活動的影響為何？
 (A)生長季缺水 (B)生長期過短 (C)易形成水患 (D)年溫差過大
20. 某電視臺的記者報導：「波斯灣的安定，牽動著你我的生活。一旦波斯灣發生戰爭，就會引發全球經濟的恐慌。」這段話主要是在強調波斯灣地區具有下列何種足以影響全球的重要性？
 (A)宗教的聖地 (B)蘊藏重要能源礦 (C)歐亞交通要道 (D)全球貿易的轉運站
21. 《天方夜譚》一書以巴格達為背景，反映中古時期阿拉伯地區繁榮的城市，以及興盛的貿易。巴格達自古農業發達、人口聚集，因為較西亞其他地區擁有哪項優勢條件？ (A)有河流經過，取水方便 (B)低壓籠罩，雨量充沛 (C)修築坎井，水源充足 (D)迎地中海，西風帶來雨水
22. 清晨，從清真寺傳來了呼叫聲，提醒大家禮拜的時間到了，這是每天例行的工作：一天五次，面向麥加的方向，虔誠朝拜……。為配合宗教信仰，發展出一些特殊的禁忌，如不可食豬肉等。」上文所描述的最可能是哪個國家？ (A)以色列 (B)敘利亞 (C)匈牙利 (D)西班牙
23. 小雨到東歐的波蘭留學，環境與台灣差異甚大，小雨很懷念在寶島的生活。請問：下列何者為波蘭當地特色？(A)氣候嚴寒，以寒帶氣候為主 (B)位居內陸，沒有靠海 (C)溫帶大陸性氣候特徵顯著，年溫差大 (D)地勢崎嶇多山，阿爾卑斯山為主要山脈
24. 「距今約 6,500 萬至 250 萬年前，因為板塊碰撞擠壓，這裡隆起許多新褶曲山脈，部分沿海山地有厚層的石灰岩，受到溶蝕作用出現崎嶇的地形，嚴重影響當地的農業與交通發展。」上述自然景觀，最可能出現在附圖中的甲、乙、丙、丁哪一地區？(A)甲 (B)乙 (C)丙 (D)丁
25. 北歐有豐富的冰河地形，形成當地的特殊景觀，產業也深受其影響。請問：造成當地多冰河地形的主因為何？
 (A)板塊交界 (B)緯度較高 (C)寒流經過 (D)內陸封閉
26. 義大利是南歐工業較發達的國家，請問：是利用哪一座山脈豐富的水力作為動力而發展的？
 (A)庇里牛斯山 (B)本寧山 (C)基阿連山 (D)阿爾卑斯山



27. 歐洲主要位居溫帶地區，但並「沒有」出現下列哪一種氣候類型？

(A)溫帶大陸性氣候 (B)溫帶沙漠氣候 (C)溫帶海洋性氣候 (D)溫帶地中海型氣候

28. 周氏夫婦在希臘聖多里尼島舉行盛大婚禮。當地碧海藍天，風景如畫，受邀賓客也很享受當地的度假氛圍。從上列敘述可知，當時天氣晴朗穩定，請問：造成當地不易下雨的天氣型態，是什麼原因造成的？(A)熱帶低氣壓籠罩 (B)暖流經過 (C)副熱帶高壓籠罩 (D)高山阻擋水氣

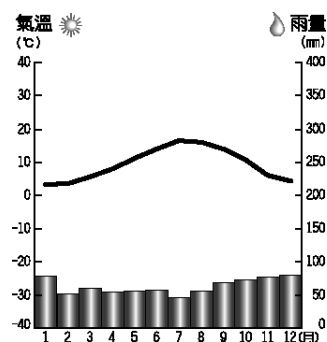
29. 周氏夫婦也選擇繼續在歐洲度假蜜月，附圖即為他們旅行所在地的氣候圖。請問：此張圖最有可能為下列歐洲何地的氣候圖？

(A)英國 (B)匈牙利 (C)西班牙 (D)芬蘭

30. 附表是歐洲三個都市的位置及氣候基本資料。根據其相對位置判斷，表中的「X」應為下列何者？

(A)七月均溫 (B)年均溫 (C)一月均溫 (D)年溫差

都市	英國倫敦	德國柏林	波蘭華沙
經緯度	51°N, 0°	53°N, 13°E	52°N, 21°E
X	13.0	18.3	21.3
年降水量(mm)	754	591	515



31. 中國大陸對連結歐亞兩大陸的經濟大戰略正逐漸清晰。中國國家主席習近平大力宣揚中國和□□國家的共同發展，官方媒體也接力報導全長 11,179 公里的渝新歐國際鐵路，這條串連起亞洲和歐洲「新絲綢之路」的火熱經濟前景。請問：這號稱「亞洲心臟，世界邊緣」、深具潛力的□□國家指的是何處？ (A)西亞 (B)中亞 (C)南亞 (D)北亞。

◎西亞農業活動受灌溉方式的影響而不同，請依序回答下列問題：

32. 哪一個地區利用鑽井技術開鑿，以「地下水井」灌溉農田？

(A)阿拉伯高原 (B)阿富汗高原 (C)安納托利亞高原 (D)美索不達米亞平原


33. 右圖為某種水利設施，請問最有可能出現在西亞的哪個地區？

(A)阿拉伯高原 (B)伊朗高原 (C)美索不達米亞平原

(D)阿富汗高原

34. 承上題，此種水利設施的名稱為？

(A)渠道 (B)水道 (C)坎井 (D)暗井



◎附圖為西亞、中亞主要國家的代號標示，請依題目的敘述，選出相符的代號。

35. 地跨歐、亞兩洲，有「歐亞陸橋」之稱。

(A) A (B) B (C) C (D) D

36. 中亞主要石油生產國，也是中國的鄰國之一。

(A) G (B) H (C) I (D) J

37. 引河水灌溉種植棉花，是世界主要棉花生產國。

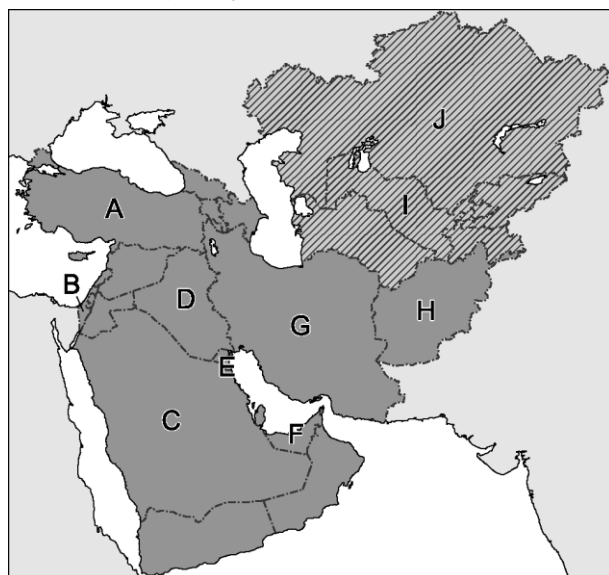
(A) G (B) H (C) I (D) J

38. 西亞中面積最大的國家，有伊斯蘭教聖城「麥加」。

(A) A (B) B (C) C (D) D

39. 境內有美索不達米亞平原，農業發達。

(A) C (B) D (C) E (D) F



◎附圖為歐洲分區簡圖，請依據圖中的代號標示，選出正確代號。

40. 西班牙

(A)甲 (B)乙 (C)A (D)B

41. 德國

(A)C (B)D (C)ㄅ (D)ㄆ

42. 芬蘭

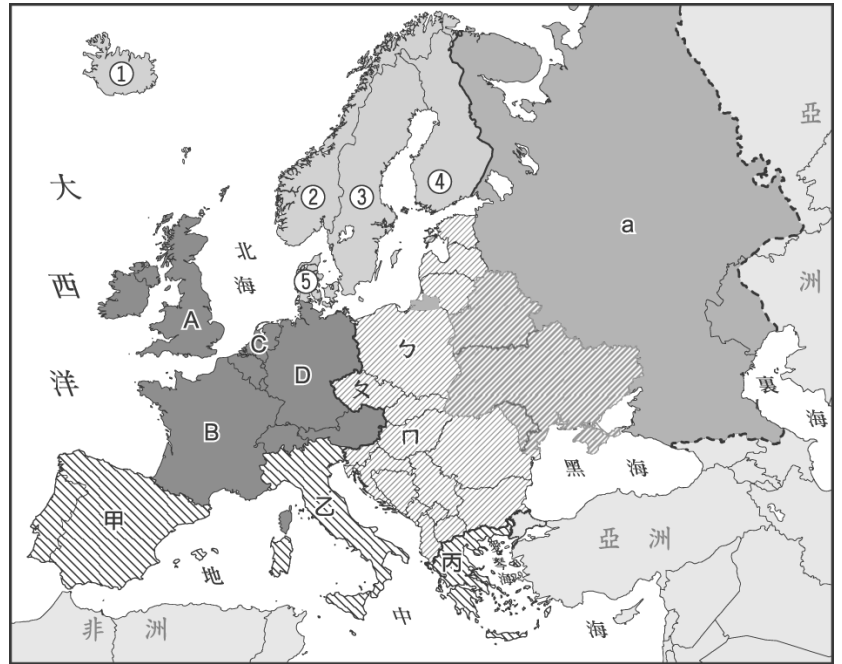
(A) ② (B) ③ (C) ④ (D)⑤

43. 波蘭

(A)C (B)D (C)ㄅ (D)ㄆ

44. 希臘

(A)丙 (B)乙 (C)甲 (D)B



◎附圖為歐洲氣候類型分布圖，請回答下列問題。

45. 請問：圖中哪一種氣候類型的降雨最平均？

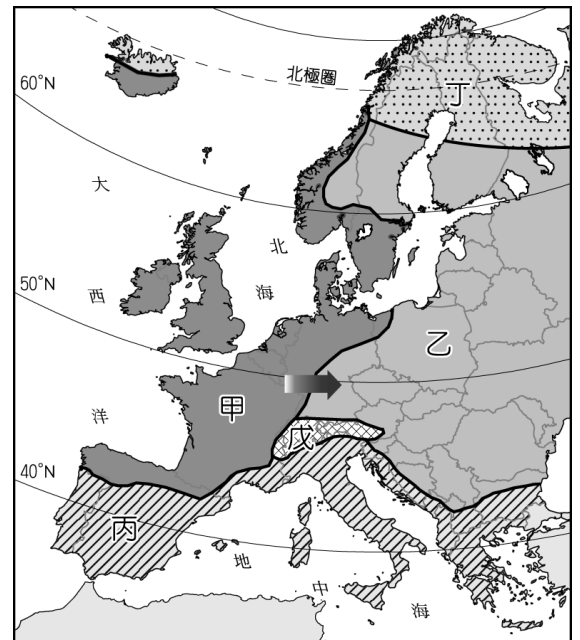
(A)甲 (B)乙 (C)丙 (D)丁

46. 請問：圖中哪一種氣候類型的年溫差最大？

(A)甲 (B)乙 (C)丙 (D)丁

47. 請問：圖中哪一種氣候類型的雨季以冬天為主？

(A)甲 (B)乙 (C)丙 (D)丁



◎附圖為歐洲主要半島分布圖，請回答下列問題。

48. 控制地中海的出口，且因位置優勢，為海權時代的前鋒國家，是在形容歐洲哪一半島的特色？

(A)甲 (B)乙 (C)丙 (D)丁

49. 哪一半島的冰河地形發達，擁有出海方便的峽灣地形？

(A)甲 (B)乙 (C)丙 (D)丁。

50. 丙半島地形崎嶇，土壤貧瘠，較不利於農業發展，請問：該地區的地形成因為何？ (A)溶蝕作用，石灰岩地形廣布 (B)地處熱帶，珊瑚礁岩遍布 (C)冰河作用，侵蝕力量大 (D)坡陡流急，水土流失嚴重

